

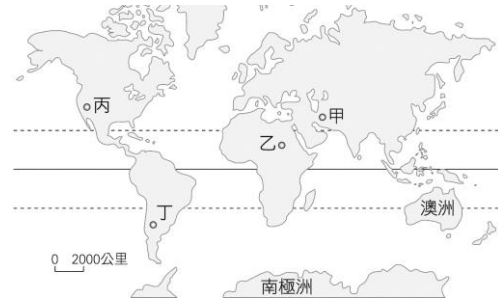
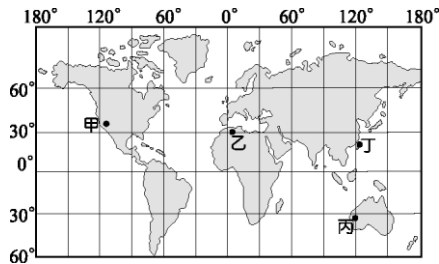
# 台北市立新民國中 103 學年度第二學期地理科第三次段考(八年級)

範圍：世界概述、東北亞、東南亞、南亞

年 班 號 姓名

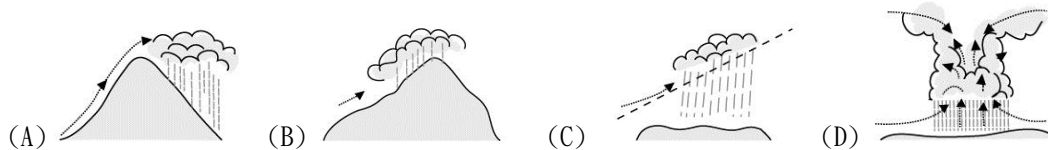
## 一、選擇題：每題 2 分

1. 從地球表面水陸分布的比例來看，下列敘述何者正確？(A)海洋大部分在北半球 (B)海洋中以大西洋的水域最大 (C)地球表面海洋面積大於陸塊面積 (D)大部分陸塊位於南半球。
2. 世界上著名的高山、高原，如亞洲的青藏高原、喜馬拉雅山，美洲的安地斯山脈等，其形成原因與下列哪一項地理因素最有關係？(A)風力堆積 (B)河流沖積 (C)冰河侵蝕 (D)板塊擠壓。
3. 左下附圖為世界各地主要的都市位置所在，其中哪一個地區在 7 月分時的月均溫最低，為當地的冬季？(A) 甲 (B) 乙 (C) 丙 (D) 丁。

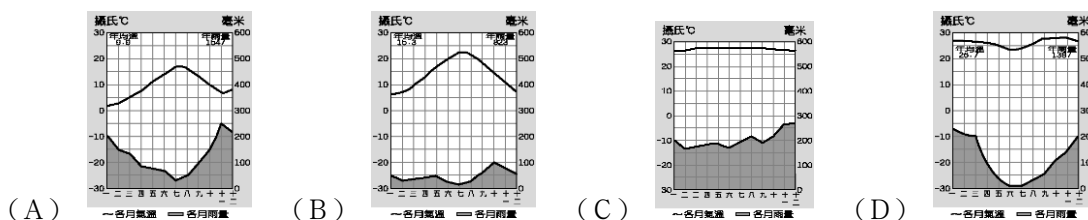


4. 小陳在水果日報上看到一則地理常識問答：「熱帶莽原氣候最有可能出現在右上附圖中的哪個地區？」請你幫他判斷圖中哪個代碼才是正確答案？(A) 甲 (B) 乙 (C) 丙 (D) 丁。
5. 在氣候類型中，哪三種氣候的降水量是集中在夏季？(甲)溫帶地中海型氣候(乙)熱帶雨林氣候 (丙)溫帶海洋性氣候 (丁)溫帶大陸性氣候 (戊)熱帶莽原氣候。正確的答案是 (A)甲乙 (B)乙丙 (C)丙丁 (D)丁戊。
6. 下列哪一氣候區為世界人口最稠密的地區？(A)熱帶雨林氣候區 (B)季風氣候區 (C)寒帶氣候區 (D)高地氣候區。
7. 對於溫帶海洋性氣候的敘述，下列何者錯誤？(A)分布在北緯 40~60 度的大陸東岸 (B)終年有西風吹拂 (C)四季有雨 (D)沿海地區降水較多。
8. 全球回歸線附近是副熱帶氣候區，部分地區卻降水稀少，形成草原或沙漠景觀。請問：造成該地區乾燥的主要原因為何？(A)距海遙遠 (B)高山圍繞 (C)高壓籠罩 (D)缺乏抬升水氣。
9. 日本與朝鮮半島同為溫帶季風氣候，但日本終年有雨，而朝鮮半島降水集中夏季，兩地差異的主要原因為何？(A)朝鮮半島地勢較高 (B)日本冬季季風經過海面富含水氣 (C)日本多山所以多雨 (D)朝鮮半島受到高壓籠罩。
10. 人口議題向來受到全球重視，就日前的人口統計報告中顯示，日本面臨的人口問題為何？(A)幼年人口日增，負擔加重 (B)壯年人口增加，負擔減輕 (C)老年人口增加，人口老化 (D)社會扶養減少，福利增加。
11. 每年春天，日本櫻花盛開，那種「櫻吹雪」的美麗景色往往吸引各國觀光客前往共襄盛舉。若以緯度高低來判斷，觀光客最早可在哪一地看到櫻花？(A)北海道 (B)四國 (C)九州 (D)本州。
12. 1990 到 2008 年期間，北韓在「全球飢餓指數」惡化的排名中位居第二。造成北韓糧產不足，常有饑荒的問題，除了政治制度的影響外，與下列何項自然因素關係最密切？(A)颱風侵襲次數多 (B)生長季短、平原少 (C)火山活動與地震頻繁 (D)年雨量少於 500 毫米。
13. 北韓領導人發表演說時提出：「要超越南方政府，就必須發展自身有利的條件。」請問：該領導人的論點中所謂有利的條件為何？(A)豐富的煤鐵 (B)平坦的地勢 (C)優良的技術 (D)充沛的資金。
14. 報載：「南韓總統今天上午 9 點將徒步跨越軍事分界線前往平壤，與北韓最高領導人金正日，舉行南北韓高峰會談，盧武鉉是歷史上第一位徒步跨越軍事分界線的南韓總統、、、」，文中的軍事分界線是指 (A)鴨綠江 (B)大白山脈 (C)北緯 38 度線 (D)北緯 66.5 度線。
15. 「……西元 1281 年夏季，忽必烈派出一支載有 15 萬士兵的艦隊進攻日本，要求歸順，日本人奮力抗擊長達七周。正值此時，一場『神風』毀掉半數以上的蒙古軍，解救了日本的民族。」根據當地的氣候特性判斷，文中的「神風」最可能是下列何者？(A)季風 (B)颱風 (C)沙塵暴 (D)龍捲風。
16. 中南半島上主要河川的源流大致平行。請問：中南半島最可能是中國哪一地理區的延伸？(A)嶺南丘陵 (B)橫斷山脈 (C)青藏高原 (D)珠江三角洲。
17. 南、北回歸線附近因受副熱帶高氣壓籠罩的影響，多有沙漠分布，然而中南半島、印度半島大部分地區卻能擺脫沙漠威脅，其主要原因為何？(A)季風吹拂 (B)暖流經過 (C)距海較近 (D)地勢較高。
18. 東南亞國家組成「東南亞國協」的區域組織，其目的是為增進經濟的區域整合合作，請問下列哪一個國家「不是」東南亞國協的會員國？(A)泰國 (B)馬來西亞 (C)印度 (D)菲律賓。

19. 印尼的首都雅加達、菲律賓的首都馬尼拉、泰國首都曼谷以及東南亞華人人口比例最高的城市新加坡，以上城市均具備下列哪一項特性？ (A)農產豐富 (B)工礦業發達 (C)海運便利 (D)共同宗教信仰。
20. 東南亞近赤道地區一年之中每天的天氣預報幾乎都一模一樣：「上午晴，下午雨，之後再晴。」請問：上述所稱的「雨」，其降雨類型應為下列何者？



21. 南洋群島因為地處赤道兩側地區，因此氣候類型主要為下列何者？

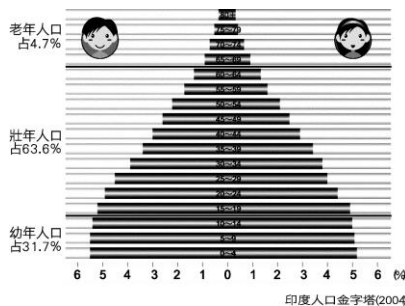


22. 吳哥窟是吳哥古蹟中，保存最完好的廟宇，以建築宏偉與浮雕細緻聞名於世，是世界上最大的廟宇。而吳哥窟的造型，已成為下列哪個國家的標誌，展現在國旗上？  
(A)寮國 (B)柬埔寨 (C)尼泊爾 (D)印度。



23. 右上附圖是在某一個國家常見的照片，此國家的主要宗教非常尊崇牛。請問：這個國家最可能為下列何者？  
(A)印度 (B)巴基斯坦 (C)斯里蘭卡 (D)菲律賓。
24. 近年來，許多臺商前往越南、泰國、柬埔寨等國家投資設立成衣、製鞋等工廠，主要是因為這些國家具有哪一方面的優越條件？ (A)豐富的原料 (B)廉價的勞工 (C)廣大的市場 (D)充足的資金。
25. (甲)棉花 (乙)稻米 (丙)椰子 (丁)橡膠 (戊)咖啡；上述哪些作物是屬於熱帶栽培業的產品？  
(A)甲乙丁 (B)甲丙丁 (C)乙丙丁 (D)丙丁戊。
26. 印度半島的地形分布，由北到南依序為何？ (A)高山→高原→平原 (B)高原→高山→平原 (C)高原→平原→高山 (D)高山→平原→高原。
27. 小麗一直很想到印度的泰姬瑪哈陵參觀，但他很怕熱又不喜歡下雨天，那麼他什麼時候出發前往印度觀光會最適合？ (A)3月 (B)6月 (C)9月 (D)12月。
28. 承上題，這段時間正好是印度的最佳季節，其原因是 (A)降雨多，氣候涼爽 (B)山脈阻擋冷氣團，較乾爽 (C)日照北移，氣溫上升 (D)多午後雷陣雨，可消暑氣。
29. 印度半島的恆河流域降水充沛，夏季連日的大雨時常發生水患。請問：下列哪一個國家最深受其害？  
(A)印度 (B)孟加拉 (C)巴基斯坦 (D)斯里蘭卡。
30. 「印度半島農業發達，受到□□□□不同的影響，因此各地栽種不同的農作物。例如：恆河上游以小麥和小米輪作；中游是稻米與小麥、小米輪作；下游栽種水稻和黃麻；東北部的阿薩密省則是茶園遍布。」上文中的空格應填入下列何者？ (A)氣溫高低 (B)雨量多寡 (C)地形起伏 (D)宗教信仰。
31. 印度在獨立之後，利用豐富的煤、鐵，發展鋼鐵與機械工業。1990年後憑藉著語言優勢，與政府大力的支持，使得印度在哪種產業上大放異彩？ (A)電子產業 (B)汽車產業 (C)軟體產業 (D)生物科技產業。
32. 印度和巴基斯坦不友好，近來更有核武競試舉動，導致兩國交惡的原因有：(甲)宗教差異 (乙)礦產爭奪 (丙)領土糾紛 (丁)殖民背景不同。以上正確的是 (A)甲乙 (B)甲丙 (C)乙丁 (D)丙丁。

33. 下圖為印度人口金字塔圖(西元 2004 年)。從圖中可觀察出下列哪一項人口特徵？(A)出生率高 (B)死亡率低 (C)人力資源不足 (D)步入高齡化社會。

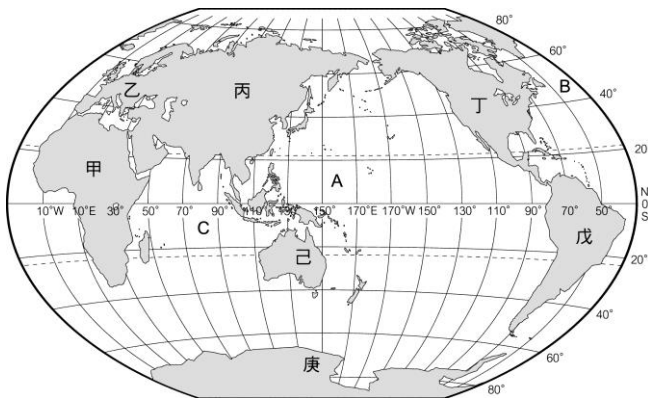


34. 「該國家位於印度洋上，為珊瑚礁島所組成的島國，南亞大海嘯連首都淹沒，觀光資源重創。海域乾淨清澈，成為全球知名的渡假勝地。」上文所述最可能是下列哪一個國家？  
(A)斯里蘭卡 (B)馬爾地夫 (C)尼泊爾 (D)孟加拉。

**二、整合題：每題 2 分**

※ 下附圖為世界全圖，回答下列問題：

35. 圖中「C」的海域名稱是什麼？(A)大西洋 (B)太平洋 (C)印度洋 (D)北極海。  
36. 地球上的哪個陸塊目前沒有人長年居住？(A)甲 (B)丁 (C)己 (D)庚。  
37. 阿元駕著一架飛機，沿赤道飛行。若依據附圖的陸塊分布，他會經過下列哪些地區？  
(A)北美洲、南極洲 (B)非洲、澳洲、南美洲 (C)非洲、亞洲、南美洲 (D)歐洲、亞洲、非洲、



※ 下圖為朝鮮半島地圖，下表則為南、北韓的比較。請回答下列問題。

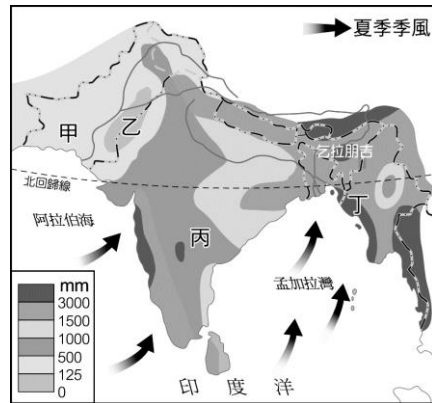
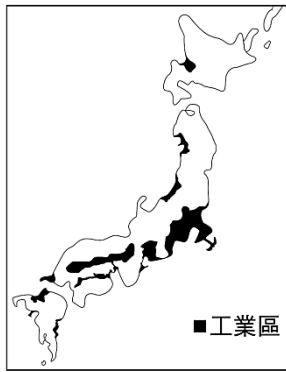


項目	北韓	南韓
地形	山地較多	平原較多
年均溫	較低	較高
生長季	短	長
礦產資源	豐富	缺乏
工業	重、國防	輕、資訊、文化產業

38. 乙所代表的事哪個海域？(A)東海 (B)黃海 (C)日本海 (D)對馬海峽。  
39. 由表中可知北韓較南韓的生長季短，推測其主要影響因素為何？  
(A)地形 (B)緯度 (C)距海遠近 (D)季風。

※ 左下附圖為日本主要工業區分布圖。請問：

40. 由其分布的區位特徵可知，日本工業區形成的共同點是：(A)原料 (B)動力 (C)交通 (D)市場。  
 41. 由圖可知，日本的工業區大多位於哪一島上？  
 (A)北海道 (B)四國 (C)九州 (D)本州。



※ 右上圖為印度半島雨量分布圖，請問：

42. 印度半島的降雨水氣，主要是由什麼季風帶來？  
 (A)東北季風 (B)西南季風 (C)東南季風 (D)西北季風。  
 43. 圖中的甲、乙、丙、丁四區，雨量最多的地區是下列何者？ (A)甲 (B)乙 (C)丙 (D)丁。  
 44. 承上題，該地區雨量較多的主要原因為何？  
 (A)距海較近 (B)副熱帶高氣壓籠罩 (C)盛行風迎風坡 (D)蒸發旺盛，氣流升騰致雨。  
 45. 圖中的乙區為熱帶沙漠的分布，其沙漠形成的主要原因為何？  
 (A)距海遠 (B)山脈阻擋海上水氣 (C)副熱帶高氣壓籠罩 (D)涼流經過。

※ 下圖為東南亞地區簡圖，A~K 為各國代號，請問：

46. 「這個國家因地處環太平洋火山地震帶上，故多火山、地震。至於在宗教信仰方面，該國北部呂宋島的居民多信奉天主教，南部民答那峨島的居民多信奉伊斯蘭教。」上文所描述的國家最可能是下列何者？  
 (A) E (B) I (C) J (D) H。  
 47. 近年來臺灣引進許多外籍勞工，其中以來自東南亞居多，若就過去受中華文化影響程度來看，哪國勞工的文化及習俗與臺灣較接近？(A) B (B) C (C) D (D) E。  
 48. 加南若想欣賞衣著華麗，儀表姣好，體態動人，載歌載舞的人妖秀，並參觀佛教之都，欣賞金碧輝煌的佛寺建築，他應前往哪個國家才能如願？ (A) B (B) D (C) F (D) G。  
 49. 哪個國家島嶼最多，且分散於南、北半球之間，同時也是伊斯蘭教徒最多的國家？ (A) F (B) H (C) I (D) J。  
 50. 在東南亞各國中，哪個國家經濟發展程度最高，且魚尾獅為該國的地標？  
 (A) C (B) F (C) G (D) H。

