

【是非題】1-5 題，每題 2 分。《正確答案請劃“ A ”；錯誤答案請劃“ B ”》

1. 心理學家馬斯洛(A. H. Maslow)人有五個「需求層次理論」，其中最高層次的需求為「尊重需求」。
2. 家庭是孩童最早學習「性別角色」的場所。
3. 我國制定的「性別工作平等法」規定學校在課程安排及活動設計上，不得因性別而有所差異。
4. 不管是男或女，每個人都有其獨特的能力與存在價值，不要以傳統的性別刻板印象來限制個人的發展，而是回歸「個人」的本質，這才是「性別平等」的真諦。
5. 男女的身體結構天生就有不同，進入青春期後，第二性徵的出現使得性別間的差異更明顯，這種生理差異稱為「社會性別」。

【選擇題】6-35 題，每題 3 分。

6. 右圖是詠欣看到某篇文章的敘述—
根據內容判斷，此篇文章最有可能在探討下列哪項主題？
(A)性別平等 (B)認識自我 (C)多元文化 (D)性別角色。
7. 我們若欲破除性別刻板印象，建立性別平等社會，需要長期的努力才能展現成效。請問：下列哪些屬於適當的方法？(甲)落實性別平等觀念 (乙)改善法令制度(丙)立法規定男女互不往來 (丁)促進性別良好互動 (A)甲乙丙 (B)甲丙丁 (C)甲乙丁 (D)乙丙丁。
8. 根據心理學家研究顯示，青少年時期中「同儕」的影響，相較於社會中的其他組成分子更為重要。請問：下列何者不屬於新民國中 7 年 8 班學生昱翔的「同儕」？
(A)7 年 10 班的映涵 (B)同一個籃球校隊 8 年級學長辰陽
(C)一起補習數學的凡軒 (D)家中就讀大學的哥哥詠竣。
9. 芷儀在校園牆上貼著如右圖，請問：此標章是政府為下列何項問題所設計的？
(A)反霸凌 (B)可再利用回收 (C)禁止男女接觸 (D)禁止性騷擾。
10. 性別包含「生理性別」和「社會性別」兩種，下列配對組合，何者正確？
(A)男生要負責養活一家人—生理性別 (B)男生長喉結—社會性別
(C)女生要整理家務—生理性別 (D)女生有子宮—生理性別。
11. 吳濂尺經常嘲弄其它同學，讓人產生不舒服的感覺。下列吳濂尺的行為中，有哪幾項是屬於「性騷擾」的範圍？(甲)故意碰觸女生胸部 (乙)公開大講腥羶的黃色笑話 (丙)衛生習慣不佳 (丁)愛隨意評論同學身材長相 (A)一項 (B)兩項 (C)三項 (D)四項。
12. 子零正在搜集公民報告資料，右列是其上網查到的資訊。根據內容判斷，該報告最可能是在探討下列哪一主題？
(A)性別平等 (B)生產模式
(C)國際衝突 (D)經濟制度。
13. 有關馬斯洛的「需求層次理論」說明，下列何者正確？
(A)安全層次的需求是最基本的
(B)每個人能達到的需求層次都一樣
(C)尊重需求又稱為「社會需求」
(D)渴望得到同儕的友誼屬於「社會需求」。
14. 「與其羨慕別人的能力，不如發揮自己的才能！」，這句話的意思與下列何者相同？
(A)近朱者赤，近墨者黑 (B)樹大招風，低調為要
(C)天生我材必有用 (D)萬般都是命，半點不由人。
15. (2015.09)據報導：「幾十年前，有一男一女將大體捐獻給長期科學項目，被切成上千片，並致力於製造全面的人體橫切面圖像系列。這兩名捐贈大體的人萬萬沒想到，他們的大愛將帶給人們進行虛擬實驗，並讓大家有絕佳機會學習人體組織。」文中提到捐贈大體遺愛人間的作法，展現出生命的何種特性？
(A)獨特性 (B)延續性 (C)無常性 (D)不可回逆性。

……這個概念是指了解自己的特質與優缺點。可以透過他人對自己的評價，及日常生活中的自我檢視中得到。



◎1979 年聯合國大會通過「消除對婦女一切形式歧視公約」，其內容闡明男女平等享有一切經濟、社會、文化、公民和政治權利，締約國應採取立法及一切適當措施，消除對婦女之歧視，確保男女在教育、就業、保健、家庭、政治、法律、社會、經濟等各方面享有平等權利。全世界已有 189 個國家簽署加入。我國亦在 2011 年由立法院通過施行。

16. 盈盈是個 7 歲的小女孩，個性活潑好動，經常和鄰居的小男孩一起玩得一身髒，阿嬤不斷地告誡她說：「女孩子應要乾乾淨淨、整整齊齊的，不可以整天和那些男生一樣玩得那麼瘋的，這樣不像樣。」請問：奶奶這樣的說法是在說明 (A)心理性別 (B)生理性別 (C)多元性別 (D)社會性別。
17. 呈上題，請問造成阿嬤這種印象的原因是下列何者？
(A)基因遺傳造成 (B)性別角色期望 (C)先天資賦有差 (D)生理構造差異。
18. 以下對個人需求的敘述，何者錯誤？
(A)昱鳴在學校認識朋友是滿足「愛與歸屬需求」
(B)全球每天約有 3 億 6 千萬的兒童在忍受飢餓之苦，表示「生理需求」未獲得滿足
(C)飆車族撞傷路人的社會案件，在警察的追查下迅速破案，滿足了民眾「社會需求」
(D)柔葳因為姊姊偷看她的手機而生氣，表示她在「尊重需求」上未獲得滿足。

19. 佩如找工作時看到一則報紙徵才廣告如右，其廣告內容已經違反下列何項法律？

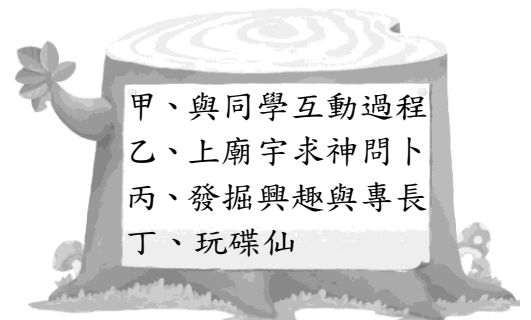
徵男送貨員

- ◇ 勤勉、誠實、上進
- ◇ 役畢、45 歲以下
- ◇ 良民證

- (A)民法 (B)性別平等教育法 (C)性騷擾防治法 (D)性別工作平等法。
20. 小綠搭乘捷運時，發現有人不斷觸摸她的臀部，讓她非常氣憤，於是報請捷運警察處理。上述小綠的情形，適用何種法律來保障自身權益？
(A)民法 (B)性別平等教育法 (C)性騷擾防治法 (D)性別工作平等法。
21. (2015.9)據報導：『過去●●法規定新生兒必須從父姓，新竹縣國立關西高中吳校長年幼時為了從母姓，由吳姓鄰居收養，40 年來「身分證上的父母不是真正父母」是他最大遺憾。最近他提出確認收養無效官司，經 8 個月確認收養無效，身分證父母欄終於改回親生父母。』請問文中●●法為何？
(A)民法 (B)性別平等教育法 (C)性騷擾防治法 (D)性別工作平等法。

22. 下列有關「性別偏見」和「性別歧視」的敘述，何者正確？ (A)打破性別刻板印象，無助消除性別偏見與性別歧視 (B)打破性別刻板印象，只為女性帶來寬廣的發展空間 (C)我們應該以性別的角度來判定一個人的價值與成就 (D)男性也背負性別刻板印象沉重包袱，遭受性別歧視。

23. 從右圖中判斷，得知有哪些認識自我的方法？



- (A)甲乙 (B)甲丙 (C)乙丙 (D)丙丁。
24. 下列四位同學對於性騷擾的敘述，哪位的說法正確？

- (A)宸安：「性騷擾只會發生在陌生人之間。」
(B)韋志：「被性騷擾的人都是因為自己穿著太過暴露。」
(C)怡君：「只有身體間的碰觸才算是性騷擾。」
(D)宏碩：「性騷擾不限於異性之間，也包括同性間。」

25. 「2015 年 6 月 27 日新北市八里區的八仙樂園游泳池內發生粉塵爆炸導致火災事故。到目前為止，共造成 12 死 487 傷。」此事件顯示了生命的何種特性？

- (A)欣賞生命的獨特 (B)萬物生來皆平等 (C)生命無常 (D)延續生命的價值。

26. 在這個多元性別、彼此尊重的年代，下列何人的想法，還具有不合時宜的「性別刻板印象」？

(A) 公司看我能力好，選拔當主管。

(B) 女子無才便是德的觀念，落伍了

(C) 誰說只有男生熱愛運動！

(D) 軍人！當然嘛只能男生當

27. 佳暄看到一張海報，內容如右，依此判斷，其所呈現的生命價值與下列何者相符？

~流浪貓認養活動，大家來響應~

時間：民國104年10月15日

地點：新民文化走廊

- (A)每個人都是獨一無二的
(B)延續自己的生命價值，化小愛為大愛
(C)對於生命的缺憾，應該坦然面對
(D)學習尊重並愛惜不同的生命。

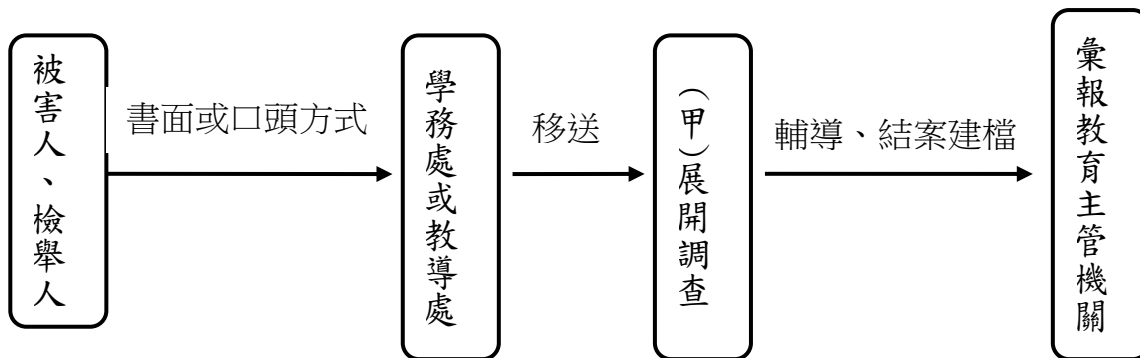
28. 請問有關我國性騷擾的相關法律下表中甲、乙、丙法依序為

- (A)性騷擾防治法、性別工作平等法、性別平等教育法
- (B)性別工作平等法、性別平等教育法、性騷擾防治法
- (C)性別平等教育法、性別工作平等法、性騷擾防治法
- (D)性別平等教育法、性騷擾防治法、性別工作平等法。

法律名稱	適用範圍	
(甲)法	工作場所	1.被性騷擾者為受僱者或求職者 2.受僱者執行職務被他人性騷擾者
(乙)法	學校場所	其中一方為學生者。
(丙)法	公共場所	上述以外的性騷擾事件，如在公共場所或大眾運輸工具等地點被性騷擾者。

29. 下表為校園性騷擾(或性侵害)的處理流程圖。請問圖中的(甲)為下列那個組織？

- (A)教師會 (B)消費者保護委員會 (C)性別平等教育委員會 (D)學生會。



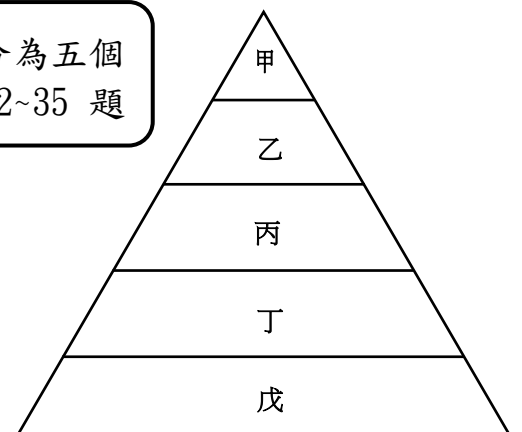
30. 以下關於性別平等的推廣，下列何者是適合「政府」來做的？

- (A)發放津貼補助給遭到歧視的性別族群 (B)立法保障、建立良好的福利政策
- (C)介入修改每間公司的員工薪水制度 (D)訴諸網友加以撻伐。

31. 子睿最近迷上「我的少女時代」這部電影，期望自己也能像劇中的男主角一樣成為師氣有義氣的真男人。請問：子睿期望自己能成為「師氣有義氣的真男人」主要來自於下列何種管道的學習？

- (A)家庭 (B)學校 (C)社區 (D)傳播媒體。

◎心理學家馬斯洛(A. Maslow)提出個人需求理論，將個人需求層次分為五個層次，各個需求層次有先後順序與高低層次之分，如右圖，試回答下列 32~35 題



32. 右列哪一個層次的需求又稱為「社會需求」？

- (A)甲 (B)乙 (C)丙 (D)丁。

33. 柏瀚常透過通訊軟體 LINE 跟班上同學聊天八卦，但他不喜歡家人想要翻查他手機上的聊天記錄，認為這樣缺乏隱私、不受尊重。請問：柏瀚顧慮的是那一需求的滿足？

- (A)甲 (B)乙 (C)丙 (D)丁。

34. 日前遭到蘇迪勒颱風重創的新北市烏來，面臨到另一杜鵑颱風步步進逼，政府趕緊於颱風來襲前，強制撤離並安置土石流警戒區的居民到臨時避風中心等安全地點，避免居民們發生危險。請問：政府強制撤離安置的動作是為了顧慮到居民的那一需求的滿足？

- (A)甲 (B)乙 (C)丙 (D)丁。

35. (2015.10)據報導：『台灣極地超極馬拉松選手陳彥博，9月底在美國大峽谷 273 公里高原超馬賽奪總冠軍。陳彥博昨分享經驗：「每當出現身體痛苦時，我只能不斷告訴自己辦得到！終於撐到終點，拿到總冠軍！」』

陳彥博的表現符合需求理論中的那一層次的滿足？

- (A)甲 (B)乙 (C)丙 (D)丁。

試題完成 恭喜同學

臺北市立新民國國民中學 104 學年度第 1 學期第 1 次段考七年級公民科【解答】

1-5 BABAB 6-10 BCDDD 11-15 CADCB 16-20 DBCDC

21-25 ADBDC 26-30 DDBCB 31-35 DCBDA

臺北市立新民國國民中學 104 學年度第 1 學期第 1 次段考七年級公民科【解答】

1-5 BABAB 6-10 BCDDD 11-15 CADCB 16-20 DBCDC

21-25 ADBDC 26-30 DDBCB 31-35 DCBDA

臺北市立新民國國民中學 104 學年度第 1 學期第 1 次段考七年級公民科【解答】

1-5 BABAB 6-10 BCDDD 11-15 CADCB 16-20 DBCDC

21-25 ADBDC 26-30 DDBCB 31-35 DCBDA

臺北市立新民國國民中學 104 學年度第 1 學期第 1 次段考七年級公民科【解答】

1-5 BABAB 6-10 BCDDD 11-15 CADCB 16-20 DBCDC

21-25 ADBDC 26-30 DDBCB 31-35 DCBDA

臺北市立新民國國民中學 104 學年度第 1 學期第 1 次段考七年級公民科【解答】

1-5 BABAB 6-10 BCDDD 11-15 CADCB 16-20 DBCDC

21-25 ADBDC 26-30 DDBCB 31-35 DCBDA

臺北市立新民國國民中學 104 學年度第 1 學期第 1 次段考七年級公民科【解答】

1-5 BABAB 6-10 BCDDD 11-15 CADCB 16-20 DBCDC

21-25 ADBDC 26-30 DDBCB 31-35 DCBDA