

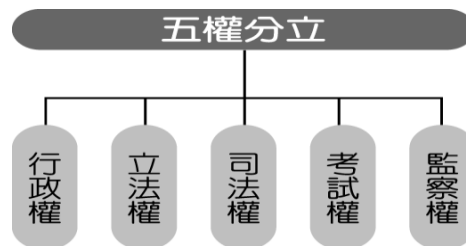
【是非題】1-5 題，每題 2 分。《**正確答案**請劃“ A ”；**錯誤答案**請劃“ B ”》

1. 依據我國憲法與憲法增修條文規定，總統提名行政院長後，需經立法院同意。
2. 所謂的「國體」就是一國元首產生的方式，分為共和國與民主國兩種。
3. 我國取得國籍的途徑為血統原則，亦即父母親其中一方為我國國籍，其子女即獲得中華民國身份。
4. 我國總統是由全國公民直接選舉產生，任期四年，連選得連任兩次。
5. 依據孟德斯鳩的理論，將中央政府的權利分為行政、立法、司法三權，並分屬不同政府部門行使。

【選擇題】6-35 題，每題 3 分。

6. 右圖是哪一位學者所提出的政理論？

- (A) 孟德斯鳩
- (B) 蔣中正先生
- (C) 孫中山先生
- (D) 艾克頓爵士。



7. 好學的曉沛想要了解我國邦交國史瓦濟蘭這個國家的概況，就到外交部網頁查詢到右列資訊：請問右列資訊中沒有提到哪一項國家要素？

- (A) 人民
- (B) 領土
- (C) 政府
- (D) 主權。

國名全稱：史瓦濟蘭王國(Kingdom of Swaziland)

官方語言：史瓦濟蘭語、英語

首都：洛班巴

面積：17,364 平方公里

地理位置：位於非洲南部之內陸國，北、西、南三面為南非共和國所包圍，東北面與莫三比克為鄰。

人口：約 111 萬人(2015)

政治制度：君主獨裁



8. 關於重要官員與其產生方式的配對，下列何者正確？

- (A) 大法官：總統任命
- (B) 考試委員：人民直接選舉
- (C) 審計長：由總統提名，經立法院同意後任命
- (D) 立法院院院長：由總統提名，經立法院同意後任命。

9. 從以下四人的對話中，誰最有可能屬於中華民國的國民？

- (A) 郁豪：「我國的女王是全國人民的精神象徵，剛慶祝在位最久的君主紀錄，廣受人民的愛戴。」
- (B) 明翰：「明年初我國將舉行總統大選，到時我將年滿 20 歲，很期待可以投下神聖的一票。」
- (C) 晏欣：「真羨慕你們，可以自由表達對政治的看法，在我國如果討隨意批判時局的話，很可能會被抓去關」。
- (D) 清瑄：「有很多人用盡了各種方法想成為我國國民，其實只要在我國當地出生就可以取得我國的國籍」。

10. 根據附圖中的談話內容，可看出民主政治的何項特色？

- (A) 民意政治
- (B) 法治政治
- (C) 責任政治
- (D) 政黨政治。

聽說部長要辭職下臺了？

是啊，因為民眾不滿部長此次風災處理不佳。



11. 下列幾個人談論自己的國家。請問：從他們的發言哪一個國家確認是屬於「獨裁政體」？

(A) 我們的總統是由人民選出。



約翰

(B) 我們的政府不受民意監督。



傑克

(C) 我們的國王已經在位四十年了。



莎拉

(D) 我們的女王受到人民的愛戴。



瑪莉

12. 昱樺正在為報告上網找資料，根據右圖，她所瀏覽的網站應該為哪一中央政府機關所屬的部門？



- (A) 行政院
- (B) 司法院
- (C) 監察院
- (D) 考試院。

13. 呈上題，請問該院院長如何產生？

- (A) 由人民選舉產生
- (B) 由總統提名，立法院投票同意
- (C) 由委員們互相選舉產生
- (D) 總統直接任命。

14. 國立故宮博物院南部院區將於今年底開始試營運，期望可以讓更多南部民眾就近便利的參觀到我國重要的文物典藏。這顯現出國家的何種功能？ (A)安全 (B)福利 (C)經濟 (D)文化。

15. 羽婷在旅行時遊歷許多國家，決心要透過國家類型來分類各個國家，請問右表中的「甲」應為何內容？

- (A) 民主政體
- (B) 獨裁政體
- (C) 君主國
- (D) 共和國。

		政體	
		(丙)	(丁)
國體	(甲)	中華民國	中國
	(乙)	日本	汶萊

16. 下列關於國家「主權」的敘述，何者正確？

- (A) 為國家最高的權力，由全體國民所賦予
- (B) 視全國人口數來決定主權權力大小
- (C) 制定外交政策須經聯合國同意
- (D) 軍力強盛的國家可干涉他國政治事務。

17. 右圖中人物的互動方式，最能顯現民主政治的何項特色？

- (A) 法治政治
- (B) 政黨政治
- (C) 民意政治
- (D) 責任政治。



18. (2015.08)據新聞報導：「內政部表示，在我國尚未歸化但取得國籍的外籍配偶人數，有5萬1千餘人，比去年增加7千餘人，若與取得我國國籍的新住民50萬相加，新住民將可達55萬。…將超過目前的原住民人數。」從上述新住民人口的增加，可以顯示我國哪一項國家組成要素已經逐漸產生變化？

- (A) 人民
- (B) 領土
- (C) 政府
- (D) 主權。

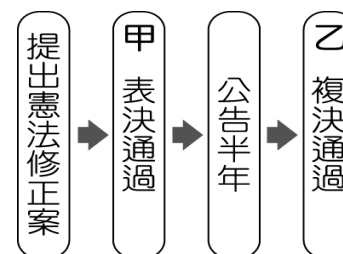
19. 楷翔發現下列關於提案權的表格內容，正確的內容應為哪些？

- (A) 甲乙
- (B) 甲乙丙
- (C) 甲丙丁
- (D) 甲乙丁。

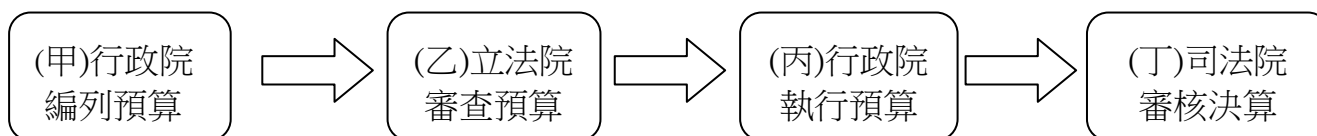
事由	提案	決議
(甲)憲法修正案	立法院提案	(丙)交由立委們投票複決
領土變更案		
(乙)正副總統罷免案		(丁)大法官召開會議審理
正副總統彈劾案		

20. 右圖為我國修憲的流程圖。請問：何者最可能是甲、乙所應標註的內容？

- (A) 甲：司法院大法官、乙：立法院
- (B) 甲：立法院、乙：司法院大法官
- (C) 甲：立法院、乙：公民投票
- (D) 甲：司法院大法官、乙：公民投票。



21. 志威非常認真寫下老師在課堂上的筆記，但因為一時疏忽，在某個地方發生錯誤，請問何者有誤？ (A)甲 (B)乙 (C)丙 (D)丁。



22. 下表有關中央政府機關的職權敘述，共有幾項是錯誤的？

機關	職權
總統	統率陸海空三軍、公布法律與命令
行政院	審核中央政府預算及質詢官員
立法院	提出憲法修正案與領土變更案
司法院	設立各級法院、組織憲法法庭
考試院	規畫和執行國家政策與法令
監察院	彈劾違法或失職公務人員

(A)一項 (B)二項 (C)三項 (D)四項。

23. 下列是行政院院長與某部部長的對話。根據對話內容判斷，部長應是提出下列何項建議？

(A)預算案 (B)覆議案 (C)施政報告 (D)不信任案。【103 會考】

院長：「這次立法院剛通過的甲法案，我們在政策執行上是否有困難？」

部長：「經過內部評估，這個法案實在是窒礙難行，請院長考慮對立法院提出……。」

24. 亞璇正在製作兩院制衡關係的解說海報，不小心將附圖中的標示弄髒了。請問：汙漬處應為哪一中央政府機關？ (A)立法院 (B)行政院 (C)考試院 (D)監察院。



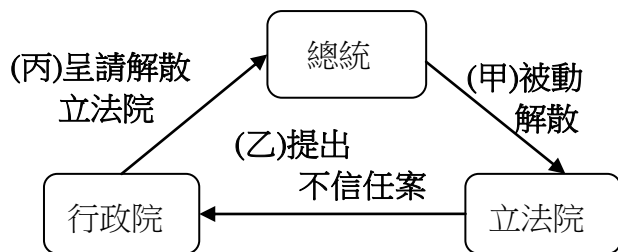
25. 錠鈞正在瀏覽國防部招募人才的宣傳海報，如右圖所示。

請問：國家建立軍隊主要的目的為下列何者？

(A)人權 (B)文化 (C)安全 (D)福利。



26. 下圖為不信任案與解散制度的示意圖，請排出正確的順序？



(A)甲乙丙 (B)丙乙甲 (C)乙甲丙 (D)乙丙甲。

27. 許多選民遇到問題時經常四處陳情，下列哪一封陳情信內容，屬於立法委員的職權？【102 基測】

- (A) ○○○您好：
窮不能窮教育，懇請您們編列預算時能增加國民教育的經費。
陳情人小張
- (B) ○○○您好：
某縣政府公務員的行為已涉及違法失職，請您們查明後予以彈劾。
陳情人阿虎
- (C) ○○○您好：
《社會秩序維護法》的部分條文引發爭議，請您們作出《憲法》解釋。
陳情人小娟
- (D) ○○○您好：
《勞動基準法》中的部分規定已不合時宜，希望您們能提案修改。
陳情人阿妙

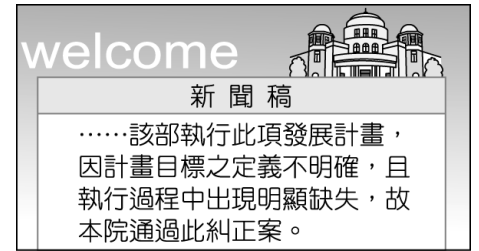
28. 呈上題，哪一封陳情信內容，屬於司法院相關官員的職權？※【(A)(B)(C)(D)選項同第 27 題】

29. 右表是公職人員選舉的候選人資料。根據表中的主要政見，若以我國公職人員的職權判斷，最可能是下列哪種公職人員的選舉？

(A)市長 (B)里長 (C)行政院長 (D)立法委員。

姓名	主要政見
許小靖	修改《食品安全管理法》
簡小璋	要求政府解決無薪假問題
蕭小陵	建立預算審查制度

30. 右圖是我國中央政府某院在其官方網站上發布的新聞稿。根據圖中內容判斷，該院依其職權，最可能在其網站中發布下列何項訊息？【103 會考】
- (A) 7 月將要舉辦公務人員高等考試 (B) 本會期將行使審計長人選同意權
(C) 公布釋字第六六六號憲法解釋文 (D) 98 年度決算報告已完成審定。



①題組

李姓藝人在陸軍航特部 601 旅前中校勞姓副隊長安排下，與親友團登上阿帕契直升機，李女還拍下歪腰敬禮等照片 po 網炫耀，引發軒然大波。監察院今年 7 月●●陸軍航空特戰部簡姓前旅長、陶姓人事科長、勞姓中校等 3 人，並向司法院(甲)提出。

日前司法院(甲)決議勞姓中校休職 2 年；601 旅簡姓前旅長、陶姓人事科長均休職 6 個月的懲戒處分。

〈編輯自 21015/10/02 蘋果日報〉

31. 依上述新聞判斷，請問上文中●●之處最可能是以下何項概念？
(A) 糾正 (B) 彈劾 (C) 糾舉 (D) 審計。
32. 從新聞中，可推論出司法院(甲)機關應為
(A) 大法官會議 (B) 憲法法庭 (C) 高等行政法院 (D) 公務員懲戒委員會。

元培這幾年參加大學同學會，發現到許多同學跟她一樣都在政府機關工作，請試著依他們透露的工作內容，回答出他/她們所服務的政府單位。

33. 芳辰：審理違憲政黨是否解散案件。這是五院哪一院的工作？
(A) 行政院 (B) 司法院 (C) 考試院 (D) 監察院。
34. 芯如：必須熟悉自己部內所推動的政策以接受立委們提出的質詢。這是五院哪一院的工作？
(A) 行政院 (B) 司法院 (C) 考試院 (D) 監察院。
35. 韋翰：負責辦理專業證明考試，為國家選拔人材。這是五院哪一院的工作？
(A) 行政院 (B) 司法院 (C) 考試院 (D) 監察院。

試題完成 恭喜同學

臺北市立新民國民中學 104 學年度第 1 學期第 1 次段考八年級公民科【解答】

1-5 BBABB 6-10 CDCBC 11-15 BDBDD 16-20 ACAAC

21-25 DBBAC 26-30 DDCDD 31-35 BDBAC

臺北市立新民國民中學 104 學年度第 1 學期第 1 次段考八年級公民科【解答】

1-5 BBABB 6-10 CDCBC 11-15 BDBDD 16-20 ACAAC

21-25 DBBAC 26-30 DDCDD 31-35 BDBAC

臺北市立新民國民中學 104 學年度第 1 學期第 1 次段考八年級公民科【解答】

1-5 BBABB 6-10 CDCBC 11-15 BDBDD 16-20 ACAAC

21-25 DBBAC 26-30 DDCDD 31-35 BDBAC

臺北市立新民國民中學 104 學年度第 1 學期第 1 次段考八年級公民科【解答】

1-5 BBABB 6-10 CDCBC 11-15 BDBDD 16-20 ACAAC

21-25 DBBAC 26-30 DDCDD 31-35 BDBAC

臺北市立新民國民中學 104 學年度第 1 學期第 1 次段考八年級公民科【解答】

1-5 BBABB 6-10 CDCBC 11-15 BDBDD 16-20 ACAAC

21-25 DBBAC 26-30 DDCDD 31-35 BDBAC