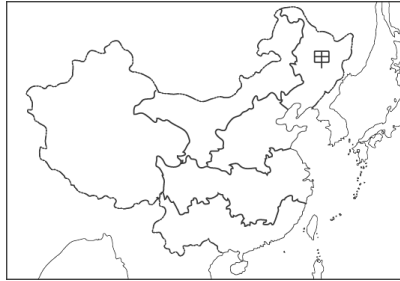


# 臺北市立新民國民中學104學年度第一學期八年級地理科考試卷

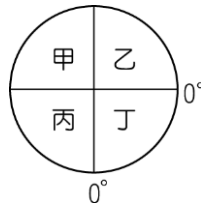
8年 班 座號： 姓名：

## 一、單一選擇題 (1-32 題每題 3 分，第 33 題 4 分,滿分 100 分)

- ( ) 按照中國的經緯度範圍，請問下列哪一條經緯線通過？ (A)南回歸線 (B)赤道 (C)北極圈 (D)北回歸線。
- ( ) 臺灣民眾若想同步收看中國北京晚上 9 點播出的現場節目，則應該在何時上網收看？ (A)晚上 6 點 (B)晚上 7 點 (C)晚上 8 點 (D)晚上 9 點。
- ( ) 中國面海向陸，位置堪稱優越，其中所指的「陸地」及「海洋」各指下列何者？ (A)歐洲、太平洋 (B)亞洲、印度洋 (C)亞洲、太平洋 (D)大洋洲、大西洋。
- ( ) 圖中中國甲區域的陸上鄰國為下列哪些國家？ (A)北韓、俄羅斯 (B)尼泊爾、哈薩克 (C)俄羅斯、阿富汗 (D)北韓、日本。



- ( ) 有關中國的相對位置條件中，下列何者敘述正確？ (A)東北邊為日本 (B)西南邊為俄羅斯 (C)東南側為北韓 (D)位於太平洋東側。
- ( ) 根據中國的絕對位置，應於附圖中哪一地區？ (A)甲 (B)乙 (C)丙 (D)丁。

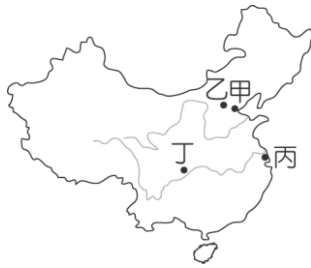


- ( ) 1997 年前香港的警察總自稱為香港皇家警察，請問：這是因為該地區當時受到哪一個國家統治？ (A)英國 (B)葡萄牙 (C)西班牙 (D)法國。
- ( ) 中國境內有少數民族所成立的自治區。請問：目前成立自治區的民族中不包括下列何者？ (A)回族 (B)苗族 (C)藏族 (D)壯族。
- ( ) 下列哪一個地理區位在中國地勢第三級階梯的地形區中？ (A)黃土高原 (B)準噶爾盆地 (C)長江中下游平原 (D)內蒙古高原。
- ( ) 小民到中國的青藏高原上欲挑戰攀登全世界最高的山脈，請問他所要攀登的是哪一座山脈？ (A)大興安嶺 (B)太行山 (C)崑崙山 (D)喜馬拉雅山。
- ( ) 小新想到中國號稱冠絕天下的石灰岩地形進行考察，請問他應該到附圖中何處？ (A)甲 (B)乙 (C)丙 (D)丁。



- ( ) 阿民在研究中國河川時發現大多數河流是朝哪一個方向流入海洋？ (A)西方 (B)東方 (C)南方 (D)北方。
- ( ) 絲路為中國早期與西方聯絡的主要交通要道，也是東西文化與經濟交流的通路。請問：漢朝時期的商人可利用絲路將絲綢運往下列哪一個地區販售？ (A)美洲 (B)非洲 (C)歐洲 (D)澳洲。
- ( ) 中國境內的氣候類型多樣化，熱帶與溫帶氣候皆有，此現象和中國的哪一個條件關係最密切？ (A)涵蓋緯度範圍大 (B)跨越經度範圍大 (C)面海向陸 (D)位於東北半球
- ( ) 中國平均每人的生活空間卻遠較其他國家為小，其主要的原因為何？ (A)人口數量眾多 (B)疆域面積狹小 (C)國土地勢崎嶇 (D)氣候乾旱少雨。

16. ( ) 中國境內設有四個直轄市，何者為該國的政治中心？ (A)甲 (B)乙 (C)丙 (D)丁。



17. ( ) 中國境內的山地面積比例高達 33%，其走向大致可分兩種，造成此種情形的主要原因為何？ (A) 強風侵蝕 (B) 岩層軟硬 (C) 河川侵蝕 (D) 板塊擠壓方向。

18. ( ) 中國三級階梯中第二階多為哪些地形的分布？ (A) 高原、盆地 (B) 高原、平原 (C) 山地、丘陵 (D) 平原、丘陵。

19. ( ) 中國在現代利用橫向的鐵路串聯，由中國的江蘇省向東出新疆連到歐洲荷蘭，此交通路線稱為 (A) 新大陸 (B) 新絲路 (C) 偉大航道 (D) 茶馬古道。

20. ( ) 中國的哪一個地區因為人口過多、山多田少、糧食不足，同時因海運便利，方便人口外移，成為主要的僑鄉所在地？ (A) 甲 (B) 乙 (C) 丙 (D) 丁。



21. ( ) 阿新搭乘某郵輪由天津出發，一路沿著海岸線遊歷沿岸各都市，最後來到海南島結束行程，所經過的海域依序為何？ (A) 黃海→南海→東海 (B) 黃海→東海→南海 (C) 南海→黃海→東海 (D) 東海→南海→黃海。

22. ( ) 中國的疆域面積相當廣大，地大物博，有利於該地區的發展。現今中國的疆域面積約為多少萬平方公里？ (A) 3.6 萬平方公里 (B) 659 萬平方公里 (C) 960 萬平方公里 (D) 1,259 萬平方公里。

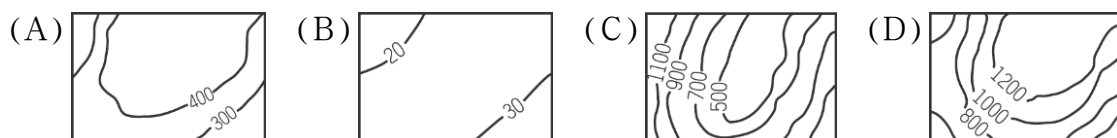
23. ( ) 若要在會製中國地圖時，兼顧到得要獲得較為詳細的資料，應選擇下列哪一比例尺地圖最為適合？ (A) 1/1,000,000 (B) 1/2,500,000 (C) 1/5,000,000 (D) 1/10,000,000。

24. ( ) 下方地圖最可能是以中國哪一方面的依據繪製而成？ (A) 經濟發展 (B) 民族種類 (C) 氣候類型 (D) 地勢高低。

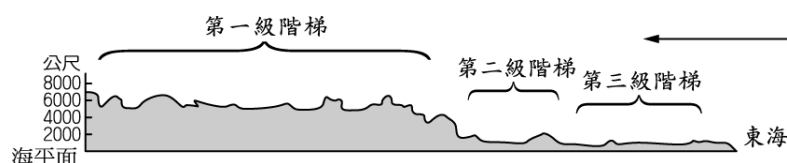


25. ( ) 葡式蛋塔曾經風靡全臺，這項食品最可能是從中國的哪一個地區傳到台灣來？ (A) 香港 (B) 澳門 (C) 新疆 (D) 西藏。

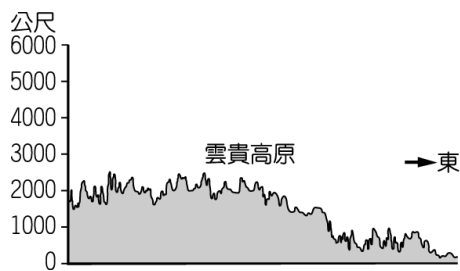
26. ( ) 中國的五大基本地形不包括下列何者？



27. ( ) 按照下圖地形的分布形態加以判斷，則箭頭所指的方向應該為何？ (A) 東方 (B) 南方 (C) 西方 (D) 北方。



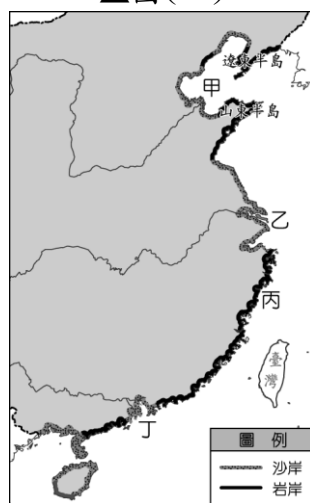
28. ( ) 下圖雲貴高原地形剖面圖，造就其形態的主要成因為下列何者？ (A)風力堆積 (B)板塊運動 (C)河川堆積 (D)溶蝕作用。



29. ( ) 中國的基本地形中哪兩種所占的面積較大？ (A)平原、盆地 (B)丘陵、山地 (C)盆地、丘陵 (D)山地、高原。
30. ( ) 由於中醫認為辣有驅風除溼兼具開胃之效，中國部分地區因而發展出善用麻辣、香辣、酸辣等特色的豐富飲食文化。」下列何地可能便具備這種特色？ (A)東北平原 (B)雲貴高原 (C)四川盆地 (D)東南丘陵。
31. ( ) 青藏高原的平均高度超過 4,000 公尺，因此有「世界屋脊」之稱，該地區的高聳主要是由於哪兩個板塊之間的擠壓作用所造成的？(甲)太平洋板塊(乙)菲律賓海板塊(丙)歐亞板塊(丁)印澳板塊 (A)甲乙 (B)丙丁 (C)甲丙 (D)乙丁。
32. ( ) 中國南方梯田相當常見，請問這種土地利用方式的優點不包括下列何者？ (A)減緩坡度變化 (B)增加耕地面積 (C)減少消耗水源 (D)利於增產糧食。
33. ( ) 根據圖(一)的海岸形態判斷，分布的地點最可能在圖(二)中何處？ (A)甲 (B)乙 (C)丙 (D)丁。



▲圖(一)



▲圖(二)