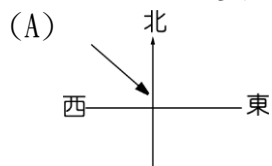
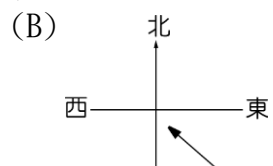
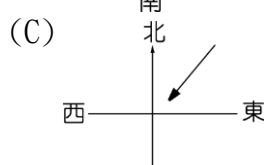
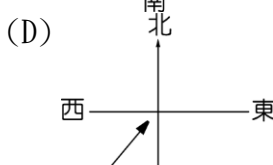
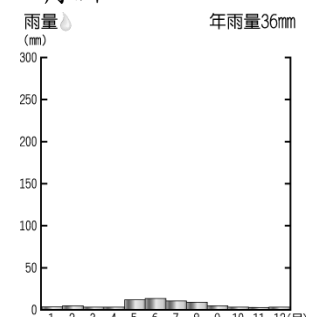
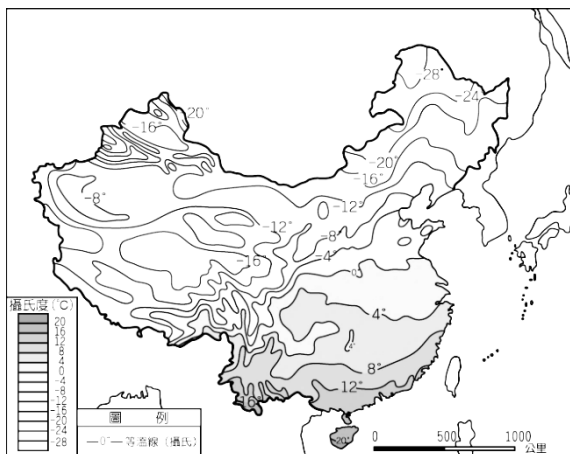


臺北市立新民國中學 104 學年度第一學期地理科八年級第二次段考

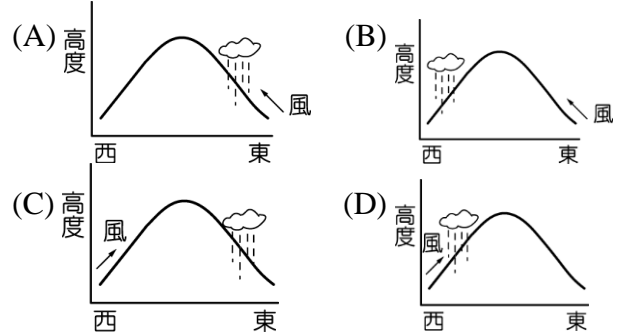
班級： 座號： 姓名：

一、單一選擇題 100% (共 33 題，1-32 題每題三分，第 33 題四分)

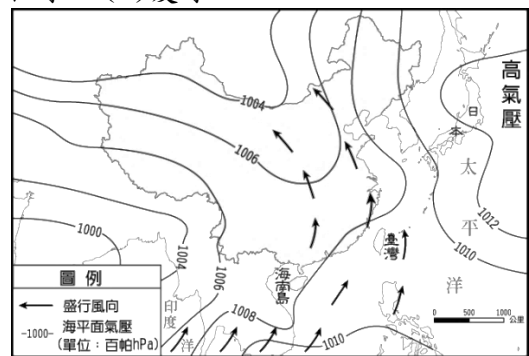
1. () 帥濤利用暑假出遊，沿著北緯 23.5 度來到中國不同地區旅行，發現各地氣溫高低不同。請問：位於下列何處的月均溫最低？ (A) 珠江三角洲 (B) 雲貴高原 (C) 嶺南丘陵 (D) 青藏高原。
2. () 就緯度而言中國以哪一種氣候類型的分布範圍最為廣闊？ (A) 熱帶 (B) 副熱帶 (C) 溫帶 (D) 寒帶。
3. () 中國的秦嶺、淮河是重要的氣候分界，請問：秦嶺和淮河為下列哪一種重要氣候現象的分界線？ (A) 年雨量 500mm (B) 一月月均溫 0°C (C) 年雨量 250mm (D) 七月月均溫 10°C。
4. () 影響中國東半部氣候的季風，其出現主要受到何種因素的影響？ (A) 距海遠近影響 (B) 地勢高低起伏 (C) 海陸性質差異 (D) 緯度分布位置。
5. () 珠江三角洲在夏季的季風風向為下列何者？
 (A)  (B) 
 (C)  (D) 
6. () 根據附圖中氣候資料判斷，最可能位於下列中國哪個地理區？ (A) 東北平原 (B) 黃土高原 (C) 塔里木盆地 (D) 長江三角洲。

7. () 長江流域中某些地區每年夏季發生較同緯度高溫的現象頻率大，請問最可能與何因素有關？ (A) 地形 (B) 距海遠近 (C) 季風風向 (D) 位於背風坡。
8. () 下圖為中國的一月月均溫等溫線圖，由圖可知影響中國東半部冬季氣溫的主要因素為何？ (A) 地勢高低 (B) 緯度高低 (C) 距海遠近 (D) 季風風向。



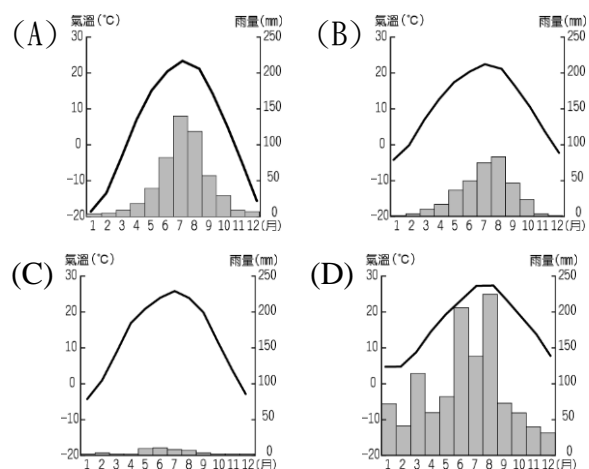
9. () 季風為中國東半部夏季雨季的重要來源，其降雨型態最可能為下列何者？



10. () 附圖為中國某季節的季風圖，由圖中資料判斷，此圖最可能為哪一個季節的特色？ (A) 春季 (B) 冬季 (C) 秋季 (D) 夏季。



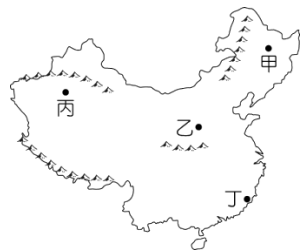
11. () 中國的季風氣候及乾燥氣候以下列哪一條線為界？ (A) 年雨量 500 mm (B) 年均溫 18°C (C) 1 月均溫 0°C (D) 高度 3000m。
12. () 中國的降雨的空間分布情形為何？ (A) 東多西少、南多北少 (B) 東多西少、北多南少 (C) 西多東少、南多北少 (D) 西多東少、北多南少。
13. () 肥佳前往中國旅遊為了適應當地的氣候環境他準備了短袖與厚外套。請問：阿佳所參加的行程最可能為下列何者？ (A) 東北賞樹掛之旅 (B) 黃土窯洞胡同五日遊 (C) 東南丘陵採茶趣 (D) 古絲路沙漠風情。
14. () 下列為中國境內四個城市的氣候資料，依內容判斷，何者距離海洋可能最遠？



15. () 小頤要到中國考察其境內最大鹹水湖的水文特性，他應該前往哪一個湖泊進行研究？ (A) 西湖 (B) 洞庭湖 (C) 青海湖 (D) 鄱陽湖。

16.()阿凱若要進行中國水文特性的觀察時，在附圖中的哪一個地區可以蒐集到內流河的相關特性資料？

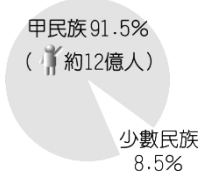
(A)乙 (B)甲 (C)丁 (D)丙。



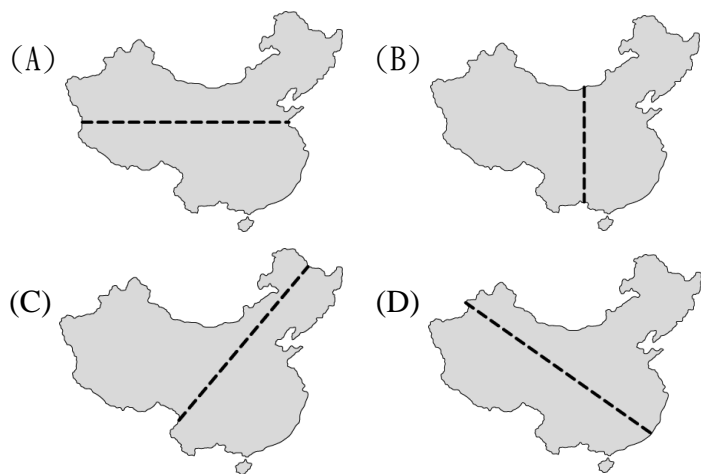
17.()中國南部地區的騎樓設計，主要受到下列哪一項環境因素的影響？ (A)雨多 (B)風強 (C)高溫 (D)溫差大。

18.()中國西部內陸地區的居民多以洋蔥式穿法為主，其原因為何？ (A)氣候寒冷 (B)降雨量多 (C)日照強烈 (D)日溫差大。

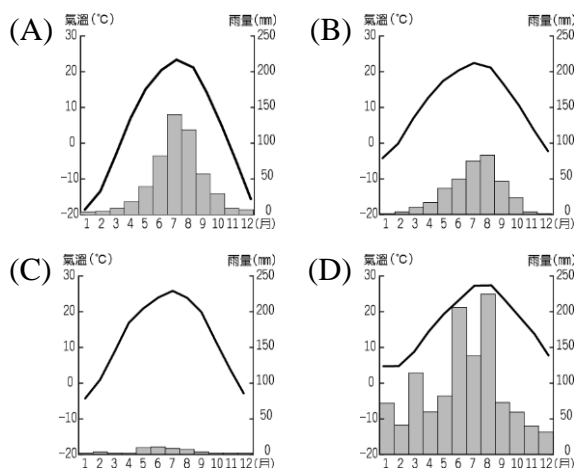
19.()以附圖中的中國民族比例加以判斷，甲民族應該為何者？(A)哈薩克族 (B)漢族 (C)回族 (D)傣族。



20.()中國境內畫分人口稠密區及稀疏區的分界線大約為下列何者？



21.()單純以氣候條件來看，下列何者的環境負載力應該最低？



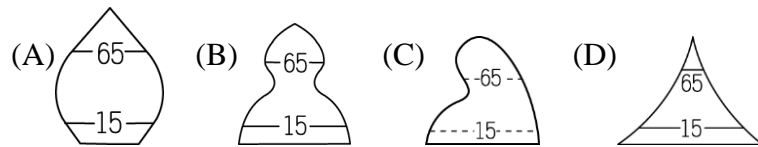
22.()下列哪一個地區的地形崎嶇起伏大交通不便，減少族群融合，導至民族種類眾多？

(A)甲 (B)丙 (C)乙 (D)丁。



23.()在 1980 年代至今年畫上句點的「一胎化政策」，其本來目的是為了解決？ (A)高出生率 (B)高移出率 (C)區域發展不均 (D)人力資源短缺。

24.()當年在中國需要施行一胎化政策時，人口金字塔應該呈現下列哪種型態？

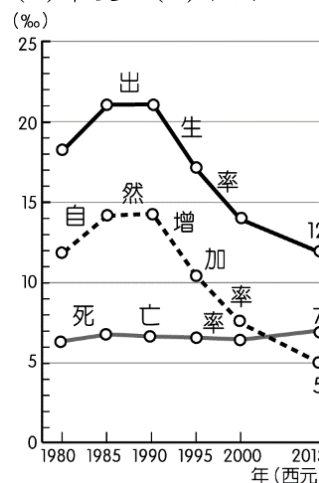


25.()根據統計，中國近年的幼年人口比例正逐漸減少，原因為何？ (A)經濟情況不佳 (B)教育程度低落 (C)計畫生育政策 (D)重男輕女觀念。

26.()數據指出中國境內目前約有數千萬的文盲人口，此情形凸顯出中國的哪一項人口問題？ (A)人口過多 (B)集中都市 (C)素質低落 (D)分布不均。

27.()正常情形下商人都以獲取最高利潤為主，倘若單純以消費者的多寡來選擇設立據點，請問：最可能選到何處？ (A)德國 (B)美國 (C)印度 (D)中國。

28.()若人口變化只考慮自然增加層面，請由附圖中的資料加以判斷，中國進 20 年來總人口變化情形？



(A)總數停滯
(B)增加但逐漸減緩
(C)人口負成長
(D)不斷加速飆升

29.()中國傳統的交通方式各地不同，素有「南船北馬」之稱，請問此現象以何自然地貌為界？ (A)大興安嶺 (B)年雨量五百公釐等雨量線 (C)萬里長城 (D)秦嶺、淮河。

30.()位於西藏的雅魯藏布江為青藏高原重要的河流，其綿延兩千公里後與恆河匯合流入哪一片海洋？ (A)印度洋 (B)太平洋 (C)北極海 (D)大西洋。

31.()青藏高原位於中國地勢的第一級階梯，具有特殊的氣候類型，請問：該地區的氣候類型為下列何者？

(A)沙漠氣候 (B)高地氣候 (C)季風氣候 (D)草原氣候。

32.()中國的面積廣大，氣候種類眾多，其中哪一種氣候符合諺語「朝穿皮襖午穿紗，抱著火爐吃西瓜」的描述？ (A)季風氣候 (B)沙漠氣候 (C)高地氣候 (D)寒帶氣候。

33.()中國的西半部地區為高地氣候的主要分布區，此種氣候區的分類指標通常以地表高度超過海拔多少公尺為基準？ (A)500 公尺 (B)1000 公尺 (C)3000 公尺 (D)4000 公尺。