

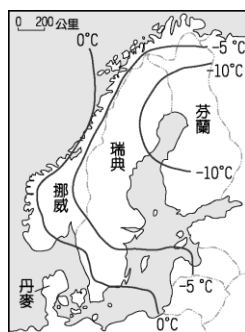
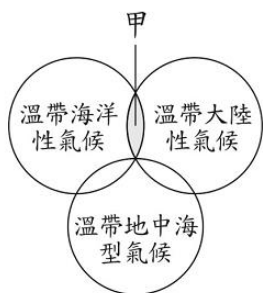
# 臺北市立新民國中 104 學年度第一學期地理科第二次段考(九年級)

範圍：歐洲、俄羅斯

年 班 號 姓名

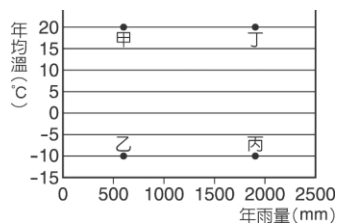
## 一、選擇題：每題 2 分

1. 歐洲文明與海運關係密切，下列哪個半島因同時瀕臨地中海與大西洋，海運往來的地位重要？  
(A)斯堪地那維亞半島 (B)伊比利半島 (C)義大利半島 (D)巴爾幹半島。
2. 南歐在加入歐盟後，成為「歐洲的蔬果籃」，提供大量的蔬果給西北歐國家食用。南歐的農業條件比西、北歐優越，主要的原因是下列何者？ (A)氣溫較溫暖 (B)土壤較肥沃 (C)地形較平坦 (D)雨量較多。
3. 電影《媽媽咪呀！》，拍攝的場景為希臘的一個小島。其中最吸引人的，就是女主角開設的民宿。那一棟棟海藍色屋瓦加上手工漆刷白灰泥牆的小房子，再加上藍藍的海洋當背景，十分令人嚮往。請問：當地房屋的特色和哪一氣候因素有關？ (A)冬季寒冷，可阻絕冷風 (B)夏季炎熱，可反射陽光 (C)終年多雨，可遮蔽雨水 (D)沿岸海風強，可擋風。
4. 左下圖是歐洲主要氣候類型的示意圖，部分地區受到緯度及海陸位置影響，氣類呈現過渡性的特徵。下列哪一個國家即具有圖中「甲區」所代表的氣候特徵？ (A)丹麥 (B)德國 (C)希臘 (D)俄羅斯。

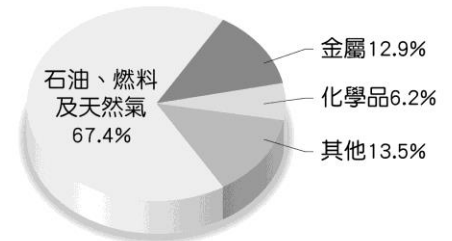


5. 北歐的緯度雖高，但其 1 月分月均溫分布如右上圖所示，該地區氣溫分布的最主要的影響因素為下列何者？ (A)西風 (B)地形 (C)洋流 (D)緯度。
6. 萊因河是歐洲航運最發達的河流，其特色是終年水量豐穩，除了是因地形平坦之外，還與下列哪種氣候類型關係密切？ (A)高地氣候 (B)溫帶海洋性氣候 (C)溫帶地中海型氣候 (D)溫帶大陸性氣候。
7. 西伯利亞與北歐兩者的緯度相同，西伯利亞的氣候「乾冷」，而北歐的氣候「溼冷」。北歐主要是受到哪一因素的影響，年降水量仍豐？  
(A)面迎大西洋，西風吹拂 (B)海岸曲折且深入內部 (C)北極圈通過 (D)副熱帶高氣壓籠罩。
8. 麥加之於伊斯蘭教徒，就像教廷之於天主教徒，都是信徒心目中的聖地，如果有機會，一生也要去朝聖一次。請問：教廷位於哪一個都市境內？ (A)柏林 (B)巴黎 (C)倫敦 (D)羅馬。
9. 溫帶地中海型氣候區除了適合種植橄欖、柑橘、無花果等耐旱作物外，平原地區的糧作特別重視灌溉，其主要原因為何？ (A)日照強烈，蒸發旺盛 (B)高溫期太短 (C)無霜期太短 (D)生長季缺水。
10. 阿爾卑斯山脈是歐洲最高大的山脈，山地間有許多谷地，為南北之間的「天然孔道」。這些「天然孔道」是指什麼？ (A)河蝕作用的峽谷 (B)斷層作用的裂谷 (C)溶蝕作用的岩溝 (D)冰蝕作用的 U 型谷。
11. 歐洲高緯度的港口都擁有終年不結凍的條件，使得歐洲的航運十分發達。請問：造成港口終年不凍的主要原因為何？ (A)北大西洋暖流由本區進入北極海 (B)黑潮北上，帶來溫暖洋流，水溫提高 (C)西風吹拂，帶來豐富水氣，調節氣溫 (D)大西洋海水鹽度較高。
12. 英國本寧山兩側、德國魯爾河流域，都是久負盛名的大工業區，早期該區吸引工廠設立的主要條件為何？ (A)眾多的勞工 (B)便捷的交通 (C)先進的技術 (D)豐富的煤礦。
13. 小華想將西歐各地的河流繪圖做一整理，他發現除了有自然河川外，這地區尚有許多運河連接各條河流。請問：西歐地區的運河方向應以何種走向為主？ (A)向心狀 (B)放射狀 (C)南北向 (D)東西向。
14. 法國南方的旅遊度假勝地「蔚藍海岸」是瀕臨下列哪個海域？ (A)波羅的海 (B)地中海 (C)北海 (D)黑海。
15. 如果溫室效應加速惡化，兩極地區的冰雪將大量消融，海平面上升，在這種情況下，下列哪一個國家受害的情況可能最嚴重？ (A)芬蘭 (B)荷蘭 (C)瑞士 (D)奧地利。
16. 「歐洲地區的某個海域因其石油與天然氣的產量豐富，如同亞洲地區的南海，也因該海域內的石油豐富而遭受到各國覬覦」。文中所敘述的是下列哪個海域？ (A)北海 (B)北極海 (C)地中海 (D)波羅的海。
17. 水運曾是深入陸地最主要的交通方式，河岸林立的城堡是水運發達時的重要地標，若將東歐的城堡分布畫在地圖上，應與下列哪條河流的分布最有關係？ (A)多瑙河 (B)萊因河 (C)塞納河 (D)泰晤士河。
18. 北角是世界著名可以欣賞「午夜太陽」奇景的最佳地點，小陳規畫親身前往北角體驗難得的經驗。下列哪個國家與月分的組合，最可能達成他的願望？ (A)丹麥：1 月 (B)德國：7 月 (C)瑞典：1 月 (D)挪威：7 月。

19. 位於西歐的萊因河為歐洲地區最重要的河川，藉由河運運輸有利於工商活動的發展。請問：該條河川由哪一個國家注入海洋，因此該國的交通位置相當重要？ (A)法國 (B)義大利 (C)荷蘭 (D)德國。
20. 東歐哪一個國家位於德國與前蘇聯兩大強國之間，因此在第二次世界大戰時，飽受戰火摧殘？ (A)捷克 (B)波蘭 (C)匈牙利 (D)羅馬尼亞。
21. 東歐因多戰亂，被稱為「政治破碎帶」；西亞則因長期的政治紛爭，使「中東問題」常成為國際各大媒體的頭條新聞。請問：這兩個地區的問題，其共同的地理背景最可能是下列何者？ (A)氣候惡劣 (B)缺乏水源 (C)富產石油 (D)民族與宗教複雜。
22. 多瑙河的長度比萊因河長，流經的國家數也比萊因河多，但是多瑙河的航運價值卻遠低於萊因河，主要原因是下列何者？ (A)多瑙河的汙染嚴重 (B)多瑙河的水位變化太大 (C)多瑙河注入黑海 (D)多瑙河的坡度變化大。
23. 東歐的經濟發展較歐洲其他地區緩慢，因此國民所得相對低落。請問：該地區發展較為遲緩的主要因素為何？ (A)資源缺乏 (B)交通不便 (C)缺乏勞力 (D)政治制度。
24. 電子大廠鴻海在 2000 年即前往捷克投資生產，更在 2002 年完成新廠房的擴建，成為歐洲市場的蘋果電腦生產基地。請問：鴻海公司前往捷克設廠的主要原因為何？ (A)勞資便宜、關稅優惠 (B)研發重鎮、技術進步 (C)氣候優良、位置適中 (D)技術進步、資金充足。
25. 東歐位於歐洲大平原的東部地區，氣候不同於西歐。請問：左下附圖哪一地最能顯示東歐的氣候特色？ (A)甲 (B)乙 (C)丙 (D)丁。



26. 小傑收到阿奇到某國修煉的明信片 (右上附圖)。請問：由圖中呈現的景觀特色，阿奇最有可能是到哪一個國家？ (A)俄羅斯 (B)希臘 (C)義大利 (D)法國。
27. 承上題，小傑發現他到中國大陸旅遊，發現一個城市也有如此富有異國情調的教堂。請問：他最可能是到了中國的哪一個城市？ (A)北京 (B)哈爾濱 (C)瀋陽 (D)上海。
28. 俄羅斯是全球第一大國，為了串聯廣大的土地，方便物資的流通，俄羅斯的交通發展，最主要以什麼交通工具為主？ (A)公路 (B)航空 (C)鐵路 (D)河運。
29. 附圖是俄羅斯資源出口比例圖，由圖中比例高低判斷，俄羅斯的經濟可能會有下列何項問題？ (A)深受國際油價波動的影響 (B)引發西亞各國的競爭 (C)缺乏發展重工業的原料 (D)多元化發展無法降低成本。
30. 俄羅斯在西元 2010 年被臺商票選為十大重點拓銷市場。請問：俄羅斯具備下列哪項條件，使得近年來工業發達，經濟發展迅速？ (A)推行計畫經濟 (B)天然資源豐富 (C)獲得歐盟各國援助 (D)領土面積廣大。



## 二、整合題：每題 2 分

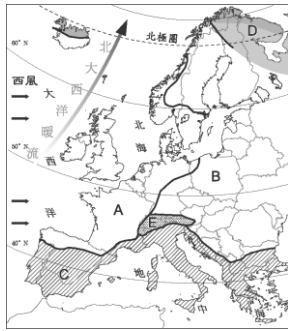
※ 歐洲大致可分為南歐、西歐、東歐及北歐四區，請問：

31. 「歐亞板塊和非洲板塊相撞，受到強烈擠壓、隆起而形成高大的新褶曲山脈。」以上是描述歐洲哪一地理區的地形特徵？ (A)東歐 (B)北歐 (C)西歐 (D)南歐。
32. 「因地理位置優越，海外貿易與殖民經濟累積了大量資金，加以市場的需求，形成工業革命的動力，因而成為歐洲經濟的核心地帶。」上文所描述的地區，最可能是下列何者？ (A)東歐 (B)西歐 (C)北歐 (D)南歐。
33. 一篇研究報告指出：「歐洲某一區域的國家，在昔日維京人重視平等與分享的傳統觀念下，已成為世人眼中的理想國，完善的社會福利制度，使人民從『搖籃到墳墓』都有國家提供的保障。」這篇報告中所指的區域是下列何者？ (A)西歐 (B)東歐 (C)北歐 (D)南歐。
34. 「北濱波羅的海，南臨黑海，第二次世界大戰時期幾乎全為共產國家，後經濟體制改變，陸續加入歐盟，並得金援及外資技術湧入，經濟成長快速……。」請問：以上敘述的現象發生於歐洲哪個地理區？ (A)東歐 (B)西歐 (C)南歐 (D)北歐。

※ 左下附圖為歐洲氣候分區圖。請問：

35. 哪一地區氣候呈影響垂直變化？ (A) A (B) B (C) C (D) E。

36. C地區的氣候特徵為 (A)氣候呈垂直變化 (B)全年有雨、年溫差小 (C)夏雨冬乾、年溫差大 (D)夏乾冬雨。



※ 右上附圖為俄羅斯地形簡圖。請問：

37. 圖中哪一個地區的主要地形為山地地形？ (A)甲 (B)乙 (C)丙 (D)丁。

38. 右上附圖為俄羅斯地形簡圖。哪一區因地勢平坦且氣候條件較佳，成為俄羅斯的精華區？

(A)甲 (B)乙 (C)丙 (D)丁。

39. 圖中丙、丁兩地區中間的山脈為 (A)阿爾卑斯山 (B)烏拉山 (C)庇里牛斯山 (D)本寧山。

※ 左下附圖一是歐洲主要國家的區域圖，請問：

40. 該國家音樂氣息相當濃厚，為許多音樂家的出生地，其首都更有「音樂之都」之稱，該國家位於(圖一)何處？(A)甲 (B)乙 (C)丙 (D)丁。

41. 若想參觀著名的鬥牛比賽、佛朗明哥舞蹈則要到哪一個國家去？

(A)甲 (B)乙 (C)庚 (D)辛。

42. 著名的汽車廠牌『BENZ』、『AUDI』、『BMW』還有通訊大廠『西門子』等都是國際的大品牌，這些品牌都有良好的口碑，精密耐用。請問：這些品牌都是出自哪一個國家？(A)甲 (B)乙 (C)己 (D)庚。

43. 「該國坐擁阿爾卑斯山，有冰河地形、挺拔山峰、翠藍湖泊、天然森林、滑雪場所等豐富的觀光資源，向來被譽為『世界公園』。」請問所介紹的是哪一國家？

(A)甲 (B)丙 (C)丁 (D)辛。

44. 志炫參加地理猜謎遊戲，要依據地理特徵猜出國家名稱，他拿到的提示如右上附圖所示。請問：志炫的正確答案應是下列哪個歐洲國家？ (A)甲 (B)戊 (C)庚 (D)辛。

45. 工業革命的發源地，歐洲的工業發展起自於下圖中的哪一個國家？(A)甲 (B)乙 (C)庚 (D)辛。



1. 滄海桑田。
2. 低地國。
3. 水上城市。
4. 鬱金香花園。

※ 右上圖是北歐五國的區域圖，北歐五國的居民善於利用自然環境，生活最安定。請問：

46. 北歐五國的自然環境優美且地形景觀豐富，每年夏季時都會有許多的郵輪前往該處，欣賞特殊的峽灣地形景觀。上圖中哪一個國家以深邃壯觀的峽灣海岸地形最為著名？(A)甲 (B)乙 (C)丙 (D)丁。

47. 傳統產業活動為林木的開發，利用豐富的湖泊水力發電，提供林業所需要的能源。因為湖泊眾多，因此又被稱之為「千湖國」。這個國家指的是圖中的哪一國？(A)甲 (B)乙 (C)丙 (D)丁。

48. 這個國家充分利用自然資源，將地熱作為發電能源，除了供應一般民生需求，還可發展溫室栽培、養殖漁業，對於環保意識高漲，希望減少核能發電的臺灣而言，是一個很值得學習的國家。上述中的國家位於附圖中的何處？ (A) 甲 (B) 乙 (C)丁 (D) 戊。

49. 小欽和爸媽到北歐旅遊，到達港口時，看到了童話故事中的美人魚銅像，他拿起相機不停的拍照。請問：美人魚銅像是哪一國家首都的地標？ (A) 甲 (B) 乙 (C) 丙 (D) 丁。

50. A 海域的名稱為 (A)北海 (B)北極海 (C)地中海 (D)波羅的海。