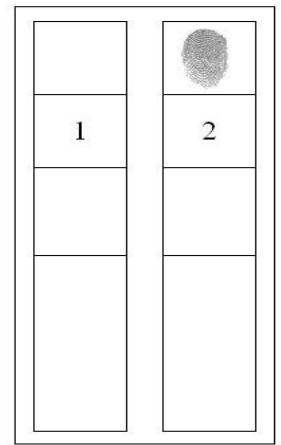


【是非題】1-5 題，每題 2 分。《正確答案請劃“ A ”；錯誤答案請劃“ B ”》

- 見(圖一)選票，由於違反普通原則，因此為無效票。
- 依我國規定，只要年滿 20 歲除了可以投票，也可以出來參加競選各級民意代表。
- 利益團體是一群具有相同政治理念的人，在法律範圍內所組成的政治團體。
- 所謂的「兩黨制」是指一個國家中，只有兩個政黨競爭執政權，輪流執政，沒有其它政黨的存在。
- 政治參與是指人民企圖影響政治決策的行動，參加遊行、與他人討論 2016 年總統立委選情都是政治參與的方式之一。



(圖一)

【選擇題】6-35 題，每題 3 分。

- 詠翔興高采烈地到投票所準備投下他人生當中第一張選票，選務人員卻告訴他，他無法領票、投票。請問：他忘記帶哪一項證件？  
(A)印章 (B)健保卡 (C)身分證 (D)投票通知單。
- 以下四人中誰具有投票權？ (A)國二生的成慶 (B)三個月前才將戶籍從國外遷回台灣的品蓁  
(C)大學畢業但受法院監護宣告的世家 (D)被判褫奪公權 3 年的君智。
- 政治參與的方式很多，但又以下列何者最常見且重要？  
(A)選舉投票 (B)遊行示威 (C)加入政黨 (D)收看政論節目。
- 據報導(2015/12/13)：「沙烏地阿拉伯日前舉行市議會選舉，這次地方選舉首度開放女性投票、參選，被視為沙國邁向性別平等的重要里程碑。」請問：沙國此次重要的里程碑，有助於那一項選舉原則的實現？ (A)普通 (B)平等 (C)直接 (D)無記名。
- 利益團體可分維護自身利益和推動公共利益兩類，請問：右列團體中哪些是以推動公共利益為目標？  
(A)甲乙丙丁 (B)甲丙丁 (C)乙丙丁 (D)甲乙丁。
- 下列公職人員的任期，哪些只能連任一次？ ①總統 ②立法委員  
③縣(市)長 ④縣(市)議員 ⑤里長  
(A)①② (B)①③ (C)①③⑤ (D)②③④。
- 在民主國家中，若出現「原本的執政黨敗選成為在野黨，在野黨勝選成為執政黨」的情形時，可用下列何種概念描述？ (A)政黨重組 (B)政黨惡鬥 (C)政黨輪替 (D)政黨協商。
- 根據公職人員選舉罷免法的規定，台北市市長與直轄市市議員候選人，參選最低年齡與下列哪一組公職人員是一樣的？ (A)總統、烏來區民代表 (B)花蓮市長、花蓮市民代表 (C)新竹市市長、立法委員 (D)集集鎮長、新民里長。
- 在我國受到褫奪公權的人，將喪失部分政治權利，下列敘述何者錯誤？(A)受褫奪公權者，仍可行使罷免、創制及複決權 (B)褫奪公權屬於中華民國刑法中從刑的一種 (C)受褫奪公權期間，將失去擔任公務員的資格 (D)受褫奪公權者，仍可參加立委選舉，成為候選人。
- 下列敘述何者屬於利益團體？ (A)家明：「連日來，朝野各黨對於是否召開臨時會議熱烈討論。」 (B)亞璇：「段考後，學校安排八年級隔宿露營兩天一夜。」 (C)衍勳：「明天學校社團要去北美館看展覽」 (D)士緯：「5 月 1 日，我們工會要走上街頭，要求政府正視台灣勞工工作時數問題。」
- 此次 2016 總統大選期間，各政黨候選人利用造勢晚會或是電視辯論等活動，公開討論政治議題，引起選民對政治事務的關心。請問：這是政黨的何項功能？  
(A)民意的匯集與表達 (B)促進民眾對政治的認知  
(C)政治菁英的培育和徵選 (D)組織政府與監督政府。
- 念澄具有中華民國國籍，今年剛 35 歲，有滿腔熱血，想一展其政治抱負。依據公職人員選舉罷免法的規定，他可以成為下列哪項公職人員的候選人？  
(A)教育部長 (B)監察委員 (C)總統副總統 (D)直轄市市長。

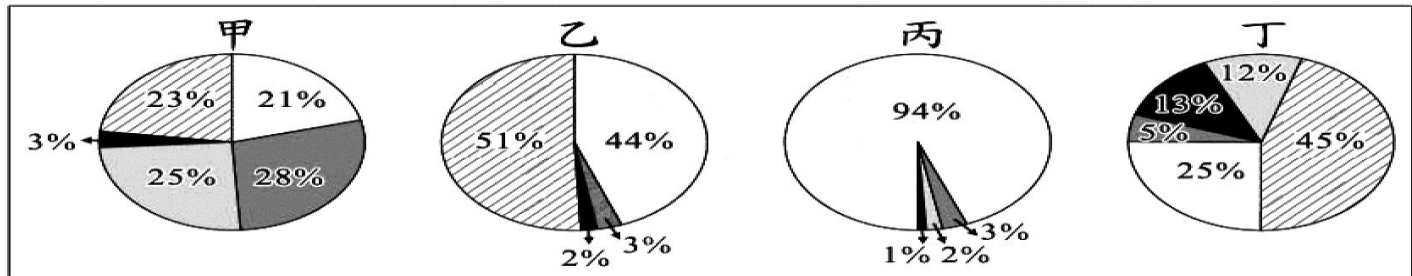
- (甲) 創世基金會  
(乙) 律師公會  
(丙) 董氏基金會  
(丁) 喜憨兒基金會

18. 依我國相關選舉法規定，下列四位參選不同公職的候選人其最低參選年齡資格由小到大的排序為何？

(甲) 芸菁	懇請大家支持，讓我在國會繼續監督政府施政
(乙) 晏欣	翻轉台灣的政治，送晏欣進總統府，為台灣找出路
(丙) 佳俊	拜託拜託，讓我繼續為縣民服務，一定作好作滿
(丁) 致中	鄉長請投一路走來，始終如一、愛鄉愛土的致中一票

(A) 甲丁丙乙 (B) 甲丙丁乙 (C) 丁丙甲乙 (D) 甲乙丙丁。

19. 下圖為甲、乙、丙、丁四個國家的國會組成比例圖，顯示國會中各政黨席次的分布情況。根據圖中內容判斷，何者最可能屬於「兩黨制」？ 【100 II 基測】



(A) 甲 (B) 乙 (C) 丙 (D) 丁。

20. 苾如整理出「政黨與利益團體比較表」。請問：下列表格內容何者正確？

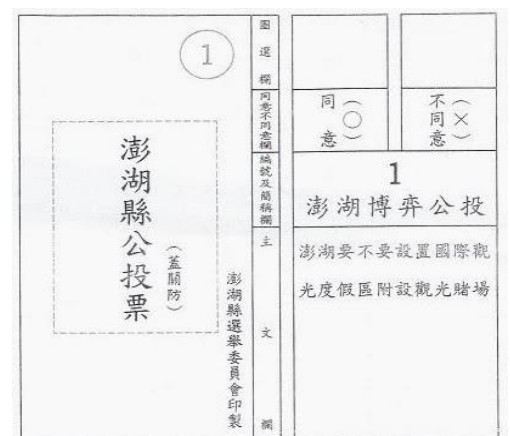
	政黨	利益團體
(A) 目的	影響政府政策	以執政為目標
(B) 政策	只關心與自身團體相關的政策、議題	政策較全面性
(C) 方式	提名候選人，爭取組織政府機會	遊說、陳情、示威遊行、支持某候選人
(D) 舉例	喜憨兒基金會、勵馨文教基金會	國民黨、民進黨、親民黨、民國黨

21. 鴻德今年剛滿 20 歲，他對政治很有興趣，希望能發揮所學為社會盡一份力。下列哪種政治參與方式是鴻德現在無法做到的？ (A) 在總統大選時投下神聖的一票 (B) 登記參選臺北市市議員候選人 (C) 每天閱讀新聞或報紙上的事件 (D) 收看政論節目並參加 call-in 討論。

22. 某黨主席在一場選舉活動中，為該黨候選人李大同拉票的發言內容如下：「李大同已多次連任，具有豐富的經驗，相信他一定能為大家好好的監督政府，請各位選民繼續給他連任的機會。」李大同所參選的公職人員最可能是下列何者？ 【104 會考】

(A) 市長 (B) 鎮長 (C) 監察委員 (D) 立法委員。

23. 右圖為澎湖縣針對該縣是否要設置國際觀光度假區附設觀光賭場議題所舉行的公投選票，根據內容判斷，這項公投屬於哪一種類型的公投？ (A) 地方性公投 (B) 全國性公投 (C) 國際性公投 (D) 區域性公投。



24. 承上題，依我國《公民投票法》之規定，下列關於公投的流程，何者正確？ (A) 提案→公告→連署→投票 (B) 提案→連署→投票→公告 (C) 提案→連署→公告→投票 (D) 提案→投票→連署→公告。

25. 我國 2003 年通過的《公民投票法》是實現憲法所保障的哪些基本權利？

(A) 選舉權、罷免權 (B) 選舉權、複決權  
(C) 選舉權、創制權 (D) 創制權、複決權。

26. 新門市市長選舉中，1 號候選人的政見主張「山坡地變工廠，興建工廠促進經濟成長」；2 號候選人的政見則主張「發展休閒農業，以觀光刺激經濟成長」。選舉結果顯示，多數選民以選票支持 2 號候選人，表達贊成發展觀光的理念。上述主要展現選舉的何種功能？

(A) 選出公職人員 (B) 影響政府政策 (C) 合法轉移政權 (D) 展現責任政治。

27. 回顧 2015 年接連爆發「茶飲店農藥超標」、「黑心海帶」、「有毒潤餅皮」等等食安事件，都會看到「消費者文教基金會」站在最前線，要求政府嚴懲不肖廠商，捍衛消費者權益。下列對「消費者文教基金會」的敘述何者正確？ (A) 又稱為壓力團體，監督政府政策 (B) 屬於自利性的利益團體，和工會、農會同性質 (C) 主要目的在爭取執政機會 (D) 屬於公益性的利益團體，提出的政策是有關民眾全面性的事務。




28. 有關政黨政治運作原則，下列何者說法較正確？

- (A) 碇鈞：不管那一個政黨都應受到媒體合理公平對待。
- (B) 宸瑋：為了贏得選票，即使是抹黑污陷其他政黨都是必要的。
- (C) 濬宇：政黨就是「少數服從多數」，不須多花時間和小黨溝通。
- (D) 芝霓：人民只有選舉時才需服務，一切還是以政黨利益為優先。

【公民新聞時事題】39-35 題，每題 3 分。

◎中華民國第十四任總統、副總統選舉與第九屆立法委員選舉已於 2016 年 1 月 16 日舉行完畢。我國立法委員選舉採用口口制，其中區域立委 73 席，全國不分區與僑選立委 34 席，與 6 席原住民立委，共計 113 席。選務單位○○會將在 2016 年 1 月 16 日晚間宣布開票結果，總統當選人將於同年 5 月 20 日宣誓就職；全體當選的立法委員則是 2 月 1 日宣誓就任。



29. 總統與立法委員各有各的職權，但下列何項二者間有所關聯？ (A)提出領土變更案 (B)提出憲法修正案 (C)總統發布緊急命令 (D)總統任命行政院長。
30. 有關 2016 總統立委合併選舉活動，下列敘述何者正確？ (A)此次大選結果顯示出台灣國會將變成一黨專政制 (B)文中□□處應為「單一選區兩票」制 (C)新任總統副總統選舉是分開個別選出 (D)此次選民最多只能拿到兩張選票。
31. 依據我國法律規定，總統與立法委員在選舉方面有哪些相同處？ (A)任期 (B)任期、年齡資格 (C)年齡資格、任期、連任人數 (D)連任次數。
32. 志嘉在投票日當天，因為一時興奮，竟然用手機拍下投票結果傳給朋友。請問：志嘉作法已經違反下列哪一項則？ (A)平等原則 (B)普通原則 (C)直接原則 (D)無記名原則。
33. 此次選舉活動，於投票結束後立刻在各地投開票所開票、計票，再統一交由○○會彙整票數結果無誤，公告當選人名單，此○○會為 (A)監察院 (B)地方政府 (C)中央選舉委員會 (D)直轄市選舉委員會。

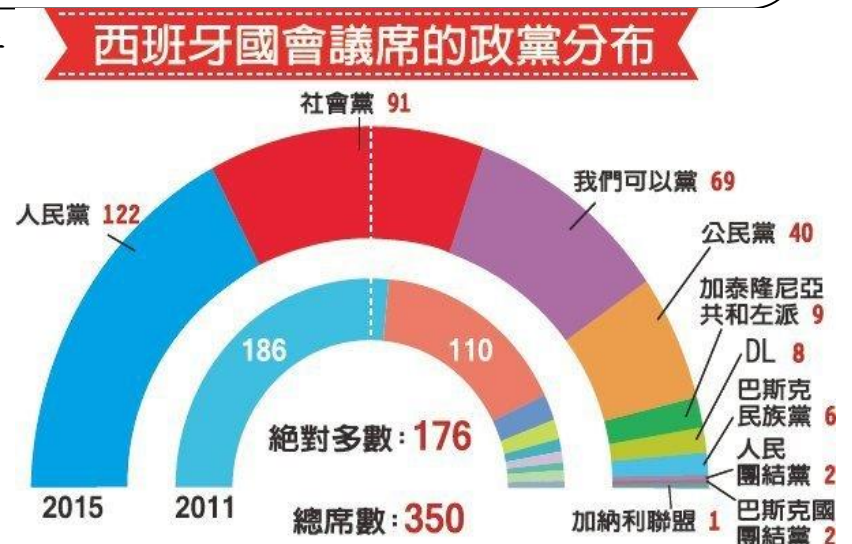
◎西班牙 2015 年 12 月 20 日舉行國會選舉，將改選國會 350 個議席，開票結果塵埃落定，執政黨「人民黨」(Popular Party) 獲 122 席，仍是國會第一大黨，主要反對黨「社會黨」(Socialist Party) 獲 91 席，新興政黨反摶節的「我們可以」(Podemos) 獲 69 席，新政黨「公民黨」(Ciudadanos) 為 40 席。此次選舉沒有任何政黨獲得足以獨力組閣的席次；得票最多的執政黨人民黨 (PP) 必須找他黨組成聯合政府。此一結果將使西班牙國會更加脆弱，若無法組成聯合政府就得重新選舉。

34. 從上文及圖表中得知，此次大選後結果呈現出西班牙國會將屬於下列哪一種政黨類型？

- (A) 一黨獨大制 (B) 一黨專政制
- (C) 兩黨制 (D) 多黨制。

35. 承上題，請問該政黨類型的特色為何？

- (甲) 政策易落實效率高 (乙) 反映多元意見
  - (丙) 兩黨互相制衡 (丁) 無法反映各階層民意
  - (戊) 行政效率不彰
- (A) 甲乙 (B) 丙丁 (C) 乙戊 (D) 甲戊。



圖片來源：聯合新聞網

試題完成 恭喜同學 寒假愉快

~公民知識與時事生活結合，恭喜同學完成這學期民主與政治的震撼！  
春節回來，準備接受法律知識大轟炸吧~

新民國中 104 學年第 1 學期八年級第 3 次段考公民答案：

1-5 BBBBA 6-10 CDAAB 11-15 BCCDD 16-20 BDABC 21-25 BDACD 26-30 BAACB 31-35 ADCDC

另一頁尚有題目