

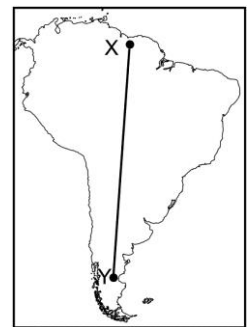
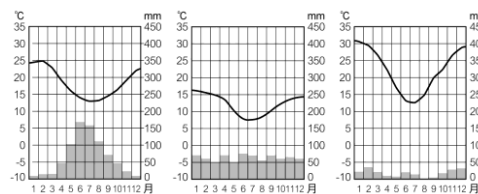
# 臺北市立新民國中 104 學年度第一學期地理科第三次段考(九年級)

範圍：美洲

年 班 號 姓名

## 一、選擇題：每題 3 分，54%

- 北美大平原易受到冷氣團侵襲，溫度驟降造成大雪紛飛的情景。請問：北美大平原最易受冷氣團侵襲的主因為何？  
(A)大河流經 (B)緯度太高 (C)地形平坦 (D)面臨墨西哥灣。
- 右圖是 1914 年為了慶祝通航，美國所發行的郵票，報紙的標題寫著：「大陸分割了，世界聯通了」從此，美國東西側距離大幅拉近，兩岸航程縮短一萬多公里。請問：此郵票發行是慶祝哪一項設施完工？  
(A)英法海底隧道 (B)蘇伊士運河 (C)中央大運河 (D)巴拿馬運河。
- 相較於被稱為「民族拼盤」的北美，中南美洲的民族融合現象更加顯著，其文化中所呈現的多元特質受哪一文化 影響較小？  
(A)拉丁文化 (B)黑人文化 (C)印第安文化 (D)阿拉伯文化。
- 「Tom 是美國的農夫，他有一個大約 200 公頃的農場，大部分的土地用來種植小麥，雖然採用較粗放的耕種方式，但農場的收入，也能維持一般的生活水準。」請問：下列何者最能解釋上述的現象？  
(A)自給性農業 (B)農產品價格高 (C)農產品總產量大 (D)單位面積產量高。
- 北美自由貿易區成立後，墨西哥憑藉何種優勢吸引外資投資設廠、帶動該國的經濟成長？  
(A)高素質的勞動力 (B)農礦原料豐富 (C)充足的資金與技術 (D)工資低廉、關稅減免。
- 「這裡原是一片茂密的森林，樹種繁多，樹木高低成層，為全球最豐富的生物基因寶庫區。近年來，因人口的激增，為追求經濟發展，森林大量被砍伐，可能導致人類的浩劫，而引發全球關切。」請問：上述的森林區，最可能位於哪個國家境內？ (A)巴西 (B)加拿大 (C)阿根廷 (D)墨西哥。
- 墨西哥的首都墨西哥市海拔高度約 2,240 公尺，但人口聚集近千萬人之多。影響該地區人口集中於高地的主要因素為何？ (A)年降雨量較豐沛 (B)高地氣候較為涼爽 (C)礦產資源較豐富 (D)受宗教信仰的影響。
- 南美洲因緯度距離長，環境的特色不同。若依右附圖的南美洲簡圖判斷，由 X 到 Y，沿線所呈現出來的自然景觀變化為何？ (A)地勢愈來愈低 (B)雨量愈來愈多 (C)氣溫愈來愈低 (D)植被愈來愈密。
- 智利國土形狀十分狹長，氣候從北到南具有如左下附圖的三種類型，智利的氣候類型從北至南排序應為下列何者？  
(A)甲→乙→丙 (B)乙→丙→甲 (C)甲→丙→乙 (D)丙→甲→乙。

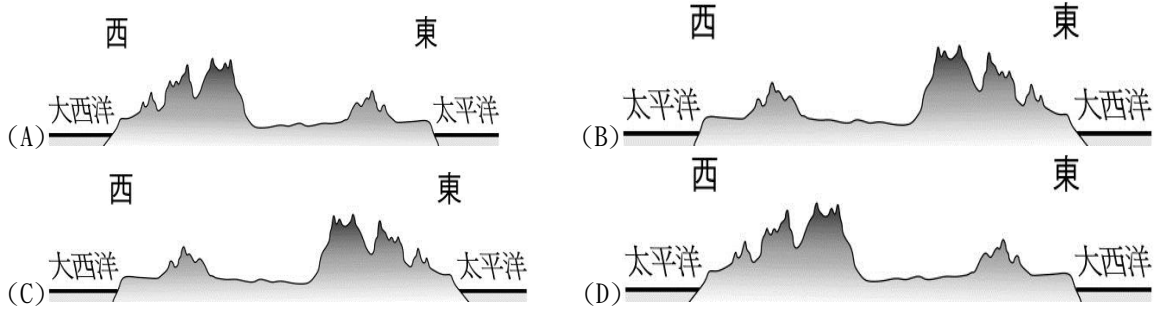
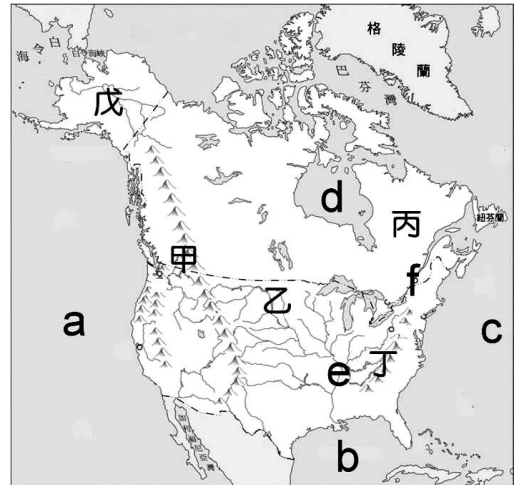


- 「這個國家是加勒比海地區的一個島國，也是目前世界上少數幾個施行共產制度的國家，蔗糖工業與雪茄是主要的出口商品；棒球成為該國相當風行的運動。」上文所述最有可能是下列哪一個國家？  
(A)墨西哥 (B)巴拿馬 (C)宏都拉斯 (D)古巴。
- 巴西近年鋼鐵、電子、航空、汽車等工業逐漸興起，除了因其眾多且廉價人力外，還有哪項工業發展的優勢條件？  
(A)礦產豐富 (B)市場廣大 (C)資金充足 (D)技術優良。
- 位於北美洲美國與加拿大之間的五大湖，其形成的主要成因為何？  
(A)冰河侵蝕 (B)火山噴發淤積 (C)斷層陷落 (D)山崩淤積。
- 世界著名小說《湯姆歷險記》是敘述住在美國的小男孩湯姆，順著密士失必河漂流，一路上的冒險故事。請問：湯姆沿途所見到的地形大多為下列何者？  
(A)高而多起伏的高原 (B)平坦遼闊的平原 (C)山峰重疊的山地 (D)起伏有序的丘陵。
- 南美洲的智利和阿根廷兩國，各具有多樣化的氣候，主要是受到下列哪一因素的影響？  
(A)國土南北狹長 (B)國土東西寬廣 (C)地勢高低起伏大 (D)亞馬孫河流貫其間。
- 下列哪些作物是屬於熱帶栽培業的產品？ (甲)葡萄 (乙)咖啡 (丙)甘蔗 (丁)橡膠 (戊)稻米。以上正確的是(A)甲乙丁 (B)乙丙丁 (C)乙丁戊 (D)丙丁戊。
- 巴西的里約熱內盧、聖保羅與阿根廷的布宜諾斯艾利斯皆為人口超過 1,000 萬人的大都會。請問：這些都市的地理位置皆為下列何者？ (A)熱帶高地 (B)內陸盆地 (C)東南沿海 (D)赤道兩側。
- 中南美洲的都市化程度相當高，顯示人口高度集中在大都市。造成此種現象的主要原因為何？  
(A)鄉村推力強大 (B)政府政策鼓勵 (C)都市生活較舒適 (D)氣候影響。
- 拉丁美洲各國，經濟型態多是以農礦業為生，甚至有的國家僅以一種或兩種出口物產來支持半數以上的貿易收入。請問這些國家的經濟結構最大的隱憂為下列何者？ (A)礦產出口，工業屬勞力型密集型 (B)勞力外流，國內勞動力不足 (C)農產出口，國內糧需無法滿足 (D)經濟收入極易受國際市場價格之影響而起伏。

二、整合題：每題2分，46%

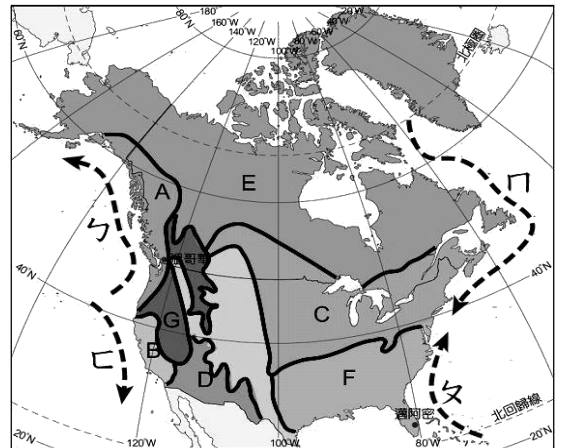
※ 右附圖為北美洲簡圖。依據圖中資料研判，請問：

19. 太平洋位於右圖中何處？(A) a (B) b (C) c (D) d。
20. 北美大平原位於右圖中何處？(A) 甲 (B) 乙 (C) 丙 (D) 丁。
21. 丙地區是：(A) 巴西高原 (B) 墨西哥高原 (C) 拉布拉多高原 (D) 巴塔哥尼亞高原。
22. e 河川為(A) 亞馬孫河 (B) 聖羅倫斯河 (C) 拉布拉他河 (D) 密士失必河。
23. 早期美國移民向西拓荒的交通工具以馬車為主，在越過山脈後，多需維修更換零件，而促使了底特律馬車製造業的興起。請問美國移民向西拓荒所翻越的山脈是：(A) 洛磯山脈 (B) 安地斯山脈 (C) 阿爾卑斯山脈 (D) 阿帕拉契山脈。
24. 若要研究北美洲五大湖的成因，可以參考下列哪個地區？(A) 長白山天池 (B) 新疆羅布泊 (C) 芬蘭伊納里湖 (D) 湖南省洞庭湖。
25. 「美國阿拉斯加州的外海，格林威治時間 2013 年 1 月 5 日上午八時五十八分（台灣時間五日下午四時五十八分）發生芮氏規模七·五強震並引發海嘯警報……。」請問：阿拉斯加位於圖二中何處？(A) 甲 (B) 丙 (C) 丁 (D) 戊。
26. 美國總統歐巴馬從美東搭乘總統專機直飛美西視察，其沿途所看到的地形，畫成地形剖面圖，下列何者最正確？



※ 北美洲氣候受緯度、地形、洋流及氣團的影響，呈現多樣化特性。請配合右圖北美洲氣候分區圖，回答下列問題：

27. 圖中，C 區為何種氣候類型？(A) 高地氣候 (B) 溫帶大陸性氣候 (C) 溫帶地中海型氣候 (D) 夏雨型暖溫帶氣候。
28. 右圖中，哪兩股洋流性質同為暖流？(A) ㄅ、ㄆ (B) ㄆ、ㄇ (C) ㄅ、ㄇ (D) ㄇ、ㄏ。
29. 風靡全球的電影「暮光之城」，背景是美國西北部華盛頓州的福克斯鎮，位於圖中 A 區，那裡終年陰雨缺少陽光，正是故事中吸血鬼的最佳居住地點。請問故事背景屬於何種氣候類型？(A) 寒帶氣候 (B) 溫帶草原氣候 (C) 溫帶海洋性氣候 (D) 溫帶地中海型氣候。
30. 建民想移民美國，但又怕水土不服，在氣候的考量下，哪一地區與台灣氣候型態最接近？(A) D 區 (B) E 區 (C) F 區 (D) G 區。
31. 美國亞利桑那州的鳳凰城位於圖中 D 區，其 NBA 球隊名稱以太陽 (Suns) 為隊名，代表該地終年陽光強烈乾燥的溫帶沙漠氣候，請問：該地氣候的成因為何？(A) 位於西風帶背風側 (B) 副熱帶高壓帶籠罩 (C) 位於山脈的迎風面 (D) 深居內陸距海遙遠。
32. 「2010 年 4 月墨西哥灣發生鑽油平台爆炸，每天 2、3 萬桶的原油不斷噴發出來，是美國史上最大的油汙事件。科學家擔心墨西哥灣 6 月進入 □ 季節後，□ 很可能將漏油捲成巨大黑浪，讓更大範圍的美國陸地覆蓋在油汙之中。」請問該則報導中，應為何種氣候災害？(A) 颶風 (B) 龍捲風 (C) 暴風雪 (D) 梅雨。



※ 美國是全世界經濟活動最發達的國家，境內各種產業活動相當多元。但受到不同產業發展因素差異的影響，主要分布地區各有不同。請配合美國農牧帶分布圖(圖一)及美國重要城市分布圖(圖二)回答下列問題：

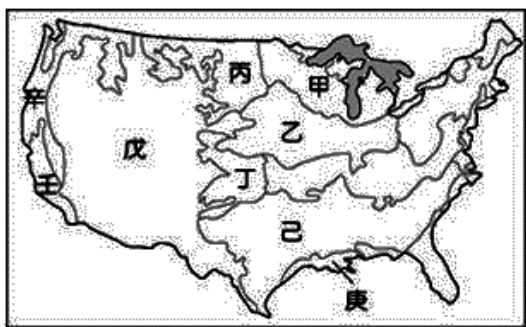


圖 一

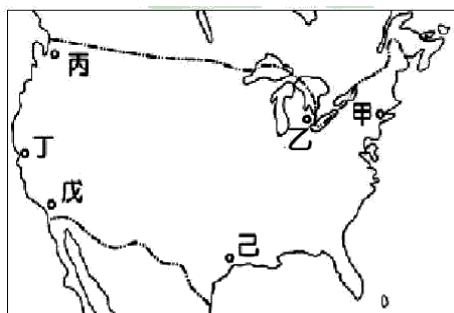

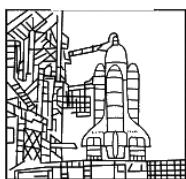


圖 二

33. 圖一中甲農業帶因為靠近五大湖區，且接近芝加哥、紐約等工商業重鎮，最有利於下列哪一項農牧業活動的發展 (A)小麥 (B)棉花 (C)放牧 (D)酪農業。
34. 右圖是美國某著名品牌的商標，美國早期為了種植該項作物的需要，從非洲輸入大量的黑奴。請問早期的黑人人口最可能集中於圖一哪個農業帶? (A) 丁 (B) 戊 (C) 己 (D) 壬。
35. 關於美國農業活動的特徵，下列敘述何者錯誤? (A)屬商業性農業，以外銷為主 (B)因地廣人稀，故採大規模機械耕作 (C)為降低生產成本，故種植單一作物 (D)採粗放耕種，故單位面積產量產量大。
36. 該城市是全美第一大都市、第一大港，象徵美國精神的自由女神像就矗立在它的港口，成為顯著的地標。請問該城市應位於圖二何處? (A) 甲 (B) 乙 (C) 丙 (D) 丁。
37. 書豪今年在美國旅遊，將所到之處的城市特色及著名地標用鉛筆素描留念。下列他所畫的特色地標與城市名稱標記，何者有誤?



- (A)NASA 總部-休士頓 (B)波音公司-西雅圖 (C)美國白宮-紐約 (D)好萊塢-洛杉磯



※ 右附圖為美洲某地的氣候分布圖。依據圖中資料研判，請問：

38. 有「地球之肺」之稱，是世界上最大的動植物寶庫，但因人類為了解決人口增加所帶來的糧食短缺問題，大肆開發該地區，因而導致生態嚴重破壞，甚至影響全球氣候。請問：文中所指地區位於附圖中何處? (A) ㄅ (B) ㄆ (C) ㄇ (D) ㄎ。
39. 「這個高原地處沿海地帶，因沿岸有寒流流經，加上位於西風的背風側，形成溫帶沙漠氣候。」上文所描述的高原最可能位於附圖中哪個地區? (A) ㄅ (B) ㄆ (C) ㄇ (D) ㄎ。
40. 北美洲、南美洲均地跨熱帶與溫帶，但南美洲卻不像北美洲具備溫帶大陸性氣候。請問：上述現象是南美洲的哪一特性所導致的? (A)陸地形狀呈倒三角型 (B)東臨大西洋，西濱太平洋 (C)安地斯山南北縱貫 (D)亞馬孫河東西橫流。
41. 在右附圖哪一地區較容易看到下圖的植物景觀?

