

一、選擇題（共 35 題，第 1 題到 30 題，每題 3 分；第 31 到 35 題，每題 2 分，總分 100 分；範圍 L1~L2）

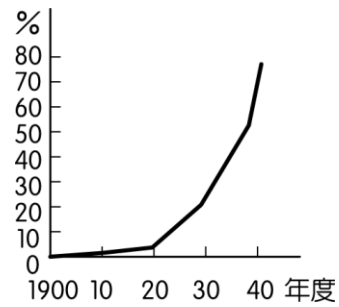
- 1、瑋莉參觀歷史博物館的特展，會場中主要展出唐景崧、劉永福等人的畫像、丘逢甲的詩詞等展覽品。這項特展的主題與下列哪一條約的簽訂最有關係？ (A)南京條約 (B)天津條約 (C)馬關條約 (D)辛丑和約。
- 2、承上題，該條約簽訂後，許多臺灣官民不能接受清廷將臺灣、澎湖割讓給日本的決議，因此選擇如何抗拒日本的接收？ (A)爭取外力協助，擊退日本 (B)與清廷合作，發動抗日戰爭 (C)成立臺灣民主國，抗拒接收 (D)發動政治社會運動，爭取台民權益。
- 3、承第 2 題，清廷會將臺灣割讓給日本，是起因於下列哪一場戰爭的失敗？ (A)鴉片戰爭 (B)英法聯軍 (C)中法戰爭 (D)甲午戰爭。
- 4、日軍占領臺灣北部後，下列何人負責南部的防務，領軍抗日，最後不敵日軍，黯然退回大陸？ (A)丘逢甲 (B)劉永福 (C)唐景崧 (D)邵友濂。
- 5、日本接收臺灣展開殖民統治初期，臺灣人民的抗日行動始終沒有間斷，當時臺灣民眾抗日型態的演變為下列何者？ (A)一直是始終以武裝抗爭方式進行 (B)從武裝抗日轉為政治、社會抗爭 (C)從政治、社會運動抗爭，轉為假借宗教信仰進行抗爭 (D)從政治、文化的抗爭轉為武裝抗日。
- 6、承上題，臺灣民眾抗日型態的轉變是以下列哪一歷史事件為分界？ (A)西來庵事件 (B)苗栗事件 (C)牡丹社事件 (D)霧社事件。
- 7、日本殖民統治臺灣期間，當權者掠奪山地資源，並要求原住民負擔沉重的勞役，引發原住民的不滿，因而爆發多起原住民抗日行動，其中以下列哪一事件最為著名？ (A)苗栗事件 (B)霧社事件 (C)噶吧哖事件 (D)牡丹社事件。
- 8、承上題，該事件發生於右圖哪一個行政區？ (A)高雄州 (B)臺南州 (C)臺中州 (D)新竹州。
- 9、日本殖民統治時期，孩童若哭鬧時，長輩們只需恫嚇：「大人來了，再哭就會被抓去。」孩童立即安靜。請問：長輩們口中所稱的「大人」是指當時的何者？ (A)總督 (B)保正 (C)甲長 (D)警察。



- 10、日本治臺時期，地方行政機關的官員如何選出，他們通常必須在上級機關的指揮監督下處理政務，沒有自主權和自治權？ (A)推選 (B)考試 (C)選舉 (D)官派。
- 11、西元 1896 年，日本政府頒布「法律第六十三號」，授權臺灣總督擁有下列哪一項權力，從此臺灣總督集大權於一身？ (A)司法權 (B)教育權 (C)立法權 (D)徵兵權。
- 12、日本總督府為了嚴密控制臺灣社會，防止抗日事件發生，除了在地方實施警察制度外，還運用了下列哪一項制度來達到目的？ (A)酷吏制度 (B)監視制度 (C)西化制度 (D)保甲制度。
- 13、承上題，該制度是下列哪一朝代所遺留下來的？ (A)清代 (B)元代 (C)唐代 (D)漢代。
- 14、日本統治臺灣時期，臺灣總督府為當時最高的行政單位，而日人將總督府設在下列哪一個行政區？ (A)臺南州 (B)高雄州 (C)臺北州 (D)新竹州。
- 15、臺灣在夏、秋之際常有颱風侵襲，有時還會帶來嚴重的災害。若在日治時期發生上述情形，警察將指揮監督下列哪一組織協助救災？ (A)民防團 (B)壯丁團 (C)救難隊 (D)消防隊。
- 16、日治時期，臺灣民眾可以夜不閉戶，也不怕宵小人家門偷東西，造成當時治安良好的主要原因為下列哪一選項？ (A)臺灣人早在日人治臺前已經養成守法的習慣 (B)日治時期在警察與法律嚴格監控下的結果 (C)臺灣人擁有良好的自治自律個性 (D)日本採取自由放任統治的政策。
- 17、阿良生活在日本治臺時期，20 歲那年因為將垃圾倒入在水源區，結果被鄰居看到，鄰居若想快速檢舉阿良的不當行為，他應該向下列何人報告？ (A)里長 (B)保正 (C)鄰長 (D)總督。
- 18、靜子是出生於日本統治時期的小女孩，她們家本姓林，後來全家都改姓「小林」；家中正廳的神龕奉祀著日本的天照大神；靜子家人也開始全面說日語；而且靜子的爸爸曾被日本政府徵召為日本皇軍出征。請問：在靜子生活的時代，日本總督府採取下列何種治臺政策？ (A)皇民化運動 (B)民族自覺運動 (C)日台合一運動 (D)漸進主義運動。
- 19、承上題，日本政府推行此項運動的主要目的為下列何者？ (A)強化臺灣人對日本的愛國心與犧牲精神 (B)加強臺灣漢人與原住民的融合 (C)消弭臺灣的抗日事件 (D)積極建設臺灣為日本版圖。
- 20、在下列哪一場戰爭之後，全球瀰漫著民族自決的思潮，迫使日本政府開始改派文官擔任台灣總督，並對臺灣推行「內地延長主義」政策？ (A)中法戰爭 (B)甲午戰爭 (C)第一次世界大戰 (D) 1937 年中日戰爭。

21、日本治臺之初，缺乏殖民統治的經驗，決定採取順應臺灣現實需求而調整的哪一項政策？ (A)日臺分治政策 (B)皇民化運動政策 (C)日臺合一政策 (D)無方針主義政策。

22、右圖為日治時期日語普及率曲線圖，1940年代日語普及率迅速增高與日本政府在臺實施何項政策有密切關係？ (A)鎮撫兼施政策 (B)皇民化運動 (C)日臺合一政策 (D)漸進主義政策。



23、臺灣從清領後期，開始推動一些近代化建設，到了日治時期，更進一步拓展了臺灣的基礎建設；下列哪一項建設為這兩個時期共同有的項目？ (A)人口普查 (B)改革幣制 (C)田野調查 (D)修築鐵路。

24、台灣某座港口在清領後期開始開港通商，而且曾遭受中法戰爭的戰火波及。到了日治時期，台灣總督府重新整建；由於這座港口的位址較接近日本，因此成為當時進出臺灣的主要門戶。請問：這座港口最可能是指下列何者？ (A)基隆 (B)淡水 (C)安平 (D)高雄。

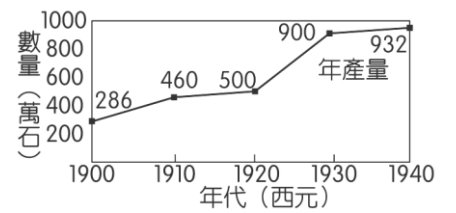
25、西元十七世紀以來，臺灣歷經數個外來民族的統治，但每一個政權都未能精確掌握臺灣人口的數量，直到下列何時臺灣才實施第一次人口普查，確實掌握臺灣人口的實況？ (A)1895年 (B)1905年 (C)1945年 (D)1985年。

26、日治時期，兒玉源太郎與後藤新平分別就任臺灣總督與民政長官後，開始在臺灣推動一些基礎建設，他們主要的目的為下列何者？ (A)將臺灣視為日本海外的領土，真心建設臺灣 (B)有利於日本帝國主義對臺灣資源的剝削 (C)推動基礎建設，增加臺人的就業機會 (D)想要透過各項建設，提升臺人的生活水準。

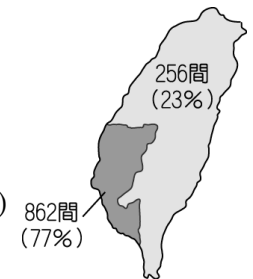
27、日治時期，臺灣總督府為了下列哪一個目的，興建阿里山森林鐵路？ (A)完成西部縱貫鐵路 (B)達到山區觀光的需求 (C)有助於資本家投資與開發林野地 (D)改善山區住民的生活環境。

28、日治初期，總督府為了解決幣制紊亂的問題，成立了下列哪一個機構？ (A)中央銀行 (B)臺北郵便局 (C)舊慣調查所 (D)臺灣銀行。

29、右圖為日本殖民統治時期臺灣稻米生產量圖。由圖中資料可知，稻米生產量年年都有增加，尤其1920年代以後產量大增，這與下列何者有關？ (A)興修水利工程與品種改良 (B)獎勵原住民山區墾殖 (C)實施土地私有制度 (D)開放國外糧食進口政策。



30、右圖為西元1902年臺灣某種主要出口商品的加工場所數量分布示意圖，根據其分布情形判斷，此種出口商品最可能為下列何者？ (A)茶葉 (B)樟腦 (C)蔗糖 (D)鹿皮。〔103會考〕



31、日本治臺前期，總督府施行「工業日本，農業臺灣」的分工體系，主要的動機為下列何者？ (A)積極開發臺灣的資源 (B)提升臺灣的生產力 (C)提供日本工業化後的民生需求 (D)增加臺灣民眾的經濟收入。

32、西元1930年某位工程師完成當時東亞最大的水利工程，使嘉南平原的農產品產量大增，他也因此得到「嘉南大圳之父」之名。請問：此位工程師為下列哪一人？ (A)劉永福 (B)後藤新平 (C)羅福星 (D)八田與一。

33、日本統治臺灣初期，採取「農業臺灣，工業日本」的政策，但是到1930年代起，轉變為「農業南洋，工業臺灣」的發展策略。造成這種轉變的主要原因是什麼？ (A)六三法的擴大實施 (B)臺灣農業升級的衝擊 (C)南洋的勞工工資低廉 (D)配合南進政策的需要。〔92基測〕

34、西元1934年，臺灣總督府完成下列何項工程建設後，供應充足的電力，使臺灣從農業社會逐步邁向工業社會？ (A)台北郵便局 (B)日月潭發電所 (C)西部縱貫鐵路 (D)關山水力發電廠。

35、承上題，該項建設完工後，臺灣總督府以下列哪一項工業作為發展的重點？ (A)民生紡織工業 (B)食品加工業 (C)國防軍需工業 (D)生化核能工業。