

# 臺北市立新民國中 104 學年度第二學期地理科第一次段考(九年級)

範圍：非洲、大洋洲

年 班 號 姓名

## 一、選擇題：每題 2 分，78 %

1. 非洲三大盆地：(甲)剛果盆地 (乙)撒哈拉盆地 (丙)喀拉哈里盆地；由北而南排列，正確的是 (A)甲乙丙 (B)乙甲丙 (C)丙甲乙 (D)丙乙甲。
2. 「非洲地理環境多樣，族群眾多、文化及宗教多元，以伊斯蘭教為主，屬阿拉伯世界的一部分。」上文所述是指哪個地區？(A)東部非洲 (B)北部非洲 (C)南部非洲 (D)西部非洲。
3. 約自 18 世紀起，英國大量從印度、斯里蘭卡大規模輸出茶葉，自此開始打造了英國特有的紅茶文化。請問若要節省航程時間，可透過哪個路徑縮短往來印度洋與大西洋之間的時間？(A)巴拿馬運河 (B)蘇伊士運河 (C)波羅的海 (D)麻六甲海峽。
4. 附圖是史密斯在非洲旅遊時所繪製的地形景觀示意圖。請問：史密斯前往旅遊的地點最有可能位在下列哪個地區？ (A)北部非洲 (B)西部非洲 (C)南部非洲 (D)東部非洲。

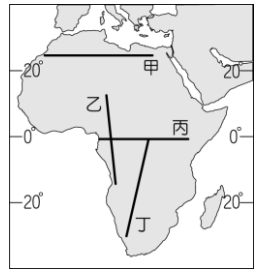


5. 「當地的居民在耕作前會先砍伐高大的樹木，再放火焚燒，形成空地，在該地上播種耕作，但耕作過程中既不施肥也不灌溉，待三、五年後即另尋新耕地……」這是阿丁在一本書上看到非洲某處居民的生活方式，請問：該地區最有可能是何處？ (A)喀拉哈里盆地 (B)北非西北部 (C)東非高原 (D)剛果盆地。
6. 過去尼羅河每年夏季定期氾濫，與流經哪個氣候區最為相關？(A)熱帶雨林氣候 (B)熱帶莽原氣候 (C)熱帶沙漠氣候 (D)溫帶地中海型氣候。
7. 附表為某四個國家對外主要的出口品清單，請由表中資料判斷，何者最可能為非洲國家？(A)甲 (B)乙 (C)丙 (D)丁。

甲	電腦、汽車、軟體
乙	鋼鐵、汽車、電子產品
丙	咖啡、可可、石油、鐵礦
丁	牛乳、小麥、鐵礦

8. 澳洲除了有無尾熊外，還有著許多野生動物，如袋鼠。請問：澳洲動物多特有種的現象，和何種特色關係最大？(A)位置孤立 (B)氣候乾燥 (C)日照強烈 (D)面積廣大
9. 非洲受到下列哪一個地形的阻擋影響，因此南北間的族群及文化上形成極大的差異？(A)東非大裂谷 (B)吉力馬札羅火山 (C)撒哈拉沙漠 (D)剛果盆地。
10. 非洲的國家族群間衝突不斷，造成政治局勢不穩定，同一國家內有許多不同族群，彼此間互相攻擊的情況屢見不鮮。請問：造成這種現象的最主要的原因為下列何者？(A)國界畫分不當 (B)語言溝通障礙 (C)宗教信仰不同 (D)種族隔離政策。
11. 澳洲在 20 世紀中開始發展工業，近年來發展的速度相當快速。請問：澳洲工業發展最大的優勢為何？(A)原料豐富 (B)勞工充足且便宜 (C)國內市場廣大 (D)鄰近世界主要市場。
12. 紐西蘭境內的北島人口較多，主要都市及首都皆位於此，因此成為該國精華區。該島有利人口分布的主要條件為何？(A)地勢平坦 (B)礦產豐富 (C)降雨豐富 (D)氣候溫暖。
13. 東非高原上的人口較沿海平原稠密，此一特點與中美洲地區相似，其主要的原因為何？(A)熱帶栽培業發達 (B)礦產資源豐富 (C)湖光山色風景美 (D)氣候涼爽宜人。
14. 「該國位於西非，主要宗教信仰為回教，石油蘊藏量豐富，是非洲主要的石油輸出國家，也是非洲人口數量最多的國家。」上文所描述的最有可能是下列哪一個國家？(A)奈及利亞 (B)南非 (C)剛果民主國 (D)埃及。
15. 希恩在課堂上做地理報告時，對非洲一條河川的一段解說是：「此河川流經熱帶雨林，蘊藏豐富的水力。」請問：希恩所介紹的是哪一條河？(A)底格里斯河 (B)剛果河 (C)尼羅河 (D)萊茵河。
16. 非洲氣候之所以南北對稱原因為何？(A)地形以高原為主體 (B)海岸陡峭平直，沿海島嶼不多 (C)赤道橫貫大陸中部 (D)面積廣大擁有全世界最大的沙漠。
17. 現今許多國際班機的飛行路線皆經過北極的上空，其主要的考量因素為何？(A)飛機航班少，降低飛安相撞威脅 (B)沿途旅客可以欣賞極區風景 (C)縮短航空哩程，節省時間與費用 (D)北極地區較少國家，沒有領空問題。
18. 關於南半球兩大重要國家的註解，有地理學家這樣說到：「澳大利亞是褐色大陸，紐西蘭是綠色島嶼。」請問：造成紐西蘭是綠色島嶼的主要原因為下列哪一盛行風？(A)東風 (B)西風 (C)東南風 (D)東北風。

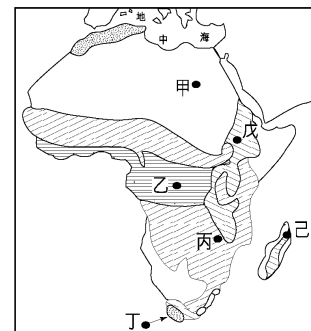
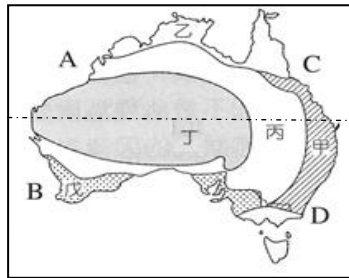
19. 南緯 40 度的緯線經過紐西蘭，紐西蘭的哪一個地理現象與其最相關？  
 (A) 山脈南北走向，多火山地震 (B) 南島河流多往東流 (C) 有「活的地形教室」之稱 (D) 盛行西風吹拂，終年溫和溼潤。
20. 右附圖為非洲簡圖，沿著圖上的哪一條路線前進，才能觀賞到最多種類型的天然植物分布景觀？  
 (A) 甲 (B) 乙 (C) 丙 (D) 丁。
21. 澳洲因為地理位置和亞洲相鄰，因此近年來積極加入亞洲的經濟圈。和下列哪一個亞洲國家的距離最近？(A) 印度 (B) 印尼 (C) 泰國 (D) 菲律賓。
22. 位於大洋洲的吐瓦魯為第一個地球環境難民國，現已經將居民陸續遷移到紐澳等國，請問：該國是受到何種自然威脅而被迫遷移？  
 (A) 海水上升淹沒陸地 (B) 地震頻繁引發海嘯 (C) 火山噴發有毒物質 (D) 雨量稀少缺乏淡水。
23. (甲) 耕地面積縮小，糧食產量減少 (乙) 氣候改變，水源供應不穩 (丙) 肥料使用增加，加重農會民負擔 (丁) 尼羅河三角洲日益退縮。上述哪些是亞斯文高壩所帶來的負面影響？(A) 甲乙 (B) 乙丙 (C) 乙丁 (D) 丙丁。
24. 小柔到國外旅遊，見到了這座被列為世界遺產的地標，便在當地拍照留念。請問：小柔所前往的地區為何？  
 (A) 紐西蘭奧克蘭 (B) 澳洲雪梨 (C) 美國夏威夷 (D) 法國蔚藍海岸。
25. 紐西蘭地形景觀豐富，同時擁有冰河和火山地形。請問：下列哪個國家也同時擁有這兩種地形？(A) 印尼 (B) 南非 (C) 西班牙 (D) 冰島。
26. 下列對於南極地區的敘述，「錯誤」的是  
 (A) 以高原地形為主 (B) 為全球最低溫地區 (C) 原住民為愛斯基摩人 (D) 其主權不屬於任何國家。



二、題組：每題 2 分，22 %

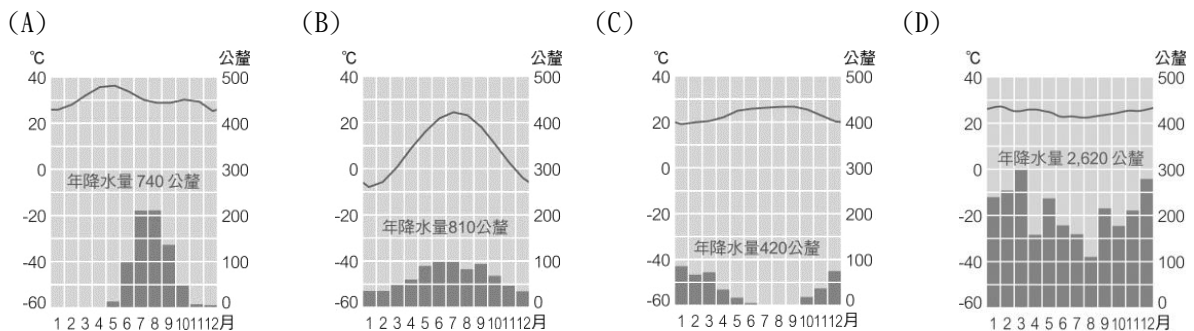
※ 左下圖為澳大利亞的氣候分布圖，請問：

27. 圖中何處為澳洲人口聚集的精華區？(A) 甲 (B) 乙 (C) 丁 (D) 戊。
28. 圖中通過澳洲本土中央的緯線最可能為下列何者？  
 (A) 赤道 (B) 北回歸線 (C) 南回歸線 (D) 南極圈。
29. 打工遊學是目現在澳洲相當熱門的旅行的方式，若小咪透過台灣仲介找到一份採收葡萄、橄欖等作物的農場採果工作，請問其工作地點最有可能在下列何處？(A) 甲 (B) 乙 (C) 丁 (D) 戊。
30. 如欲到聞名世界的大堡礁潛水，觀賞海底美景，應到圖中哪一地區？  
 (A) A (B) B (C) C (D) D。



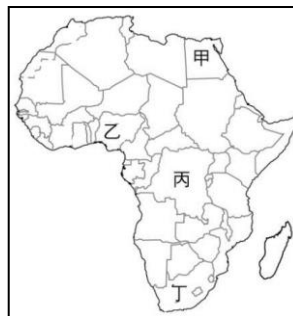
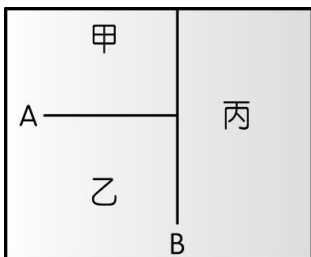
※ 右上附圖為非洲氣候分區示意圖。請問：

31. 圖中那一地區所在，為非洲氣候最宜人的氣候區？(A) 甲 (B) 乙 (C) 丁 (D) 戊。
32. 甲為沙漠地帶，造成此地乾燥少雨的原因為何？  
 (A) 距海遙遠 (B) 位於西風背風坡 (C) 位於副熱帶高氣壓下方 (D) 有暖流經過。
33. 圖中乙地之氣候，可用下列哪一氣候圖來表示？



※ 左下圖是大洋洲島群的分布位置示意圖，甲、乙、丙分別代表大洋洲三大群島，A、B 代表其分界線。請問：

34. 「A」界線與下列哪一條線相符？(A)赤道 (B)本初經線 (C)國際換日線 (D)北回歸線。  
35. 夏威夷為美國唯一地處熱帶的領土，其燦爛的陽光每年吸引相當多歐美人士到此觀光旅遊。請問：該地位於圖中哪一個島群？(A)甲 (B)乙 (C)丙。



※ 右上附圖為非洲國家分布簡圖。請問：

36. 某國是非洲經濟發展最穩定的國家，早期曾實施「種族隔離政策」而受到相當大的國際輿論壓力。請問某國應為左下圖中何者？(A)甲 (B)乙 (C)丙 (D)丁。  
37. 承上題，在右上圖中哪一國家可以看到如下面照片中的景觀？(A)甲 (B)乙 (C)丙 (D)丁。

