

一、單一選擇題：1-32 每題 3 分，33 題 4 分，共 100 分

- 1.()西部地區氣候普遍較為乾燥，這和下列哪一項因素的關係較大？
 (A)距海遙遠 (B)地勢高聳 (C)日照強烈
 (D)地處高緯。
- 2.()附圖為中國西部地區的年雨量分布圖，圖中甲地的年雨量較多，最主要的來源為何？
 (A)太平洋西南季風 (B)太平洋東南季風
 (C)印度洋西南季風 (D)印度洋東南季風。



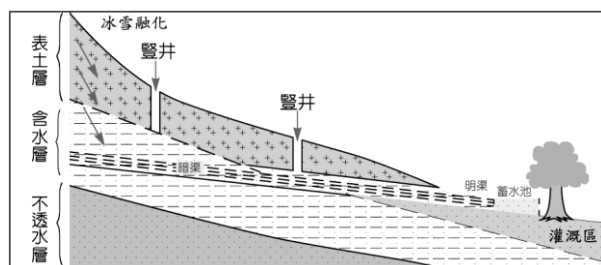
- 3.()家明前往中國西北地區旅行，親自體驗少數民族的生活，根據他在臉書上打卡的位置可以推測，他在當地所體驗到的生活可能為下列何項？
 (A)居民跳草裙舞熱烈歡迎 (B)商業熱絡的邊境貿易都市
 (C)悶熱的夜晚讓他睡不著 (D)全世界生物種類最複雜之處。



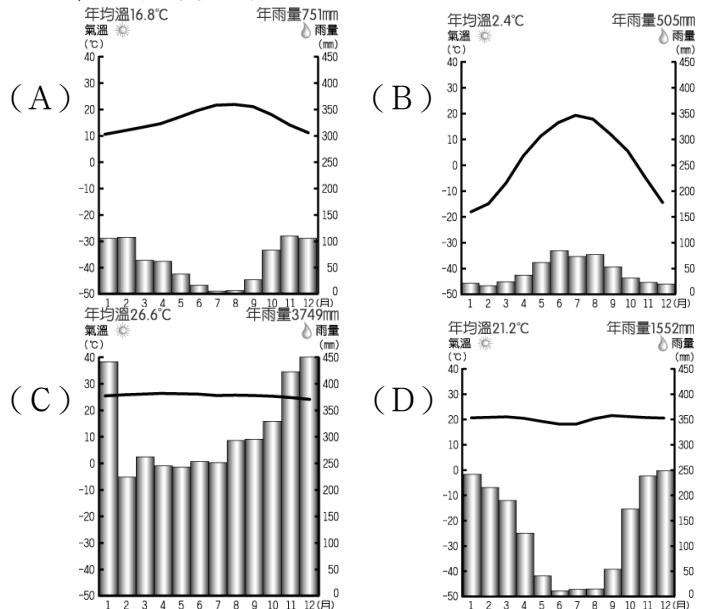
- 4.()內蒙古高原的居民主要信仰下列哪一種宗教？
 (A)伊斯蘭教 (B)天主教 (C)道教 (D)藏傳佛教。
- 5.()中國哪一個地區雖然地處內陸，但是農業活動卻相當興盛，被稱為「塞上江南」，為寧夏回族自治區的精華區？
 (A)呼倫貝爾高原 (B)西套平原 (C)塔里木盆地 (D)河西走廊。
- 6.()河西走廊的地名來自於當地的地理位置。請問：河西走廊主要是指位於下列哪條河流域以西地區？
 (A)珠江 (B)海河 (C)黃河 (D)黑龍江。
- 7.()新疆主要族群的生活作息及社會規範等，都以下列何者為依據？
 (A)古蘭經 (B)易經 (C)聖經 (D)佛經。
- 8.()韋翰到中國旅遊，見到了依賴高山雪水灌溉的綠洲農業活動，他最可能到了下列何處？
 (A)東北平原 (B)長江中下游平原 (C)塔里木盆地 (D)珠江三角洲。
- 9.()新疆的瓜果特別香甜，有「瓜果之鄉」稱號，其主

要原因為何？(A)降雨量多 (B)年溫差大 (C)地勢高聳 (D)日溫差大。

- 10.()清原想看遍世界三大洋的景觀，若只考慮下列地區與周圍海洋的關係，清原的願望在哪塊土地上才有辦法達成？
 (A)亞洲 (B)北美洲 (C)大洋洲 (D)南極洲
- 11.()柏浩到非洲行醫，來到赤道地區部落。請問：他在當地最可能見到下列哪一種植被？
 (A)針葉林 (B)混合林 (C)雨林 (D)苔原。
- 12.()某地號稱是最大的生物資源寶庫，植物和鳥類的種類占世界品種一半以上，請問該地區的緯度位置該在哪裡？(A)赤道 (B)北回歸線 (C)北極點 (D)北極圈。
- 13.()宸瑋到內蒙古旅行，號稱台灣約翰希南的他想挑戰蒙古高手，請問該參加哪項活動？(A)那達慕大會 (B)祭熬包 (C)祭成吉斯汗陵 (D)雪頓節。
- 14.()喜馬拉雅山脈是世界海拔最高的山脈，位於亞洲的中國與尼泊爾之間，其形成與哪一板塊撞上歐亞大陸板塊有關？(A)印澳板塊 (B)非洲板塊 (C)南美板塊 (D)北美板塊。
- 15.()附圖為中國某地區農業活動的取水示意圖，該地區最可能位於中國境內何處？
 (A)兩湖盆地 (B)東北平原 (C)黃土高原 (D)塔里木盆地。

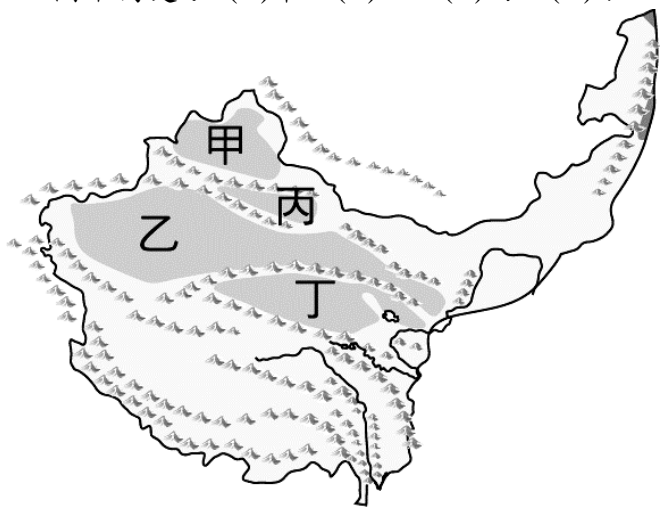


- 16.()下列關於溫帶海洋性氣候的特性中，何者正確？
 (A)西南季風帶來水氣 (B)氣候較乾燥少雨
 (C)年溫差較大 (D)全年有雨秋冬偏多。
- 17.()下列為世界不同類型的氣候圖，其中哪一個為典型的溫帶地中海型氣候？

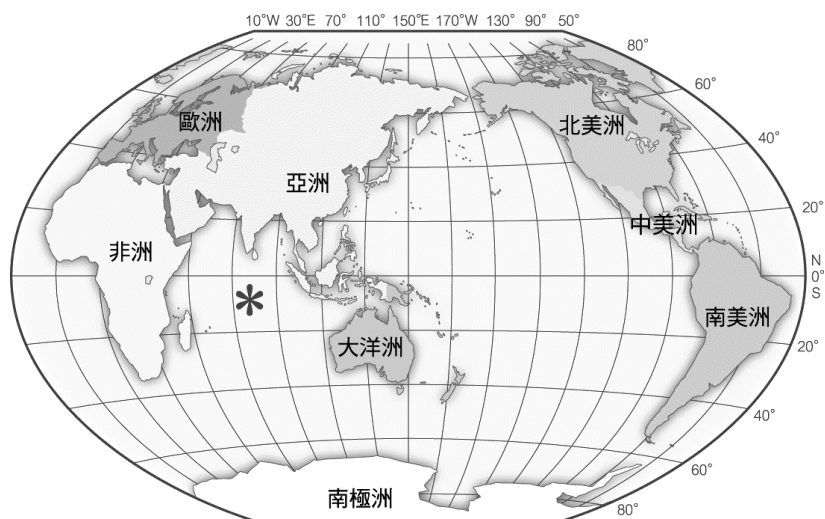


班級： 座號： 姓名：

- 18.()柴達木盆地有「聚寶盆」之稱，是形容當地具有下列哪種優勢？
 (A)農業發達 (B)森林茂盛 (C)礦產豐富 (D)商業發達。
- 19.()附圖為中國西部區域簡圖，中國最廣的沙漠位在圖中何處？(A)甲 (B)乙 (C)丙 (D)丁



- 20.()「從崑崙山北望，□□橫峙在地平線的盡頭，眼下的大沙盆圈綴著肥美的綠洲，維吾爾的歌聲中夾雜著葡萄和自然的芳香。」上述空格中應填入下列哪座山脈？
 (A)祁連山 (B)天山 (C)長白山 (D)岡底斯山
- 21.()「朝穿皮襖午穿紗，抱著火爐吃西瓜」是形容新疆地區的哪種特性？
 (A)冬季寒冷 (B)降水量豐沛 (C)溫差很大 (D)多颱風
- 22.()坎井工程的設計主要考慮的因素為何？
 (A)順應當地複雜的地形 (B)防止水分蒸發的損失 (C)防止水土流失 (D)增加灌溉的安全性
- 23.()發展出「逐水草而居」與「山牧季移」兩者不同移牧方式的主要原因為何？
 (A)緯度 (B)地形 (C)氣候 (D)水文
- 24.()中國西部區域自然條件雖然較差，但蘊藏豐富的再生能源。下列哪種能源在當地不具開發利用的價值？
 (A)潮汐能 (B)太陽能 (C)地熱能 (D)風力能
- 25.()到阿拉伯旅遊時，菜單中不會出現下列哪種菜？
 (A)豬肉堡 (B)牛肉堡 (C)鮮魚堡 (D)雞腿堡
- 26.()世界陸地與海洋的面積比大約是多少？
 (A)3：7 (B)6：4 (C)4：6 (D)5：5
- 27.()附圖中標註「*」的海域名稱是什麼？



- (A)大西洋 (B)印度洋 (C)太平洋 (D)北極海
- 28.()藏南縱谷的谷底氣候較為溼熱，適合發展農業活動。請問：根據當地的環境特色判斷，該地區主要生產下列哪一項糧食作物？
 (A)甘藷 (B)玉米 (C)稻米 (D)青稞。
- 29.()地球上主要陸地的中心點稱為陸半球中心，位於下列哪一個國家境內？(A)美國 (B)巴西 (C)英國 (D)法國。
- 30.()青藏高原受到地勢高的影響，因此當地呈現何種自然環境現象？
 (A)沙漠 (B)礫漠 (C)寒漠 (D)岩漠。
- 31.()東南亞地區許多傳統建築以高架的方式建造，如右圖所示，請問該屋架高的主要原因是為了適應地何種氣候？
 (A)氣壓偏低 (B)寒漠遍布 (C)高溫多雨 (D)乾燥少雨。
- 32.()河西走廊以其狹長的地形特色而著名，該地區主要的地形為下列何者？
 (A)地塹 (B)冰蝕 (C)風積 (D)河積。
- 33.()歐亞大陸為世界最為廣大的陸塊，其中心點正好位於中國的哪一個地區？
 (A)青藏高原 (B)河西走廊 (C)內蒙古高原 (D)新疆。

