

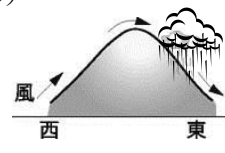

臺北市立新民國中 104 學年度第二學期地理科第三次段考 (七年級)

範圍：5 - 6 章

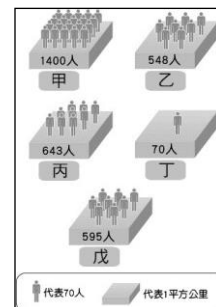
年 班 號 姓名

一、選擇題：每題 3 分，66%

- 宜蘭縣自從哪一條高速公路通車後，交通往返的時間縮短，純樸的環境吸引大量遊客，讓外地人體驗鄉村生活的民宿便因應而生，也活絡了地方的觀光產業？
(A)蘇花高速公路 (B)蔣渭水高速公路 (C)中山高速公路 (D)福爾摩沙高速公路。
- 屏東縣的海岸線相當優美，每年均吸引眾多遊客前往，成為地方政府重要的觀光收入來源。請問：屏東縣境內的墾丁國家公園以何種海岸地形聞名？
(A)平直柔細的沙岸 (B)美麗的珊瑚礁岸 (C)雄偉壯觀的斷層海岸 (D)蜿蜒的岬灣海岸。
- 臺灣東部又稱「後山」，早期被視為化外之地，發展較晚，直到沈葆楨抵臺才開始大規模開發。造成上述特徵的主因為何？ (A)山脈阻隔 (B)河川阻隔 (C)氣候不佳 (D)水源不足。
- 根據行政院主計處公布的「西元 2013 年家庭收支調查」結果顯示，臺灣家庭平均每戶收入為新臺幣 114 萬元，臺北市以 154.5 萬元居冠，新竹市 153.5 萬元居次，新竹縣 134.7 萬元位居第三。而平均每戶可支配所得為 94.2 萬元，仍以臺北市、新竹市和新竹縣囊括前三名。請問：除了臺北市外，新竹縣市所得收入高的原因主要為何？
(A)高單價農產品輸出 (B)高科技產業的進入 (C)服務業比例全臺第一 (D)重工業發展基地。
- 臺灣的高速公路系統獨缺東部區域，因此當地人士提議興建高速公路，以促進經濟發展、繁榮地方產業，但卻屢受環保人士反對。請問：若開闢蘇花高速公路勢必會破壞哪一座山脈的生態系統？
(A)雪山山脈 (B)中央山脈 (C)海岸山脈 (D)玉山山脈
- 臺南市七股區的鹽田景色，向來有熱帶雪景的美稱。臺灣南部的製鹽產業曾經十分發達，除了當地擁有平直廣闊的海岸外，同時具有哪項特色？ (A)勞動人口眾多 (B)海水品質優良 (C)氣候夏雨冬乾 (D)傳承日本技術。
- 「 縣自民國 103 年 12 月 25 日起升格為直轄市，正式成為第六都。從基本面來看，此地人口早在 2010 年超過 200 萬人，成長幅度更在 2012 年超過臺北市；目前此地將定位為『機場城市』，藉由航空城計畫向國際化城市前進。」請問： 指的是何處？
(A)新竹 (B)桃園 (C)宜蘭 (D)苗栗。
- 臺灣的區域發展不均，將成為未來發展的隱憂。附圖為臺灣主要人口聚集區的分布狀況。請根據圖中資料判斷，人口聚集最多的地區最可能擁有下列何項優越條件？
(A)地形較平坦 (B)稻米產量豐 (C)氣候較溫暖 (D)產業較發達。
- 臺灣東部區域風景秀麗，人口外移卻十分嚴重，要減緩當地人口外移的情形，應朝何項目標努力？
(A)加強汙染防治 (B)鼓勵婦女生育 (C)增加區域內國宅 (D)創造就業機會。
- 想找桐花五月雪，就到苗栗走一走。苗栗油桐花季已經成當地的特色活動，來到此地可以順便品嚐當地特有的擂茶、菜包，聽聽山歌民謠。早期此地的先人來到臺灣，選擇與原鄉環境相似的丘陵、淺山地帶，從事伐樟、種茶等經濟活動，過著刻苦辛勞的生活。請問：苗栗獨特的文化特色主要來自於哪一族群？
(A)噶瑪蘭族 (B)客家人 (C)閩南人 (D)西拉雅族。
- 苗栗和南投兩縣的工商業發展較其他中部地區的縣市遲緩，主要是受到何種因素的限制？
(A)氣候溼冷日照不足 (B)地形影響交通發展 (C)土地資源條件不佳 (D)政策選擇限制投資。
- 促使雲林縣全力從事蔬菜栽培的農業發展，其主要原因的為何？
(A)山坡地的開發 (B)交通改善 (C)發現大量的地下水資源 (D)農村人口的回流。
- 中部地區為臺灣重要的稻米生產地，最主要是因為該地區有哪一條河川經過，因此灌溉水源相當豐富？
(A)淡水河 (B)曾文溪 (C)濁水溪 (D)蘭陽溪。
- 花蓮地區主要以原料取向的工業活動為主，目前該地區最發達的工業類型有：(甲)水泥工業 (乙)鋼鐵工業 (丙)大理石工業 (丁)石化工業。以上正確的為 (A)甲乙 (B)丙丁 (C)甲丙 (D)乙丁。
- 假日時，住在花蓮的阿娟，坐上行走於臺東縱谷平原的火車，要到臺東的阿姨家玩。此時，她坐在面向南方的座位上。請問：在阿娟右手邊的是哪一座山脈？
(A)海岸山脈 (B)玉山山脈 (C)中央山脈 (D)雪山山脈。
- 臺東位於夏季盛行的季風的背風坡，常有「焚風」出現，下列哪一圖形最適宜用來說明臺東焚風的發生？
(A) (B) (C) (D)



17. 臺灣實施國土綜合開發計畫，最主要的目的是什麼？
 (A)提高國民所得 (B)縮小城鄉間及地區間的差距 (C)促進工業轉型 (D)帶動整體經濟升級。
18. 如果政府決定在臺灣東部設立一所全國性的超大型醫院，最重要的原因應是
 (A)東部地區的患病率較高 (B)東部地區的醫療消費能力較高
 (C)臺灣地區人口有向東部集中的趨勢 (D)減少區域間醫療資源的差距。
19. 下列哪一項建設「較不能」達到均衡區域發展的目的？
 (A)各縣市廣設大學 (B)故宮博物院於南部設分院
 (C)興建高速鐵路 (D)都市內興建捷運系統。
20. 臺灣東部區域，地方建設較緩慢，且有人口外流、勞動力老化現象，其主要影響因素為何？
 (A)居民居住環境品質較差 (B)工商業發展較遲緩
 (C)環境受到污染和過度擁擠 (D)自然生態的破壞。
21. 右附圖代表臺灣五大區域的人口密度示意，圖中丁的人口密度最低，應為哪個地區？
 (A)中部 (B)南部 (C)東部 (D)金馬 地區。
22. 當中為了縮小城鄉差距，政府推動「一鄉一特色」的策略，以發展地方產業。下列特色產業和產地做連結何者正確？
 (A)苗栗三義：陶瓷 (B)臺東：黑鮪魚 (C)苗栗大湖：草莓 (D)屏東東港：釋迦。



二、整合題：每題 2 分，34%

※ 左下圖為臺灣行政區地圖，請問：

23. 右附圖為北回歸線紀念碑標誌，依此判斷，圖中所在最可能為哪一個縣市？
 (A)乙 (B)丙 (C)己 (D)庚。
24. 哪一個都市境內除了 50 年代的加工出口區外，又設立鋼鐵、石化、造船等重工業的臨海工業區，是全臺最大的重工業重鎮？
 (A)甲 (B)乙 (C)丙 (D)丁。
25. 中國大陸觀光客來臺最受歡迎的景點為日月潭，為當地的觀光業帶來新的發展動力。請問：日月潭位於中部地區的哪一個縣市？ (A)甲 (B)丁 (C)戊 (D)己。
26. 臺灣開放部分中國觀光客來臺後，阿里山為觀光客最想參觀的地點。請問該山脈位於下列哪一個縣市中？
 (A)甲 (B)乙 (C)丁 (D)己。
27. 昔日「一府二鹿三艋舺」中的哪一個都市，因曾居全臺政治、經濟中心，至今仍遺留有一些古蹟、歷史建築，以及保有傳統古風，故而被稱「文化古都」？ (A)甲 (B)乙 (C)丁 (D)己。
28. 「這個地區為臺灣本島人口最少的縣，但卻擁有豐富的自然美景及人文景觀，如三仙臺、小野柳、卑南文化遺址及長濱文化遺址等。此外，池上米、鳳梨釋迦、金針花等，都是當地的特產。」請問：上文所描述的最可能是下列哪個縣市？ (A)戊 (B)己 (C)庚 (D)辛。



※ 右上附圖為臺灣及其鄰近島嶼位置圖。請問：

29. 涵雅對達悟族的飛魚祭、半穴式住屋，拼板舟等相當有興趣，如果她想要親身體驗當地的風土民情，必須到哪裡才行？ (A)甲 (B)丙 (C)丁 (D)戊。
30. 依照各島嶼的環境研判，附圖中何者降水量最少？
 (A)甲 (B)乙 (C)丙 (D)丁。
31. 「世界罕見的海底溫泉，以及壯闊的海景令人流連忘返。」請問上文所述的地點應該為下列何者？ (A)甲 (B)丙 (C)丁 (D)戊。
32. 在哪一個離島可以看到左下照片中的景觀？ (A)甲 (B)乙 (C)丙 (D)丁。



33. 靖倫看見節目介紹一頭威風凜凜的石獅像（如右上圖），稱作「風獅爺」，係為某個地區特有的景像。請問：該地區位在何處？ (A)甲 (B)乙 (C)丙 (D)戊。

※ 臺灣內因各地特色的不同而分為北、中、南、東及金馬五大區域，請問：

34. 下列哪一項是描述臺灣「北部區域」的發展特色？
(A)全臺以鋼鐵及石化等工業為主的地區 (B)全臺人口最集中、人口密度最高
(C)臺灣主要稻米、蔬果及花卉產區 (D)為臺灣自然及生態資源最豐富的地區。
35. 「每到重要節慶時，就會出現臺鐵預購車票被秒殺的空前盛況，尤其是此區域的在外遊子，更是買不到回鄉的車票；受到颱風嚴重衝擊時，此區域對外的公路也易中斷，使得旅客受困。因此，若需改善此區域的經濟發展，首要條件就是交通。」請問：上述為臺灣哪個區域的情況？
(A)東部區域 (B)北部區域 (C)中部區域 (D)南部區域。
36. 「沿海地區的沙岸上盛行養殖漁業活動。而且一根根煙囪提醒著臺灣境內最重要的重工業也在此區」。根據上文敘述，該區域應該為下列何者？
(A)北部地區 (B)中部地區 (C)南部地區 (D)東部地區。
37. 在臺灣「國土綜合開發計畫」中，哪一區域以「注重環境生態保育，發展觀光及低汙染產業」為重點？
(A)北部區域 (B)中部區域 (C)南部區域 (D)東部區域。
38. 金門、馬祖地區因位居外島，發展不若本島快速。若要提升金馬地區的經濟發展，應先朝下列哪個方向進行較為適合？
(A)建設高速鐵路 (B)提高民眾識字率 (C)加強基礎建設 (D)推動高科技產業。
39. 左下附圖為臺灣四大區域的 15 歲以上人口高等教育比例圖，其中甲區域最可能為下列何者？
(A)北部區域 (B)中部區域 (C)南部區域 (D)東部區域。

