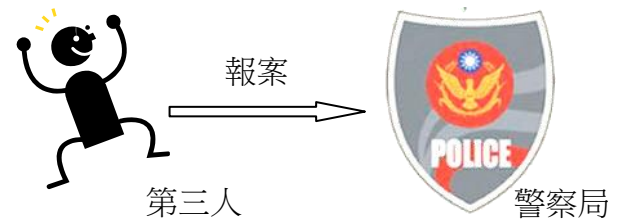


**【選擇題】共 40 題，每題 2.5 分。**

1. 路過的芯如在街上遇到歹徒正在搶一位少婦的包包，趕緊幫忙打電話報警，此行為在法律上稱為

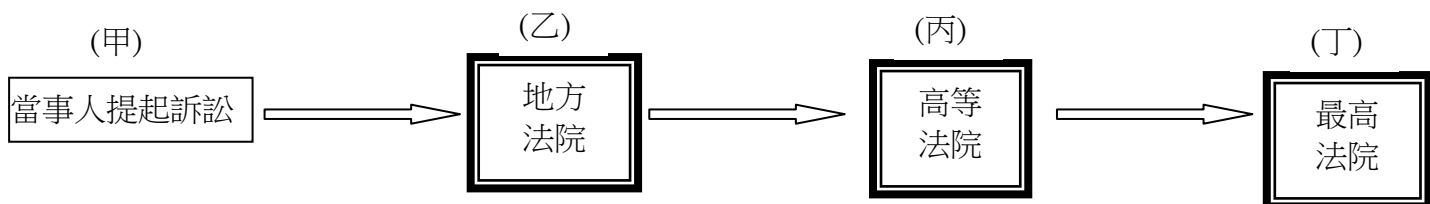
- (A)公訴 (B)自訴 (C)告訴 (D)告發。



2. 家明擅自在網路論壇非法下載還在熱映的電影《走音天后》(Florence Foster Jenkins)，並將影片檔案分享給其它同學觀賞，請問此行為違反哪一法律的規範？

- (A)商標法 (B)著作權法 (C)勞動基準法 (D)消費者保護法。

3. 芸菁工作多年後，存夠積蓄買了新房，陸續發現天花板會漏水、馬桶易堵塞狀況，多次跟建商協議皆談判不成，決定提起訴訟要求建商賠償新台幣 100 萬元。下圖訴訟程序中，哪一個部分不可能發生？



- (A)甲 (B)乙 (C)丙 (D)丁。

4. 瑋捷家住台東市，如果他與人有債務的糾紛，但不想打官司，可以選擇到何處設置的調解委員會聲請調解？ (A)台東市政府 (B)台東市公所 (C)台東地方法院 (D)台東市民代表會。

5. 為了維護人權，一個人在未定罪前，都應是無辜的。根據這個概念，下列何者是法律上認為「有罪之人」？ (A)被檢察官約談的人 (B)被警察逮捕的人 (C)被暫時羈押在看守所的嫌犯 (D)被法院判決確定入監服刑的人。

6. 下表為郁豪在公民課所整理出有關《少年事件處理法》的內容，請問：有哪一部分有誤需要修改？

(A)項目	(B)情節狀況	(C)案件類型	(D)審查結果
少年保護事件	較輕	本刑 5 年以上	保護處分
少年刑事案件	較重	本刑 5 年以下	刑罰制裁

7. 下列四位司法人員職業的說明，何者錯誤？

(A) 我是擔任提解人犯事務的書記官。

(B) 我是負責偵查起訴犯罪的檢察官。

(C) 我是依法獨立審判案件的法官

(D) 我是為當事人權益進行辯護的律師

8. 以下四種事件中，何者是以「訴訟外和解」的途徑來解決紛爭？ (A)科技公司與新進雇員訂定書面協議，約定未來的勞資糾紛交付專門經驗之人處理 (B)深夜裡有人在巷口喧鬧不停，附近住戶報警處理 (C)樓上漏水，與樓下住戶達成支付修繕費的契約 (D)夫妻想離婚，到公所由熟諳法律的公正人士先進行協調。

9. 「我家超商」為了因應暑假來臨急著招募符合《勞動基準法》童工資格的工讀生，下列來應徵的四個人，何者符合超商需求？

(A) 我小學剛畢業

(B) 我滿 15 歲，國中畢業了！

(C) 23 歲大學畢業

(D) 想換工作的 30 歲職員


10. 右列是北投區公所調解委員會服務網頁的部分內容。請依此判斷，下列敘述何者正確？

(A) 調解委員會是依據《法律扶助法》而成立  
 (B) 調解委員會可以調解所有性質的爭議事件  
 (C) 調解委員扮演公正第三人的協調角色  
 (D) 調解成立僅具有民法的契約效力。

本區調解會係由區內具法律知識，素孚信望的地方公正人士所組成，為區民排難解紛，避免訟爭，如有紛爭，請多加利用。

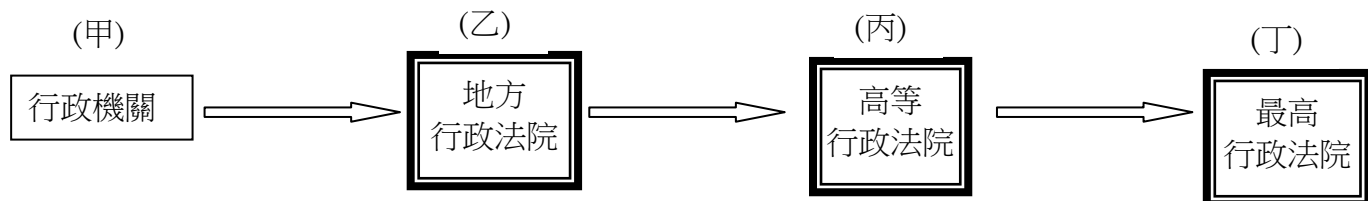
11. 記者：「請問你可以透露一些這個案件的案情嗎？」

芳辰：「我代表國家追訴犯罪，依偵查不公開原則，目前不便回答你的問題。」  
 根據上述內容判斷，關於芳辰的角色，下列敘述何者正確？



(A) 依法可作出不起訴的處分 (B) 可直接向法院對被告提出自訴  
 (C) 主要的職權是依法作出判決 (D) 為被告進行辯護亦屬於她的職責。

12. (2016/05) 據報導：「中油公司未將夜點費計入工資計算，對勞工退休金、加班費等計算上，長期有不利影響，已遭高雄市勞工局連續開罰 10 餘次仍未改進，這次重罰 150 萬元。」依法，中油若不服處分，依規定可進行相關的救濟程序，下圖中，哪一個程序不可能發生？



(A) 甲 (B) 乙 (C) 丙 (D) 丁。

13. 已滿 14 歲的阿翔經常逃學、逃家，並常常出入網咖，無正當理由攜帶刀械。請問：依少年事件處理法阿翔會受到何種處罰？ (A) 阿翔不會受到任何處罰 (B) 阿翔為完全責任能力者，將以刑罰處罰  
 (C) 阿翔的情形會以刑事案件起訴 (D) 阿翔的情形會以保護處分事件處理。

14. 少年法庭若認為少年犯罪情節輕微，可以免除刑罰，而讓少年接受保護處分，請問：下列那些保護處分是由「少年保護官」執行？(甲) 訓誡(乙) 假日生活輔導(丙) 保護管束(丁) 安置輔導 (戊) 感化教育  
 (A) 甲乙 (B) 乙丙 (C) 丙丁 (D) 丁戊。

15. 網路為我們的生活帶來便利性，但也因其匿名性，使網路上的行為不易約束，因此《刑法》增訂了妨害電腦使用罪以為因應。請問：下列何種行為最有可能違反「妨害電腦使用罪」？ (A) 將經過移花接木電腦後製的同學照片張貼在臉書上 (B) 發表散布雞排店使用病死雞肉的不實消息，破壞其商譽  
 (C) 在網路討論區散布猥褻圖片與援交訊息 (D) 冒用同學的帳號登入網路遊戲，竊取珍貴裝備。

16. 佳星在朋友的慫恿下，一時衝動在商店偷東西，被店員發現報警處理，檢察官查明實情後，依法提起公诉，佳星知道事情嚴重後，趕緊向律師尋求法律諮詢。針對這次偷竊案件的訴訟官司，律師最不可能提供佳星下列哪一項建議？ (A) 偷竊屬於「非告訴乃論」案件 (B) 此刑事訴訟程序可因在法庭上和解而終止 (C) 店家可請求附帶民事賠償 (D) 法官可依偷竊罪判五年以下有期徒刑、拘役或五百元以下罰金。

17. 右圖是每日報的新聞版面，這二則新聞內容中的事件具有某一項共同點。根據圖中內容判斷，下列何者應是上述所指的共同點？



(A) 皆僅能由被害人告發案件  
 (B) 皆適用《少年事件處理法》  
 (C) 二案皆可經由調解程序解決  
 (D) 加害人皆可能負起刑事責任。

【103 特招】

18. 有關我國刑事訴訟的程序，請選出正確敘述。

(甲) 採公訴自訴並行的制度 (乙) 任何犯罪行為需經過告訴或告發程序後，檢察官始能進行偵查 (丙) 未成年的犯罪被害人須委由法定代理人向法院提起自訴  
 (丁) 採三級三審制 (A) 甲丙 (B) 甲丁 (C) 乙丙丁 (D) 甲乙丙丁。

19. 下列四人所描述的事件中，何者是以「仲裁」的方式來解決？ (A) 上哲：「我和鄰居發生口角衝突，去找調解委員來評理。」 (B) 路得：「深夜裡有人喝酒鬧事，附近鄰居報警處理。」 (C) 承慶：「兩家公司因合約糾紛，相約法院見。」 (D) 紫蓉：「公司通知新進人員，將來發生勞資糾紛，須依約採此種方式解決。」

尚有另一頁題目

20. 右表有關我國三種訴訟中，正確敘述有幾項？  
 (A)3 項 (B)4 項  
 (C)5 項 (D)6 項。

	民事訴訟	刑事訴訟	行政訴訟
程序	(甲)採三級三審制，最高級在最高法院	(乙)採三級三審制，最高級在最高法院	(丙)採三級三審制，最高級在最高行政法院
限制	(丁)民事給付未超過 100 萬元者只能權利救濟到高等法院	(戊)犯罪行為較輕微的只能權利救濟到高等法院	(己)訴願不成才可提起行政訴訟

21. 鈺陵某日參觀法院，發現法庭內有法官三人，檢察官、書記官、律師各一人。請問該法庭最可能正在審理何種案件？  
 (A)嫌犯街上搶奪婦人財物  
 (B)要求房客給付欠繳租金  
 (C)夫妻離婚並爭奪小孩的監護權  
 (D)不服公平會罰鍰處分。

22. 下列關於法官、大法官的比較何者正確？  
 (A)大法官與法官皆是終身職 (B)法官負責偵查與追訴犯罪  
 (C)大法官與法官皆隸屬於司法院管轄 (D)法官同時有審理正副總統彈劾案的權力。

23. 柏睿上網購買行動電源，匯款後賣方卻沒交貨，訊息已讀不回，柏睿憤而決定到法院提起民事訴訟。下列關於「民事訴訟」制度的敘述，何者正確？  
 (A)第一審法院為柏睿的戶籍所在地法院 (B)檢察官知道有人民權利受侵害時，可以立即偵辦，調查證據  
 (C)需由當事人自行主張有利之證據，法官不會主動提供證據 (D)提起民事訴訟的方式有「自訴」和「公訴」兩種。

24. 為了讓誤入歧途的少年有改過向善的機會，我國法律對於少年犯罪的審判也與一般成年犯不同。下列有關少年犯罪的審判原則敘述何者有錯？  
 (A)媒體不可刊登或播出少年照片 (B)不可公開少年全名  
 (C)為求公平，少年審判過程可公開 (D)原則上盡量以教化代替處罰。

25. 右圖之(丙)中，主要指的是違反下列哪一項法律？【103 會考】  
 (A)《刑法》  
 (B)《少年事件處理法》  
 (C)《家庭暴力防治法》  
 (D)《兒童及少年福利與權益保障法》

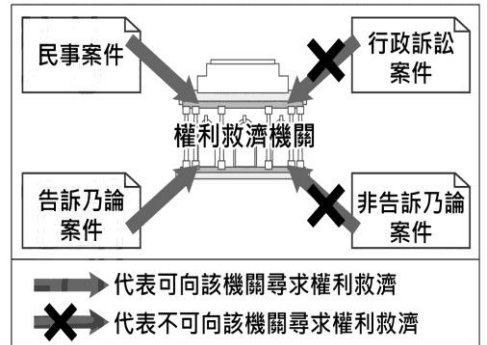


26. 請判斷①②③依序應為何種救濟方式？

救濟途徑	民事糾紛	告訴乃論的刑事案件	非告訴乃論的刑事案件	效力同確定判決
①	✓	✓	✓	✓
②	✓	✓	✗	✓
③	✓	✓	✗	✗

- (A) 訴訟、調解、訴訟外和解 (B) 訴訟、訴訟上和解、仲裁  
 (C) 訴訟、仲裁、訴訟上和解 (D) 調解、仲裁、訴訟外和解。

27. 右圖是上公民課時使用的教具，根據圖中的相對關係判斷，該「權利救濟機關」應為下列何者？  
 (A)台北地方法院 (B)台中高等行政法院 (C)大安區公所調解委員會  
 (D)臺北市訴願委員會。



28. 小韓無意間涉入一起珠寶竊案而遭檢察官約談，雖然案件仍在調查階段，但因媒體的報導，使小韓飽受朋友及路人的異樣眼光，他不平地認為社會上的法治素養實在有待加強。上述小韓指的法治素養最可能是下列何者？【105 會考】  
 (A)告訴乃論之罪，司法人員不得主動追究 (B)人民不分貧富貴賤，犯罪就要依法處罰  
 (C)法律未明定處罰的行為，不得任意處罰 (D)未經法官判決有罪確定前，應視為無罪。

29. 右圖為我國某地區在一段期間內發生的各類訴訟案件統計結果。根據圖中資料判斷，下列哪一項推論最合理？【105 會考】  
 (A)提起公訴的案件可能為 45 件 (B)提起公訴的案件可能為 50 件  
 (C)可以調解的案件可能為 126 件 (D)可以調解的案件可能為 162 件。

**各類訴訟案件統計結果**

1. 民事案件 145 件
2. 刑事案件 42 件
3. 行政案件 8 件

我國保護兒童及少年相關法規如下：

(A)兒童及少年福利與權益保障法 (B)兒童及少年性剝削防制條例 (C)勞動基準法 (D)少年事件處理法

**\*以上述選項回答第 30-33 題。**

30. 17 歲的小明組成以販售自畫符咒的幫派，與成員到處要脅他人高額價格購買。
31. 便利商店老闆拒絕 15 歲的欣恩應徵大夜班工作。
32. 12 歲的阿智在爸爸的教導下學會喝酒及吸菸的惡習。
33. 16 歲呼呼妹為了購買名牌包包和潮衣，上網發出願意援交訊息。

**【2016/6/13 自由時報】**苗栗縣黃姓女子把汽車停在竹南鎮公有停車場內紅線處，被警方依《道路交通管理處罰條例》開單罰 900 元；黃女認為，公有停車場不屬於道路範圍，提出行政訴訟。苗栗地院採納黃女理由，撤銷監理單位對黃女的處分；苗栗監理站表示，已備妥相關資料，將再上訴。

34. 上述黃姓女子被裁罰的罰款屬於何者？(A)民事賠償 (B)罰金 (C)罰鍰 (D)沒收。
35. 黃姓女子提出行政訴訟前，依法應先採下列何種方式進行權利救濟？  
(A)向警察機關提出請願 (B)向高等法院提出上訴  
(C)向訴願管轄機關提出訴願 (D)向高等行政法院提起訴訟。
36. 從上文得知，苗栗監理站對苗栗地方法院的判決不滿意，依法再上訴的機關為？  
(A)最高行政法院 (B)高等法院行政庭 (C)高等行政法院 (D)最高法院行政庭。
37. 上文的訴訟過程中，法庭上不會出現下列何種穿著的人物？  
(A)黑袍紫邊 (B)黑袍白邊 (C)黑袍藍邊 (D)黑袍黑邊。
38. 行政訴訟的法院審級應該為何？  
(A)三級二審制 (B)三級三審制 (C)二級二審制 (D)二級三審制。

**【2016/6/10 中央社綜合整理】**一位自稱公民記者的洪姓女子，日前在高雄 228 紀念公園辱罵老榮民是「不要臉的中國難民」，相關影片流傳後引發外界公憤，洪女事後聲稱是該位老榮民先挑釁她的，但有法界人士看過相關影片，片中辱罵的聲音很清楚，在眾人可共同見聞的場合情況下，以非事實的不雅言語進行精神上的損害或污辱，已涉及刑法(甲)罪，且謾罵他人「不要臉」，使網路不特定人得以觀看，實質上也構成(甲)罪，此罪屬「告訴乃論」…。

39. 根據上文中得知，洪姓女子的行為可能已構成下列何種犯罪？  
(A)妨害電腦使用罪 (B)公然侮辱罪 (C)妨害風化罪 (D)公共危險罪。
40. 文中提及(甲)罪屬於「告訴乃論」。亦即上述罪行，下列何者有權決定是否要提出告訴？  
(A)法官 (B)警察 (C)被害人 (D)檢察官。

試題完成 恭喜同學 暑假愉快平安

~公民知識與時事生活結合，恭喜同學完成八年級這一年政治與法律非常札實的公民教育！  
暑期勿只有開心玩樂，記得「哪兒有勤奮，哪兒就有成功」、「讀書是一件不斷奮鬥的事」  
暑假回來後，新民「**最老**的老生們」！準備接受經濟學的震撼吧~