

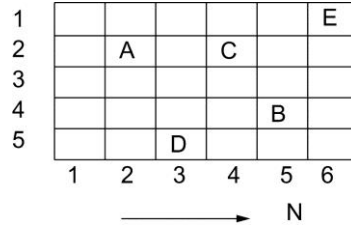
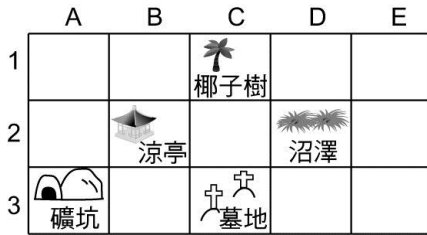
臺北市立新民國中 105 學年度七年級第一學期地理科第一次段考

範圍：位置與範圍、地形

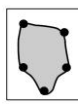
年 班 號 姓名

一、單選題：每題 3 分，共 78 分

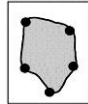
1. 左下附圖是一網格，附圖中有多種景觀。請問：(C, 3)所在的網格是下列哪種景觀？
 (A)礦坑 (B)墓地 (C)椰子樹 (D)沼澤。



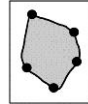
2. 右上附圖為一張簡易地圖。請問：圖中 B 位於 A 的何方？ (A)東南方 (B)西南方 (C)東北方 (D)西北方。
 3. 「臺灣鐵人」林義傑參加橫越撒哈拉沙漠比賽，在沙漠中他攤開 1/50,000 比例尺的地圖，利用隨身攜帶的尺量得離他所要到的地點有 8 公分，請問：他還要跑多少公里才會到達目的地？(A)4 公里(B)8 公里(C)10 公里(D)12.5 公里。
 4. 下列哪一敘述是在說明「相對位置」？ (A)新民國中位於逸仙國小上方 (B)麥當勞在新生路與延平路交會處 (C)小燕坐在第 2 排第 3 列 (D)新光三越大樓位於(121.51°E, 25.04°N)。
 5. 下列四個假想島嶼地圖，依比例尺判斷，何地的面積最大？



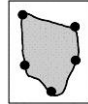
(A) 1:10000



(B) 1:5000

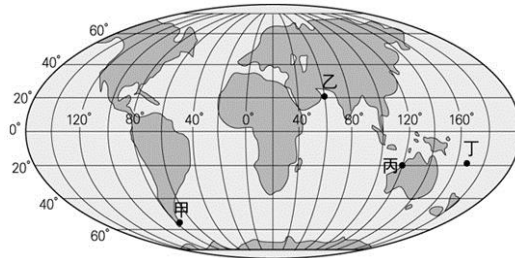


(C) 1:2500

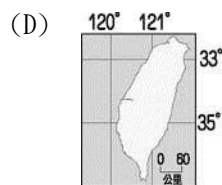
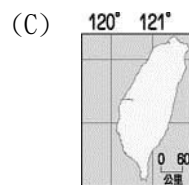
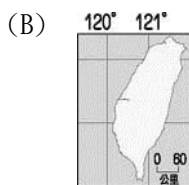
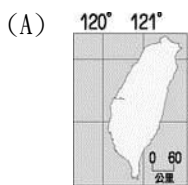


(D) 1:1000

6. 以下是北京、倫敦、雪梨、新加坡四個都市的經緯度位置，哪個都市位於熱帶地區？
 (A)北京 (116°E, 40°N) (B)倫敦 (0°, 51°N) (C)雪梨 (151°E, 33°S) (D)新加坡 (103°E, 1°N)。
 7. 下圖為世界地圖。請問：圖中何地與臺灣地區沒有時差？(A)甲 (B)乙 (C)丙 (D)丁。

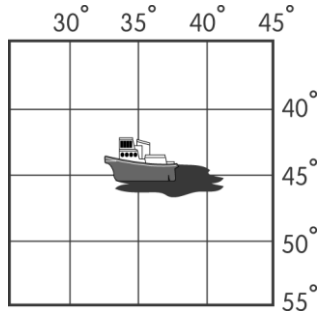


8. 下列關於地球經、緯線的敘述，何者正確？
 (A)0°緯線又稱國際換日線 (B)經線皆為南北正向 (C)所有經線互相平行 (D)所有緯線皆等長。
 9. 701 班教室後方貼有：(甲)北投區 (乙)臺北市 (丙)臺灣省 (丁)中國大陸四張地圖，其圖幅大小相等，則其中比例尺最小的是哪一張？(A)甲(B)乙(C)丙(D)丁。
 10. 臺灣省正確的經緯度位置是：

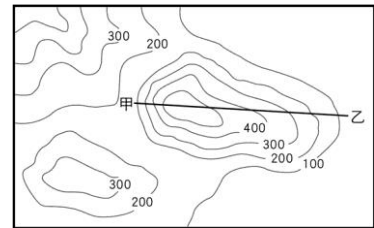
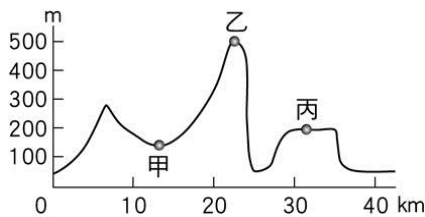


11. 住在臺北的小強明想觀賞他的偶像 KOBE 在洛杉磯(120°W 時區)主場的比赛，比賽時間為當地時間 10 月 6 日 18 時舉行，若小強想要「準時」收看實況轉播，應該在何時收看？ (A)6 日 2 時 (B)6 日 18 時 (C)7 日 7 時 (D)7 日 10 時。
 12. 下列哪些地方屬於臺灣所管轄範圍？ (甲)東沙島 (乙)太平島 (丙)琉球群島 (丁)帛琉群島 (戊)澎湖群島。
 (A)甲乙丙 (B)甲乙戊 (C)乙丙丁 (D)丙丁戊。
 13. 改變地表形貌的力量，可分為外營力與內營力，下列何者屬於內營力？
 (A)河流侵蝕 (B)河流堆積 (C)海水侵蝕 (D)火山活動。

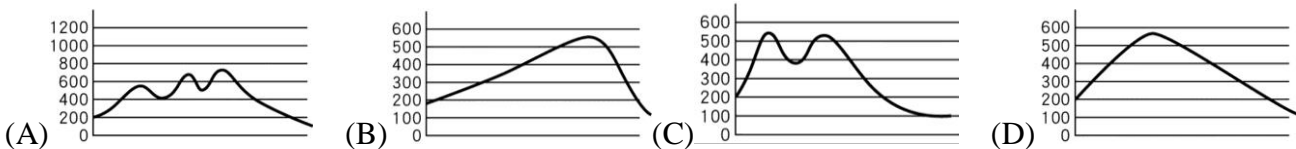
14. 「大臺北地區以夜景著稱，不論是北邊的陽明山、東邊的南港四獸山、南邊的木柵貓空，以及西邊的樹林大同山四周能俯視五顏六色的大臺北街景。」由上文可知大臺北地區是以哪種地形為主？(A)平原 (B)盆地 (C)丘陵 (D)山地。
15. 臺灣西部的山麓沖積扇，被河川侵蝕分割而成的台地有：(甲)桃園台地 (乙)林口台地 (丙)八卦台地 (丁)大肚台地。這些台地由北而南的排列順序是 (A)甲乙丙丁 (B)甲乙丁丙 (C)乙甲丁丙 (D)乙甲丙丁。
16. 臺灣因為各地區的自然環境條件不同，區域發展程度也各不相同。請問：目前臺灣人口多聚集於下列何種地形區中？(A)平原、丘陵 (B)平原、山地 (C)平原、臺地 (D)平原、盆地。
17. 附圖中的某艘貨輪遇上惡劣的天氣而發生船難，且出現嚴重漏油的危機，於是該船船長立即發出求救訊號。請問：該船發生事故的經緯度位置位在哪裡？ (A)35°W, 45°N (B)35°E, 45°S (C)35°E, 45°N (D)35°W, 45°S。



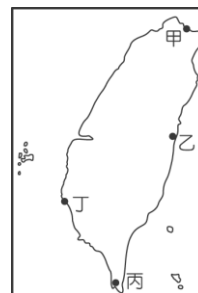
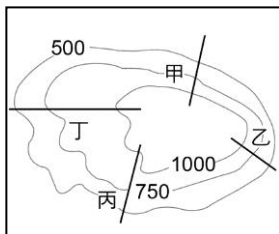
18. 來臺北自助旅行的小天，在臺北車站拿了一張捷運地圖，這份地圖的說明很詳細，但是眼尖的他發現少了一種地圖要素。請問：此圖缺少哪個地圖要素？ (A)圖名 (B)圖例 (C)比例尺 (D)方向標。
19. 左下附圖為某區的地形剖面圖，根據圖中提供的資訊判斷，請問：丙地的地形最可能為下列何者？(A)平原 (B)丘陵 (C)盆地 (D)台地。



20. 下列何圖最有可能是右上附圖中甲、乙兩點之剖面圖？

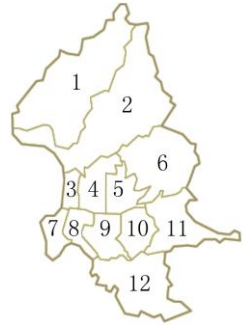
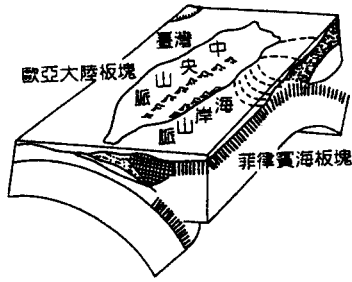


21. 花媽一家人某假日到櫻花山(如左下附圖)旅遊，假如他們要輕鬆上山，應選擇哪條步道路線最恰當？(A)甲 (B)乙 (C)丙 (D)丁。



22. 臺灣山多平原少，因此平原地形便成為重要的人口聚集地區。請問：臺灣最大的平原，主要分布於右上附圖中的哪一地區？(A)甲 (B)乙 (C)丙 (D)丁。
23. 臺灣位於歐亞大陸板塊與菲律賓海板塊的接觸帶上，此一事實造成臺灣在地形上有何特徵？(A)地勢起伏小 (B)海岸線曲折 (C)臺地面積廣 (D)多火山、地震。
24. 臺灣雖然有著眾多的高山，但是這些高山卻大多呈南北走向。請問：造成此現象最可能的原因是什麼？(A)板塊擠壓的方向 (B)河流堆積的位置 (C)季風吹拂的方向 (D)火山噴發的位置。

25. 左下圖為歐亞大陸板塊和菲律賓海板塊的擠壓圖，由圖中資料可說明何項事實？
 (A)臺灣島的成因 (B)平原分布於西部 (C)海岸線平直少曲折 (D)缺乏台地地形。



26. 右圖為台北市行政區地圖，我們的學校：新民國中，位於圖中代號的哪一位置？
 (A) 1 (B) 2 (C) 6 (D) 12。

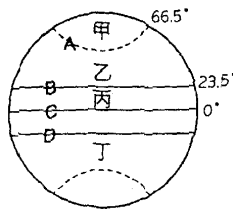
二、題組：每題 2 分，共 22 分

※ 左下附圖為假設的地球表面。請問：

27. 圖中 A、B、C、D 那一條緯線通過臺灣？(A)A (B)B (C)C (D)D。

28. 承上題，圖中「丙」地區的氣候為何？

- (A)熱帶氣候 (B)副熱帶氣候 (C)溫帶氣候 (D)寒帶氣候。

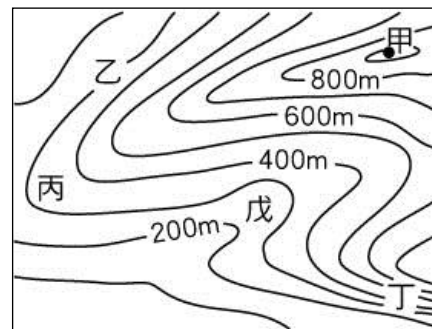


※ 小天利用暑假時間，由父親開車去旅行，他們由臺北市出發，隨即不久就進入很長的隧道，小天的爸爸跟他說：這一隧道就是國道 5 號公路，打通了□□山脈，這條公路走到底，我們就到宜蘭縣了。請問：(參考右上附圖)

29. 由小天的爸爸描述，我們可以知道國道 5 號公路，必須穿過下列哪一座山脈，才能到達宜蘭縣？
 (A)中央山脈 (B)雪山山脈 (C)阿里山山脈 (D)海岸山脈。
 30. 到了宜蘭他們繼續往花蓮的方向前進，到了花蓮之後繼續往南走，沿途發現左右兩邊都有山脈，在小天右方的是哪一座山脈？(A)玉山山脈 (B)雪山山脈 (C)海岸山脈 (D)中央山脈。
 31. 承上題，請問小玲他們所在的地區最可能是 (A)嘉南平原 (B)蘭陽平原 (C)花東縱谷平原 (D)屏東平原。

※ 左下圖為臺灣行政區圖，請回答下列問題：

32. 臺灣島內唯一不濱海的縣分為圖中的戊，戊縣所指為何？(A)臺中縣 (B)南投縣 (C)臺東縣 (D)屏東縣。
 33. 圖中哪一個都市不是我國的直轄市？ (A)甲 (B)乙 (C)丙 (D)丁。
 34. 「此行政區東瀕太平洋，且有北回歸線通過。」上述是哪個縣市的地理特色？
 (A)宜蘭縣 (B)嘉義縣 (C)花蓮縣 (D)屏東縣。



※ 右上附圖為臺灣某一地區的等高線圖地形圖。請問：

35. 由圖判斷，哪一點所在的地方可能是有河流經過？(A)乙 (B)丙 (C)丁 (D)戊。
 36. 由圖判斷，圖中何處的坡度最陡？ (A)甲 (B)乙 (C)丙 (D)丁。
 37. 圖中最高的地點「甲」，其高度可能為何？ (A)850 公尺 (B)900 公尺 (C)950 公尺 (D)1,000 公尺。