

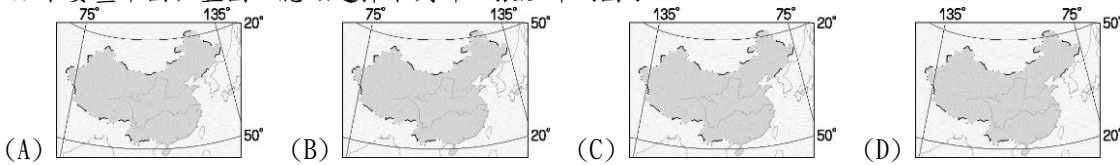
臺北市立新民國中 105 學年度八年級第一學期地理科第一次段考

範圍：2 上，疆域、地形

年 班 號 姓名

一、單選題：每題 3 分，共 72 分

1. 如果要畫中國位置圖，應該選擇下列哪一張經緯網圖？

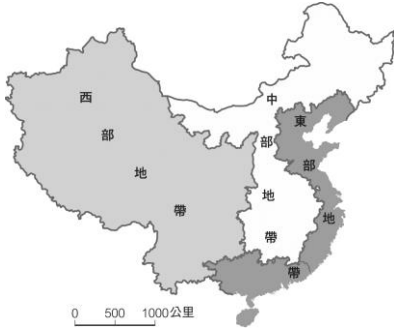
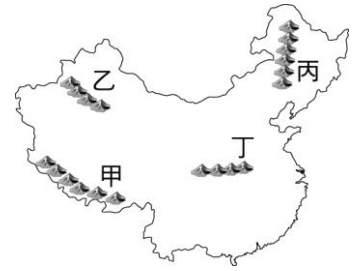


- 中國疆域東濱三大緣海與太平洋連接。請問：中國三大緣海若由南向北排列，下列何者正確？
(A)黃海、東海、南海 (B)東海、黃海、南海 (C)南海、東海、黃海 (D)南海、黃海、東海。
- 中國境內的時區有五個之多，這最能代表當地的哪一種區域特色？
(A)經度距離大 (B)緯度距離廣 (C)氣候多變化 (D)地勢起伏大。
- 中國國土東西約有 60 度經度的差異，導致同一時間內東部和西部居民的作息不同，為了方便，政府以下列哪個城市的時間作為全國的標準時間？ (A)北京 (B)上海 (C)天津 (D)南京。
- 下列對於中國行政區的敘述，下列何者「錯誤」？ (A)設有二個特別行政區 (B)有四個直轄市 (C)香港、澳門為少數民族自治區 (D)特別行政區、直轄市、少數民族自治區地位與省相當。
- 中國詩詞中「滾滾長江東逝水」、「恰似一江春水向東流」皆說明河水向東方流動的情形。請問：造成這種現象的主要原因為何？ (A)東部緯度較低 (B)西部雨量較少 (C)東部運河較密 (D)西部地勢較高。
- 中國山脈的走向，有 (甲)東南—西北 (乙)南—北 (丙)東北—西南 (丁)東—西 走向，而大致以那兩種方向的最多？(A)甲乙 (B)甲丙 (C)乙丙 (D)丙丁。
- 中國海岸若以沙岸和岩岸的分類來看，兩種海岸的顯著劃分點大致在下列何處？
(A)廈門灣 (B)長江口 (C)杭州灣 (D)黃河口。
- 中國將香港畫分為特別行政區，最主要是因為該地區在回歸中國之前，曾被哪一個國家統治百餘年，因此區域差異甚大？(A)日本 (B)英國 (C)美國 (D)葡萄牙。
- 中國的行政區中，因歷史背景使當地擁有自行流通的貨幣，也可以自行訂定當地法律的地區為下列何者？
(A)首都北京市 (B)西藏自治區 (C)香港特別行政區 (D)新疆維吾爾自治區。
- 絲路為中國早期與西方聯絡的主要交通要道，也是東西文化與經濟交流的通路。請問：漢唐時期的商人可利用絲路將絲綢運往下列哪一個地區販售？(A)美洲 (B)非洲 (C)歐洲 (D)澳洲。
- 新聞報導指出：「因中國欲在南海上的島嶼興建軍事基地，引起某國的不滿，而向中國提出抗議。」請問：上文中的某國最可能為何者？ (A)日本 (B)南韓 (C)菲律賓 (D)俄羅斯。
- 左下附圖為中國四個直轄市的分布位置圖。圖中哪個城市位於長江三角洲，瀕臨東海，是目前中國發展最快和經濟最發達的城市？ (A)甲 (B)乙 (C)丙 (D)丁。

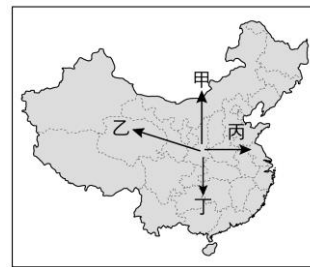


- 右上圖中的第三級階梯主要以何地形為主？
(A)高原、山地 (B)高原、盆地 (C)盆地、平原 (D)平原、丘陵。
- 中國地形受到板塊活動及外部營力的影響，因此形成不同地形階梯。請問：下列那一高原屬於第一級階梯？
(A)黃土高原 (B)雲貴高原 (C)青藏高原 (D)蒙古高原。
- 中國地形呈三級階梯狀，下列那一個盆地屬於第一級階梯？
(A)準噶爾盆地 (B)四川盆地 (C)柴達木盆地 (D)塔里木盆地。
- 老姜形容某區域的特色是：「是中國面積最大的平原，中央地勢低平、黑土肥沃。但卻受到氣候的因素影響，因此生長季較短，具有商業化的色彩。」請問：該平原最可能為下列何者？
(A)東北平原 (B)華北平原 (C)長江中下游平原 (D)珠江三角洲。

18. 世界最高的珠穆朗瑪峰（聖母峰）變矮！中國國家測繪局於西元 2005 年 10 月宣布珠穆朗瑪峰的新高度為 8,844.53 公尺。請問：珠穆朗瑪峰最有可能位於右圖中的哪一地區？ (A)甲 (B)乙 (C)丙 (D)丁。
19. 下列哪一組山脈呈現東北—西南走向？(A)小興安嶺、大興安嶺 (B)大興安嶺、長白山地(C)崑崙山、秦嶺 (D)天山、太行山。
20. 左下附圖將中國劃分成三大地區。請問：這種劃分指標是依據下列何者而來？ (A)經濟發展 (B)氣溫高低 (C)地勢高低 (D)水文分布。



21. 右上圖為廣西壯族自治區中常見的農田景觀，受到地形起伏的影響相當明顯。這種農業活動類型通常主要分布於哪一種地形上？(A)平原 (B)三角洲 (C)丘陵 (D)高原。
22. 右下附圖為中國某種行政區劃示意圖。請問：圖中的代號應是哪種行政區？ (A)直轄市 (B)省 (C)特別行政區 (D)自治區。



23. 「『絲路』是歷史上一條著名的歐亞商旅路線，造成人類文明史上一次波瀾壯闊的交流與影響；而絲路沿途的雪山、沙漠的景觀，更為其增添傳奇色彩。」由以上所述，附圖中哪個路徑最符合絲路的所在？ (A)甲 (B)乙 (C)丙 (D)丁。
24. 小天日記寫著：「一路往山上走，翻過了這座世界最高的山頭後，就將到達中國。於是在兩國中間的邊界上，拍下了一張照片，作為這趟旅行的紀念。」請問：小天最可能由哪一個地區進入中國？ (A)北韓 (B)俄羅斯 (C)越南 (D)尼泊爾。

二、整合題：每題 2 分，共 28 分

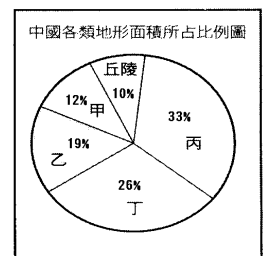
※ 右表為世界主要大國的面積與人口資料，請問：

25. 請問中國應為表中的哪一個國家？(A)甲 (B)乙 (C)丙 (D)丁。
26. 哪一個國家位於中國的北方，且在歷史上曾侵占中國北方廣大的土地？(A)甲 (B)乙 (C)丙 (D)丁。

國家	面積(平方公里)
甲	17,075,200
加拿大	9,976,140
乙	9,829,091
丙	9,598,077
丁	7,686,850

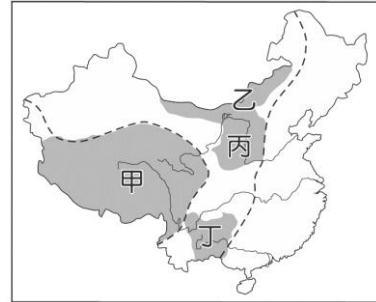
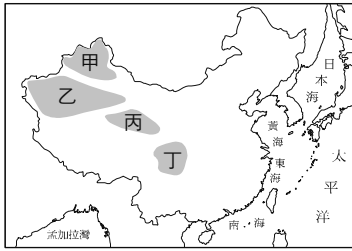
※ 右圖為中國各類地形面積所占比例的圓餅圖，請問：

27. 丙地形所占的比例最高，應是指 (A)高原 (B)山地 (C)盆地 (D)丘陵。
28. 中國的農業活動和人口分布，主要集中於何種地形上 (A)甲 (B)乙 (C)丙 (D)丁。
29. 由圖中資料可推知下列哪一項事實？ (A)中國疆域面積遼闊 (B)地形錯綜複雜 (C)地勢西高東低 (D)地形呈三級階梯。



※ 左下圖為中國四大高原的分布圖，請問：

30. 哪一個盆地地勢封閉，昔日進出不易，有「蜀道難，難於上青天」之嘆？(A)甲 (B)乙 (C)丙 (D)丁。
31. 哪一個盆地因礦產豐富，被譽為「聚寶盆」、「鹽的世界」？(A)甲 (B)乙 (C)丙 (D)丁。
32. 哪一個盆地地位於新疆天山山脈南側，雨量稀少，沙漠廣布，境內塔克拉瑪干沙漠，過去有「死亡之海」之稱？(A)甲 (B)乙 (C)丙 (D)丁。



※ 右上圖為中國四大高原的分布圖，請問：

33. 那一個高原地勢高聳，冰河和湖泊遍布，有「世界屋脊」之稱？ (A)甲 (B)乙(C)丙 (D)丁。
34. 那一個高原乾燥少雨，長期受風力侵蝕，為平坦遼闊的荒漠和草原？ (A)甲 (B)乙 (C)丙 (D)丁。
35. 土壤疏鬆，易受流水侵蝕，表面千溝萬壑，地表破碎。請問：上述所指的地點最可能位於圖中何處？(A)甲 (B)乙 (C)丙 (D)丁。

※ 中國疆域遼闊(如右圖)，過去為了達到對外聯繫的目的而發展出各具特色、因地制宜的交通方式。請問：

36. 左下圖中動物一身的長毛，能適應該地區「地形高峻，地表崎嶇，氣候乾寒，空氣稀薄，多風暴」的環境特色？請問：該牲畜最可能是哪一地區特有的動物？(A)甲 (B)乙 (C)丙 (D)丁。



37. 右上圖中的動物有「沙漠之舟」之稱，請問：該動物是哪一地區傳統的交通工具？(A)甲 (B)乙 (C)丙 (D)丁。
38. 電視新聞報導中，我們可以看到居民利用「流籠」或「溜索」往來的驚險畫面(如下圖)這種傳統交通方式最常在中國哪個地區看到？(A)四川盆地 (B)長白山地 (C)黃土高原 (D)橫斷山脈。

