

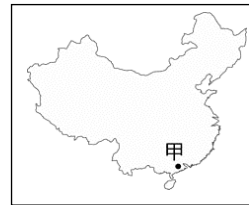
# 臺北市立新民國中 105 學年度八年級第一學期地理科第二次段考

範圍：中國的氣候與水文、人口

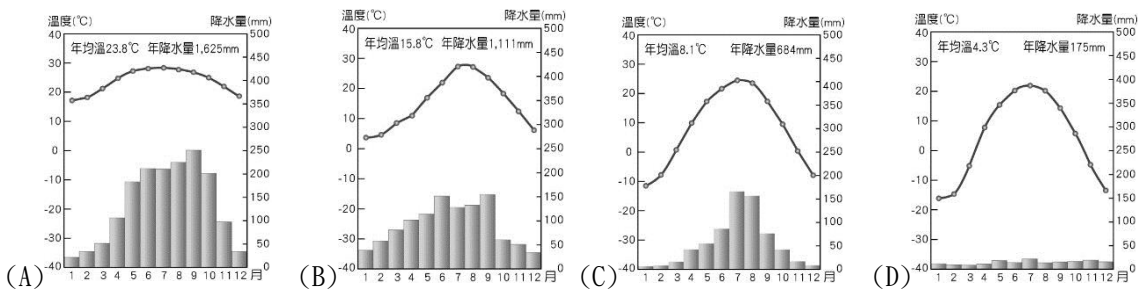
年 班 號 姓名

## 一、選擇題：每題 3 分，60%

- 「高齡化社會」通常出現在經濟發展程度高的國家，如日本、瑞典。但中國卻在西元 2000 年達到高齡化社會的標準，其成因可能與下列何者最有關係？(A)國民所得的金額逐年增加 (B)勞動力大量流入鄰近國家 (C)社會資源多偏向老人福利 (D)實行嚴厲的計畫生育政策。
- 西元 2007 年，中國 0~4 歲幼兒性別比高達 123.6，此現象可能與哪些因素有關？(甲)人口眾多 (乙)醫藥進步 (丙)一胎化政策 (丁)都市化程度高 (戊)重男輕女觀念 (己)經濟發達，生活水準提高。以上何者正確？(A)甲丙 (B)乙丁 (C)戊己 (D)丙戊。
- 秦嶺是中國氣候的重要分界線，請問：「秦嶺」位於下圖中何處？(A)甲 (B)乙 (C)丙 (D)丁。



- 左下附圖為中國疆域圖。圖中甲地冬、夏季風風向分別為何？(A)冬：↑，夏：↓ (B)冬：↙，夏：↗ (C)冬：↓，夏：↑ (D)冬：↘，夏：↖。
- 內流河與外流河的分布受到當地氣候環境的影響相當密切。請問：中國的內流河分布區域和下列哪一個氣候區的分布範圍最為相近？

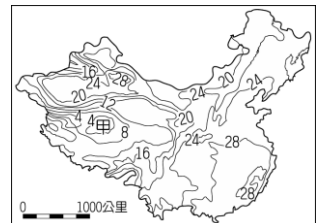


- 中國沿海四大地區中，何者的年溫差最大？(A)東北地區 (B)華北地區 (C)華中地區 (D)華南地區。
- 中國氣候呈現多樣性的主因為何？(A)幅員遼闊，地形複雜 (B)地勢西高東低，呈三階梯下降 (C)海岸線長，季風強盛 (D)海陸分布位置的影響。
- 中國東部哪一種走向的山脈，在夏季時最能阻擋來自太平洋的暖溼氣流雨？



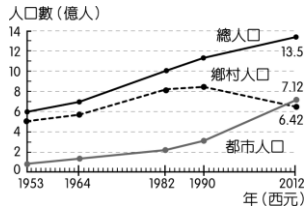
- 下附表為中國某都市的氣候資料。若依表中的資料判斷，該都市的氣候屬於下列哪一類型？(A)溫帶草原氣候 (B)溫帶季風氣候 (C)副熱帶季風氣候 (D)熱帶雨林氣候。

項目 \ 月分	一	二	三	四	五	六	七	八	九	十	十一	十二	全年
氣溫°C	3.2	4.1	8.0	13.5	18.8	23.1	27.1	27.0	22.8	17.4	11.3	5.8	15.2
雨量 mm	50	60	83	93	93	176	145	142	127	71	52	37	1129



- 右圖為中國夏季氣溫分布圖。請問：造成甲地區低溫現象的主要原因為何？(A)緯度高 (B)季風強 (C)地勢高 (D)距海遠。
- 亞洲的太平洋岸有世界最明顯且範圍最廣大的季風氣候區，在這塊全球最大的陸塊和海域交界處形成「季風」，請問：下列何者是形成季風的主要的成因？(A)地勢過於崎嶇 (B)海陸性質的差異 (C)人口密集 (D)有洋流通過。
- 只要講到中國的氣候分界，就一定會讓人聯想到「秦嶺、淮河」，這條連線有哪些意義？(甲)一月 0°C 等溫線 (乙)七月 0°C 等溫線 (丙)500mm 年等雨量線 (丁)750mm 年等雨量線。以上何者正確？(A)甲丙 (B)甲丁 (C)乙丙 (D)乙丁。
- 中國大陸近年雖實施人口政策控制生育率，但每年人口成長增加的數量依然十分龐大，最主要的原因為何？(A)人口總數眾多 (B)出生率仍高 (C)人口移民增加 (D)死亡率降低。

14. 左下附圖為近年來中國城鄉人口變化圖，由附圖判斷，這種人口變化情形和下列哪一個因素關係最大？  
 (A)糧食生產 (B)經濟發展 (C)氣候變遷 (D)海外移民。

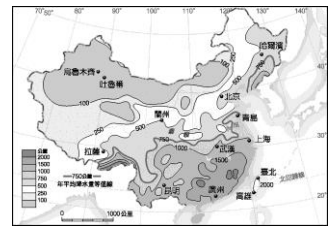


15. 受到地形崎嶇影響，右上附圖中哪個地區少數民族眾多，分布複雜？(A)甲 (B)乙 (C)丙 (D)丁。  
 16. 承上題，該地區為中國少數民族族系最多的地區，其主要原因為何？  
 (A)氣候溼熱 (B)地形崎嶇 (C)政策移民 (D)地處邊疆。  
 17. 「中國總人口目前約為 13 億人，是世界人口總數最多的國家。然而預計再經過三十年後，總人口數將被印度超過，成為第二位。這和中國哪一個人口影響因素的關係最大？」  
 (A)出生率下降 (B)死亡率提高 (C)移出率減少 (D)移入率增加。  
 18. 目前中國的人口數達 13 億，約占世界人口數五分之一。請問：中國人口數眾多所帶來的好處為何？  
 (A)人口素質提升 (B)糧食消耗增加 (C)教育機會均等 (D)勞動力充足。  
 19. 『環境負載力』是指生活環境所能供養生物的能力。請問：以下中國四個地形區，何者的環境負載力應該最高？  
 (A)青藏高原 (B)塔里木盆地 (C)橫斷山脈 (D)長江中下游平原。  
 20. 中國的盲流大量移往沿海地區，盲流人口多到足以造成都市問題。此一現象的發生，主要是因為沿海都市具有何種優勢？  
 (A)交通便利 (B)地形平坦 (C)氣候溫暖 (D)經濟發達。

二、整合題：每題 2 分，40%

※ 右圖為中國降水量分布圖，從圖中可看出很多資訊，請問：

21. 哈爾濱和烏魯木齊的緯度差不多，但哈爾濱的年降水量較烏魯木齊多的原因是受下列哪一氣候因素的影響？(A)洋流 (B)緯度 (C)地形 (D)距海遠近。  
 22. 中國都市中的拉薩其東南方一年的雨量能達到 1,000 公釐以上，其雨量的來源主要是來自於哪一個海洋？(A)印度洋 (B)太平洋 (C)大西洋 (D)北極海。



※ 中國氣候多樣，為了適應各種氣候類型，滿足居民的食、衣、住、行所需，因而發展出不同的生活方式。請依下列題目所述，回答問題。

23. 左下附圖所示為西藏的僧侶服飾，夏季午間人們常將外袍的袖子繫在腰間，袒出右臂或雙臂。請問：這種穿著方式，最能反映出當地夏季具有下列哪個氣候特色？(A)雨量稀少 (B)風力強勁 (C)日溫差大 (D)空氣稀薄。

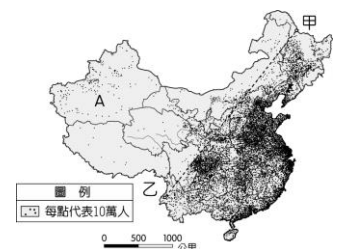


24. 右上附圖為窑洞示意圖，此種特殊的民居型式最可能出現在下列哪個地區？  
 (A)雲貴高原 (B)內蒙古高原 (C)青藏高原 (D)黃土高原。  
 25. 中國北方地區的傳統建築有「坐北朝南」的習慣，門窗大多開向南方，其原因為何？  
 (A)屋內通風會比較好 (B)阻擋寒風及得到暖陽 (C)為了模仿傳統皇宮建築 (D)有較佳遮陽與防雨效果。  
 26. 中國早期，北部的交通以陸運為主，南部以水運為主，所以有「南船北馬」之稱。請問：造成此種現象的主要因素為何？(A)北部河川流量較多 (B)北部居民喜歡坐車 (C)北部陸上交通工具便宜 (D)北部雨量變化大，河川流量不穩定。  
 27. 雲南西雙版納的房屋多為下層架空的「干欄式」建築如右附圖，請問：此種建築物風格與該地何種環境特色有密切關係？(A)地形崎嶇 (B)氣候溼熱 (C)晝夜溫差大 (D)多地震。

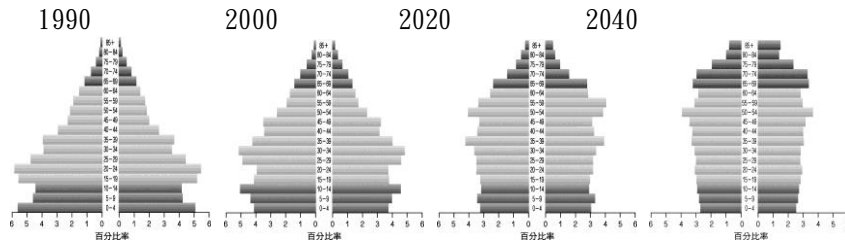


※ 右圖為中國人口分布圖，請問

28. 圖中甲、乙連線，大致和中國哪一地區吻合？  
 (A)秦嶺—淮河 (B)黑河—騰衝 (C)長白—青藏高原 (D)陰山—賀蘭山。  
 29. 中國人口稠密區大致和哪一氣候區吻合？  
 (A)高地氣候 (B)沙漠氣候 (C)草原氣候 (D)季風氣候。  
 30. 「A」地區的人口主要分布在山麓和河谷地帶，此一地理現象，與下列哪一項關係最為密切？(A)地形較平坦 (B)水源較充足 (C)交通較便利 (D)土壤較肥沃。



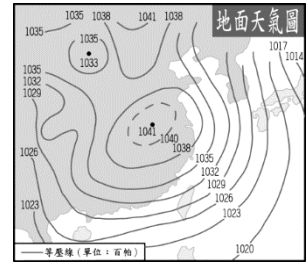
※ 附圖為中國人口金字塔及預測圖。請問：



31. 隨著人口結構的改變，中國執政當局，應該要採取哪種措施以解決所面臨的人口問題？  
 (A) 實行人口移民政策 (B) 鼓勵生育政策 (C) 老人安養及福利政策 (D) 人口遷移政策。
32. 由以上中國人口金字塔圖中，我們可以發現中國人口的特色，「不包括」下列哪項？  
 (A) 幼年人口比例下降 (B) 男女性別比率不均 (C) 邁入高齡化社會 (D) 壯年人口負擔減輕。

※ 附圖為中國某時期的地面天氣圖，請根據圖中資料回答下列問題：

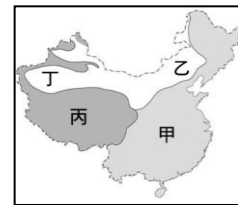
33. 根據附圖的天氣圖判斷，當時中國境內的氣候現象最可能為下列何者？  
 (A) 炎熱高溫 (B) 陰雨連綿 (C) 颱風來襲 (D) 寒冷乾燥。
34. 由圖推判，此時華北平原的季風風向為何？



- (A) (B) (C) (D)

※ 中國的水文區分布特色依其環境條件而各不相同，左下附圖為中國內、外流區分布簡圖。請問：

35. 河川的特性影響境內湖泊的性質，在附圖中的哪一個地區湖泊面積容易出現變化，蒸發旺盛，因此多為鹹水湖？  
 (A) 甲 (B) 乙 (C) 丙 (D) 丁。
36. 左下附圖的河川屬於印度洋外流區，為當地居民農耕的主要灌溉水源。請問：該河川最有可能為哪一條？  
 (A) 松花江 (B) 珠江 (C) 塔里木河 (D) 雅魯藏布江。
37. 根據附圖的位置分布特色判斷，「甲」水文區的河川多流入哪一個海洋為主？  
 (A) 太平洋 (B) 印度洋 (C) 北極海 (D) 大西洋。



※ 右上圖是中國氣候類型分布圖，請問：

38. 圖中乙氣候區與丁氣候區的分類指標為下列何者？  
 (A) 年降水量 250 mm (B) 年降水量 500 mm (C) 一月均溫 0°C (D) 七月均溫 18°C。
39. 下表為中國某個都市的氣候資料，若由表中資料判斷，該都市最可能位於地圖中何處？  
 (A) 甲 (B) 乙 (C) 丙 (D) 丁。

月分	1月	2月	3月	4月	5月	6月	7月	8月	9月	10月	11月	12月	年均溫/年雨量
氣溫(°C)	-18.3	-13.6	-3.4	7.1	14.7	20.4	23	21.1	14.5	5.6	-5.3	-14.8	4.3
雨量(mm)	3.4	5.3	9.7	18.4	40.4	84.4	142.7	121.2	57.6	25.9	9.6	5.8	524.4

40. 「丙」地的氣候圖最可能是下列何者？

