

班級： 座號： 姓名：

一、**單選題**：1-32 題，每題 3 分；34 題 4 分

- ( ) 1. 西歐平原、台地與丘陵廣布，水運相當發達，其中以萊因河航運最為繁盛，其出海口更是歐洲地區主要大港，上述出海口指的是哪個著名的港口？  
(A)漢堡 (B)馬賽 (C)鹿特丹 (D)阿姆斯特丹
- ( ) 2. 芳岑到歐洲某個城市旅遊，她在身上灑上當地的品牌香水香奈兒五號，並坐在香榭大道旁的咖啡雅座裡，期待她的法比歐出現。上文所描述的是哪個城市？  
(A)布魯塞爾 (B)倫敦 (C)維也納 (D)巴黎
- ( ) 3. 挪威西部兩萬一千公里長的海岸線有許多天然良港，其形成的主要成因為何？  
(A)冰河侵蝕 (B)海平面上升 (C)海水侵蝕 (D)板塊擠壓
- ( ) 4. 北歐為世界上無線通信產業最發達的地區，發展無線通訊主要是受到何項因素影響？  
(A)人口密度低與地勢崎嶇 (B)經濟發展程度高 (C)礦產產量多 (D)社會福利制度佳
- ( ) 5. 北歐古有冰河覆蓋，冰河的滑動使北歐地形深受刻蝕，形成不同的冰河地形。在附圖中四種海岸類型，何者是冰河侵蝕所造成的峽灣海岸？  
(A)甲 (B)乙 (C)丙 (D)丁




(甲)



(乙)

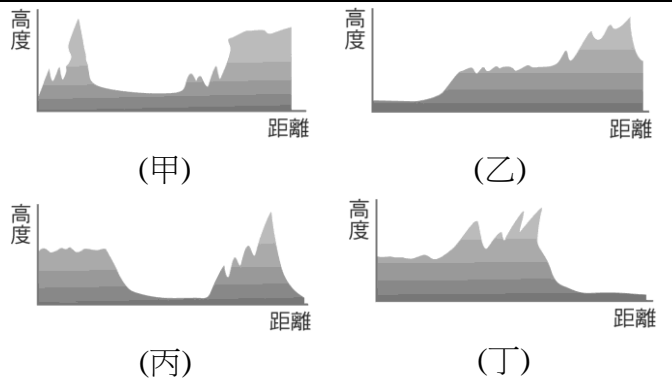
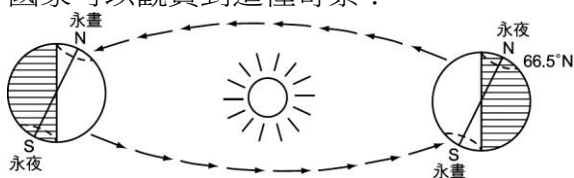


(丙)



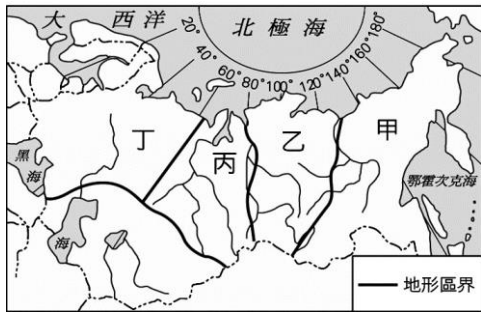
(丁)

- ( ) 6. 附圖為「永晝」、「永夜」的形成原因，我們在哪個國家可以觀賞到這種奇景？  
(A)德國北部 (B)英國南部 (C)法國北部 (D)芬蘭北部
- ( ) 7. 依照德國地勢，若要興建運河聯絡各大河川，並彌補河川天然水運能力之不足，運河應以哪種方向興建？  
(A)南 — 北方向 (B)東 — 西方向 (C)東北 — 西南方向 (D)西北 — 東南方向
- ( ) 8. 下列哪張地形簡圖與俄羅斯由西向東的地形剖面圖相似？  
(A)甲 (B)乙 (C)丙 (D)丁



- ( ) 9. 西歐河流流量穩定，水運發達，其中又以哪條河流的航運最盛？  
(A)多瑙河 (B)塞納河 (C)萊因河 (D)泰晤士河
- ( ) 10. 西歐的英國、德國與法國重工業發達，其重要基礎為何？  
(A)交通便利 (B)資金充裕 (C)勞力充足 (D)原料與動力豐富
- ( ) 11. 家財萬貫的家星打算把家裏放不下的現鈔存放到擁有歐洲最知名銀行業的國家，上述這個國家最可能是指何者？  
(A)英國 (B)瑞士 (C)法國 (D)德國
- ( ) 12. 鈞智與子瑜結伴前往歐洲進行觀光，坐在泰晤士河畔喝著咖啡，聽著大笨鐘響亮的鐘聲。他們應該是置身於個城市？  
(A)漢堡 (B)巴黎 (C)倫敦 (D)維也納
- ( ) 13. 瓦特發明了蒸汽機被視為拉開了工業革命的序幕，若想要遊覽瓦特的故鄉並與其紀念雕像合照，應該前往下列哪個國家？  
(A)西班牙 (B)葡萄牙 (C)義大利 (D)英國
- ( ) 14. 下列哪二項因素最可能造成西歐境內水氣豐沛、溫和溼潤的氣候特色？  
(A)西風吹拂、北太平洋暖流流經 (B)東北信風吹拂、北太平洋暖流流經 (C)西風吹拂、北大西洋暖流流經 (D)東北信風吹拂、北大西洋暖流流經
- ( ) 15. 法國是世界上外國遊客最多的國家，觀光業已經成為法國經濟的重要支柱，巴黎甚至有「藝術之都」的美稱。下列四個景點中，何處不在巴黎？  
(A)聖母院 (B)美人魚銅像 (C)凱旋門 (D)羅浮宮
- ( ) 16. 近來能源短缺，許多國家利用附圖的方式來發電。例如德國與荷蘭用來風力發電的裝置應該面向何方？  
(A)東側 (B)南側 (C)北側 (D)西側
- ( ) 17. 冰島的煉鋁工業發達，與當地的哪種自然資源有關？  
(A)風力 (B)地熱 (C)水力 (D)潮汐
- ( ) 18. 教育盃國中男子單打冠軍~衍勳·喬科維奇出生於歐洲的某一地區，其特色是曾受共產主義左右，並在蘇聯解體後分裂成七個國家，請問他的祖國該在哪裡？(A)北歐 (B)東歐 (C)西歐 (D)南歐
- ( ) 19. 俄羅斯的發展受到氣候的限制頗大，但也因氣溫較低，使得該國擁有全球面積最廣的何種植被？

- (A)闊葉林 (B)針葉林 (C)灌木林 (D)紅樹林
- ( ) 20. 俄羅斯的領土廣大，橫跨歐、亞兩洲，屬於板塊交界帶容易產生火山地震的地區為何？  
(A)西伯利亞山地 (B)西伯利亞高原 (C)西伯利亞平原 (D)歐俄平原
- ( ) 21. 俄羅斯北部有著綿長的海岸線，但過去在海運發展上並不順利，最主要的因素為何？  
(A)共產制度 (B)北極海浮冰 (C)經濟落後 (D)航海技術不佳
- ( ) 22. 附圖為俄羅斯地形簡圖，圖中哪個地區為俄羅斯的精華區？ (A)甲 (B)乙 (C)丙 (D)丁



- ( ) 23. 莫斯科的聖巴西里大教堂氣勢磅礴，具有色彩鮮豔的洋蔥式屋頂，該教堂為哪個宗教的建築物？  
(A)東正教 (B)神道教 (C)天主教 (D)伊斯蘭教
- ( ) 24. 東歐區內政權更替頻繁，哪個地區因各種紛爭與衝突經常出現，有「歐洲火藥庫」之稱？  
(A)斯堪地那維亞半島 (B)伊比利半島 (C)巴爾幹半島 (D)義大利半島
- ( ) 25. 家佑人稱新民高富帥，人帥又大方，給家裡煮飯阿婆買的代步車是 BENZ、打掃阿桑買的是 BMW、門口警衛是福斯、庭院園丁是保時捷，請問家佑偏好的是哪一國的汽車？  
(A)義大利 (B)法國 (C)德國 (D)英國
- ( ) 26. 東歐為典型的大陸性氣候，緯度高，氣溫低，雨量少。東歐雨量的多寡是如何分布？  
(A)由東向西遞減 (B)由西向東遞減 (C)由北向南遞減 (D)由南向北遞減
- ( ) 27. 念澄計畫寒假到東歐旅遊，體驗東歐的風土民情壯麗宏偉的建築。念澄想要去的國家可能是下列哪些國家？  
(A)法國、德國、瑞士、奧地利 (B)葡萄牙、西班牙、義大利、希臘 (C)波蘭、捷克、匈牙利、俄羅斯 (D)荷蘭、比利時、盧森堡、丹麥
- ( ) 28. 若是畫一張俄羅斯的產品出口比例圓餅圖，哪個項目應占最大的比例？  
(A)醫療儀器 (B)高級汽車 (C)能源礦物 (D)化學製品
- ( ) 29. 俄羅斯橫跨歐、亞兩洲，歐洲和亞洲主要以下列何者為分界線？  
(A)北海海域 (B)烏拉山區 (C)阿爾卑斯山 (D)萊茵河
- ( ) 30. 瑞典和芬蘭境內因為森林資源豐富，因此影響哪二種產業發展甚為優良並在世界極具知名度？  
(A)漁業、造船業 (B)造紙業、家具製造業 (C)農業、紡織業 (D)家具製造業、食品製造業

- ( ) 31. 多瑙河雖然河流的長度長，航運價值卻不如其他河流來得高，這應該是多瑙河哪項缺點所導致的結果？  
(A)冬季易結冰 (B)出口方向不佳 (C)水量季節變化大 (D)洪患頻繁
- ( ) 32. 全世界物價指數最高的國度是瑞士，請問其物價高昂的理由與下列哪一選項最為相關？  
(A)商品高檔 (B)人民奢侈 (C)運費高昂 (D)廠商炒作
- ( ) 33. 附圖為北歐一月等溫線及降水量的分布圖，根據附圖可知沿海的溫度及降水量皆高於內陸。形成上述現象的原因為何？  
(A)北大西洋暖流、西風 (B)親潮、西風 (C)黑潮、東北信風 (D)北大西洋暖流、東北信風

