

【配合題】1-5 題，每題 2.5 分。

依我國憲法規定，選舉原則有 (A)普通 (B)平等 (C)直接 (D)無記名，請依題意回答 1-5 題：

- 一人一票，票票等值。
- 我國總統 1996 年以前，是由國民大會代表選任出，而不是由人民選舉出。此舉與何項原則相違背？
- 又稱為「祕密投票」原則。
- 只要年滿 20 歲、未受到監護宣告的中華民國國民，都有投票權。
- 右圖是中央選舉委員會的宣導海報，這是加強宣導何項原則？



【選擇題】6-27 題，每題 2.5 分。


- 對民主政治而言，利益團體的存在扮演著重要的功能。下列何者不屬於利益團體？  
(A)喜憨兒社會福利基金會 (B)主婦聯盟環境保護基金會 (C)臺北市教師職業工會 (D)時代力量。
- 李盈登記參選了今年(西元 2017 年)1 月 17 日的新北市烏來區民代表選舉，請問，就法定最低候選年齡來看，烏來區的區民代表與何者相同？ (A)泉源里長 (B)新北市長 (C)台東縣長 (D)總統。
- 承上題，李盈若順利當選後，她的任期為幾年？ (A)3 (B)4 (C)8 (D)沒有限制。
- 四位同學在下課後討論對於「政治參與」的看法，下列哪位的敘述最正確？

政治參與是公民的權利，國民無法享有。



(A)

成為候選人也是政治參與的方式之一



(B)

參與政治的目的是為了紓解煩悶的心情



(C)

政治參與只能透過選舉投票的方式



(D)

- 映涵想登記參選中央民意代表，請問：下列何者是她要競選的公職人員？

(A)立法委員 (B)台東市民代表 (C)花蓮縣議員 (D)立法院院長。

- 右表是四個前往投開票所的民眾及他們身上攜帶的物品，請問哪一個人可以順利進場投票？

(A)凱翔 (B)辰揚 (C)羿婷 (D)君葳。

凱翔	辰揚	羿婷	君葳
身分證、印章、照相機	健保卡、投票通知單	印章、駕照、自然人憑證	身分證、健保卡

- 小新一家人中，爺爺每天都要閱讀很多份報紙關心時事；爸爸經常參與候選人造勢活動；媽媽則是每天鎖定韓劇；讀研究所的姊姊對於公共議題非常關注，常上街遊行表達訴求；小新今年剛拿到投票權就興奮地去投下人生第一票。請問：小新家有幾個人的表現符合「政治參與」的定義？

(A)五人 (B)四人 (C)三人 (D)二人。

- 公民老師在課堂上小考關於「受監護宣告」的敘述：『(甲)是因為精神障礙或出於自己意願，以至於沒有能力處理自己事務者，由本人、配偶、檢察官等人向(乙)公立醫院聲請而成為監護宣告者，受監護宣告者(丙)不能投票，但是(丁)可以參選公職人員。』聰明的你，知道這題敘述中，正確的只有  
(A)甲 (B)乙 (C)丙 (D)丁。

- 日前網站回顧 2016 年的十大新聞事件，2016 年 1 月的總統大選是其中一項，民進黨重回執政權，台灣不但實現了第三次的□□□□，而且還選出了首位的女性總統。作為一個民主國家，□□□□是成熟的民主政治發展的表現。依據所學□□□□最可能是下列哪一個概念？

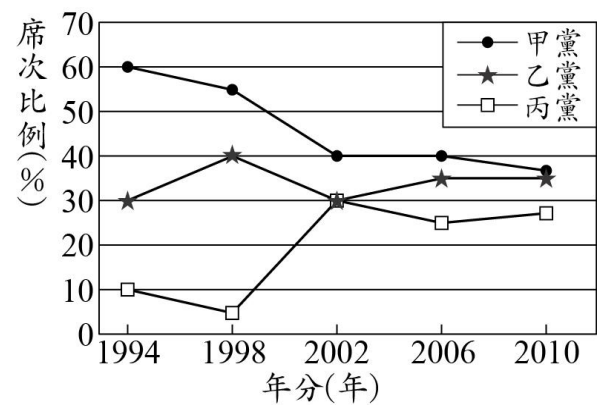
(A)政黨重組 (B)政黨惡鬥 (C)政黨輪替 (D)政黨協商。

- 附圖為某候選人的政見海報，捕魚多年的洪君在充分了解內容之後，決定把票投給他，期待此候選人可以實現其政治承諾，請問：上述劃線內容所發揮的是選舉哪一項功能？ (A)選出公職人員 (B)影響政府政策 (C)展現責任政治 (D)合法取得政權。

- 興建漁民住宅及漁民子女獎學金
- 老年漁民福利津貼補助 7000 元
- 建立漁村的醫療體系

16. 依照我國法律規定，下列哪一組公職人員全部是由人民直接選舉產生的？  
 (A) 總統、行政院長、立法委員 (B) 大法官、監察委員、考試委員  
 (C) 總統、直轄市長、里長 (D) 省主席、直轄市長、鄉長。
17. 某政治人物在一場選舉活動中，為該黨候選人拉票的發言內容如下：「張瀚元已多次連任，具有豐富的經驗，相信他一定會繼續好好監督政府作事，好不好～，請大家繼續支持，拜託拜託。」張瀚元所參選的公職人員最可能是下列何者？ (A) 市長 (B) 鎮長 (C) 監察委員 (D) 鄉民代表。
18. 梓翔從小住在台北市北投區，後來因為工作在台南科學園區的原因，於是將戶籍於 2017 年 1 月遷移到台南市。假如 2017 年 2 月 20 日將舉辦的台南市長選舉。(梓翔已年滿 20 歲具中華民國國籍，身心健全) 請問：此次，梓翔的選舉權可能為下列何種狀況？  
 (A) 此次選舉沒有投票權 (B) 可以回台北市投票 (C) 可以於台南市投票 (D) 可以任選一地投票。
19. (2017/01/02) 據報導：『年金改革國是會議 1 月召開，為了落實「最會溝通的政府」，行政院自去年 12 月 31 日起，開始啟動 4 場分區座談會，並將於元月 21、22 日召開國是會議』從上文當中，政府舉辦公聽會的目的是為了展現何項政黨功能？ (A) 民意的匯集與表達 (B) 促進民眾的政治熱情  
 (C) 政治菁英的培育和徵選 (D) 組織政府與監督政府。

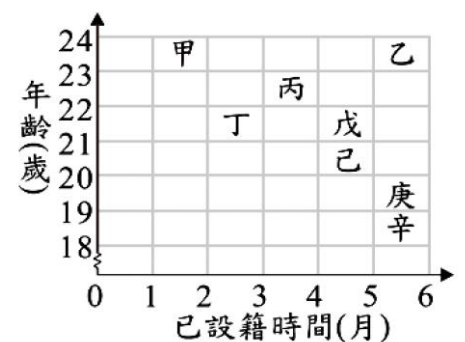
20. 大龍國為內閣制國家，右圖顯示該國 1994~2010 年各政黨在國會所占席次比例的變化。根據圖中內容判斷，下列何者最符合大龍國的情況？ 【103 會考】  
 (A) 該國在 1998 年發生政黨輪替的現象  
 (B) 該國政黨型態的發展趨向於兩黨制  
 (C) 2002 年起由政黨合作組成聯合政府  
 (D) 乙黨與丙黨在 1994 年組成聯合政府。



21. 熱中於政治活動的華欣，對未來的規畫如右表所示。若僅從年齡資格判斷，當華欣年滿 28 歲時，他尚未具備表中何項規畫所須的條件？ 【102 基測】  
 (A) 甲 (B) 乙  
 (C) 丙 (D) 丁。

規畫	規畫內容
甲	參選民意代表，爭取為民服務的機會
乙	把握投票的機會，積極參與政黨活動
丙	希望在政黨支持下，參選直轄市市長
丁	憑藉累積良好人脈與聲望，參選鄉長

22. (2017/01/03) 據報導：「冰島 2016 年 10 月大選結果，沒有任一政黨贏得多數，保守的獨立黨 (Independence Party) 和中間偏右的改革黨 (Reform Party) 和光明未來黨 (Bright Future) 連續數週協商，未能成功籌組新政府，日前 3 個政黨中的 1 名政黨領袖表示，如籌組聯合政府的談判能成功，冰島會舉行公投，決定是否加入歐洲聯盟。」從上文中判斷得知，冰島國會大選後的政黨類型比較沒有下列哪一現象？ (A) 政府權力集中容易領導 (B) 反映多元的民意 (C) 責任不清 (D) 行政效率不彰。
23. 對於即將舉辦的民意代表選舉，八位年輕人心中各有支持的理想候選人，右圖是他們在投票日當天的投票資格示意圖。由圖中資訊判斷，下列哪一組人皆能參與投票？ 【100 北北基】  
 (A) 甲、乙  
 (B) 丙、丁  
 (C) 戊、己  
 (D) 庚、辛



24. 右表為甲、乙、丙、丁四國在最近一次國會選舉後的席次資料。若此四國的政黨制度型態相當穩定，且各國前三大黨在每次國會改選後獲得的席次總和，占總席次的比例皆超過 95%，根據表中資料判斷，下列何者的政黨制度型態最可能傾向多黨制？ 【105 會考】  
 (A) 甲 (B) 乙 (C) 丙 (D) 丁。

國家	國會席次資料
甲	第二大黨獲得 20% 的席次
乙	第二大黨獲得 47% 的席次
丙	第三大黨獲得 2% 的席次
丁	第三大黨獲得 31% 的席次

25. 我國地方選舉中，如果有人宣稱他可以領到 2 張地方首長、2 張地方民意代表以及 1 張村里長共 5 張選票。綜合這學期所學內容判斷，他最可能居住在下列哪一個地方？ (A) 台北市北投區 (B) 新竹市北區 (C) 高雄市岡山區 (D) 宜蘭縣南澳鄉。

26. 下表是政黨與利益團體的比較表，請問有哪幾個選項的資料是正確的？

	政黨	利益團體
(甲)目的	影響政府政策	以執政為目標
(乙)法源	公職人員選舉與罷免法	人民團體法
(丙)政策	只關心與自身團體相關的政策、議題	政策較全面性
(丁)方式	遊說、陳情、示威遊行、支持某候選人	提名候選人，爭取組織政府機會
(戊)舉例	國民黨、民進黨	家扶中心、勵馨文教基金會

(A)1 項 (B)2 項 (C)3 項 (D)4 項。

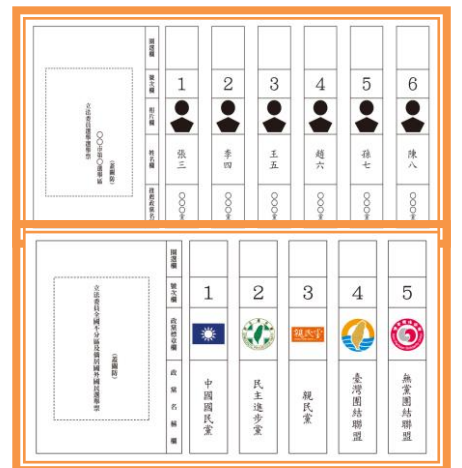
27. 右表是四位我國某縣縣民的基本資料，若下個月將辦理地方行政首長選舉，僅根據表中內容判斷，下列何者最可能具備此次該縣縣長選舉的候選人資格？

(A)耀傑 (B)樺萱 (C)柏謙 (D)怡君。

名字	年齡(歲)	備註
耀傑	39	已連任一次的現任縣長
樺萱	25	設籍該縣且住滿 4 個月
柏謙	57	連任三屆該縣民意代表
怡君	32	明年褫奪公權期限屆滿

**【題組】28-40 題，每題 2.5 分。**

28. 右圖是關於我國單一選區兩票制的選票樣式，下列關於這項選舉制度的敘述何者有誤？(A)這是中央民意代表選舉的專用方式 (B)單一選區是指每一區只選出一名民意代表 (C)兩票制是指一張投給人，一張投給黨 (D)區域民意代表選票按政黨得票比例分配席次，5%以上的政黨才能分配。



29. 我國中央民意代表的選舉主要是根據下列哪項法令的規定？

(A)公職人員選舉與罷免法 (B)民法  
(C)總統與副總統選舉與罷免法 (D)社會秩序維護法。

30. 依據我國法規，下列有關立法委員選舉候選人的資格，何者正確？

(A)必須經由政黨提名，才能登記參選 (B)褫奪公權尚未復權者亦可參選  
(C)沒有連任次數的限制 (D)年滿 20 歲就可參選。

31. 依現行法律規定，我國選舉活動依時間先後依序排列，正確的流程為何？(A)選舉公告→競選→登記參選→投票→開票→當選公告 (B)選舉公告→登記參選→競選→投票→開票→當選公告 (C)登記參選→競選→選舉公告→投票→開票→當選公告 (D)登記參選→選舉公告→競選→投票→開票→當選公告

即將從北藝大畢業的育綾與柔儀，義務性質幫一個台東的團體拍公益廣告推廣，廣告中提到「...提供清寒植物人免費安養、失依失能老人照顧，同時也關心社會公平與正義的實現」根據內容判斷，回答 32-33 題。

32. 育綾與柔儀最可能參加下列何種團體？(A)政黨 (B)同鄉會 (C)同業公會 (D)公共利益團體。

33. 育綾與柔儀她們是透過何種方式來傳達訴求？(A)遊說 (B)請願 (C)助選 (D)利用媒體宣傳理念。

**立院初審 鳥籠公投門檻下修** 2016-12-16 自由時報  
為落實直接民權，立法院內政委員會日前初審通過「公民投票法部分條文修正草案」，除降低公投提案及連署門檻外，公投案通過門檻也改為同意票多於不同意票、且同意票票數應達投票權人總數 1/4 以上，即為通過。公投投票年齡也由 20 歲降至 18 歲。初審條文同時將全國性公投的主管機關改為中選會，並廢除現行的公投審議委員會。公投法過去由於高門檻設計，被詬病為「鳥籠公投法」，此次大幅修法期望能真正落實直接民權。希望

公民投票法修法重點(一般性全國公投)		
現制	項目	修法草案
有	公投審議委員會	廢除
20歲	年齡	18歲
5/1000 (約9.4萬人)	提議門檻	1/10000 (約1800人)
5% (約94萬人)	連署門檻	1.5% (約28萬人)
投票率過半 同意票過半	通過門檻	同意票過半 且達總選舉人的1/4

圖：資料照 製表：記者曾章穎

34. 公民投票主要是實現憲法所保障的哪些基本權利？

(A)選舉權、罷免權 (B)選舉權、複決權  
(C)創制權、複決權 (D)選舉權、創制權。

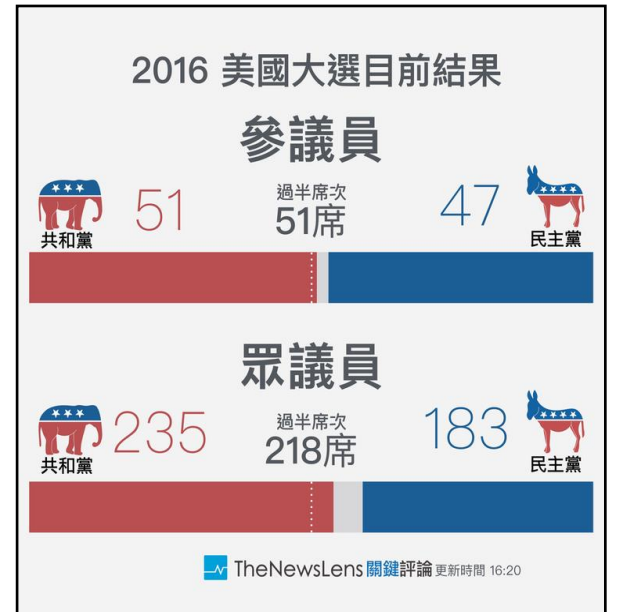
35. 據上文及課堂所學，我國公投的流程，下列何者正確？

(A)提案→公告→連署→投票 (B)提案→連署→投票→公告  
(C)提案→連署→公告→投票 (D)提案→投票→連署→公告。

36. 依據我國相關法律規定，我國選民若想要在總統、立委、公投中可以投票依序要在選區內設籍至少幾個月？ (A)6、4、6 (B)4、6、4 (C)6、6、6 (D)4、4、4 個月。
37. 從新聞中得知，目前公民投票法尚需等立法院三讀通過才能實行。因此，下列有關目前還在實行的公民投票法的相關敘述，何者正確？ (A)選民若未領取公民投票的選票是違法的行為 (B)人民、立法院與行政院都可以提案 (C)參與公民投票的選民必須年滿 20 歲 (D)選民必須在該區設籍滿 4 個月。

2015 年 11 月 8 日，美國人不只選出新總統川普 (Donald Trump)，也選出 435 席眾議員，並改選 1/3 的參議員 (共 34 席)。國會大選結果，如下圖：

38. 從上文及圖表中得知，此次美國參眾兩院大選後結果呈現出屬於下列哪一種政黨類型？  
(A)一黨獨大制 (B)一黨專政制  
(C)兩黨制 (D)多黨制。
39. 承上題，請問該政黨類型的特色為何？ (甲)政策易落實效率高 (乙)反映多元意見 (丙)兩黨互相制衡 (丁)無法反映各階層民意 (戊)行政效率不彰 (A)甲乙 (B)丙丁 (C)乙戊 (D)甲戊。
40. 綜合判斷，政黨型態是依據何者來劃分？ (A)國內政黨總數 (B)國內主要政黨數目 (C)國內有執政經驗的政黨數目 (D)國內當前正在執政的政黨數目。



試題完成 恭喜同學 寒假平安愉快