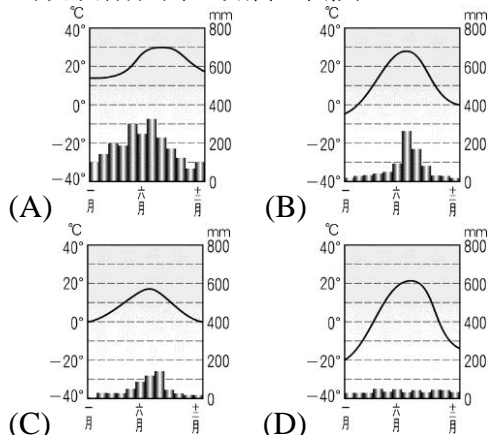


臺北市立新民國國民中學 105 學年度第一學期地理科八年級第三次段考

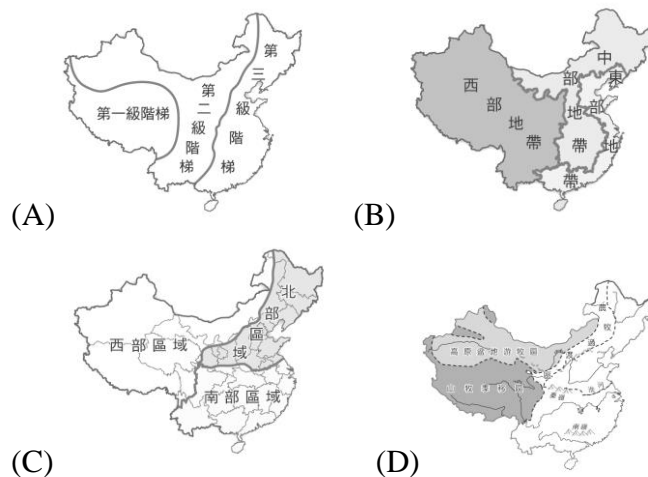
班級： 座號： 姓名：

一、單選題：1-32 題，每題 3 分；33 題 4 分

- () 1. 中國西北內陸地區，居民發展定居放牧、游牧或灌溉農業，取決於下列哪項條件？
(A)土壤肥沃與否 (B)人口多寡
(C)水源豐缺 (D)交通便利程度
- () 2. 位於中國西北地區的綠洲，其面積往往狹小而分散，區內除生產稻、麥、棉外，瓜果的生產也頗負盛名。綠洲的水源多來自何處？
(A)高山雪水 (B)颱風雨 (C)梅雨 (D)海水淡化
- () 3. 中國東北地區農業收成次數年僅一穫，南部地區全年都是生長季，可達 2~3 穫。影響農業收穫次數多寡的主要因素為何？
(A)地形 (B)氣溫 (C)降水量 (D)土壤
- () 4. 自古以來，稻米就是中國人相當重要的糧食作物。稻米主要的分布地區位於何處？
(A)淮河以南 (B)秦嶺以北
(C)長江以北 (D)南嶺以南
- () 5. 中國農業與牧業的分界線大致和下列哪條界線相同？
(A)最冷月均溫 0°C 等溫線 (B)750 毫米等降水量線 (C)人口稠密與稀少的界線 (D)內流區與外流區的分界線
- () 6. 阿塍是居住在華南的農民，依氣候條件而言，他應選擇種植下列哪組作物，會有較好的收成？
(A)大豆、甜菜 (B)小麥、棉花
(C)稻米、茶葉 (D)青稞、玉米
- () 7. 「近二十年來，新疆地區因灌溉改良，使得昔日荒涼之地，現今成為一畝畝良田，某植物的生產量提高，成為重要的輸出農產品，又被稱為「白寶。」文中的植物是指下列何種農作物？
(A)茶樹 (B)小麥 (C)棉花 (D)稻米
- () 8. CASH 製糖公司以製造砂糖起家，若政府開放對中國投資製糖後，可到下列哪個地區發展，可以取得充足的原料來源？
(A)青藏高原 (B)雲貴高原
(C)內蒙古高原 (D)東北平原
- () 9. 「居民利用灌溉，精細的耕種土地生產春小麥、稻米、棉花、瓜果等作物，帶來不少收益，卻也付出土地鹽鹼化的代價。」這種農業活動最可能出現於附圖中的哪種氣候區？



- () 10. 若以早期中國的情況為考量，1980 年代時中國的經濟策略，會是希望以自身的區位條件引進什麼？
(A)資金和市場 (B)原料和動力
(C)資金和技術 (D)勞工和市場
- () 11. 若將中國依照經濟發展程度劃分，則哪個地帶所占面積最廣，而經濟發展程度相對來說最為遲緩？
(A)西部地帶 (B)南部地帶 (C)中部地帶 (D)東部地帶
- () 12. 早期中國工業的分布，明顯集中於東部和沿海地區的原因為何？
(A)礦產豐富 (B)交通便利
(C)氣候溼熱 (D)地形平坦
- () 13. 著名的網拍「新民著衣」多向中國的成衣工廠下訂單，大批進貨，而製作這些成衣的工廠，其區位取向為何？
(A)勞工 (B)政策 (C)原料 (D)技術
- () 14. 不同的依據可以劃分出不同的中國地圖，若以經濟發展程度為基礎可能畫出下列哪張地圖？



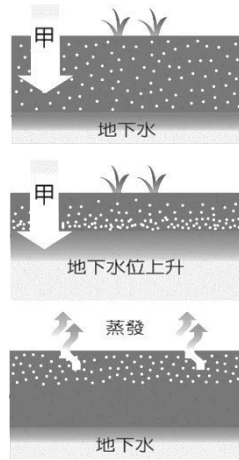
- () 15. 哪些因素是造就中國被稱為「世界工廠」的原因？
(甲)勞力充足(乙)具備高科技技術(丙)運輸便利
(丁)資金充裕
(A)甲、丙 (B)甲、丁 (C)乙、丙 (D)乙、丁
- () 16. 近年來因中國具有哪種潛力，得以成為企業財團積極布局的地方？
(A)技術先進 (B)資金充裕
(C)設施完善 (D)市場潛力
- () 17. 中國不少地區陸續出現大面積圍墾湖泊及與河爭地的熱潮。如今為了消弭圍湖造田所帶來的影響，政府與民間合力推動下列哪項政策，減緩災害的發生？
(A)築疏洪道 (B)退田還湖
(C)加高堤防 (D)建置水庫

- () 18. 中國沙塵暴問題嚴重，關於沙塵暴的敘述，下列何者正確？
 (A)種植防護林以因應此問題 (B)春夏之際最為嚴重 (C)推動退牧還耕的政策 (D)沙塵暴與沙漠化無關
- () 19. 「氣候乾燥、蒸發旺盛的地區，因為水利灌溉過度發展情況之下，土壤鹽鹼化日趨嚴重。」下列何處最易產生上文所述的災害？
 (A)珠江三角洲 (B)華北平原
 (C)塔里木盆地 (D)雲貴高原
- () 20. 青藏鐵路的建設過程中，工程人員所遇到的困難之一，即為「凍土」易造成建築下陷問題。該地區出現凍土與下列哪項地理特徵有關？
 (A)位於高緯度地區 (B)受到寒流侵襲
 (C)位於冬季冷高壓中心 (D)海拔地勢較高
- () 21. 中國的水資源受到降水量的影響，分布呈現區域差異。根據上述，中國的降水空間分布為何？
 (A)東南向西北遞增 (B)東北向西南遞減
 (C)東南向西北遞減 (D)東北向西南遞增
- () 22. 三峽大壩為中國境內最大水庫，提高水資源開發率，但卻也帶來諸多環境問題。下列哪項影響為興建水庫帶來的正面效益？
 (A)水庫淹沒區內水位升高，增加原有的河川生態環境 (B)水位提高，萬噸船隻得以抵達重慶
 (C)下游泥沙量變多，平原面積增加 (D)水庫儲水，得以北調至新疆地區救急
- () 23. 中國水資源分布有什麼樣的特色？
 (A)全年水資源豐沛 (B)全年水資源不足
 (C)夏季水資源不足，冬季水資源豐沛 (D)夏季水資源豐沛，冬季水資源不足
- () 24. 「南稻北麥」這個名詞清楚地說明中國南北迥異的作物栽培種類。該名詞中的「南、北」以下列何者做為劃分依據？
 (A)長江 (B)黑河—騰衝連線
 (C)黃河 (D)秦嶺—淮河線
- () 25. (甲)珠三角(乙)京津唐(丙)長三角是中國東部沿海地帶最主要的三個工業區。若由南而北排列，下列順序何者正確？
 (A)甲乙丙 (B)甲丙乙 (C)丙乙甲 (D)乙丙甲
- () 26. 行所發表的世界發展報告。請依表中資料判斷，下列哪個人的說法完全正確？

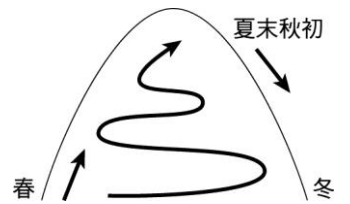
國家	世界	中國	美國	澳洲
可耕地總面積 (萬公頃)	1,773,528	124,145	176,850	52,875
每人可耕地面積 (公頃/人)	0.24	0.10	0.66	2.85

- (A)「澳洲每人可耕地面積較世界平均值大。」
 (B)「美國每人可耕地面積比世界平均值小。」
 (C)「中國是表中可耕地面積最小的國家。」
 (D)「中國境內的可耕地面積較美國大。」

- () 27. 地理老師在課堂上出示如附圖的土壤鹽鹼化過程圖，詢問全班圖中甲處所代表的是什麼動作，下列哪位同學的回答正確？
 (A)施肥 (B)灑藥 (C)播種 (D)灌溉



- () 28. 青藏鐵路的建設為中國重大的世紀工程之一，在青藏鐵路的建設過程中，「凍土」的問題最易造成建築下陷問題。該地區出現凍土與下列哪項地理特徵有關？
 (A)緯度高 (B)地勢高聳
 (C)土質特殊 (D)汙染造成
- () 29. 中國擁有的淡水資源全世界名列前茅，但是每人平均水資源卻遠少於世界其他國家，是水資源貧乏的國家之一。造成此一現象的根本因素為何？
 (A)人口眾多 (B)山多平原少
 (C)分布不均 (D)汙染嚴重
- () 30. 附圖為畜牧方式的一種，這種畜牧方式主要分布哪一區？
 (A)青藏高原 (B)蒙古高原
 (C)華北平原 (D)珠江三角洲



- () 31. 一國境內所有生產機構，在一年中生產的產品價值與勞務所得，稱為？
 (A)HP (B)MP (C)GDP (D)GNP
- () 32. 中國瞄準其西部地帶的位置優勢，提出絲綢之路經濟帶構想，企圖打開國際市場，下列何者並非此一計畫針對的對象？
 (A)印度 (B)中亞 (C)歐洲 (D)俄羅斯
- () 33. 中國沙塵暴是指下列哪一帶地表塵土被風夾帶而成？
 (A)青藏高原 (B)雲貴高原
 (C)蒙古高原 (D)東北平原