

【選擇題】1-40 題，每題 2.5 分。

- 當甲、乙兩人使用同樣資源生產同一件產品時，甲的產量比乙多，代表甲符合下列何項概念？【習作】
(A)絕對利益 (B)比較利益 (C)相對機會成本較小 (D)相對機會成本較大。
- 我國政府成立「職訓中心」，主要是為了幫助下列何者就業？
(A)缺乏求職行動者 (B)缺乏特定工作能力者 (C)缺乏工作意願者 (D)沒有工作需要者。
- 對於家庭經濟規畫的敘述，下列何者正確？(A)男性為一家之主，必須承擔較多責任 (B)女性應自動放棄財產的使用權利 (C)國中階段的子女，可用分擔家務方式幫忙 (D)在繼承權上，兒子享有優先權。

- 右表為四個國家一年來的進、出口資料。根據內容判斷，哪一個國家該年出現貿易順差？【習作】
(A)甲國 (B)乙國 (C)丙國 (D)丁國。

	甲國	乙國	丙國	丁國
出口項目(種)	288	760	450	899
進口項目(種)	355	1000	300	763
出口總值(億美元)	263	550	133	798
進口總值(億美元)	440	612	140	687

- 面對多元的理財工具，投資者應抱持何種理念？
(A)高報酬通常伴隨高風險 (B)購買股票或是基金，只要長期持有，一定賺錢 (C)自己理財遠比委託專家省時省力 (D)理財工具歷年的報酬率等於未來收益。【習作】
- 下列為四位同學對比較利益法則的理解，何者觀念正確？【習作】
(A)小芬：每個國家只進口本國具比較利益的產品 (B)小文：比較利益法則是分工的基礎
(C)小珊：價格低多買即是符合比較利益法則 (D)小蕙：比較利益法則運用的是絕對優勢。

- 右圖為子陽在雜誌裡看到的內容。根據內容判斷，該本雜誌主要在探討下列哪一經濟概念？
(A)比較利益 (B)絕對利益 (C)需求法則 (D)供給法則。

說到雪茄你想到哪個國家？
【古巴】
說到葡萄酒你想到哪個國家？
【法國】
各國從事其最擅長的生產，也建立了與眾不同的產業文化

- 琬菁統計自己一天 8 小時能製作 12 個麵包或 4 個蛋糕，佳純幫自己計時平均製作一個麵包需花 1 小時、製作一個蛋糕需 2 小時。請問：琬菁、佳純製作麵包的機會成本分別是多少？
(A)1/3、2 (B)1/3、1/2 (C)3、2 (D)3、1/2。

- 承上題，下列敘述何者正確？
(A)琬菁在製作麵包上具有絕對利益 (B)佳純在製作蛋糕上具有絕對利益
(C)佳純在製作麵包上具有比較利益 (D)琬菁在製作麵包及蛋糕上都具有絕對利益。
- 著名的社群網路-臉書(Facebook)使用人數破十億，全球約有七分之一的用戶，其創辦人祖克伯(Mark Zuckerberg)目前身價 484 億美金，更曾當選時代雜誌的年度風雲人物。祖克伯無疑是個成功的創業者，關於創業，下列敘述何者正確？ (A)他們是創業者，也是受僱者 (B)自行創業比受僱於人輕鬆 (C)只要公司現在賺錢，未來就不用考慮風險 (D)必須體察大環境的變化並充電學習。

- 右圖為承安所寫的公民報告，由內容可以判斷為下列哪一項理財工具的介绍？(A)債券 (B)銀行存款 (C)股票 (D)共同基金。

◎投資人將資金交給專業的機構管理。
◎必須支付一定的管理費。
◎獲利不固定，但投資風險可由大家共同分擔。

- 孝順的欽智國中畢業後，想找工作自力更生，卻無法如願，依「就業的基本要素」而言，他最可能缺乏哪一項要素？
(A)大學文憑 (B)工作意願 (C)工作能力 (D)工作行動。

- 下表為某國去年度的進出口資料，請根據表中數值判斷哪一季貿易逆差金額最大？(A)第一季 (B)第二季 (C)第三季 (D)第四季。

	第一季	第二季	第三季	第四季
出口總額	200	300	100	500
進口總額	600	200	450	100

- 依據課堂所學，請問下列有幾位是失業者？ (甲)尚就在讀研究所的家明 (乙)在家帶小孩管理家務的佩慈 (丙)正在服兵役的勁宏 (丁)工廠遷至東南亞而沒有工作的紀弦 (戊)從事網拍在家工作的瑋捷 (己)經濟不景氣被裁員的世嘉 (庚)宅在家不去找工作的阿德
(A)一位 (B)兩位 (C)三位 (D)四位。

15. 上公民課時，老師請四位同學就「家庭經濟規畫」課題分享經驗。請問：下列何人的理財態度正確？
 (A)沈濤：「古人說：『今朝有酒今朝醉』，所以我不想擔憂未來。」
 (B)怡樺：「先買先享受，錢花光再跟父母伸手拿。」
 (C)芳辰：「我逛街時會不時提醒自己『當用則用，當省則省』。」
 (D)詠翔：「國中生專心念書就好，理財的事情等進社會工作時再想。」

16. 阿民剛被公司裁員，投一陣子履歷仍然沒有下文，請問：阿民應該可利用下列哪些管道繼續尋找新的工作機會？(甲)參加職業訓練課程 (乙)從人力網站中獲取求職訊息 (丙)向各縣市就業服務中心請求協助 (丁)多看報上的徵人廣告 (A)甲乙丙丁 (B)甲乙丙 (C)乙丙丁 (D)甲乙丁。

17. 右表是班上四位同學每小時可製作檸檬愛玉或珍珠丸子的數量。若以機會成本的觀念來比較每位同學製作檸檬愛玉或珍珠丸子的數量，在不考慮其他條件的情形下，哪一位同學製作「珍珠丸子」的機會成本**最低**？

	光婷	勁宏	曉沛	勝安
檸檬愛玉(份)	5	6	3	5
珍珠丸子(顆)	15	12	6	4

- (A)光婷 (B)勁宏 (C)曉沛 (D)勝安。
 18. 下表為慧琳一個月的收支狀況，請問慧琳投入「理財」的金額總共有多少錢？
 (A)5 萬元 (B)3 萬 7 仟元 (C)1 萬元 (D)1 萬 5 仟元。

項目	薪水	房租	三餐伙食費	交通費	買基金	儲蓄保險費	銀行定存	雜支
金額(元)	5 萬	1 萬	6 仟	3 仟	5 仟	5 仟	5 仟	3 仟

19. 聯合國旗下的國際勞工組織 (International Labour Organization, 簡稱 ILO) 指出，2016 年全球失業人數已達 1.99 億人規模，預計 2017 年將突破 2 億人。請問：下列何者**不是**降低失業率有效的作法？ (A)鼓勵求職者積極投擲履歷應徵 (B)政府提供多元的就業資訊及職業訓練課程 (C)政府開放工資低廉的外籍勞工進入勞動市場 (D)提供 20 歲至 45 歲國民青年創業貸款。



20. 2013 年，巴西幣貶值，幣值創四年來低點，連帶影響該國的進出口貿易。若其他條件不變的情況下，此幣值波動對巴西咖啡產業造成的影響，下列何者正確？ 【104 會考】
 (A)巴西為出口國，此種波動有利咖啡出口 (B)巴西為出口國，此種波動不利咖啡出口
 (C)巴西為進口國，此種波動有利咖啡進口 (D)巴西為進口國，此種波動不利咖啡進口。

21. 小英和阿泉一起編製竹筐和斗笠，依比較利益法則進行分工，阿泉被分配去製作竹筐，右表是他們每小時所能製作數量的部分數據。根據上述內容判斷，下列敘述何者正確？ 【104 會考】

	竹筐	斗笠
小英	6	●
阿泉	3	●

單位：個

- (A)小英在製作斗笠上具有絕對利益 (B)阿泉在製作斗笠上具有絕對利益
 (C)小英製作斗笠的機會成本比較高 (D)阿泉製作斗笠的機會成本比較低。

22. (2017/1)據報導：「國際貨幣基金 (International Monetary Fund, 簡稱 IMF) 發布 2016 年第 3 季(7-9 月)的全球外匯存底數據顯示，全球外匯存底總額增加，突破 11 兆美元大關。但全球各地央行增持其他國家貨幣，美元所占比重下跌至 2 年低點。」請問：文中所謂的「外匯」，下列哪一項敘述正確？



- (A)指國與國之間貨幣的兌換比率 (B)可以作為國際支付工具的外國貨幣
 (C)當國家貿易入超多時，容易累積大量外匯 (D)代表不同國家之間的商品交易活動。

23. 下表為念澄和柏浩兩人各花一個月的時間做面紙盒和置物架的成果，兩人若想增加產量，依據比較利益原理，該怎麼分工？

	念澄	柏浩
面紙盒	4	8
置物架	3	5

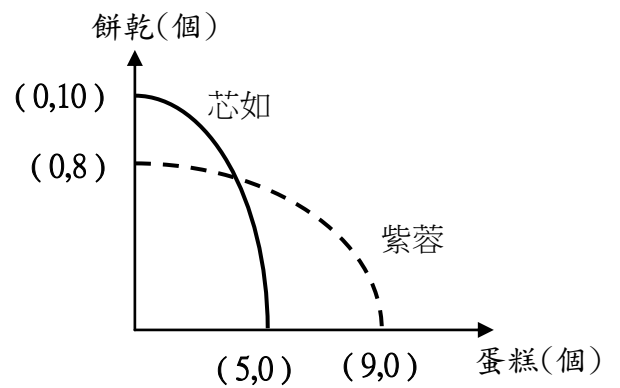
- (A)念澄做面紙盒，柏浩做置物架 (B)兩人各生產一半
 (C)念澄做置物架，柏浩做面紙盒 (D)全由念澄做即可。

24. 為了讓全家過得更好，一向勤儉持家的媽媽要求全家進行「節流」大作戰，大家七嘴八舌提出各項建議。請問：下列何者所提的內容是較好的節流方法？

- (A)爸爸：「我決定下載記帳 App 每天記載花費，省思必要開支。」
 (B)小弟：「我可以把沒用過的禮物拿去上網拍賣。」
 (C)大哥：「我可以學韓語，培養第二專長。」
 (D)二姐：「我去申請信用卡，看哪家的分期付款利率最優惠。」

另一頁還有題目

25. 右圖為芯如(實線)與紫蓉(虛線)兩人一天內製做餅乾與蛋糕的生產組合圖，橫軸代表作蛋糕的數量，縱軸代表作餅乾的數量。請依右圖判斷，下列何者敘述正確？
- (A) 芯如在做蛋糕方面具有「絕對利益」
 (B) 紫蓉在做餅乾方面具有「絕對利益」
 (C) 芯如在做蛋糕方面具有「比較利益」
 (D) 紫蓉在做蛋糕方面具有「比較利益」。



26. 小岩、小太與小冬三人，以同時段由其中二人工作的方式輪班生產饅頭與包子，且每人一次只負責生產一項產品，右表為他們的產能狀況。若小太與小岩搭檔生產時，小岩在生產饅頭上具有比較利益；而小太與小冬搭檔生產時，小冬在生產包子上具有比較利益，根據表中資料判斷，甲最可能為下列何者？ 【105 會考】

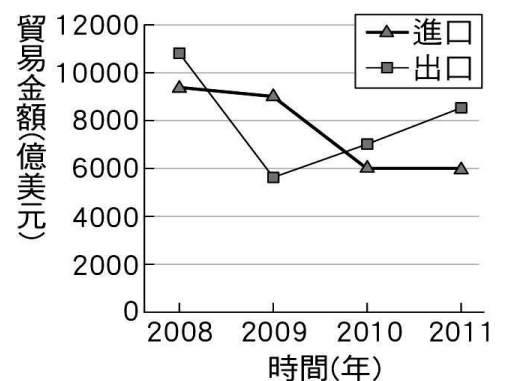
	饅頭	包子
小岩	50	40
小太	40	甲
小冬	25	25

27. 右表是大榮家一年來理財投資結果的分析表。根據表中內容判斷，大榮家所選擇的各項投資工具中，何者的投資報酬率最高？ 【104 會考】
- (A) 股票 (B) 債券 (C) 基金 (D) 存款。

投資工具	投入金額 (萬元)	獲利金額 (萬元)
股票	50	1
債券	100	2
基金	20	1
存款	25	0.5

28. 伊婷雖不擅長投資理財，卻謹記投資理財的名言「不要將所有的雞蛋放在同一個籃裡」，下列哪一位的理財原則與伊婷不同？ (A) 宸瑋將年終獎金全部拿去買股票 (B) 欣怡將薪水的 1/2 規畫購買保險 (C) 姿霓將定存解約，拿去購買共同基金、債券及保險 (D) 筠瑋每個月拿出 5,000 元，定時定額購買共同基金。

29. 右圖為甲國在 2008 年至 2011 年進出口貿易的年度資料。根據圖中內容判斷，甲國在下列哪一年的貿易出超金額最多？ 【102 基測】
- (A) 2008 年 (B) 2009 年 (C) 2010 年 (D) 2011 年。



30. 鈺琨製造的腳踏車出口到美國，售價為新台幣 30,000 元，若美元兌台幣的匯率由 1:30 變成 1:35，請問：此時腳踏車的售價對美國人而這有何變化情形？對我國的出口產業有何影響？
- (A) 變貴／不利 (B) 變貴／有利 (C) 變便宜／不利 (D) 變便宜／有利。

31. 請根據右表判斷兩國在此情況下應如何進行貿易？ (提示：先將每項工作所需的時間轉換成每項工作的產量)

	甲國	乙國
生產腳踏車	24 小時	24 小時
生產汽車	16 小時	32 小時

(工時：8 小時 / 1 天)

32. 下列是席珍這一年將財產投資到不同理財工具的結果，請問何項理財工具的投資報酬率最高？
- (A) 以每股 70 元買進某電子股，以每股 95 元賣出
 (B) 新台幣兌歐元匯率為 45 元新台幣：1 歐元時買進，並於匯率 40：1 時售出
 (C) 每坪 30 萬的價格買進 20 坪的房子，以每坪 40 萬賣出
 (D) 銀行定期存款 100 萬，年利率 1.5%。

33. 右表為晏欣與碇鈞每個月用電腦所能繪製出邀請卡及海報的產量。已知晏欣在繪製邀請卡上具有絕對利益，但若依照比較利益法則，她將負責繪製海報。請根據上述內容判斷，附表中的甲、乙最可能為下列何者？

	邀請卡	海報
晏欣	8	甲
碇鈞	乙	4

- (A) 甲：4，乙：8 (B) 甲：5，乙：8 (C) 甲：4，乙：7 (D) 甲：5，乙：7。

34. 右表為我國某年 9 至 12 月每 1 元外幣兌換新臺幣的匯率變動狀況。請問：依據右表所示，下列敘述何者正確？ (甲) 人民幣貶值 (乙) 韓圓升值 (丙) 進口歐洲商品對台灣有利 (丁) 出口商品至日本對台灣有利
- (A) 甲乙 (B) 乙丙 (C) 丙丁 (D) 乙丁。

外幣：新臺外幣	9月	12月
歐元	1：37.96	1：34.28
人民幣	1：4.65	1：5.0
日圓	1：0.30	1：0.25
韓圓	1：0.025	1：0.027

35. 下表是新民國去年進出口貿易的統計資料，由表中內容可判斷以下何者正確？

- (A) 新民國為貿易入超國
- (B) 以發展勞力密集產業為主
- (C) 生產電子資訊產品的機會成本較機械設備低
- (D) 生產農工原料具有比較利益。

	項目	數值(億美元)
出口概況	電子產品	760
	資訊、通訊產品	590
	金屬零件及其製品	350
	其他	87
進口概況	農工原料	350
	機械設備	200
	消費品	315

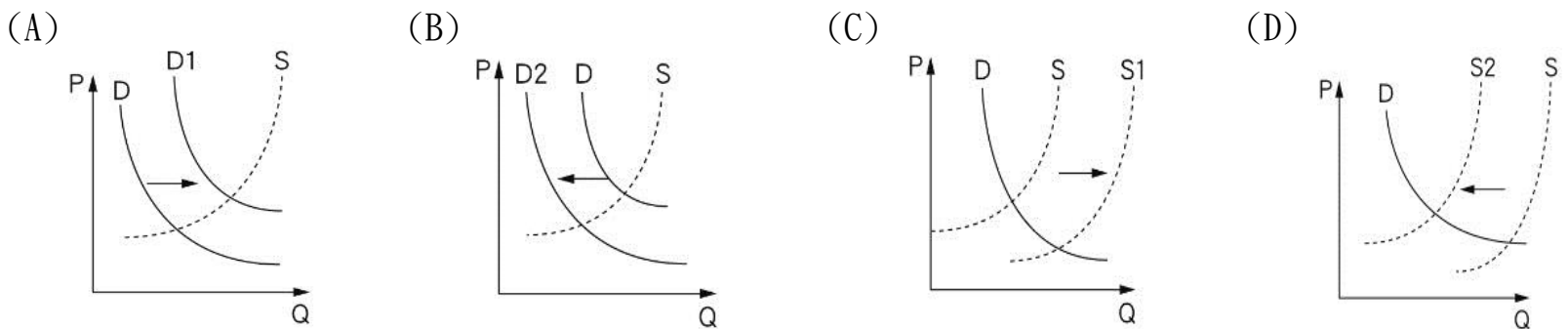
36. 下列是各項理財工具的比較表，哪一選項的內容有誤？

	銀行存款、債券	共同基金	股票
(A) 報酬	較低	較債券、銀行存款低，較股票高	較高
(B) 獲利	固定	不固定	不固定
(C) 風險	低	中	高
(D) 屬性	保守	穩健積極	積極

【2017/01/01 綜合新聞】中油公司宣布 2017 年第一週的油價調漲...中油公司表示，主要是受石油輸出國家組織（OPEC）和其他產油國協議自 1 月起將減產影響，油價受到國際原油交易市場高度關注而上漲、加上新台幣□值因素影響，購油成本增加，致使本週價格上揚，依浮動油價機制計算，明晨 0 時起調漲各式汽、柴油價格...。中油公司強調，國內油價每週依據計價公式隨國際油價變動調整，有漲有跌，調幅大小完全取決於公式的計算結果。



37. 文中「石油輸出國家組織（OPEC）和其他產油國協議自 1 月起將減產影響」導致價格上漲，請從下列圖示中選出代表引號所述之石油市場的供需變動狀況？



38. 依據前後文意推測，文中「新台幣□值」使購油成本增加，應填充下列何者最為正確？

- (A) 新台幣升值 (B) 新台幣貶值。

39. 承上題，依據台幣的狀況，下列哪些項目的經濟活動在目前是有利的？(甲) 想要出口自行車至美國的庭茶；(乙) 想從美國進口保養品的品萱；(丙) 住在美國想買 ASUS 平板電腦的宏維；(丁) 想買美元定存的臺灣阿嬤

- (A) 甲、丁 (B) 乙、丁 (C) 甲、丙 (D) 丙、丁。

40. 新台幣的升值或貶值主要是靠市場供需力量決定，但必要時，我國政府的哪一機關可以透過參與外匯的買賣來影響匯率？(A) 經濟部 (B) 台灣銀行 (C) 中央銀行 (D) 財政部。

試題完成 恭喜同學 寒假平安愉快