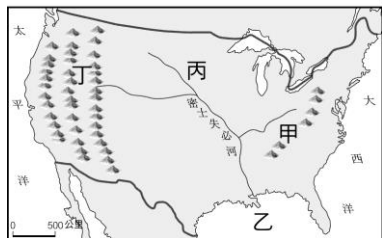


臺北市立新民國民中學 105 學年度第一學期地理科九年級第三次段考

班級： 座號： 姓名：

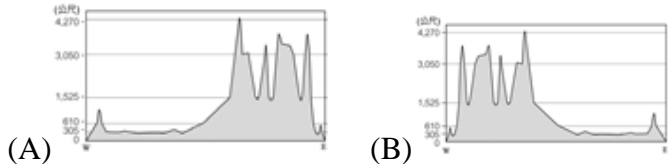
一、單選題：1-32 題，每題 3 分；33 題 4 分

- () 1. 北美中部地區最易受到冷氣團侵襲，溫度驟降造成大雪紛飛的情景，為何北美中部易受冷氣團侵襲？
 (A)大河流經 (B)緯度高
 (C)臨墨西哥灣 (D)地形平坦
- () 2. 宥宥與女友湘湘想參加「魁北克省冬季嘉年華八日遊」，裡面主要的行程有狗拉雪橇大賽、冰上曲棍球大賽、划獨木舟渡河等活動。這趟旅行所去的地方可能是哪一國家或地區？
 (A)阿根廷 (B)阿拉斯加 (C)加拿大 (D)美國
- () 3. 北美洲範圍廣大，區域性氣候現象常常發生，下列敘述何者正確？
 (A)美國東南沿海及加勒比海沿岸颶風侵襲最常發生於夏季 (B)中南部大平原在秋冬之際常有龍捲風災害 (C)冬春之際由於北方沙塵南下，東南沿海會有沙塵暴現象 (D)暴風雪的發生機會不高，每間隔數年才會發生一次
- () 4. 北美洲是全球湖泊最多的大陸，此一現象和下列何者關係最密切？
 (A)火山活動頻繁 (B)地勢低窪易積水
 (C)曾受冰河影響 (D)斷層陷落造成
- () 5. 美、加兩國可以共用哪條河川來運送產品外銷？
 (A)密士失必河 (B)亞馬孫河
 (C)聖羅倫斯河 (D)拉布拉他河
- () 6. 新聞快訊：「北美洲中部受到強烈的龍捲風侵襲，有幾處民宅受到毀壞……。」推測這則報導最有可能是發生在什麼季節？
 (A)春夏交替 (B)夏秋交替
 (C)秋冬交替 (D)四季皆有
- () 7. 美國氣候多樣，也有溫帶地中海型氣候，哪個城市即在這種氣候區中？
 (A)邁阿密 (B)洛杉磯 (C)波士頓 (D)休士頓
- () 8. 附圖是美國簡圖，圖中哪個地點在最接近美國主要石油產區？



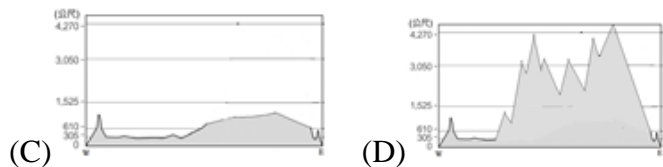
(A)甲 (B)乙 (C)丙 (D)丁

- () 9. 北美洲面積遼闊，大致可分為三大地形區。若沿著北緯 40 度由西向東繪製地形剖面圖，下列何者正確？



(A)

(B)

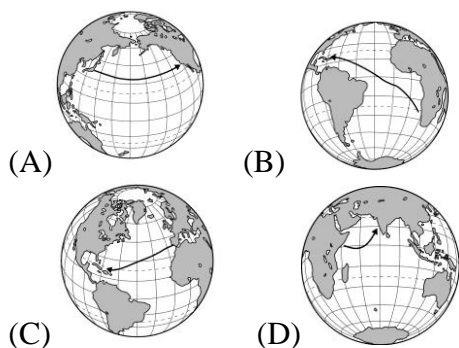


(C)

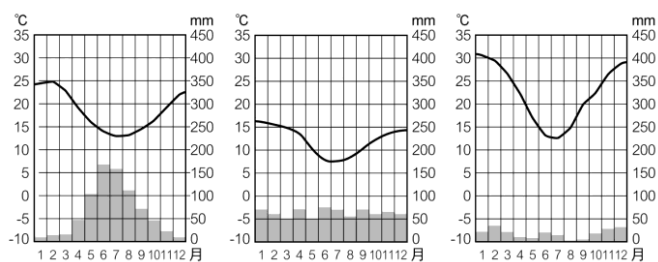
(D)

- () 10. 美國境內的內華達州，乾燥少雨且溫差大，對當地發展的限制極大。該氣候區主要的成因為下列何者？
 (A)位於背西風坡 (B)高度垂直變化
 (C)副熱帶高壓籠罩 (D)拉不拉多寒流影響
- () 11. 美、加兩國除原住民外，人口組成以外來移民為主，其中美國境內以哪個族裔的人口比例最高？
 (A)亞洲 (B)非洲 (C)歐洲 (D)中南美洲
- () 12. 「該城市是北美的第一大城及第一大港，在 2001 年 9 月 11 日，該城的世貿雙子星大樓被中東恐怖分子所挾持的民航客機撞毀，引起世界震驚。城市內所有交通立刻受到嚴密管制。」文中所指的是下列哪個都市？
 (A)倫敦 (B)紐約 (C)東京 (D)巴黎
- () 13. 怡君身為某地區的農夫卻不曾親自下田，他只負責接客戶訂單，選定作物種類後聯絡播種公司幫忙播種，上述這樣的農業耕作方式，最有可能出現在哪個地區？
 (A)季風亞洲 (B)非洲 (C)北美洲 (D)北歐
- () 14. 美國常被稱為是「民族的大熔爐」，這句話最能反映出下列哪項事實？
 (A)美國原住民部落世界最多 (B)美國是各國移民的最熱門地點 (C)美國具有多元的文化 (D)強勢的美國文化影響世界其他民族
- () 15. 美國為世界主要的農業出口國，其所採取的經營方式極為粗放，原因為何？
 (A)人均耕地廣大 (B)總人口稀少
 (C)農耕技術不足 (D)市場需求不高
- () 16. 美國、加拿大與墨西哥於近年來成立何種經濟組織，目的希望透過分工方式結盟，以求工業進一步發展？
 (A)ASEAN (B)TPP (C)APEC (D)NAFTA
- () 17. 關於美洲地形的敘述，下列何者正確？
 (A)南北美山脈呈南北縱走，且屬於同一山系
 (B)北美西部為安地斯山脈，南美西部則為洛磯山脈
 (C)因山脈橫貫，美洲地形高聳，平原狹窄
 (D)南美東側山脈縱走，西側則為平原區
- () 18. 下列哪座山脈是南美洲的地形骨幹，山勢高峻、山形綿長，為世界最長的山脈？
 (A)洛磯山脈 (B)阿帕拉契山脈
 (C)安地斯山脈 (D)本寧山脈
- () 19. 巴西國土面積廣大，但人口與產業活動集中的都市和商港多位在東南部，此地區氣候暖濕，海運便利，工商業較為發達，請問此地的氣候類型為？
 (A)夏雨型暖溼氣候 (B)高地氣候
 (C)莽原氣候 (D)雨林氣候

- () 20. 中南美洲的哪個盆地，擁有全世界最大的熱帶雨林，生態種類豐富？
 (A)巴西高原 (B)亞馬孫盆地
 (C)彭巴草原 (D)巴塔哥尼亞高原
- () 21. 中美洲與南美洲西部地區火山和地震活動頻繁，可能原因為何？
 (A)接近海洋 (B)侵蝕作用劇烈
 (C)地處板塊交接處 (D)處於低緯度地區
- () 22. 南美洲的熱帶雨林面積廣大，被稱為「地球之肺」。此地廣大森林的形成與下列何者最相關？
 (A)赤道橫貫 (B)回歸線經過
 (C)開發程度低 (D)地勢低窪
- () 23. 哥倫布在 1492 年試圖從西班牙出海找尋印度，雖然沒有找到真正的印度，卻發現了新大陸，也就是今日的西印度群島。當時哥倫布船隊的航行路線，最有可能是下列哪張圖？



- () 24. 智利國土形狀十分狹長，氣候從北到南具有如附圖的三種類型，智利的氣候類型從北至南排序應為下列何者？



(甲) (乙) (丙)

- (A)甲→乙→丙 (B)乙→丙→甲
 (C)甲→丙→乙 (D)丙→甲→乙
- () 25. 若從事海上國際航運，自台灣前往紐約港，其最短路徑將會通過哪一條人工運河？
 (A)巴拿馬運河 (B)蘇伊士運河
 (C)中央大運河 (D)美茵—多瑙運河
- () 26. 南美智利西部沿海地區，除高壓壟罩外，亦受哪個洋流流經的影響，不易成雲致雨，形成沙漠氣候？
 (A)拉布拉多寒流 (B)秘魯涼流
 (C)親潮 (D)加利福尼亞涼流
- () 27. 南北美洲都是地跨低、中、高三個緯度，但南美洲沒有溫帶大陸性氣候，這是因為南美洲的哪項特性，導致有這樣的差別？
 (A)東臨大西洋、西濱太平洋 (B)安地斯山南北縱走
 (C)亞馬孫河大河橫貫 (D)陸地形狀呈倒三角形

- () 28. 中南美洲低緯地區熱帶栽培業發達，下列相關敘述何者正確？
 (A)因經濟作物利潤穩定豐厚，居民生活優渥
 (B)墨西哥的土壤肥沃，所種植的菸草品質優良，雪茄菸堪稱極品
 (C)熱帶栽培業作物通常選擇單一項目且專業化種植
 (D)由於技術進步，此區熱帶栽培作物也改以大規模機械式耕種
- () 29. 下列哪個國家在南美洲中，但是使用的語言卻和鄰近國家不同？
 (A)秘魯 (B)智利 (C)阿根廷 (D)巴西
- () 30. 中南美洲許多國家國內經濟不甚穩定，最主要是下列哪項因素所導致？
 (A)出口以輸出礦產與農業資源為主
 (B)經常有民族衝突事件發生
 (C)宗教信仰複雜而經常鬥爭
 (D)交通落後進出口不便
- () 31. 近年來，以勞工區位為考量的工廠，紛紛轉移到墨西哥北部，產品主要運銷美國。這種現象和下列哪項最有關係？
 (A)方便利用巴拿馬運河
 (B)墨西哥盛產貴重金屬
 (C)成立北美自由貿易區
 (D)墨西哥的糧食充足
- () 32. 歐洲殖民國家選擇在中南美洲發展栽培業的理由，下列何者為其中之一？
 (A)氣候冷乾 (B)人力充沛
 (C)當地需求高 (D)空運便利
- () 33. 近年來，巴西政府因人口激增，同時外來企業的進駐，使得下列哪一地區被大規模開發？
 (A)巴西高原 (B)亞馬孫盆地
 (C)安地斯山脈 (D)彭巴草原