

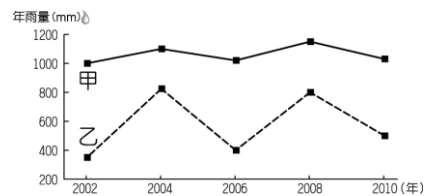
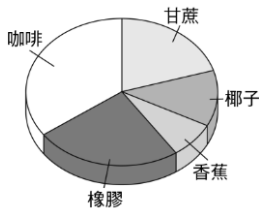
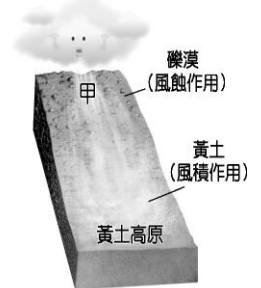
臺北市立新民國中 105 學年度第二學期地理科第一次段考(八年級)

範圍：南部地區、北部地區

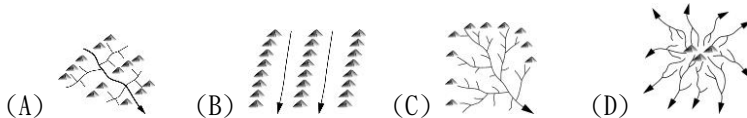
年 班 號 姓名

一、選擇題：每題 3 分，54 %

- 雲貴高原成為中國少數民族系最多的地區，主要是受下列哪項因素的影響？(A)地形起伏大，交通往來不便 (B)氣候多樣，維生活動不同 (C)經濟發達，吸引各族聚居 (D)山多田少，人口移動頻繁。
- 雲貴高原的昆明環境幽靜，四季如春有「春城」之譽，其氣候比緯度差不多的廣州涼爽宜人的主要原因是什麼？(A)位於盆地地形(B)地勢較高，山上的溫度因而較低(C)白天日照時間比較短(D)南有高山屏障。
- 海南省為中國最南的一省，下列哪一句話，最能表現出海南的氣候特徵？
(A)一山有四季，十里不同天 (B)天無三日晴 (C)朝穿皮襖，午穿紗 (D)四時皆是夏，一雨便成秋。
- 右下附圖為黃土高原的形成示意圖，請根據圖中資料加以判斷，甲處應該為哪一個地形區？
(A)青藏高原 (B)東北平原 (C)蒙古高原 (D)塔里木盆地。
- 雲南省境內約有 1,800 多個「壩子」，壩子的耕地占全省耕地面積的三分之一以上，為當地民族帶來富足的生活與悠然生活的環境，為人口集中的精華區。請問：該精華區的地形種類為何？(A)高原 (B)臺地 (C)盆地 (D)丘陵
- 中國哪一條河流流域，上游有豐富的水力，中游有豐富的煤礦，下游有豐富的石油與天然氣，被稱為是中國的「能源流域」？(A)黃河 (B)松花江 (C)珠江 (D)長江。
- 左下圖為中國某地的農產種植面積比例圖。該地區最有可能位於下列何處？
(A)四川盆地 (B)雲貴高原 (C)嶺南丘陵 (D)海南島。



- 右上圖為甲、乙兩地區的年雨量變率示意圖。根據圖中資料判斷，請問：乙地最有可能是下列哪一個地理區？(A)松嫩平原 (B)華北平原 (C)東南丘陵 (D)長江三角洲。
- 長江三峽全長 192 公里，是長江最驚險的河段。現今中國已在三峽中段截流築壩，然而當初有不少人士反對三峽大壩工程的興建，主要是基於哪一方面的理由？(A)兩湖地區水患頻率增加 (B)長江下游將造成斷流現象 (C)自然及人文環境將受到嚴重的破壞 (D)工程經費龐大，政府財力無法負擔。
- 橫斷山脈的河川與山脈走向一致，雖富含水力，但是河岸兩邊的交通往來不便。下列示意圖中，何者最可能是橫斷山脈的水系類型？



- 洞庭湖的面積日漸縮小，已失去了中國第一大淡水湖的地位，受其影響最深的現象為何？
(A)漁獲量減少 (B)水災次數增加 (C)航運價值降低 (D)農作收穫減少。
- 聯結上海與洋山港的跨海大橋已經通車，洋山港將正式啟用，可以供國際大型貨櫃輪作業，使得上海港的航運規模大幅提升，對高雄港將造成極為不利的影響。上海為中國第一大港，然而在其外海興建洋山港的主要因素為何？(A)上海舊港泥沙淤積 (B)上海舊港波浪大 (C)上海舊港冬季結冰 (D)上海舊港口腹地不足。
- 東北地區降雨分布以長白山東南側雨量最多，下列哪一張降雨示意圖最能表現當地的降雨方式？
(A) (B) (C) (D)
- 中國華北地區礦產資源豐富，住在山西的陳老闆原本計畫年初時想利用水運，將 1 公噸煤礦運至京津唐工業區。後來，陳老闆取消水運運輸，改以鐵路作為運輸方式。請問：陳老闆取消水運的主要原因為何？
(A)河川結冰 (B)河水氾濫 (C)年溫差大 (D)颱風侵襲。
- 中國東北三江平原早期有「北大荒」之稱，而如今卻有「北大倉」之美名，其原因為何？
(A)機械化耕作 (B)排水設施改良 (C)土壤肥沃 (D)引江水灌溉

16. 「天津冬季河流結冰，使得港口冰封，反而緯度較高的秦皇島，因為海港的鹽度較高不易結冰，貨物可以轉往此地出海……。」請問：文中所指的河流為下列哪一條？(A)遼河 (B)淮河 (C)海河 (D)黃河。
17. 北韓前領導人由於害怕恐怖襲擊，故無論外出視察或出訪，均無搭乘飛機的習慣。任內七次出訪中國均是搭乘專列火車，經過新義州、丹東、瀋陽、抵達北京。由於此特殊習慣，當出訪中國時，日、韓媒體紛紛守在「中韓界河」的跨境大橋上，即能捕捉到專列經過的照片，請問「中韓界河」指的是哪一條河川？(A)烏蘇里江 (B)松花江 (C)黑龍江 (D)鴨綠江。
18. 中國的東北平原適合大規模機械化耕作，是因東北平原具備哪一優越條件？(A)平原面積廣大 (B)氣候溫和溼潤 (C)土層深厚肥沃 (D)礦產資源豐富。

二、整合題：每題 2 分，46 %

※ 若英在某旅遊雜誌看到二張圖(一)和圖(二)的風景照片。請問：



圖(一)





圖(二)

19. 圖中的景觀，在華南那那些省區內最容易見到？(A)廣西、貴州、雲南 (B)海南、雲南、貴州 (C)福建、廣東、廣西 (D)廣東、廣西、貴州。
20. 圖中的特殊地形景觀，主要是由下列何種作用力所造成的？(A)河流侵蝕 (B)風力侵蝕 (C)溶蝕作用 (D)火山作用。
21. 圖(二)景觀中所代表的地形為何？(A)石柱 (B)石筍 (C)鐘乳石 (D)峰林。

※ 左下圖為中國華南地區沿海的海岸示意圖，圖中海岸線曲折，島嶼羅列，港灣眾多。請問：

22. 曉華閱讀華南地區的地圖時，發現福建、廣東一帶的海岸都彎彎曲曲，這是因為下列哪些因素造成的？(A)海平面上升 (B)河流沖積 (C)地震斷層 (D)古陸塊上升。
23. 福建沿海多島嶼，其成因主要是 (A)山脈沈海，山頭露出水面而成 (B)火山噴發而成 (C)珊瑚礁堆積而成 (D)沙洲堆積而成。



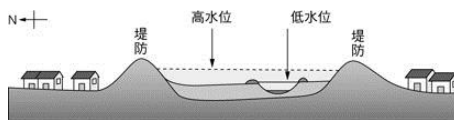
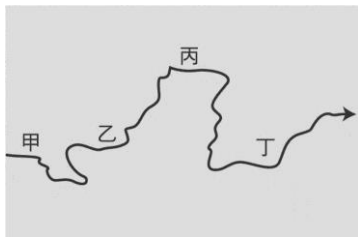
※ 右上圖為中國某一地區的传统建築景觀示意圖。請問：

24. 圖中的住屋型式，最可能出現在中國哪一個地理區？(A)東南丘陵(B)四川盆地(C)華北平原(D)黃土高原。
25. 該地區居民選擇此種居住型態，最主要的原因為何？(A)盜匪橫行，易於躲避 (B)氣候乾燥，缺乏建材(C)接近田地，便於耕作 (D)造型美觀，容易建造。

※ 中國長江流域的三大盆地分別為：(甲)兩湖盆地 (乙)鄱陽湖盆地(丙)四川盆地。盆地的氣候溫暖，物產豐富，人口密集，為長江流域的精華區。請問：

26. 長江流域的盆地，愈向西，冬季愈溫暖，造成此一現象的主因是愈向西，愈具有下列何種地理特徵？(A)距離海洋愈遠 (B)河川湖泊愈多 (C)北面山地愈高 (D)盆底地勢愈低。
27. 中國長江流域的三大盆地，夏季都較其他省分溼熱，有「火爐」之稱影響這些地區溼暑難當的共同因素為何？(A)緯度的高低 (B)盆地的地形 (C)距海的遠近 (D)人口的多寡。
28. 長江流域三大盆地，若由下游往上游排列，正確的順序是下列哪一項？(A)甲乙丙 (B)甲丙乙 (C)乙甲丙 (D)丙甲乙。

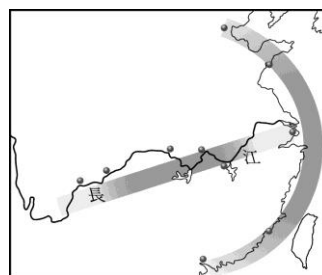
※ 黃河發源於青海省的巴顏喀喇山，途中流經九個省區，於山東省注入渤海，綿延五千多公里。下圖為黃河流域簡圖，請回答下列問題。



29. 右上圖為黃河某一河段的剖面圖，該剖面最可能出現在左上圖哪個河段？(A)甲 (B)乙 (C)丙 (D)丁。
 30. 承上題，形成此種河床剖面特性的主要原因是什麼？ (A)板塊擠壓，陸地隆起 (B)流經高地，地勢陡升 (C)地勢陡降，泥沙淤積 (D)兩側侵蝕，水土流失。
 31. 根據統計，從西元 1972 至 1999 年的 28 年中，黃河共有 22 年發生斷流的現象。請問：造成這種現象的原因可能是下列何者？ (A)夏季降雨集中 (B)河川含沙量過大 (C)中上游開發興建水庫 (D)下游圍河造田。

※ 在下列題目選出適當答案：(甲)哈爾濱 (乙)香港 (丙)瀋陽 (丁)大連 (戊)上海 (己)昆明 (庚)北京 (辛)西安 (壬)天津 (癸)重慶。


32. 下列哪一個都市冬溫最低、年溫差最大？(A)甲 (B)庚 (C)壬 (D)癸。
 33. 哪一個城市港闊水深，冬不結冰，是東北地區最重要的海港，造船、化學等工業亦發達？ (A)甲 (B)丁 (C)戊 (D)壬。
 34. 「這是一座歷史相當悠久的城市，中國歷史上的西周、西漢、隋、唐等朝代，均建都於此地，該地且為古代陸上絲路的起點，城內名勝古蹟眾多，如秦皇陵兵馬俑、、、、。」上文所描述的最可能是下列哪一個城市？(A)丙 (B)戊 (C)庚 (D)辛。
 35. 在下列哪一個都市可發現具有異國情調的教堂(左下圖)的形式？ (A)甲 (B)乙 (C)戊 (D)己。



36. 右上附圖為 T 字型交通帶的示意圖。是在說明哪一個都市位置的優越性？ (A)乙 (B)丁 (C)戊 (D)壬。

※ 在下列題目選出適當答案：(甲)四川盆地 (乙)山東丘陵 (丙)東南丘陵 (丁)橫斷山脈 (戊)雲貴高原 (己)黃土高原 (庚)東北平原 (辛)華北平原 (壬)長江三角洲 (癸)珠江三角洲。

37. 「因為生長季長，所以農業發達，南北方作物皆可生產，有天府之國的美稱。」以上所描述的地區較可能是那一地區？ (A)甲 (B)庚 (C)壬 (D)癸。
 38. 「此區的居住景觀很特別，馬路建在房屋的上方，有『人家半鑿山腰住，車馬多從頭頂過』的俗諺。」左下圖所描述的是何區？ (A)甲 (B)丁 (C)戊 (D)己。



39. 如右上圖：「這裡有縱橫交錯的河網地區、精緻的石橋、傍河而築的民居。河流是鎮上的大街小巷，河道很熱鬧，船隻來往交錯，載運著旅客和貨物。」文中敘述的景觀，最可能出現在下列哪一個地區？(A)甲 (B)戊 (C)辛 (D)壬。
 40. 「……這裡夏短冬長，土壤的色澤黑潤，具有良好的保水性、保肥性，人稱『土中之王』。」文中所描述的地方最可能位於下列哪一地區？(A)甲 (B)戊 (C)庚 (D)辛。
 41. 右附圖的地形山高水急，橫越困難，故發展出此種特殊的交通方式，圖中的交通方式最可能出現在下列哪一地區？(A)甲 (B)丙 (C)丁 (D)戊。

