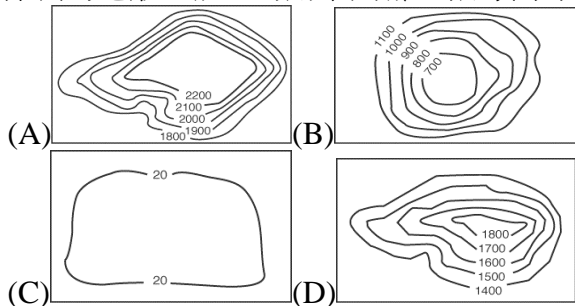


臺北市立新民國國民中學 105 學年度第二學期地理科九年級第一次段考

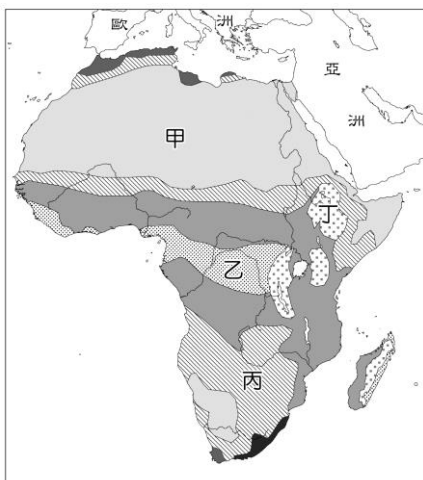
班級： 座號： 姓名：

一、選擇：1-32 每題 3 分、33 題 4 分

- ( ) 非洲的蘇伊士運河可連絡地中海與紅海，其大幅縮短下列哪兩大海域之間的距離？ (A)印度洋與太平洋 (B)太平洋與大西洋 (C)大西洋與印度洋 (D)太平洋與北極海。
- ( ) 東非大裂谷，是世界最長的裂谷帶，而形成該種地形景觀的主要作用力為何？ (A)斷層陷落 (B)火山作用 (C)冰河侵蝕 (D)風力吹蝕。
- ( ) 非洲大陸的主要氣候帶中，何種氣候類型溫和且為適合人居？ (A)熱帶莽原氣候 (B)熱帶雨林氣候 (C)溫帶地中海型氣候 (D)熱帶沙漠氣候。
- ( ) 非洲位於南、北回歸線附近的地表呈現熱帶沙漠的景觀，造成該地乾燥少雨的主要原因為何？ (A)副熱帶高氣壓籠罩 (B)距海遙遠 (C)寒流流經 (D)位於背風側。
- ( ) 下列何者是非洲早期南北交通往來的最大的屏障 (A)戈壁沙漠 (B)撒哈拉沙漠 (C)喀拉哈里沙漠 (D)塔克拉瑪干沙漠。
- ( ) 非洲的地形主體，可用下列哪一張等高線圖表示？



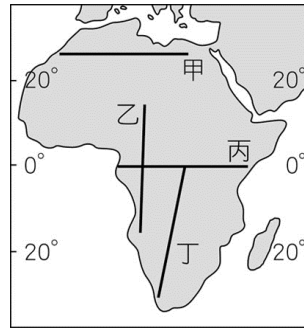
- ( ) 家明的蜜月旅行到非洲某地旅遊，回國後告訴大家：「那裡的氣候和美國佛羅里達州與南美巴西東南沿岸非常相似呢！」請問：家明應該是到了下列何處？ (A)東非索馬利亞 (B)北非地中海沿岸 (C)南非東南端 (D)西非幾內亞灣沿岸。
- ( ) 非洲何種氣候類型是大型動物如長頸鹿、獅、豹、大象、犀牛等動物的天堂？ (A)熱帶雨林氣候 (B)熱帶莽原氣候 (C)熱帶沙漠氣候 (D)溫帶地中海型氣候。
- ( ) 古希臘的歷史學家說：「埃及是一個獲得河流賜予的國家。」古埃及文明的建立與尼羅河的定期氾濫息息相關。請問：尼羅河的定期氾濫和下列何項地理要素最相關？ (A)地形 (B)氣候 (C)土壤 (D)種族。
- ( ) 附圖為非洲四地區的位置圖，請問：圖中何處有最大的生物資源寶庫？ (A)甲 (B)乙 (C)丙 (D)丁。




- ( ) 造成非洲夏雨型暖溼氣候的出現與哪一風向的「信風」有關？ (A)東北風 (B)東南風 (C)西北風

(D)西南風。

- ( ) 新民大富豪柏叡開直升機帶慧琳看美景，請問他沿著附圖 1 上哪一條路線飛行，才能依序見到如附圖 2 所示的天然植物景觀變化？ (A)甲 (B)乙 (C)丙 (D)丁。



▲圖 1



▲圖 2

- ( ) 「全境以高原為主體，海岸陡直，少灣澳、島嶼，船隻不易進入；加上廣大沙漠的阻隔，造成南、北文化差異很大，曾被稱為『黑暗大陸』。」請問：以上描述的是附圖中的哪一洲？ (A)甲 (B)乙 (C)丙 (D)丁。



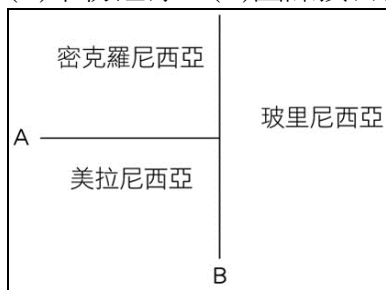
- ( ) 附圖為非洲居民傳統的游耕生活方式，其進行的正確順序應為何？ (A)甲乙丙丁 (B)乙甲丁丙 (C)乙丙丁甲 (D)丙丁甲乙。



- ( ) 早期歐洲列強以何種方式在非洲劃分勢力範圍，造成非洲各國複雜的民族組成，也埋下日後部落衝突與政治不安的因子？ (A)山河 (B)宗教 (C)語言 (D)經緯度。
- ( ) 受歐洲殖民國家的影響，非洲各國的經濟活動中，以哪種農業類型特別發達？ (A)游耕 (B)灌溉農業 (C)熱帶栽培業 (D)地中海型農業。
- ( ) 位於尼羅河畔的阿布辛貝神廟，原本預計將被河水淹沒，後來結合了考古學與先進科技，整座神廟被

切割、搬遷、重組後，得以重新屹立于納瑟湖岸邊。請問：阿布辛貝神廟是因下列哪一因素而引發消失的危機？ (A)地震 (B)溫室效應 (C)濫墾濫伐 (D)興建水庫。

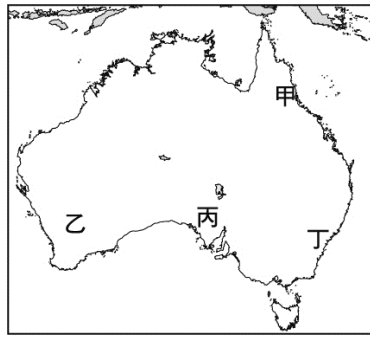
18. ( ) 非洲大部分國家和中南美洲許多國家一樣，太過依賴一、兩種農、礦產的出口，以致經濟發展深受下列何項限制？ (A)破壞環境生態 (B)政府限制太多 (C)國際市場價格波動 (D)經濟作物生產不能自給。
19. ( ) 亞斯文高壩建成後，對埃及帶來的影響包括下列何項？ (A)糧食生產量降低 (B)尼羅河持續定期氾濫 (C)下游農田肥料支出增加 (D)尼羅河三角洲面積擴大。
20. ( ) 非洲許多國家從事一種或兩種作物的專業化生產，發展熱帶栽培業，該農業出現與下列何者最有關係？ (甲)熱帶地區廣大 (乙)距離歐洲近 (丙)耕作技術精良 (丁)曾是歐洲人的殖民地 (A)甲乙 (B)甲丁 (C)乙丙 (D)丙丁。
21. ( ) 「這個國家曾實施『種族隔離政策』，限制黑人的居住與活動範圍，經過黑人的抗爭與國際的制裁，終於在一九九〇年代廢除此一不合理政策，而後更有黑人首次當選該國總統。」上述的國家為何？ (A)埃及 (B)肯亞 (C)南非共和國 (D)奈及利亞。
22. ( ) 附圖為大洋洲的簡圖，圖中 A、B 代表其分界線。請問：B 界線與下列哪一條線相符？ (A)赤道 (B)本初經線 (C)國際換日線 (D)北回歸線。



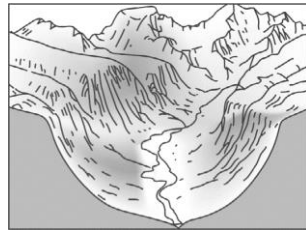
23. ( ) 位於大洋洲的吐瓦魯估計在 50 年之後國土會因為何種現象而損失 60% 面積？ (A)海水上升淹沒陸地 (B)地震頻繁引發海嘯 (C)火山噴發引發霾害 (D)聖嬰現象導致氣候反常。
24. ( ) 澳洲在大分水嶺山脈以西的地區因降雨較少，居民遂利用下列哪種水源，供應牧場所需的用水？ (A)高山雪水 (B)灌溉渠道 (C)海水淡化 (D)自流井水。
25. ( ) 韋翰與柏皓打算到世界上最大、最長的珊瑚礁群之中如同美人魚般優雅浮潛。請問：他們該前往附圖中的何處？ (A)甲 (B)乙 (C)丙 (D)丁。



26. ( ) 澳洲境內的無尾熊及袋鼠等動物，皆為當地的特有種，每年均吸引許多觀光客前來觀賞。請問：當地多特有種生物的主要原因為何？ (A)面積廣大 (B)氣候乾燥 (C)地塊古老 (D)位置偏遠孤立。
27. ( ) 澳洲地區在圖中的哪一氣候環境最為宜人，其中的墨爾本甚至曾經被選為世界最適合人居住的城市？ (A)甲 (B)丙 (C)乙 (D)丁。



28. ( ) 從紐西蘭的緯度和盛行風向來看，當地主要的氣候型態為何？ (A)溫帶地中海型氣候 (B)溫帶草原氣候 (C)溫帶海洋性氣候 (D)夏雨型暖溼氣候。
29. ( ) 清源到挪威旅遊，看到附圖中的地形景觀，想起除了歐洲外，大洋洲也有相同的地形。請問：大洋洲中哪個地區也具有相似的特色景觀？ (A)紐西蘭北島 (B)紐西蘭南島 (C)澳洲東北部 (D)澳洲東南部。



30. ( ) 紐西蘭的運動代表隊在開賽前常會來一段原住民戰舞提升士氣，成為著名的特色。請問紐西蘭原住民為下列哪一民族？ (A)毛利人 (B)薩摩亞人 (C)印第安人 (D)因紐特人。
31. ( ) 因為受到地理條件的影響，目前人類在南極大陸主要進行的活動為下列何者？ (A)開採石油 (B)戰略部署 (C)科學研究 (D)畜牧動物。
32. ( ) 南極與北極皆處於極圈內，但南極的氣溫卻比北極低，造成此現象的主要原因為何？ (A)南極為一陸地且地勢較高 (B)南極的人口較稀少 (C)北極暖化的嚴重 (D)南極海域有暖流注入。
33. ( ) 下圖為北極地區位置圖。圖中 A、B、C 三者各為哪一洲？ (A)亞洲、北美洲、非洲 (B)亞洲、北美洲、歐洲 (C)北美洲、非洲、歐洲 (D)北美洲、歐洲、亞洲。

