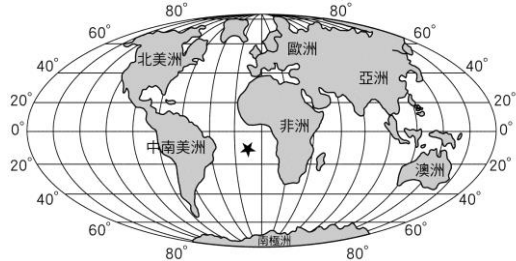
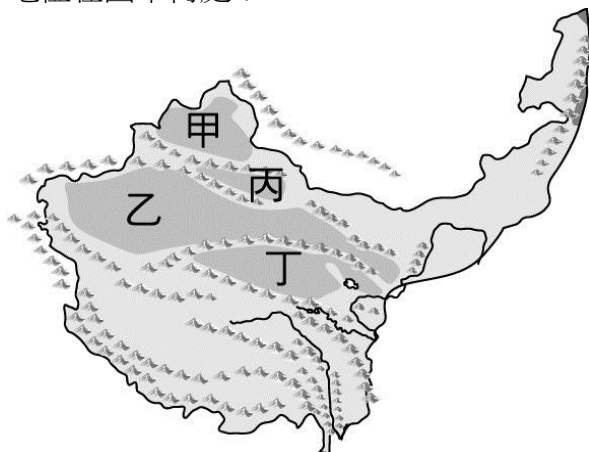


一、單一選擇題(第 1-32 題 3 分,第 33 題 4 分)

1. ( ) 河套平原因引用哪條河水灌溉，使得該區農業發達？ (A)長江 (B)黃河 (C)珠江 (D)黑龍江。
2. ( ) 下列哪種作物耐寒、耐旱，生長期短，是青藏高原的主要作物，也是藏族的主要糧食？ (A)小米 (B)玉米 (C)青稞 (D)高粱。
3. ( ) 西元 2000 年，中國開始推動「西部大開發」的政策，四大重點工程專案不包括下列哪項？ (A)退田還湖 (B)西電東送 (C)青藏鐵路 (D)西氣東輸。
4. ( ) 中國推動四大重點工程專案中的「南水北調」工程，可解除華北水源短缺的問題。請問：「南水」是指引用哪條河川流域的水源？ (A)黃河 (B)長江 (C)珠江 (D)閩江。
5. ( ) 下列何者是水半球的中心？ (A)澳洲 (B)智利 (C)南極洲 (D)紐西蘭。
6. ( ) 附圖為世界全圖。圖中打上「★」的海域名稱是什麼？ (A)太平洋 (B)印度洋 (C)大西洋 (D)北極海。



7. ( ) 下列哪些為終年有雨的氣候類型？(甲)熱帶莽原氣候 (乙)熱帶雨林氣候 (丙)溫帶海洋性氣候 (丁)溫帶地中海型氣候 (戊)溫帶大陸性氣候 (A)甲乙 (B)乙丙 (C)丙丁 (D)丁戊。
8. ( ) 北歐的挪威氣候較同緯度的其他地區溫暖，主要是受到哪種洋流的影響？ (A)暖流 (B)涼流 (C)寒流 (D)西風漂流。
9. ( ) 世界的重要宗教：印度教、佛教、基督教、伊斯蘭教皆源起於哪大洲？ (A)歐洲 (B)非洲 (C)亞洲 (D)美洲。
10. ( ) 附圖為中國西部區域簡圖，中國地勢最高的盆地位在圖中何處？

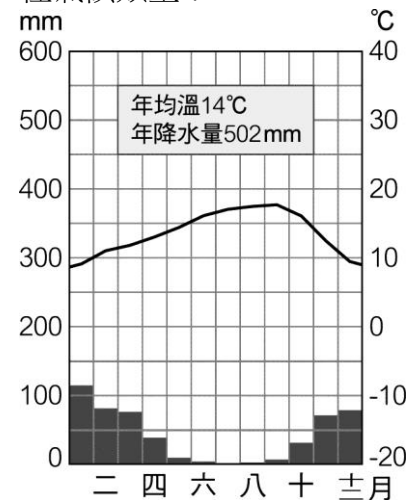


11. ( ) 「從崑崙山北望，□□橫峙在地平線的盡頭，眼下的大沙盆圈綴著肥美的綠洲，維吾爾的歌聲中夾雜著葡萄和自然的芳香。」上述空格中應填入下列哪座山脈？ (A)祁連山 (B)天山 (C)長白山 (D)岡底斯山
12. ( ) 附圖為中國西部區域降水量分布圖。青藏高原

東南部的降水來源最主要來自何時何地？

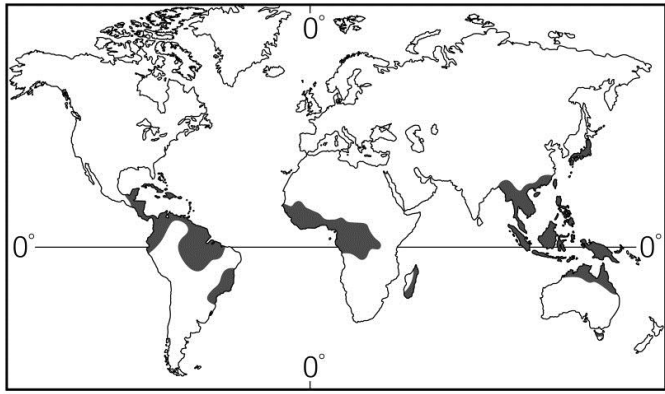


13. ( ) 在中國蒙新之旅的廣告單傳單中，下列哪項敘述是不實的描述？ (A)遼闊草原與死亡之海 (B)成群的牛羊、剔透的葡萄 (C)漂浮在湖面享受午茶時光 (D)雄偉莊嚴的布達拉宮
14. ( ) 「朝穿皮襖午穿紗，抱著火爐吃西瓜」是形容新疆地區的哪種特性？ (A)冬季寒冷 (B)降水量豐沛 (C)溫差很大 (D)多颱風
15. ( ) 坎兒井工程的設計主要考慮的因素為何？ (A)順應當地複雜的地形 (B)防止水分蒸發的損失 (C)防止水土流失 (D)增加灌溉的安全性
16. ( ) 發展出「逐水草而居」與「山牧季移」兩者不同移牧方式的主要原因為何？ (A)緯度 (B)地形 (C)氣候 (D)水文
17. ( ) 中國西部區域自然條件雖然較差，但蘊藏豐富的再生能源。下列哪種能源在當地較不具開發利用的價值？ (A)潮汐能 (B)太陽能 (C)地熱能 (D)風力能
18. ( ) 附圖是季達為其地理報告所找到的資料圖，依此圖判斷，這次他地理報告的主題最可能是哪種氣候類型？

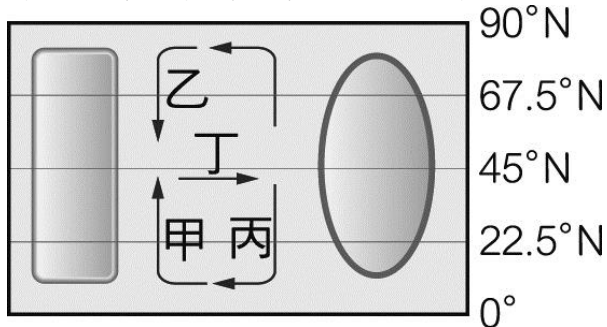


- (A)熱帶雨林氣候 (B)溫帶沙漠氣候 (C)溫帶地中海型氣候 (D)熱帶莽原氣候

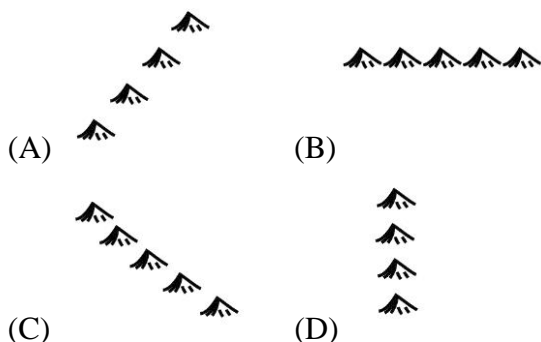
19. ( ) 圖為全球某種天然植物分布圖，該圖所顯示的是哪種天然植被？



- (A) 雨林 (B) 莽原 (C) 針葉林 (D) 溼草原
20. ( ) 到印度旅遊時，菜單中不會出現下列哪種菜色？  
(A) 豬肉堡 (B) 牛肉堡 (C) 鮮魚堡 (D) 雞腿堡
21. ( ) 世界陸地與海洋的面積比大約是多少？  
(A) 3 : 7 (B) 6 : 4 (C) 4 : 6 (D) 5 : 5
22. ( ) 附圖為洋流示意圖，圖中甲、乙、丙、丁四股洋流，哪道洋流是屬於與黑潮同性質？



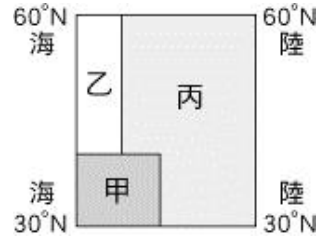
- (A) 甲 (B) 乙 (C) 丙 (D) 丁
23. ( ) 中國的西部地區氣候乾燥少雨，居民的產業活動與日常生活和牲畜脫離不了關係。請問：本區雨量較少的主要原因為何？ (A) 地勢平坦 (B) 為迎風坡 (C) 距海遙遠 (D) 高壓壟罩。
24. ( ) 中國西部地區少數民族多元，下列哪兩族的生活、習俗皆受到古蘭經規範及指引？(甲)蒙古族 (乙)回族 (丙)維吾爾族 (丁)藏族 (A) 甲乙 (B) 乙丙 (C) 甲丙 (D) 乙丁。
25. ( ) 新疆產的瓜果特別香甜，主要與何項環境因素有關？ (A) 日光充足，日夜溫差大 (B) 土壤特別肥沃，富含礦物質 (C) 以高山融化的雪水灌溉 (D) 氣候乾燥少雨，多吸收地下水。
26. ( ) 青藏高原的氣候有「一年無四季，一日見四季」之稱，這句諺語的意義為何？ (A) 年溫差小、日溫差大 (B) 年降水量少、日溫差大 (C) 年溫差小、年降水量多 (D) 日溫差大、年溫差大。
27. ( ) 西藏地區受到板塊的擠壓，形成高聳的青藏高原及多條山脈，該地區板塊擠壓示意圖為何？



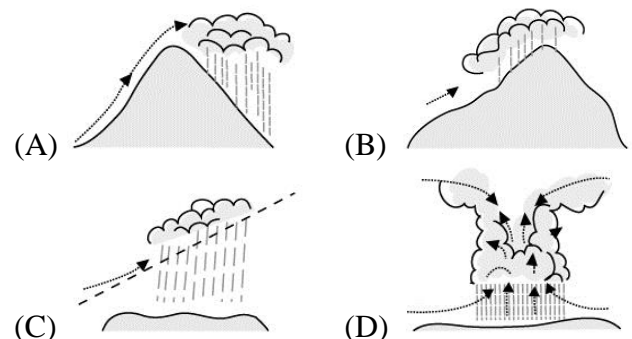
28. ( ) 中國於西元 2000 年提出「西部大開發」政策後，對於廣大的西部地區帶來莫大的影響。請問：當

時中國提出此項政策最主要的目的為何？ (A) 平衡東西部的經濟差距 (B) 加強邊境的國防 (C) 保存少數民族的文化 (D) 擴大領土範圍。

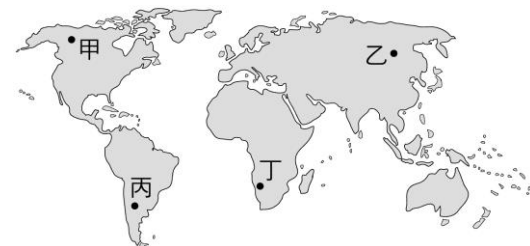
29. ( ) 附圖是北半球的溫帶溼潤氣候三型分布示意圖。依照溫帶海洋性、溫帶大陸性、溫帶地中海型的順序排列，下列何者正確？ (A) 甲乙丙 (B) 甲丙乙 (C) 乙甲丙 (D) 乙丙甲。



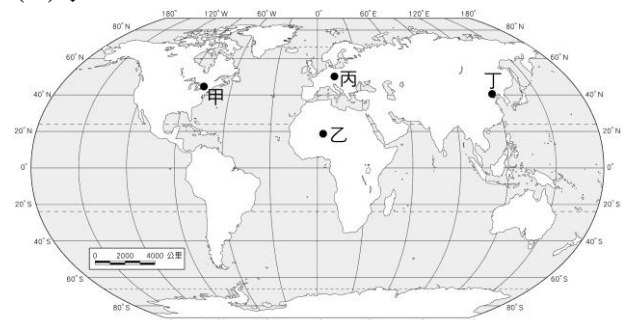
30. ( ) 「熱帶雨林生長在終年溼熱的環境下，那裡終年幾乎沒有季節上的差別。白天溫度恆定在約 30°C，幾乎每天下午都下雨，年降水量至少 2,000 mm，是個生機蓬勃的環境。」請問：熱帶雨林的降水類型應為下列何者？



31. ( ) 目前全球人口數已突破 73 億，其中又以附圖中哪兩洲的人口成長速度最快？ (A) 甲乙 (B) 乙丙 (C) 乙丁 (D) 丁丙。



32. ( ) 附圖是凱翔在世界地圖上所標示的世界人口密集區，哪個位置是錯誤的？ (A) 甲 (B) 乙 (C) 丙 (D) 丁。



33. ( ) 附圖是世界上主要語言使用人數統計圖。請問：下列何者可能是漢語？ (A) 甲 (B) 乙 (C) 丙 (D) 丁。

