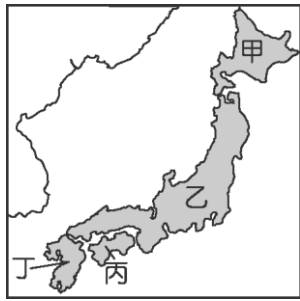


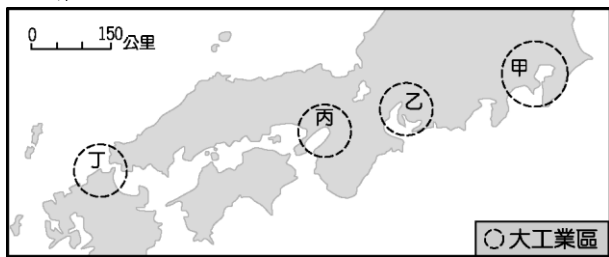
班級： 座號： 姓名：

一、單一選擇題(第 1-32 題 3 分,第 33 題 4 分)

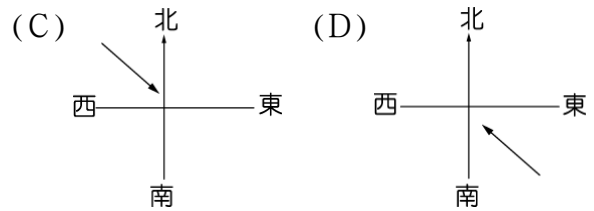
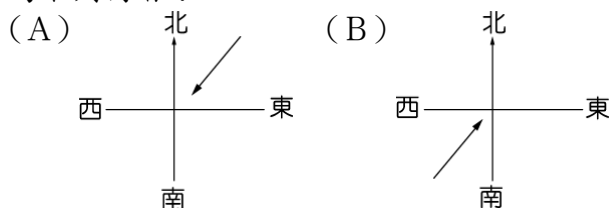
- () 峻廷暑假想帶女友阿君到日本東京迪士尼樂園遊玩，他想先在旅遊網站找尋相關的旅遊資料，應該搜尋哪一個地區？(A)東北亞 (B)東南亞 (C)中亞 (D)西亞
- () 日本為一個島國，其四大島嶼的分布順序由南而北依序為何？(A)九州、四國、北海道、本州 (B)九州、四國、本州、北海道 (C)四國、北海道、本州、九州 (D)九州、北海道、四國、本州。
- () 今年日本櫻花開到五月底，各地都有櫻花盛開的美景可賞。而氣候條件判斷，附圖中哪一地區是賞櫻觀光客最後的機會？(A)甲 (B)乙 (C)丙 (D)丁。



- () 附圖是日本四個主要工業區示意圖。請問：這些工業區的分布位置和下列何者的關係最大？(A)位在環太平洋地震帶 (B)山多田少 (C)出口貿易 (D)寒暖流交會



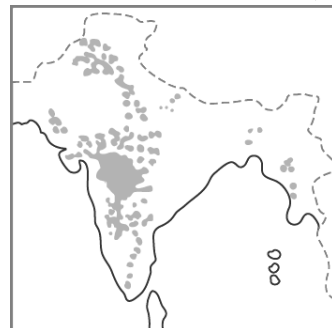
- () 佑勳在今年冬季前往日本旅遊，打算在長野縣的雪地裡與獼猴泡露天溫泉同時配上一碗滿滿海膽的蓋飯。請問：日本地區的漁業資源豐富和下列哪些洋流的關係最大？(甲)黑潮(乙)北大西洋暖流(丙)墨西哥灣流(丁)親潮
(A)甲乙 (B)甲丁 (C)乙丙 (D)丙丁
- () 日本新幹線從日本津輕海峽裡的青函海底隧道連接日本的青森與函館，請問：該隧道連接哪兩個島嶼？(A)北海道、本州 (B)北海道、四國 (C)本州、四國 (D)本州、九州
- () 東南亞依其位置不同，主要分為下列哪兩個地形區？(A)中南半島、朝鮮半島 (B)朝鮮半島、琉球群島 (C)中南半島、南洋群島 (D)印度半島、南洋群島
- () 中南半島受到外來文化的影響，境內多數國家主要以下列何種宗教信仰為主？(A)伊斯蘭教 (B)基督教 (C)道教 (D)佛教
- () 日本位於溫帶季風氣候區內，請問該地區的冬季風向為下列何者？



- () 有新民李敏鎬之稱的詠笙到國外旅遊，回來後送給大家一個當地著名的魚尾獅雕像做為禮物。請問：建廷最可能是到下列哪一個國家旅遊？(A)印尼 (B)新加坡 (C)馬來西亞 (D)菲律賓
- () 熱帶栽培業最主要是受到下列何者的影響才在今日的東南亞中盛行？(A)原住民 (B)中國人 (C)殖民者 (D)印度人
- () 如附圖，中國擬在泰國的克拉地峽開鑿運河，連接兩側海洋縮短航程，對下列何者的經濟威脅會最大？(A)新加坡 (B)緬甸 (C)泰國 (D)越南



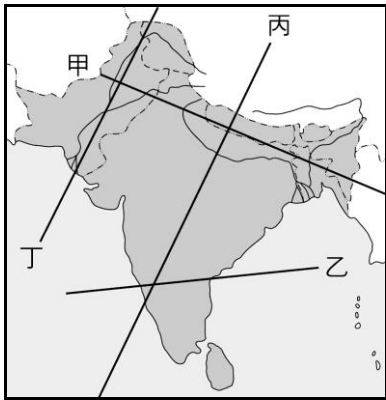
- () 中南半島的山與河傳承自中國的哪一個地區？(A)嶺南丘陵 (B)東南丘陵 (C)橫斷山脈 (D)雲貴高原
- () 昱翔參加東南亞五日遊，卻遇到老朋友，下列何者不可能是出現在這趟旅遊行程中的友人？(A)遇到在睿豐果園施肥 (B)遇到國維在煉油廠煉油 (C)佛寺祈福遇到致安在念經 (D)遇到冰雕節中柏樺在刻冰雕
- () 熱帶栽培業為東南亞重要產業活動，下列對該產業活動敘述何者正確？(A)生產糧食作物為主 (B)作物自給為主 (C)大量生產外銷 (D)粗放型的耕作
- () 外號新民宋仲基的柏睿想要從事豬肉商品的買賣，請問下列何國不會是柏睿的主要客戶？(A)越南 (B)泰國 (C)緬甸 (D)印尼
- () 印度大平原主要是由印度河和下列哪一條河川所沖積而成的？(A)恆河 (B)黃河 (C)雅魯藏布江 (D)淡水河
- () 影響南北韓經濟發展迥異的因素有很多，其中北韓優於南韓的條件是下列何者？(A)地形 (B)雨量 (C)生長季 (D)礦產
- () 下圖最可能為印度何種種類農作物的分布圖？(A)稻米 (B)咖啡 (C)黃麻 (D)棉花



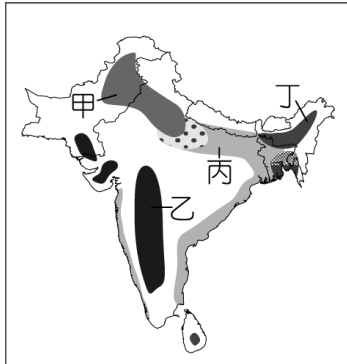
班級： 座號： 姓名：

20. () 說到台灣矽谷會想到竹科，印度矽谷則是誰的稱號？(A)孟買 (B)邦加羅爾 (C)乞拉朋吉 (D)加爾各答。

21. () 印度半島可分為三大地形區，附圖中哪個剖線最能呈現三大地形區的起伏？(A)甲 (B)乙 (C)丙 (D)丁。



22. () 印度的茶葉遠近馳名，若根據印度半島的地形及自然環境特色而言，附圖中哪一個地區為茶葉的主要盛產地？(A)甲 (B)丁 (C)丙 (D)乙。



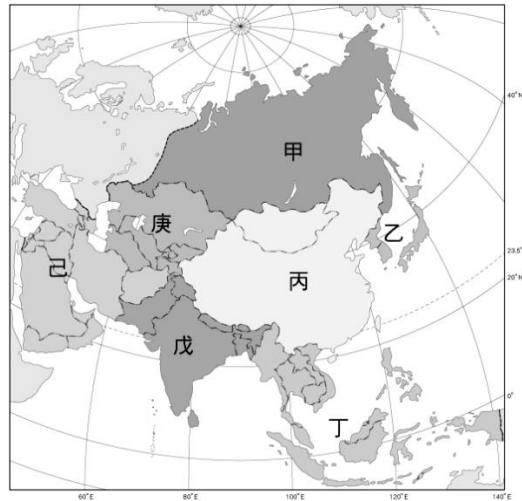
23. () 愛台灣的季達寫了封信投入太平洋，希望瓶子可以漂至日本，渴望與櫻花妹譜出一段異國戀曲，請問這封信是順著下列哪條洋流而有機會到達日本？(A)黑潮 (B)親潮 (C)中國沿岸流 (D)北大西洋暖流

24. () 朝鮮半島上的平原因為地勢平坦，成為人口與耕地的主要分布區。請問：朝鮮半島的精華區主要分布於下列何處？(A)中、韓國界 (B)黃海沿岸 (C)日本海沿岸 (D)停戰線附近

25. () 熱愛海鮮料理的大和民族，其實是因為本身畜牧業發展受某項因素所限制，請問導致畜牧業不發達的主因為何？(A)總面積狹小 (B)宗教信仰 (C)山地偏多 (D)氣候不適合

26. () 旅遊最怕悶熱或是大雨不止的天氣，請問下列哪個月份最可能適合去拜訪印度？(A)12月 (B)5月 (C)9月 (D)3月

27. () 附圖為亞洲各地理區與所在分區圖。請問：下列描述何者正確？(A)甲—以中國為主體 (B)丁—以印度半島為主體 (C)己—以阿拉伯半島為主體 (D)庚—與南亞、東南亞相接。



28. () 若沒有控制溫室氣體的排放量，海平面將會因增溫而持續快速上升，下列哪個亞洲島國縮小滅頂的危機最嚴重？(A)普吉島 (B)馬爾地夫 (C)錫蘭島 (D)琉球群島

29. () 提到韓國料理，總是免不了以泡菜入菜，請問韓國會習慣於製作泡菜的原因為 (A)韓國人愛吃辣 (B)蔬菜豐收吃不完 (C)冬季不利生長須保存夏季蔬果 (D)吃泡菜有益健康

30. () 瀚元打算利用暑假到日本京都清水寺求個愛情御守，祈求與暗戀的女生感情順利，請問他是到了日本的哪個平原？(A)關東平原 (B)近畿平原 (C)濃尾平原 (D)東北平原

31. () 1967年東南亞國家為了促進經濟、社會、文化合作，增進人民福祉而成立了下列哪一個組織？(A)WTO (B)APEC (C)ASEAN (D)WHO

32. () 南韓經濟起飛快速，導因於採取下列哪種經濟政策？(A)扶植財團 (B)自由競爭 (C)依賴強國 (D)封閉保護

33. () 印度情侶可能會因地位階級不同無法被允許而苦苦相戀，請問：該情形主要導因為何？(A)封建制度 (B)法律規範 (C)宗法制度 (D)種姓制度