

得分：

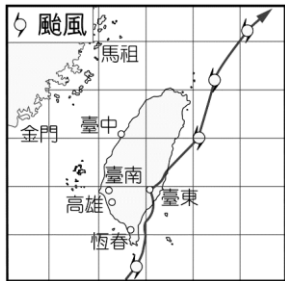
班級：

座號：

姓名：

一、單一選擇題：第 1-32 題 3 分，第 33 題 4 分，共 100 分

- () 1. 下為某颱風路徑圖，圖上颱風在行經臺灣後，它的路線是往哪個方向前進？



- (A) 東北方 (B) 東南方 (C) 西北方 (D) 西南方

- () 2. 有關經線與緯線交會的情況，下列何者正確？

- (A) 所有的經緯線皆呈斜交
 (B) 本初經線與赤道直交，其餘經緯線皆斜交
 (C) 本初經線與赤道斜交，其餘經緯線皆直交
 (D) 所有的經緯線皆呈直交

- () 3. 亦晨明天要去日本東京（東經 140 度）旅遊。他應該把他的手錶做怎樣的調整？

- (A) 不用調 (B) 調快兩小時
 (C) 調快一小時 (D) 調慢一小時

- () 4. 哪條線將地球分為南北半球？

- (A) 赤道 (B) 回歸線
 (C) 本初子午線 (D) 國際換日線

- () 5. 下列何者與本初經線剛好在兩極連成一大圓圈線，將地球分為東西半球？

- (A) 赤道 (B) 緯度 90 度
 (C) 經度 90 度 (D) 經度 180 度

- () 6. 關於經緯度的比較，下列何者正確？

- (A) 經線每條都等長 (B) 緯線每條都等長
 (C) 經度範圍為 0~90 度 (D) 緯線為南北向的線

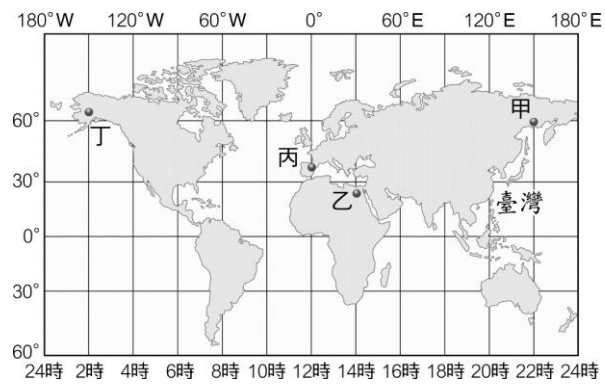
- () 7. 睿恩正在沙漠中探險，他攤開地圖，利用隨身攜帶的尺量得離他所要到的地點有 4 公分，因此他知道還要走 0.4 公里才會到達目的地。睿恩所使用的地圖比例尺為何？

- (A) 1 : 100 (B) 1 : 1,000
 (C) 1 : 10,000 (D) 1 : 100,000

- () 8. 地圖要素中，哪個要素是在說明地圖內符號代表的意義？

- (A) 圖例 (B) 圖名 (C) 比例尺 (D) 方位標

- () 9. 以下是住在桃園的晉坤與網友竣翔透過 Line 聊天的內容：晉坤：「竣翔你好，今晚的星星很漂亮吧！」竣翔：「我這邊看不到星星，現在是星期一中午 12 點，太陽正烈著呢！」晉坤：「真的嗎？我們這兒已經是星期一晚上 8 點了。」竣翔：「那我們離得可遠哩！所以你會看到美麗的星星！」請根據附圖判斷，竣翔可能住在哪個地方？



- (A) 甲 (B) 乙 (C) 丙 (D) 丁

- () 10. 附表是地圖上大、小比例尺的比較，表中哪個選項正確？

	(甲)縮小程度	(乙)內容	(丙)例子	(丁)涵蓋範圍
小比例尺	較小	較簡略	1:200	較小
大比例尺	較大	較詳盡	1:200,000	較大

- (A) 甲 (B) 乙 (C) 丙 (D) 丁

- () 11. 在一張比例尺為 1:25,000 的地圖上，韋辰家與學校距離三公分。實際上韋辰家與學校的距離為何？

- (A) 75 公尺 (B) 750 公尺
 (C) 7.5 公里 (D) 75 公里

- () 12. 冠芸打算用一張 15 公分×20 公分的圖畫紙，繪製學校禮堂平面圖，測得禮堂的長寬分別為 30 公尺×20 公尺。冠芸應該使用下列哪種比例尺，畫出來的禮堂最大且不超出紙張範圍？

- (A) 1 : 40 (B) 1 : 80
 (C) 1 : 160 (D) 1 : 240

- () 13. 經濟海域是指各國由其領海基線向外推移多少哩的範圍？

- (A) 12 (B) 50 (C) 200 (D) 1,000

- () 14. 臺灣行政區中唯一不靠海的是哪個縣？

- (A) 苗栗縣 (B) 雲林縣
 (C) 南投縣 (D) 彰化縣

- () 15. 臺灣籍漁船金福滿，在巴士海峽被菲律賓海上巡防隊，以入侵該國經濟海域為由扣押，金福滿漁船是進入菲律賓海岸線以內多少哩，才被扣押？

- (A) 12 哩 (B) 20 哩
 (C) 120 哩 (D) 200 哩

- () 16. 臺灣西部平原較廣，其形成的原因為何？

- (A) 陸地抬升 (B) 海面下沉
 (C) 河流沖積 (D) 海岸侵蝕

- () 17. 河流由山區進入平地，因坡度減緩，形成以谷口為頂點，向低處堆積呈現扇狀的地形，是因為下游的河川盛行哪種地表作用？

- (A) 堆積作用 (B) 搬運作用
 (C) 侵蝕作用 (D) 風化作用

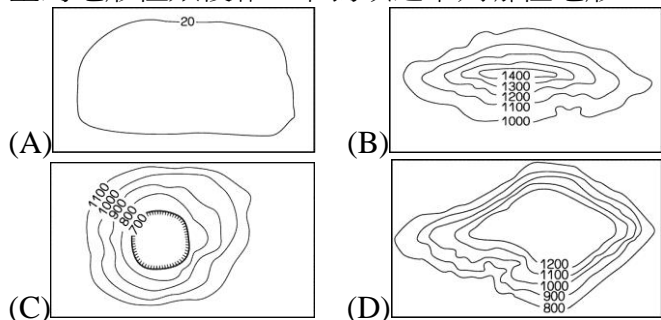
() 18. 地理老師在放暑假前給同學們一個「外營力所形塑的地形景觀」作業，希望同學們能趁著假期出去遊玩時，依照主題順便拍照記錄生活中各種地理景觀。假期結束後，楊忠、竣宇、鎮豪、邑勳分別帶回來花蓮太魯閣的峽谷、野柳的女王頭、臺北縣石門鄉的老梅石槽、陽明山小油坑的照片。哪位同學可能記錯了老師訂定的作業主題？

(A)楊忠 (B)鎮豪 (C)邑勳 (D)竣宇

() 19. 臺灣高鐵自通車後，有效縮減臺灣南北交通的往來時間，為臺灣民眾帶來更便利的生活。在高鐵的沿線中，看不到下列哪個地理區？

(A)桃園台地 (B)宜蘭平原
(C)臺中盆地 (D)嘉南平原

() 20. 臺灣地形種類複雜，唯獨缺乏下列哪種地形？



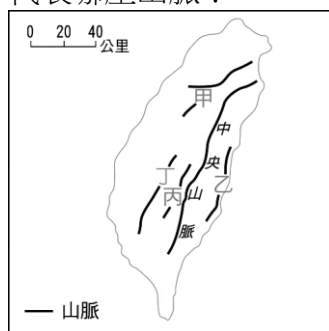
() 21. 造成臺灣容易受到地殼變動與活山作用影響，並且多地震與火山的原因是因為受到哪兩個板塊影響？(甲)印澳板塊(乙)歐亞大陸板塊(丙)菲律賓海板塊(丁)非洲板塊

(A)甲、乙 (B)乙、丙 (C)丙、丁 (D)甲、丁

() 22. 臺灣本島呈現東西窄、南北長的形狀，最主要和下列哪種因素最有關係？

(A)板塊擠壓 (B)四面環海
(C)侵蝕風化 (D)北回歸線經過

() 23. 附圖為臺灣五大山脈位置分布圖，其中的「丁」代表哪座山脈？



(A)玉山山脈 (B)海岸山脈
(C)雪山山脈 (D)阿里山山脈

() 24. 臺灣東岸的蘭陽平原位於哪兩座山脈之間？

(A)雪山山脈、玉山山脈
(B)玉山山脈、阿里山山脈
(C)中央山脈、海岸山脈
(D)中央山脈、雪山山脈

() 25. 臺灣的鐵路多為南北走向，這與臺灣地形的哪種因素關係最密切？

(A)火山、地震多 (B)山多坡度陡
(C)風化侵蝕強烈 (D)山脈走向呈南北向

() 26. 附表為臺灣相對地勢面積比例，由附表可得知下列哪項事實？

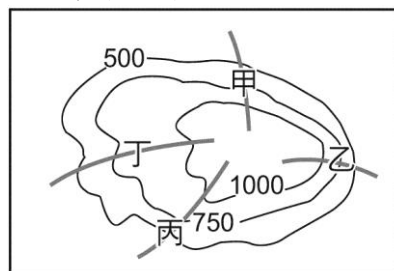
相對高度	面積(%)
>1,000	22
1,000~100	32
500~100	21
100~50	5
<50	20

(A)地勢起伏大 (B)河川東西分流
(C)雨量分布不均 (D)四周島嶼眾多

() 27. 將地表上高度相同的各點相連，所形成的封閉曲線稱為什麼？

(A)等高線 (B)等溫線 (C)等壓線 (D)等距線

() 28. 新民旅遊團在假日到郊外登山(如附圖)健行，假如他們要輕鬆上山，應選擇哪條步道最恰當？



(A)甲 (B)乙 (C)丙 (D)丁

() 29. 等高線通過河谷時會出現V字型的彎折，其V字尖端會朝向何處？

(A)平行等高線 (B)地勢較低的下游
(C)地勢較高的上游 (D)沒有特定的方向

() 30. (西經75度，南緯20度)我們為了使用方便，可以標示成下列哪種形式？

(A)(75W, 20S) (B)(75E, 20S)
(C)(75W, 20N) (D)(75E, 20N)

() 31. 附圖中有多種景觀，我們可在(C, 3)的網格中發現哪種景觀？

	A	B	C	D	E
3			椰子樹		
2		涼亭		沼澤	
1	礦坑		墓地		

(A)礦坑 (B)墓地 (C)沼澤 (D)椰子樹

() 32. 導師將下列四人的座位安排在班長附近：軍濤坐前面，丞凱坐後面，仁承坐左手邊，俊希坐右手邊。若班長的位置面向北方，則這五個人的關係應為何？

(A)俊希亞在軍濤的西南方
(B)班長在丞凱的南方
(C)俊希在仁承的北方
(D)丞凱在仁承的東南方

() 33. 下列哪條緯線通過臺灣本島？

(A)赤道 (B)北極圈
(C)北回歸線 (D)南回歸線