

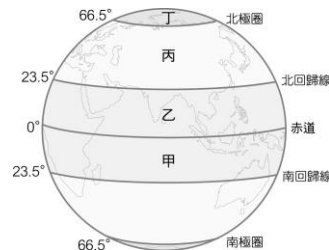
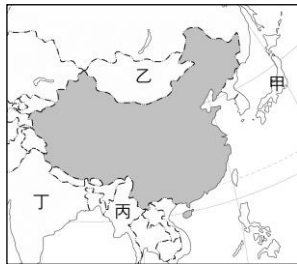
臺北市立新民國中 106 學年度八年級第一學期地理科第一次段考

範圍：2 上，疆域、地形

年 班 號 姓名

一、單選題：每題 3 分，共 72 分

- 下列有關中國地理位置的描述，何者屬於「絕對位置」？(A)中國位於亞洲大陸的東南部 (B)中國與日本隔海相望 (C)中國主要的領土介於東經 73 度至 135 度之間 (D)中國東鄰西太平洋。
- 北回歸線穿越的省級行政區有：(甲)廣東省 (乙)廣西壯族自治區 (丙)雲南省。「由東向西」排列，下列何者正確？(A)甲乙丙 (B)丙甲乙 (C)丙乙甲 (D)甲丙乙。
- 左下附圖為中國與其鄰國分布圖。請問：圖中「丁」應為哪個國家？(A)蒙古 (B)日本 (C)俄羅斯 (D)印度。

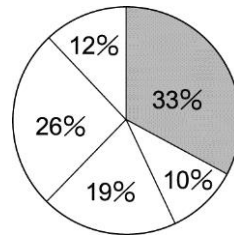
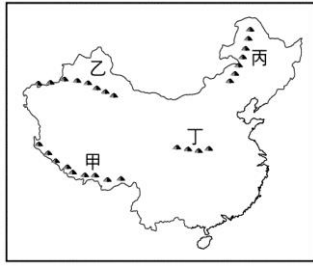


- 中國領土大部分位居右上附圖中哪個區域？(A)甲 (B)乙 (C)丙 (D)丁。
- 中國幅員廣大，共跨越了 5 個時區，此現象與當地的哪一個區域特色最為相關？(A)經度距離大 (B)緯度距離廣 (C)氣候多變化 (D)地勢起伏大。
- 中國歷史上發展出「陸上絲路」和「海上絲路」，可通往世界其他國家進行貿易。這和中國位置的何種特性有關？(A)鄰國眾多 (B)領土廣大 (C)面海背陸 (D)位於中緯度帶。
- 新聞報導指出：「因中國欲在南海上的島嶼興建軍事基地，引起某國的不滿，而向中國提出抗議。」請問：上文中的某國最可能為何者？(A)日本 (B)南韓 (C)菲律賓 (D)俄羅斯。
- 中國疆域東濱三大緣海與太平洋連接。請問：中國三大緣海若由北向南排列，下列何者正確？(A)黃海、東海、南海 (B)東海、黃海、南海 (C)南海、東海、黃海 (D)南海、黃海、東海。
- 有關中國行政區的敘述，下列何者正確？(A)有 5 個特別行政區 (B)有 3 個直轄市 (C)香港、澳門為自治區 (D)特別行政區、直轄市、自治區地位與省相當。
- 左下附圖為中國四個直轄市的分布位置圖。圖中哪個城市現為中華人民共和國的首都，也是西元 2008 年夏季奧運的主辦城市？(A)甲 (B)乙 (C)丙 (D)丁。




- 右上附圖為中國某種行政區劃示意圖。請問：圖中的代號應是哪種行政區？(A)直轄市 (B)省 (C)特別行政區 (D)自治區。
- 中國國土東西約有 60 度經度的差異，導致同一時間內東部和西部居民的作息不同，為了方便，政府以下列哪個城市的時間作為全國的標準時間？(A)北京 (B)上海 (C)天津 (D)南京。
- 中國地勢西高東低，請問：下列哪一現象與此地形特徵關係最密切？(A)春季常發生沙塵暴災害 (B)夏秋之際沿海多颱風 (C)利於太平洋暖溼氣流深入內陸 (D)冬季南北溫差大。
- 中國高低地形的分界線，也是中國地勢第二、三級階梯的分界線是下列哪三者連線？(甲)大興安嶺 (乙)小興安嶺 (丙)太行山 (丁)蒙古高原 (戊)雲貴高原東緣。(A)甲丙丁 (B)甲丙戊 (C)乙丙丁 (D)乙丙戊。
- 中國的秦嶺、天山、等主要山脈，大致呈現下列何種走向？(A) (B) (C) (D) 。
- 中國第三級階梯主要是由哪兩種地形構成？(A)平原、丘陵 (B)平原、臺地 (C)山地、高原 (D)盆地、丘陵。
- 中國海岸若以沙岸和岩岸的分類來看，兩種海岸的顯著劃分點大致在下列何處？(A)廈門灣 (B)長江口 (C)杭州灣 (D)黃河口。
- 中國將香港畫分為特別行政區，最主要是因為該地區在回歸中國之前，曾被哪一個國家統治百餘年，因此區域差異甚大？(A)日本 (B)英國 (C)美國 (D)葡萄牙。

19. 「中國有世界最高大的喜馬拉雅山，也有低於海平面的吐魯番窪地。」此敘述最足以說明哪一項地理事實？
 (A)地勢高低起伏很大 (B)疆域面積廣闊 (C)地勢向東級級下降 (D)主要河川由西向東入海。
20. 承上題，世界最高大的喜馬拉雅山位於左下附圖中何處？(A)甲 (B)乙 (C)丙 (D)丁。



21. 右上附圖為中國五大地形面積比例圖。請問：灰色區塊所代表的地形為何？(A)平原 (B)盆地 (C)高原 (D)山地
22. 左下附圖所見的交通工具稱為「溜索」。請問：此一特殊的交通方式最常見於中國哪個地理區？ (A)山東丘陵 (B)黃土高原 (C)東南丘陵 (D)橫斷山脈。



23. 右上圖為廣西壯族自治區中常見的農田景觀，受到地形起伏的影響相當明顯。請問：這種農業活動類型通常分布於哪一種地形上？ (A)盆地 (B)平原 (C)丘陵 (D)高原。
24. 老姜形容中國某區域的特色：「是中國面積最大的平原，中央地勢低平、黑土肥沃。但卻受到氣候的因素影響，因此生長季較短，具有商業化的色彩。」請問：上述最可能是指下列哪一個地形區？
 (A)甲 (B)乙 (C)丙 (D)丁。

二、整合題：每題 2 分，共 28 分

※ 下表為世界領土面積前六名國家的面積與人口資料，請問：

國家	面積(平方公里)	人口數(人)
甲	17,075,200	141,782,338
加拿大	9,976,140	32,507,874
乙	9,829,091	301,027,571
丙	9,598,077	1,326,148,035
丁	7,686,850	20,013,144



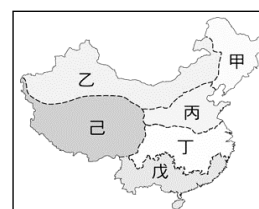
25. 請問中國應為表中的哪一個國家？ (A)甲 (B)乙 (C)丙 (D)丁。
26. 請問哪一個國家為中國的陸上鄰國？ (A)甲 (B)乙 (C)丙 (D)丁。



圖(一)



圖(二)



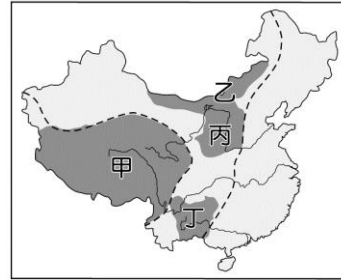
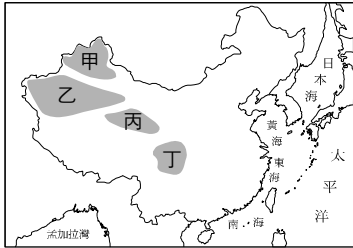
圖(三)

※ 右上三張圖為中國地理區的劃分，請依圖回答下列問題。

27. 圖(一)是以下列何者作為劃分依據？ (A)地勢高低 (B)經濟發展 (C)人口多寡 (D)耕作方式。
28. 圖(二)是以下列何者作為劃分依據？ (A)地勢高低 (B)經濟發展 (C)民族分布 (D)河川水系。
29. 圖(三)為中國六大地區分布圖。華中地區為長江流域的主要分布區，其位於圖中何處？
 (A)甲 (B)乙 (C)丙 (D)丁。

※ 左下圖為中國四大盆地的分布圖，請問：

30. 這個盆地因四周多高山阻擋，進出不易，古人多有「蜀道難，難於上青天」之嘆，不過當地也是著名的天府之國，物產富饒，人口相當稠密。？(A)甲 (B)乙 (C)丙 (D)丁。
31. 這個盆地平均高度在 3,000 公尺左右，是中國地勢最高的盆地，盆地裡鹽礦豐富，號稱足夠全世界的食用一萬年。上文中的盆地位在圖中的哪一區？(A)甲 (B)乙 (C)丙 (D)丁。
32. 「塔克拉瑪干」的原意是「有去無回之地」，某探險隊想深入這個僅次於撒哈拉的世界第二大沙漠，應前往附圖中的哪一區？(A)甲 (B)乙 (C)丙 (D)丁。



※ 右上圖為中國四大高原的分布圖，請問：

33. 「乾燥少雨，年、日溫差大，再加上長期風力侵蝕，使其成為平坦遼闊的荒漠和草原。」上文所描述的是下列何者？(A)甲 (B)乙 (C)丙 (D)丁。
34. 圖中哪一高原海拔高度在四千公尺以上，孕育了中國極為壯觀、多樣的冰河景觀？(A)甲 (B)乙 (C)丙 (D)丁。
35. 小鍾前往中國旅遊來到一高原地區，景觀特色為千溝萬壑、崎嶇不平，水土流失嚴重，請問：小鍾最有可能前往何地？(A)甲 (B)乙 (C)丙 (D)丁。

※ 若英在某旅遊雜誌看到二張圖(一)和圖(二)的風景照片。請問：



圖(四)



圖(五)

36. 圖中的景觀，在中國哪一個高原最容易見到？(A)青藏高原 (B)雲貴高原 (C)黃土高原 (D)內蒙古高原。
37. 圖中的特殊地形景觀，主要是由下列何種作用力所造成的？(A)河流侵蝕 (B)風力侵蝕 (C)溶蝕作用 (D)火山作用。
38. 圖(四)、圖(五)景觀中所代表的地形為何？(A)石柱 (B)石筍 (C)鐘乳石 (D)峰林。