

臺北市立新民國中 106 學年度八年級第一學期地理科第二次段考

範圍：中國的氣候、水文、人口

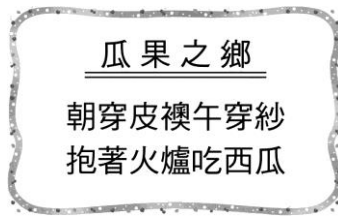
年 班 號 姓名

一、選擇題：每題 3 分，共 60 分


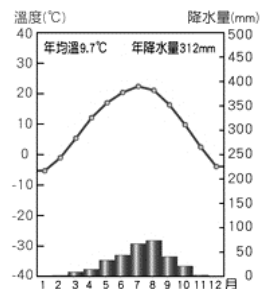
- 關於中國季風氣候形成的原因，下列何者正確？
(A)地形高低起伏複雜 (B)東部沿海平原廣闊 (C)大範圍海陸性質的差異 (D)河川下游湖泊眾多。
- 下列哪種山脈的走向對於右圖甲地區的降雨分布影響最大？



- 秦嶺—淮河是中國一條重要的地理分界線，下列分界線與它大致相符的有哪些？
(甲)熱帶與副熱帶分界線(乙)一月月均溫 0 °C 等溫線(丙)年雨量 750 毫米等雨量線(丁)季風氣候與乾燥氣候分界線 (A)甲乙 (B)甲丁 (C)乙丙 (D)丙丁。
- 旅遊雜誌以左下圖文宣當成主題封面，用特殊氣候特色說明當地的地理環境。該雜誌所介紹的地區是下列何者？
(A)海南島—熱帶季風氣候區 (B)塔里木盆地—溫帶沙漠氣候區 (C)青藏高原—高地氣候區 (D)東北平原—溫帶季風氣候區。

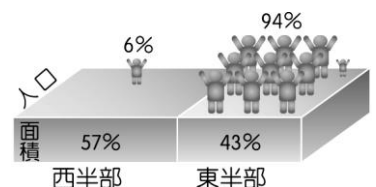


- 右上附圖為中國疆域圖。圖中甲地冬、夏季風風向分別為何？
(A)冬：↑，夏：↓ (B)冬：↙，夏：↗ (C)冬：↓，夏：↑ (D)冬：↘，夏：↖。
- 右附圖為甘肅省蘭州市的氣候圖。請問：蘭州屬於下列何種氣候類型？
(A)溫帶季風氣候 (B)溫帶草原氣候 (C)溫帶沙漠氣候 (D)高地氣候。
- 左下附圖所示為西藏的僧侶服飾，夏季午間人們常將外袍的袖子繫在腰間，袒出右臂或雙臂。請問：這種穿著方式，最能反映出當地夏季具有下列哪個氣候特色？
(A)雨量稀少 (B)風力強勁 (C)日溫差大 (D)空氣稀薄。



| 月分 | 1月 | 2月 | 3月 | 4月 | 5月 | 6月 | 7月 | 8月 | 9月 | 10月 | 11月 | 12月 |
|--------|----|----|----|----|----|----|-----|-----|----|-----|-----|-----|
| 氣溫(°C) | -4 | -2 | 6 | 14 | 20 | 24 | 26 | 25 | 20 | 13 | 4 | -2 |
| 雨量(mm) | 10 | 13 | 13 | 20 | 40 | 88 | 240 | 170 | 70 | 18 | 13 | 12 |

- 右上表為中國某地的氣溫及降水量表。請問：由表判斷，此地區屬於何種氣候類型？
(A)溫帶季風氣候 (B)副熱帶季風氣候 (C)熱帶季風氣候 (D)溫帶草原氣候。
- 內流河和外流河最大的差別是 (A)水量的多寡不同 (B)河流的長短不同
(C)注入的地區不同 (D)降雨的季節不同。
- 右附圖為中國的人口分布示意圖。請問：其主要敘述內容為下列何者？
(A)人口素質 (B)人口密度 (C)人口成長 (D)人口結構。
- 中國人口稀疏區的人口主要分布在山麓和河谷地帶，此一地理現象，與下列哪一項關係最為密切？



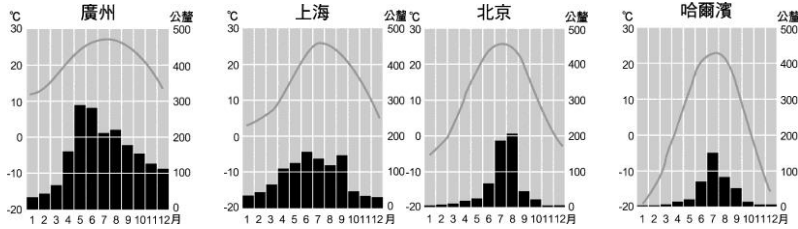
- 右附圖為中國的人口分布示意圖。請問：其主要敘述內容為下列何者？
(A)人口素質 (B)人口密度 (C)人口成長 (D)人口結構。
- 中國人口稀疏區的人口主要分布在山麓和河谷地帶，此一地理現象，與下列哪一項關係最為密切？
(A)地形較平坦 (B)水源較充足 (C)交通較便利 (D)土壤較肥沃。
- 環境負載力是指生活環境所能供養生物的能力。請問：以下中國四個地形區，何者的環境負載力應該最高？
(A)青藏高原 (B)塔里木盆地 (C)橫斷山脈 (D)長江中下游平原。

13. 秦嶺是中國氣候的重要分界線，請問：「秦嶺」位於左下圖中何處？(A)甲 (B)乙 (C)丙 (D)丁。

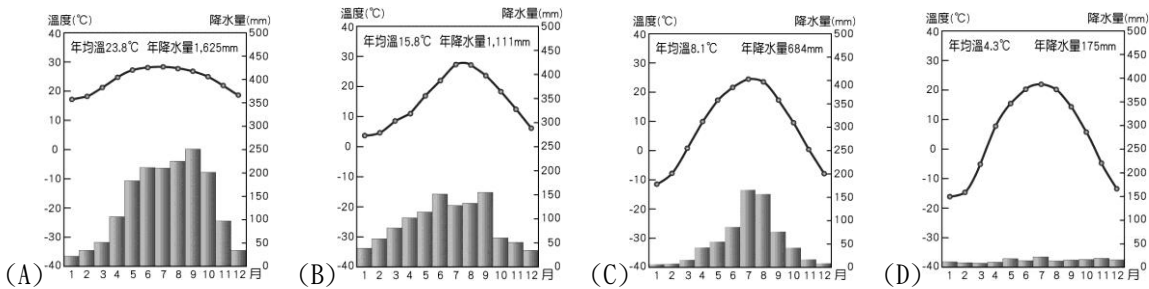


14. 中國少數民族眾多，右上附圖中哪個地區為中國少數民族分布最複雜，族數最多的地區？
(A)甲 (B)乙 (C)丙 (D)丁。

15. 下附圖為中國四個都市氣候圖，影響這四個都市年溫差大小的主要因素是什麼？
(A)距海遠近 (B)緯度高低 (C)地勢高低 (D)植被疏密



16. 內流河與外流河的分布受到當地氣候環境的影響相當密切。請問：中國的內流河分布區域和下列哪一個氣候區的分布範圍最為相近？



17. 目前中國的人口數達 13 億，約占世界人口數五分之一。請問：中國人口數眾多所帶來的好處為何？
(A)人口素質提升 (B)糧食消耗增加 (C)教育機會均等 (D)勞動力充足。

18. 人口平均素質偏低是中國在發展經濟、提升國力時所遇到的阻礙之一，為改善此種狀況，應從下列何項著手，是最直接且有效的方法？ (A)實施人口城鄉分隔政策 (B)推行一胎化政策 (C)強調性別平等 (D)普及教育。

19. 一胎化政策雖然減少了人口數快速的增加，但是卻造成很多問題。請問：下列哪個問題與一胎化關係密切？
(A)性別比失衡 (B)人口外流 (C)汙染增加 (D)社會高齡化。

20. 中國勞動力約是美國、歐盟、日本勞工總和的兩倍，因此中國成為世界工廠，但中國 20 歲到 29 歲的勞動力已由 1990 年的 2.33 億減到 2005 年的 1.65 億，這是因為下列哪種人口現象的影響所致？
(A)人口老化 (B)人口移出 (C)一胎化 (D)戰爭。

二、整合題：每題 2 分，共 40 分

※ 右下圖中國主要河川分布圖。請問：

21. 下列哪一條河川最有可能為內流河？(A)甲 (B)乙 (C)丁 (D)戊。

22. 洞庭湖和鄱陽湖是中國主要的淡水湖，兩者主要分布於下列哪一條河流沿岸？ (A)乙 (B)丙 (C)丁 (D)己。

23. 「己」河川最後流到印度洋，所以「己」河川最可能是下列哪一條河流？

(A)額爾濟斯河 (B)雅魯藏布江 (C)塔里木河 (D)長江。



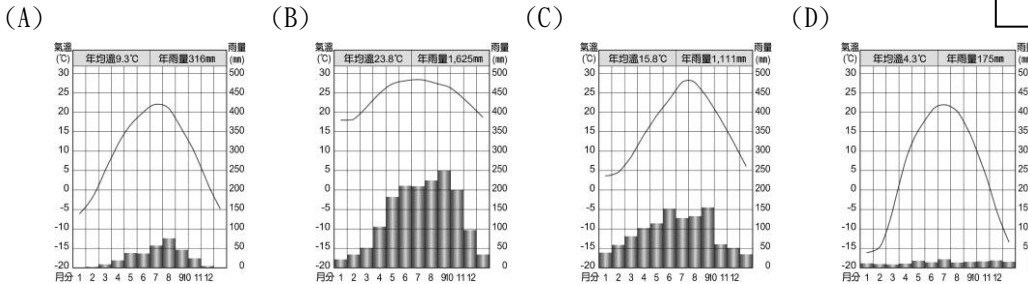
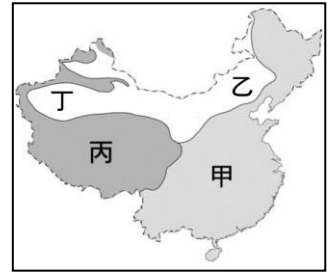
※ 右圖是中國氣候類型分布圖，請問：

24. 圖中乙氣候區與丁氣候區的分類指標為下列何者？

- (A)年降水量 250 mm (B)年降水量 500 mm (C)一月均溫 0°C (D)七月均溫 18°C。

25. 何處的夏季月均溫可能最低？ (A)甲 (B)乙 (C)丙 (D)丁。

26. 「丁」地的氣候圖最可能是下列何者？




27. 右下圖中動物一身的長毛，腳上具堅硬如冰爪的蹄，能在冰山雪崖間行走，請問：該牲畜最可能是哪一地區特有的動物？ (A)甲 (B)乙 (C)丙 (D)丁。




※ 人類的居室常受地理環境的影響，請問：


28. 雲南西雙版納的房屋多為下層架空的「干欄式」建築如附圖(一)，請問：此種建築物風格與該地何種環境特色有密切關係？ (A)地形崎嶇 (B)氣候溼熱 (C)晝夜溫差大 (D)多地震。



(一)



(二)



(三)

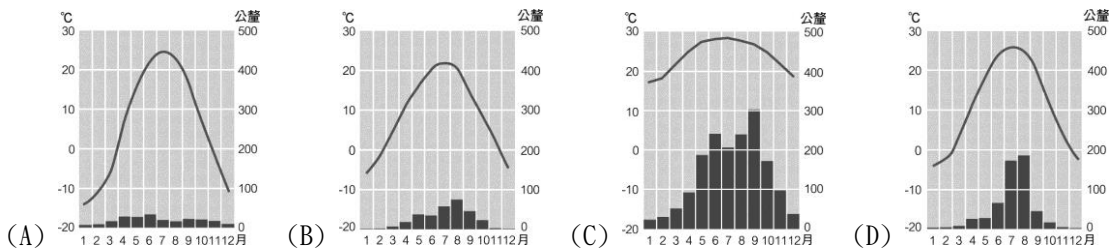


(四)

29. 我們在下列何地可以看到附圖(二)這種特殊的窑洞居住景觀？

- (A)橫斷山脈 (B)四川盆地 (C)黃土高原 (D)蒙古高原。

30. 附圖(三)是中國南部區域的騎樓，為當地傳統建築的特殊設計，請問：這種建築設計最可能出現在下列哪一氣候區？



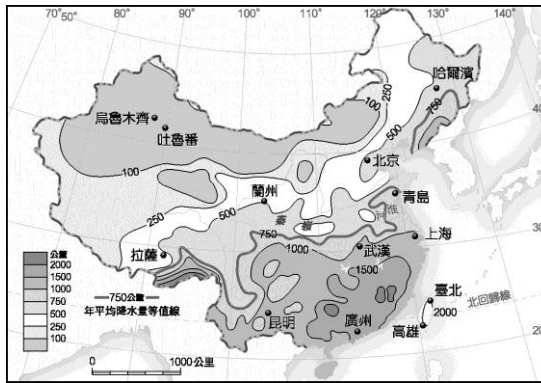
31. 「小哈一家人為了驅趕牲畜去尋找少量的水源與草料，乃以建、拆兩便的帳幕為住家(如附圖(四)所示)。」依此判斷，小哈的家鄉最可能在何地？ (A)內蒙古高原 (B)黃土高原 (C)橫斷山脈 (D)四川盆地。

32. 中國傳統建築有「坐北朝南」的習慣，這種現象最主要是為適應下列哪項自然環境因素？

- (A)避開寒冷強風 (B)屋內通風較好 (C)避開夏季暴雨 (D)有較佳的遮陽效果。

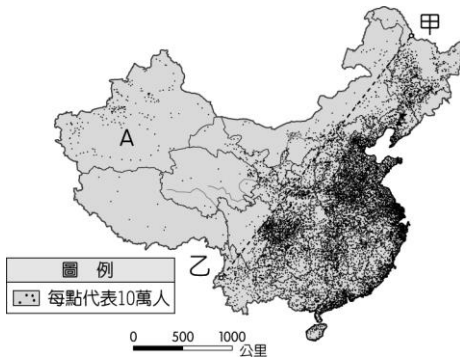
※ 右圖為中國降水量分布圖、從圖中可看出很多資訊，請問：

- 33. 哈爾濱和烏魯木齊的緯度差不多，但哈爾濱的年降水量較烏魯木齊多的原因是受下列哪一氣候因素的影響？
(A)洋流 (B)緯度 (C)地形 (D)距海遠近。
- 34. 中國都市中的拉薩其東南方一年的雨量能達到 1,000 公釐以上，其雨量的來源主要是來自於哪一個海洋？
(A)印度洋 (B)太平洋 (C)大西洋 (D)北極海。



※ 左下圖為中國人口分布圖，請問

- 35. 該圖可以顯示出目前中國大陸正面臨著下列哪一項人口問題？
(A)分布不均 (B)老年人口過多 (C)教育低落 (D)性別不均。
- 36. 圖中甲、乙連線，大致和中國哪一地區吻合？
(A)秦嶺—淮河 (B)黑河—騰衝 (C)長白—青藏高原 (D)大興安嶺—雲貴高原。
- 37. 圖中可以顯示出，中國的人口分布具有何項特色？
(A)人口集中於西北部 (B)人口集中於季風氣候區 (C)人口集中於山地及高原區 (D)人口分布非常平均。



| | |
|-----|-----------------------------------|
| 第一天 | 搭飛機進入離臺灣最近的少數民族自治區，開始體驗不同文化的特色 |
| 第二天 | 往北前進，體驗天人合一的人間境界。但地勢相當高，須注意高山症 |
| 第三天 | 進入西遊記的火焰山，在山谷縱橫的乾燥地區，欣賞當地的民族舞蹈 |
| 第四天 | 在一望無盡的草原上縱橫，大塊吃肉、大口喝酒，充分感受大漠兒女的豪情 |
| 第五天 | 來到清朝時期的龍脈所在，拜訪這些清代皇族的遠親 |

※ 新民旅行社推出中國少數民族的主題旅遊行程，

右上附表為該行程的內容，請依表中資料回答下列問題：

- 38. 行程中在參觀哪一個民族的自治區時，最容易因地勢過高而發生高山症的症狀？
(A)回族 (B)哈薩克族 (C)壯族 (D)藏族。
- 39. 第三天他們可能到了中國哪一個民族的自治區？
(A)新疆維吾爾 (B)廣西壯族 (C)內蒙古 (D)西藏。
- 40. 右附圖為中國各主要民族的人口比例圖。請問：若由圖中資料加以判斷，則圖中甲民族應該為何？ (A)壯族 (B)滿族 (C)回族 (D)維吾爾族。

