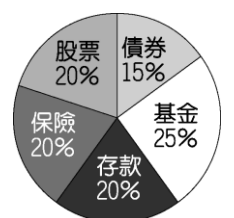
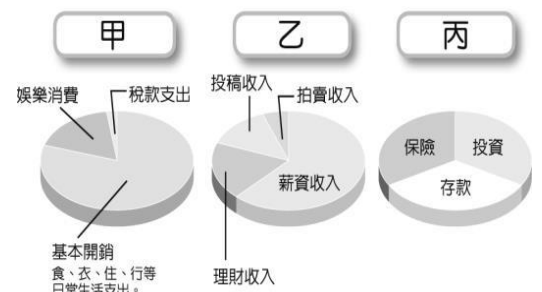


【是非題】1-5 題，每題 2 分。《正確答案請劃“ A ”；錯誤答案請劃“ B ”》

1. 勞動力人口等於就業人口和失業人口的總和。【習作】
2. 「就業」是指一個人具備工作能力與意願，有積極求職行動，並獲得雇用。因此，打工的高中生也算是就業人士。
3. 由經營者一人單獨出資經營的組織，其經營型態相當單純，屬於股份有限公司。【習作】
4. 依勞動基準法規定，凡是符合一定條件的勞工，失業時可向各縣市政府申請最多 6 個月的失業給付。
5. 「投資報酬率」是指獲利金額/投資金額×100%。

【選擇題】6-20 題，每題 2 分；21-40 題，每題 3 分。

6. 柏睿和凱旭兩人共同出資成立 APP 設計工作室，利用創意發想各種方便的 APP 產品，創造了可觀的利潤。請問柏睿和凱旭的工作室應該屬於哪一種企業型態？  
(A) 社團 (B) 獨資企業 (C) 合夥企業 (D) 股份有限公司。
7. 子嫫大學畢業後忙著到各家公司面試應徵工作。當她被其中一家公司通知錄取時，卻又考慮念研究所而放棄這個工作機會。請問，從上文判斷，子嫫缺少哪一項就業要件？  
(A) 學歷 (B) 行動 (C) 能力 (D) 意願。
8. 請判斷下列屬於「失業人口」？(甲)受國民教育的國中生 (乙)保衛國家服役的士兵 (丙)犯罪坐牢的受刑人 (丁)被資遣裁員的半導體員工 (A) 甲乙丙 (B) 乙丙丁 (C) 丙丁 (D) 丁。
9. 我國於民國 91 年修正夫妻財產制，以落實家庭財產平等分配的觀念。請問：這是屬於下列哪一項法律的範圍？(A)民法 (B)公平交易法 (C)就業保險法 (D)勞動基準法。
10. 承上題，下列有關於家庭成員的經濟角色，何者有誤？(A)依據該法規的修正，家中財產應歸媽媽掌管 (B)家庭財產分配上，夫妻應享有相同的權利，要投資應先作商量 (C)依據該法父母對於未成年子女的特有財產有使用收益權 (D)子女對於遺產的繼承有相同的權利與義務。
11. 右圖為某家庭一整年家庭收支狀況，透過記帳軟體所呈現出來的圓餅圖。依照家庭經濟規畫原理，下列敘述何者正確？  
(A) 甲：家庭的收入來源 (B) 乙：家庭的節流狀況  
(C) 丙：該家庭的支出圖 (D) 現代理財觀念強調乙-丙=甲。
12. 下列四人有關投資理財的想法，何者較正確？(A)凱欣：「保險是唯一沒有風險的理財方式。」 (B)文翰：「大膽借錢投資，以錢滾錢。」 (C)映涵：「所有理財工具，即使長期持有，未必穩賺不賠。」 (D)銘堃：「投資全集中在高風險項目，才能獲取高報酬。」
13. 當我們在選購商品時，應考慮到其對於生態環境的影響與衝擊，並選擇對環境傷害較少、甚至有利的商品。上述消費觀念我們稱之為何？(A)現金消費 (B)綠色消費 (C)網路消費 (D)跨國消費。
14. 承上題，該項消費運動，主要是以「5R」作為實踐環保生活的重要原則，其中哪種方法符合「回收」(Recycle)的概念？(A)將回鍋油製成肥皂 (B)將二手衣拿去拍賣 (C)購買過期食品食用 (D)外出吃飯自備餐具。
15. (2017/12/29 中時)據報載：網家 (PChome) 旗下商店街宣布完成增資，以每股發行價格 51 元、總計發行 784.3 萬股，現金增資約 4 億元全數到位，已完成增資。而參與認購的投資人則可依此分享該公司的盈虧。請問：投資人認購的是下列何種理財工具？(A)債券 (B)共同基金 (C)股票 (D)定期存款。
16. 承上題，有關 PChome 這種上市公司的企業經營型態，下列敘述何者正確？(A)只有政府官員能成為公司股東 (B)政府以法律保障公司營運，故無虧損風險 (C)此經營類型已被現代社會淘汰 (D)公司虧損，不需以股東私人財產支付。
17. 右圖是韋志的投資理財工具分配比例，其投資組合方式符合何種理財原則？  
(A)比較利益法則 (B)分散風險原則 (C)負擔能力原則 (D)資源分配原則。




18. 下列是各項理財工具的比較表，哪一選項的內容有誤？

	銀行存款、債券	共同基金	股票
(A)報酬	較低	較債券、銀行存款低，較股票高	較高
(B)獲利	固定	不固定	不固定
(C)風險	低	中	高
(D)屬性	保守	穩健積極	積極

19. 新聞報導：某業者成立基金會，並設置專線作為捐款平臺，讓民眾可以透過這個管道，即時捐款給需要幫助的人，民眾每捐一元，基金會也捐一元，共同響應公益活動。根據上述內容判斷，關於該基金會的敘述，下列何者最適當？ (A)屬於地方自治組織的一種 (B)成立依據為《集會遊行法》 (C)推動該活動可落實社會責任 (D)該組織的性質屬於職業團體。 【105 會考】

20. 追求利潤是企業經營的目標，但亦需顧及社會責任。如圖是社會責任與追求利潤的關係圖，圖中甲、乙、丙、丁的哪一個位置，最能代表企業與社會的共榮發展？ (A)甲 (B)乙 (C)丙 (D)丁。 【97 基測 I】



21. 這幾年來台灣各地出現許多黑心商品新聞，如：混油、過期食品添加物、過期商品再製。請問：根據上述是指這些企業在哪一個環節未盡到應有的社會責任？ (A)製造安全的產品供民眾使用 (B)告知消費者充分的產品資訊 (C)保護消費者的購買退換權益 (D)對消費者的投訴或抱怨負責。

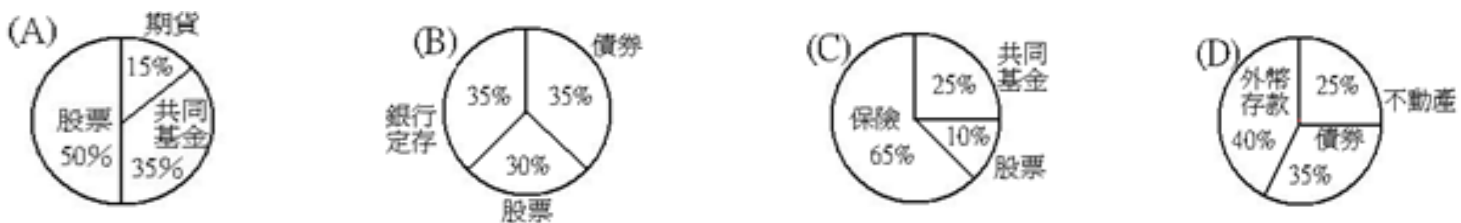
22. 下列關於理財工具的敘述，正確的有幾項？ (甲)債券—企業為籌措資金而發給債權人的借款憑證 (乙)基金—是一種合約，約定在未來的時間以固定價格買入或賣出固定數量的商品 (丙)期貨—將金錢存放於郵局或金融機構 (丁)股票—投資人對發行公司所有權以股份方式持有的有價證券 (A)甲、丙 (B)乙、丙 (C)乙、丁 (D)甲、丁。

23. 佳錡上班多年，好不容易存款累積 200 萬元，她想拿去投資，研究了許多資料，決定分別買進股票、債券、共同基金、歐元。佳錡在歐元：新臺幣=1：33 時，買進歐元 3 萬，隔了一陣子，當匯率變為 1：35，她把歐元賣掉，獲利了結。請問：她的投資報酬率約為多少？ (A)0.06% (B)60% (C)6% (D)160%。

24. (2018/1/8 聯合)遠傳電信透過「翻轉教育，讓愛遠傳」計畫鼓舞偏鄉孩童學習意願，包括與台大教授葉丙成開發的線上遊戲學習平台 PaGamO 合作，將「學習」融入「遊戲」，並號召員工化身「雲端課輔」老師關懷偏鄉學童學習狀況。該電信公司雖然營利為其目的，但還能在社會需要時回饋，這主要顯示下列何者精神？

(A)追求企業擴大規模 (B)落實企業的社會責任 (C)促進國家經濟發展 (D)維護生態保育。

25. 肇權家人計畫利用明年寒假全家到日本北海道旅遊，大家紛紛討論如何利用理財投資來賺取旅費。請問：如果全家決定要採取「積極、高獲利」的方式來賺取旅費，下列何種投資組合較符合？



26. (2018/1/8 聯合)「近年違規露營區層出不窮，不僅造成國土傷害，也可能威脅人民安全。但依現行環評只有規定風景區、遊憩用地、國家公園等開發為露營區需要進行環評。環保署表示已規畫未來山坡地闢露營區超過一公頃就要環評。」上述政府擴大環評審查的主要原因，是為了實現下列何項原則？

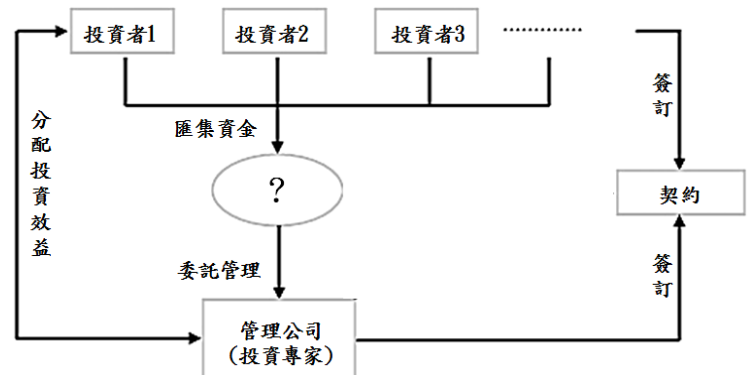
(A)開源節流 (B)永續發展 (C)社會責任 (D)企業倫理。

27. 根據右圖，判斷這是哪一項理財工具的運作示意圖？

(A)共同基金 (B)股票 (C)公司債券 (D)保險。

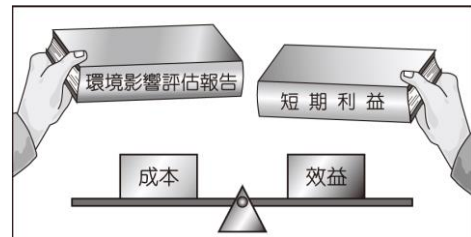
28. 承上題，下列對於該項理財工具的敘述，何者正確？

- (A)風險性相較於定期存款來比較安全
- (B)由於委託投資專家管理資金，因此，有賺無賠
- (C)投資人共同承擔該項理財工具的盈虧
- (D)投資人投入資金，可取得該公司股份，成為股東



另一頁還有題目

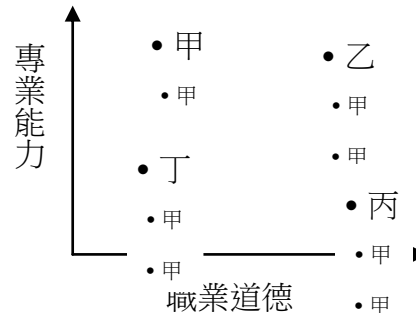
29. 附圖是小狄用來輔助說明經濟發展與環境保護議題的圖形。根據內容判斷，下列何者最符合他的觀點？ (A)立法徵收民間企業環汙處理費 (B)選擇生產機會成本較低的產品 (C)開發再生資源以有效減少汙染 (D)企業獲利不應該忽略社會成本。 【95 基測 II】




30. (2018/1/1 自由)「行政院的擴大限塑政策正式上路，新增 7 類管制對象，包括藥粧店/美粧店/藥局、醫療器材行、家電攝影/資訊/通訊設備零售業、書籍及文具零售業、洗衣店、飲料店、西點麵包店，皆不得免費提供購物用塑膠袋，若民眾有需要須另行購買。」從上文可知，政府對於環境的態度，下列何者為是？ (A)要求企業善盡社會責任，即可達成目標 (B)環保觀念由「追求永續發展」朝向「消極控制汙染」 (C)環境保護不能犧牲經濟成長 (D)擬訂完善經濟開發、環境保育政策與法令，並確實執行。



31. 從(圖一)中可知是屬於下列何種類型失業？ (A)結構性失業 (B)循環性失業 (C)摩擦性失業 (D)產能性失業。  
 32. 承上題，若有失業情況，可利用下列哪些管道繼續尋找新的工作機會？ (甲)參加職業訓練課程 (乙)從人力網站中獲取求職訊息 (丙)向各縣市就業服務中心請求協助 (丁)多看報上的徵人廣告 (A)甲乙丙丁 (B)甲乙丙 (C)乙丙丁 (D)甲乙丁。  
 33. 社會上需要各式各樣的人才，不論選擇哪一種行業，應秉持右圖哪一個區域的精神較適當呢？(A)甲 (B)乙 (C)丙 (D)丁。



34. (2017/12/28 中央社)華信航空成為國內首家獲得環保署碳標籤、更是全球首家獲得 ISO14067 碳足跡認證的航空公司。在環保署與民航局指導下，再度攜手金門、台北航空站共同計算台北—金門碳足跡。請問：以下何者並非此標籤所要宣達的涵意？ (A)華信台北—金門航線碳足跡標籤為每人每公里 280 公克 (B)期望達到企業永續經營、顧客滿意與減輕地球負擔的三贏策略 (C)藉由引進新機、提升飛航管理與地面設施效率，達到節能減碳目標並得認證 (D)希望藉此打壓同業，拉攏生意，以創造最高利潤。



企業在追求利潤最大化的同時，應盡其所能回饋社會，「取之於社會，用之於社會」。透過對消費者、員工、社會三種不同的對象來落實其社會責任。試回答 34-36 題：

35. (2017/12/29 大紀元)「主富 (NET) 服裝股份有限公司長期關懷弱勢孩童，連續 3 年捐贈嘉義家扶中心所扶助的貧困兒童，讓貧困兒童能穿到新穎的衣服歡渡新年，共計有 1,250 名小朋友受惠，今年為第四度捐贈，捐贈 50 萬元提貨券，讓貧困兒童能有機會走進 NET 挑選衣物，在寒冷天氣，溫暖貧窮孩童的身心。」請問：主富公司的作法是為了落實何項社會責任？ (A)注重員工福利 (B)保障消費權益 (C)重視經濟建設 (D)促進社會公益。  
 36. (2018/1/4 自由)「最近不少企業響應政府的加薪政策，總部設在新加坡的知名遊戲代理商 Garena 就是代表。這家因代理知名電腦遊戲《英雄聯盟》(LoL) 而聞名。去年就開始達成政府提倡的起薪 3 萬元的夢想，更在今年宣布加薪 5%，甚至還有儲備幹部加薪幅度高達 30%；另外在 Garena 工作可以光明正大玩遊戲，有小房間能夠直接躺著睡覺休息，一整區的零食、飲料隨便拿，還有每週 3 天的按摩服務。」請問：Garena 作法是為了落實何項社會責任？ (A)注重員工福利 (B)保障消費權益 (C)重視經濟建設 (D)促進社會公益

背面還有題目

行政院主計總處公布 11 月失業率 3.71%，為近 17 年來同月新低；若按年齡觀察，15 至 24 歲的失業率高達 11.49%，為各年齡層最高。政府官員指出，青少年失業率較高，主因剛出社會找工作，處於職場調適階段，加上異動頻繁，但隨著年齡增長，失業率會慢慢下降。

亞洲四小龍中，南韓 10 月失業率 3.6%、香港 11 月失業率 3%、新加坡 9 月失業率 2.2%，台灣失業情勢雖逐步改善，但仍是亞洲四小龍最高。  
資料來源：自由時報 2017/12/23 改編

37. 下列有關我國目前「失業給付」的相關敘述，何者有誤？

- (A) 維持失業者基本生活，並輔導其儘速找到工作
- (B) 給付對象為須符合一定條件的失業者
- (C) 給付期限原則上以六個月為限
- (D) 法源依據：勞動基準法。

38. 請問下列何項政府政策可降低失業率？

- (A) 延長失業給付 (B) 提供職業訓練輔導 (C) 增加外勞工作機會 (D) 降低所得稅課稅稅率。

39. 尼特族 (NEET 全稱 Not in Employment, Education or Training.) 是指一些不升學、不想就業、不進修或不參加就業輔導，終日無所事事的青年族群。因此我國有關勞動力人口分類表(如右表)，可知「尼特族」是屬於以下何種人口？

- (A) 就業人口 (B) 失業人口
- (C) 監管人口 (D) 非勞動人口。



40. 關於「失業」的敘述，下列何者正確？

- (A) 失業人口在勞動人口中所占的比例稱為失業率
- (B) 失業屬於個人問題，政府不會加以干涉
- (C) 失業會影響家庭經濟，但對國家經濟沒有影響
- (D) 面臨失業時，不必擔心，政府皆會提供失業津貼與補助，沒有請領及時間限制，直到找到新工作為止。

試題完成 恭喜同學 寒假平安 衝刺會考

讀書是一件不斷奮鬥的事，全台灣的考生與你一起共勉之。