

【歷史科】第 1-17 題，每題 2 分。

1. 日治時期，臺灣總督府引進新式教育制度，推行日語教育，其主要目的為下列何者？
 (A) 推動政治社會改革 (B) 防止臺灣人爭取自治權利
 (C) 貫徹殖民統治政策 (D) 圍堵民族自決思潮的擴散。

2. 如右表顯示，日治時期某一年臺灣的教育狀況，從表中可看出當時的教育情形為何？

項目		日本人	臺灣人
基礎教育	學生數(人)	23,711	210,727
	學齡兒童就學率(%)	98.2	28.4
中等學校學生數(人)		477	251
專門學校學生數(人)		6,856	4,642

- (A) 臺人基礎教育不足且升學不易
 (B) 升學管道暢通，臺人紛紛入學
 (C) 臺人與日人都有平等的受教權
 (D) 臺人基礎教育較日人更為普及。【91 基測】
3. 曉明來到北投拜訪三級古蹟「溫泉博物館」，才知這是日治時期蓋的「北投溫泉公共浴場」。請問：這是當時總督府為了建立民眾下列哪一種觀念而興建的？
 (A) 守時觀念 (B) 守法觀念
 (C) 現代衛生觀念 (D) 學術研究觀念。
4. 日治時期，臺灣總督府對於臺灣人吸食鴉片的問題是採取何種策略？
 (A) 強制戒除 (B) 漸禁政策 (C) 放任政策 (D) 半強迫政策。

◎請閱讀下列短文，並回答下列問題：

臺人的非武裝抗日主要是受到西元 1915 年西來庵事件的影響，經過這次慘烈的戰鬥後，臺灣民眾瞭解到零星的武力無法打敗強敵，被迫放棄二十年的武裝抗日，改用政治、社會文化運動，來表達他們不甘臣服的心聲。加上第一次世界大戰後，日本為順應潮流，對臺灣高唱「一視同仁」，於是當時臺灣的知識分子趁機對日本提出改革不合理的殖民政策。(改寫自翰林版教師手冊)

5. 日治時期臺灣知識分子推動社會運動，其所追求的政治目標為何？
 (A) 真正歸順日本 (B) 推翻臺灣總督府
 (C) 配合皇民化運動 (D) 爭取臺人政治權益。
6. 當時日本政府是為了順應下列何種潮流，才提出「一視同仁」的政策？
 (A) 自由放任 (B) 民族自決
 (C) 共產主義 (D) 啟蒙運動。
7. 西元 1920 年代，臺灣有識之士成立了臺灣文化協會，為凝聚臺人的民族意識與提高臺灣的文化，致力於下列哪一種社會運動？
 (A) 推動兩性平等 (B) 進行土地改革
 (C) 傳播新知啟迪民智 (D) 保存社會傳統習俗。
8. 承上題，臺灣文化協會發行下列何種刊物作為宣傳工具？
 (A) 臺灣民報 (B) 臺灣新民報
 (C) 新民叢報 (D) 新臺灣民報。
9. 日本統治時期，臺灣總督因得到日本政府的特許，集權於一身，形成如皇帝般的獨裁。西元 1920 年代起，臺灣一些有志之士發起「臺灣議會設置請願運動」，企圖爭取何種權力？
 (A) 行政權 (B) 立法權 (C) 司法權 (D) 軍事權。【96 基測】

◎請閱讀下列短文，並回答下列問題：

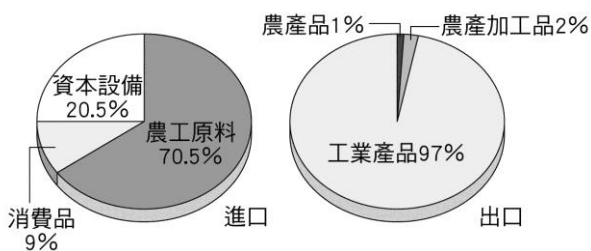
國民政府接收臺灣時，將樟腦、菸酒等等都納入專賣制度。日本人留下的公、私營企業，全部納入了當時陳儀手下的公司來經營。這種公營事業無限擴大後，又加上政治上的貪污腐敗，及外行領導內行的結果是經營不善、生產力大降，產生資金短缺、通貨膨脹的情形。加以大陸局勢吃緊，臺灣儲備的米、糖往往被投機者賣到上海，使得臺灣民眾的生活急速惡化。(改寫自翰林版教師手冊)

10. 由上述短文得知，國民政府接收臺灣初期，政策失當導致社會秩序不穩，其中以下列哪方面的問題最為嚴重？
 (A) 教育 (B) 外交 (C) 文化 (D) 經濟。
11. 為因應上文中所述「大陸局勢吃緊」的狀況，國民大會於民國 37 年制定下列哪一文件作為《憲法》的補充條款，使總統職權可以不受憲法約束？
 (A) 戒嚴令 (B) 國安法
 (C) 動員戡亂時期臨時條款 (D) 社會秩序維護法。
12. 中華民國政府自民國 38 年 5 月起，在臺灣省實施《戒嚴令》，這是當政者為了防堵下列何種思潮的滲透而頒布的法令？
 (A) 自由思想 (B) 民生主義
 (C) 民族主義 (D) 共產思想。
13. 曉芬在一篇報告中寫到：「西元 1950 年代，臺灣正處於戒嚴時期，政治管控嚴密。儘管如此，他仍主辦《自由中國》雜誌，持續宣揚自由、民主理念。1960 年，他更因籌備組織政黨，而遭到政府逮捕、判刑。」文中的「他」是指下列何人？
 (A) 陳儀 (B) 胡適
 (C) 雷震 (D) 蔣渭水。【100 北北基聯測】。
14. 西元 1995 年，新公園改名為「二二八和平紀念公園」，園內的二二八和平紀念碑也正式揭碑。請問：會有這樣的作法，代表什麼樣的意涵？
 (A) 紀念臺灣的和平轉移政權，政黨輪替
 (B) 為提醒國人勿忘歷史教訓，撫平歷史傷痕
 (C) 為臺灣首次由人民直選直轄市長做紀念
 (D) 要民眾切記歷史教訓，凡事都不要反抗政府。
15. 解嚴以後，臺灣的政黨林立，然而在民國 76 年以前，卻只有一個國民黨及其附屬的幾個小政黨，其主要原因是在戒嚴時期人們的哪一項權利受到限制？
 (A) 結社 (B) 居住 (C) 言論 (D) 宗教。
16. 民國 76 年，下列哪一位總統任內宣布解除《戒嚴令》？
 (A) 蔡英文 (B) 馬英九 (C) 蔣經國 (D) 陳水扁。
17. 民國 68 年發生的「美麗島事件」，引起許多臺灣人民的關注，當時這活動最主要的訴求是下列何者？
 (A) 要求民主政治 (B) 抗議中共進入聯合國
 (C) 宣揚環保理念 (D) 主張經濟自由化。

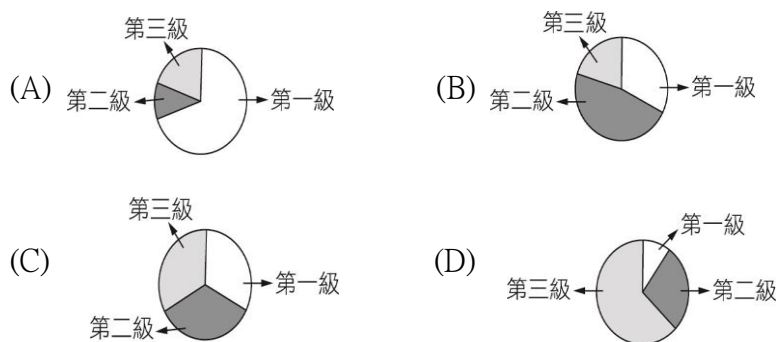
【地理科】第 18-34 題，每題 2 分。

18. 下列何種商品的流通方式算是新興起，理論上可以大幅節省店面的營運成本進而降低售價？
 (A) 量販 (B) 網購 (C) 零售 (D) 批發。
19. 通常產品重量較重、工廠規模較大、需要較多資金與能源消耗的工業類型在工業類型的分類中，會被稱為下列何種工業？(A) 輕工業 (B) 重工業 (C) 高科技工業 (D) 傳統工業。

20. 下列各產業與最理想的工業區位配置
- (A) 蔗糖廠：市場 (B) 成衣廠：技術
(C) 玻璃業：原料 (D) 煉鋁廠：動力。
21. 因亞洲水泥公司花蓮新城山礦場深挖，導致山頭遭剝平得慘不忍睹，當這模樣攤在國人眼前，引發外界批評不斷，而究竟該公司選擇花蓮的區位主要考慮為？
(A) 原料 (B) 市場 (C) 交通 (D) 勞力。
22. 2018 年的四月，臺灣中油公司五輕搬遷印尼投資計畫宣告終止，但即便如此，上述產業最可能是基於何種區位考量而做此打算？ (A) 勞力 (B) 市場 (C) 交通 (D) 原料。
23. 民國五十年代時家中從事皮鞋加工與進出口致富的丞凱，當時主要是利用何種臺灣的優勢？
(A) 豐富的原料 (B) 便宜的勞力
(C) 便宜的電費 (D) 充足的動力。
24. 臺灣十大建設的各項基礎建設中，除了交通建設外，最重要的是發展下列何種產業？
(A) 輕工業 (B) 重工業 (C) 高科技產業 (D) 服務業。
25. 日本為臺灣重要貿易夥伴，請問下列哪種情況最能真實反映台日之間目前進出口貿易的現狀？
(A) 臺灣的鴻海手機幾乎日本人手一臺
(B) 日本民眾佐佐木軍濠最愛駕駛臺灣研發的汽車
(C) 愛拍照的振宇堅持只買日本 SONY 單眼相機
(D) 中國石油公司向日本進口大量原油。
26. 附圖是臺灣進出口產品結構圓餅圖。由圖中產品的類型來看，目前臺灣的工業發展應具有何種特徵？
(A) 多勞力密集產業 (B) 原料多仰賴進口
(C) 工業區位著重市場區位 (D) 發展重心為加工出口區。



27. 下列為臺灣某四個地區的三級產業比例圖，何者最可能是鄉村型聚落？

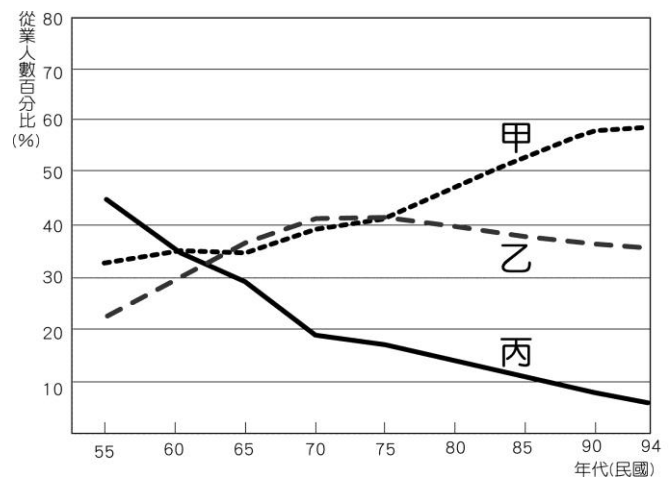


28. 以下何種環境因素較易出現「集村」景觀？
(A) 丘陵廣布地區 (B) 治安穩定地區
(C) 舊時開墾制度所致 (D) 水源充沛的地方。
29. 下列何者是臺灣北部最重要的國際機場，也是臺灣最大的航空站？
(A) 小港機場 (B) 嘉義機場 (C) 桃園機場 (D) 馬公機場。
30. 下列哪種交通工具最有助於都會區內部的交流，使其有更緊密的連結、擴大通勤範圍？ (A) 高速公路 (B) 鐵路
(C) 捷運 (D) 省道。

31. 睿恩打算坐火車來趟 2018 國慶煙火旅行，如果從臺北出發，途中想先在臺南品嚐美食，最後以花蓮為目的地，在不重複搭乘的前提下，依據右圖睿恩所需搭乘的鐵路幹線代號排序與名稱配對下列何者正確？

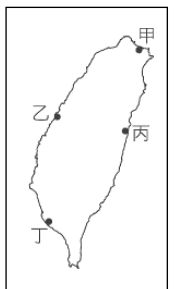


- (A) 乙縱貫線→丙北迴線→甲宜蘭線→丁南迴線
(B) 乙縱貫線→戊屏東線→丁南迴線→甲花東線
(C) 丙宜蘭線→甲花東線→丁南迴線
(D) 戊南迴線→丁屏東線→甲花東線→丙宜蘭線。
32. 現在的設計公司能夠將設計藍圖在地球各角落間的分公司中互相傳遞，進而在不浪費絲毫下班時間的情況下完成，但此種高效率最可能需要哪一種交通方式的配合？
(A) 空運 (B) 陸運 (C) 海運 (D) 網際網路。
33. 臺灣國內旅館增加速度在過去兩年攀上高峰，平均不到 1 天半就開出一家新旅館，請問這些業者該隸屬於下方這張臺灣三級產業統計圖中的哪條統計線？
(A) 甲 (B) 乙 (C) 丙。



34. 「目前臺灣幾個國際港中，它是當今運輸量指的一個，雖然地形影響，其並非是天然的良港，但於清朝時早已是地方重要港口，日治時更加以擴建強化。」上文所述最可能是右圖哪個港口？

首屈一



- (A) 甲 (B) 乙 (C) 丙 (D) 丁。

【公民科】第 35-50 題，每題 2 分。

一、是非題：(每題 2 分共 4 分；對的畫『A』，錯的畫『B』)

35. 「文化」是人類的產物，只要有人類，文化就會自然而然的傳承下去，不會發生改變或消失不見。
36. 在群體生活中，我們會與他人或團體進行各種社會互動，為了維持和諧的人際關係與穩定的社會秩序，因而必須建立彼此認同的規則，該規則就是指「社會規範」。

二、選擇題：(每題 2 分, 共 28 分)

37. 華人向來認為「4」是不吉利的數字，車牌及手機號碼都會避開「4」。上述觀念是受到下列哪種社會規範的影響？
(A) 宗教信仰 (B) 倫理道德
(C) 風俗習慣 (D) 法律。

【習作】

另一頁還有題目

38.下列關於主流文化與次文化的比較，何者正確？

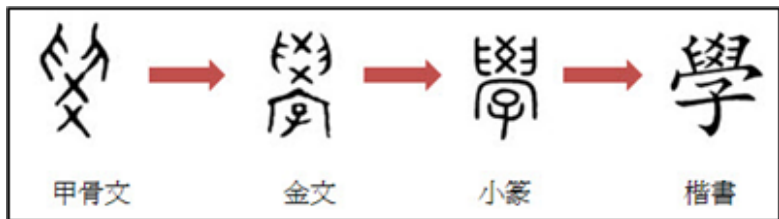
	(A)組成原因	(B)成員規模	(C)等級	(D)實例
主流文化	社會當中特定團體的價值和信念	較小	較高	流行樂
次文化	社會當中多數人的價值和信念	較大	較低	古典樂

39.文化指某社會所共享的一套生活方式，是人類特有的，則下表屬於文化範圍有幾項？

- (A)3 項 (B)4 項
(C)5 項 (D)6 項。

- 1 新民國中校規
2 台灣藍鵲
3 陽明山景
4 科學樓
5 鵲閱齋
6 鵲鳴台

40.從下圖我國漢文字的演變，顯示出文化的何種特徵？



- (A)普遍性 (B)差異性 (C)約制性 (D)累積性。

41.右圖為 Google 公布台灣 2017 年流行語搜尋排行榜。若不常接觸這些流行於網路、青少年用語的人而言，可能無法理解這些字句的意思，這種只適用在少部分人的文化現象稱為？

- (A)次文化 (B)主流文化
(C)通俗文化 (D)異文化。

Google	
2017年快速竄升流行語	
1. Seafood	6. 用愛發電
2. Freestyle	7. 我覺得不行
3. 不要不要的	8. 傻眼貓咪
4. 黑人問號	9. 嚇到吃手手
5. 自自冉冉	10. 我覺得可以

42.沅安在整理一份有關社會規範的表格，請問：下列敘述何者**錯誤**？

	風俗習慣、倫理道德、宗教信仰	法律
(A)產生背景	長期累積而成	立法機關依一定程序制定
(B)作用	約束人的外在行為	啟發人的內在良知
(C)強制力	無	有
(D)處罰方式	良心譴責、社會輿論批評	國家公權力處罰

43.隨著智慧型手機大家人手一機的情況下，人們無時無刻不在使用它，因此也衍生了許多問題，以下有關使用手機的禮儀與社會規範的種類搭配，何者正確？

- (A)不要邊開車邊看手機訊息—倫理道德
(B)與朋友聚會時，不要只沉溺手機世界—宗教信仰
(C)在捷運上開著喇叭看影片—風俗習慣
(D)臉書上分享他人文章，需先得到對方同意—法律。

44.本校新民國中的各項學校活動中，屬於「制度層次」的有哪些？(甲)每月一次的服儀檢查 (乙)工藝樓家政教室的改建(丙)一學期舉行 3 次段考(丁)課表的安排(戊)校訓「忠誠勤毅」的精神

- (A)甲丙丁 (B)丙丁戊 (C)甲丙丁戊 (D)乙丙丁戊。

45.今年的四月二十二日「世界地球日」，基隆、新竹、花蓮、澎湖等地方政府發起淨灘活動，活動發起的目的無不希望喚起大家重視環境保護問題，由上述內容可知，這樣的觀念屬於何種社會規範的範疇？



- (A)五倫 (B)心六倫 (C)環境倫理 (D)風俗習慣。

46.老師在課堂上介紹完文化的特徵後，抽籤點了四位同學，要他們分別對各個特徵舉例。根據下表的内容判斷，下列哪一位同學的回答内容**最不適當**？

特徵	同學	回答內容
差異性	小周	古代書寫的隸書、楷書，逐漸演變成我們今日所使用的文字。
普遍性	阿星	世界各地的人們，大多都有與家人、親戚一同慶祝團聚的習俗。
制約性	琪琪	我國修改交通法規，規定乘坐小客車後座的乘客應繫上安全帶。
累積性	小貞	從腳踏車至汽、機車，人們發明更舒適的交通工具往來各地。

- (A)小周 (B)阿星 (C)琪琪 (D)小貞。【105 會考】

47.「北投溫泉浴場」建於 1913 年，為仿照日本靜岡縣伊豆山溫泉的方式興建而成，是當時規模最大、最華麗的公共浴場。戰後因管理單位更換而荒廢，直到 1998 年才在地方熱心居民的奔走下，經過台北市政府的整修，以「北投溫泉博物館」為定位，重新開放參觀。請問該博物館的成立，主要是希望達成何種目的？



- (A)文化衝突 (B)文化失調 (C)文化創新 (D)文化傳承。

48.(2018/04/18 蘋果日報)「立法院交通委員會初審通過《道路交通管理處罰條例》第 60 條，將現行只罰 3 千元到 6 千元的汽車駕駛人拒檢行為，提高為 1 萬到 3 萬元並吊扣駕照 6 個月，5 年內再犯，除仍要面臨罰鍰，吊照期限更加倍為 1 年。但修法內容正式實施時程仍要視立法院三讀通過時間。」請問上文底線內容，呈現法律的下列何項特徵？

- (A)國家可以強制力來處罰違反法律者
(B)法律經由一定的立法程序制定而成
(C)法律明確規定人民應該遵守的事項
(D)法律無法規範人民的內在真實想法。

49.每年春夏交替時，就是蘭嶼達悟族捕捉飛魚的季節，同時也是他們最忙碌的時候。飛魚祭有許多「禁忌」需遵守，如女人禁止參加任何飛魚祭典儀式，不能接近大海、摸漁具，更不能碰到出海的漁船；所有的族人在這段期間一律禁止罵髒話或亂講話等。在飛魚祭期間所有達悟族人們都必須遵守相關的禁忌，顯示出下列何種文化特性？

- (A)普遍性 (B)差異性 (C)制約性 (D)累積性。

50.下表是彥宇的公民筆記，表中共有幾項是正確的？

內涵	作用	舉例
器物層次	(甲)使生活愈來愈便利	(丁)房屋建築、醫療技術
制度層次	(乙)約束或指導人們行為的準則	(戊)清明掃墓、健康飲食觀念
理念層次	(丙)人們精神生活中擁有的各種思想	(己)民主思想、奈米科技

- (A)3 項 (B)4 項 (C)5 項 (D)6 項。