

# 臺北市新民國中106學年度 第二學期 八年級社會領域 第二次段考試卷

八年 \_\_\_\_\_ 班 座號：\_\_\_\_\_ 姓名：\_\_\_\_\_

## 【歷史科】第 1-16 題，每題 2 分

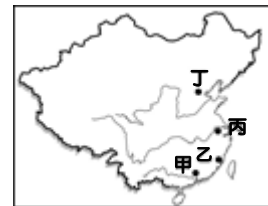
- 1、清末八國聯軍的戰禍未擴及中國東南各省的最主要原因，下列哪一個選項為正確？  
(A)美國提出「門戶開放」政策 (B)英國以東南各省為其勢力範圍，將東南各省畫為非戰區  
(C)東南各省的督撫和各國商議「東南互保」辦法 (D)東南各省督撫暗中協助西方列強抗拒清廷。
- 2、八國聯軍攻入北京後，慈禧太后偕光緒皇帝倉皇出走於右圖何處？ (A)甲 (B)乙 (C)丙 (D)丁。
- 3、中國受到日俄戰爭，日本能夠戰勝俄國的啟發，認為一個小國可以打敗一個帝制大國的原因是政治體制的不同，因而推動了下列哪一項改革運動？  
(A)自強運動 (B)立憲運動 (C)庚子後新政 (D)戊戌變法。
- 4、中國實行千餘年的科舉制度於下列何時正式廢除？  
(A)自強運動期間 (B)戊戌變法期間 (C)庚子後新政期間 (D)立憲運動期間。
- 5、承上題，科舉制度的創立是在下列那一朝代？ (A)隋 (B)宋 (C)元 (D)明。



### ◎請閱讀短文，並回答下列問題：

自強運動期間，一般民眾對於鐵路的觀感不佳，但是到了甲午戰爭之後風氣大為轉變；清廷積極從事鐵路建築工作，紳民在態度上甚至比政府還要積極。因此，從光緒 30 年到宣統 2 年，全國各地普遍具有共識，要將鐵路收回自辦的共識。但是清廷卻宣布由「紳民自辦」到「鐵路國有」的政策，這重大的轉折，意外打開對革命有利的情勢。(改寫自翰林教師手冊)

- 6、宣統年間，由於清廷鐵路國有政策的錯誤，使得各地掀起大規模的反抗運動，成為成功推翻滿清革命的導火線。請問：此導火線為下列何者？ (A)維新運動 (B)保路運動 (C)自強運動 (D)立憲運動。
- 7、承上題，此事件是以下列那一個省份最為激烈？ (A)福建 (B)安徽 (C)湖北 (D)四川。
- 8、武昌起義成功後，響應革命的各省代表於右圖何地成中華民國臨時政府？  
(A)甲 (B)乙 (C)丙 (D)丁。
- 9、民國初年，袁世凱一邊替清廷效力，一邊拉攏革命勢力。袁世凱的主要目的為下列哪一選項？  
(A)為自己的權勢鋪路 (B)誓死抵抗列強侵略 (C)證明自己效忠國家 (D)證明自己效忠清廷。
- 10、民國四年，袁世凱同意日本所提出的「二十一條」要求，認可該國在右圖中國何地的特殊權益？  
(A)甲 (B)丁 (C)己 (D)辛。
- 11、在中國歷史上，軍人亂政例子屢見不鮮，除了民國初年軍閥統治時期之外，下列哪一個時代也有類似的情形發生？  
(A)秦代 (B)晉代 (C)唐代 (D)元代。
- 12、民國 6 年，南北各有一政府，導致國家分裂，最主要原因是下列何者？  
(A)張勳導演復辟醜劇，擁戴溥儀復位 (B)段祺瑞不遵守臨時約法，孫中山號召護法  
(C)洪憲帝制，引發各地軍隊討伐 (D)國民政府實施分工，並將政府遷至南京。
- 13、清末民初，中國社會、經濟在西力衝擊之下，何地是引進西方文明的主要窗口？  
(A)軍事重鎮 (B)內陸城鎮 (C)首都重地 (D)通商口岸。



### ◎請閱讀短文，並回答下列問題：

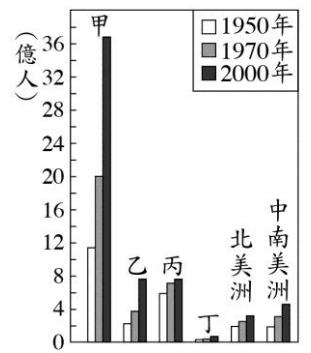
民國 4 年，陳獨秀主編的青年雜誌(後改稱為新青年)創刊，介紹西方文化，批評傳統，揭開了「新文化運動的序幕」。當時年的胡適和魯迅都是推動新文化運動的要角，除了透過新青年雜誌攻擊傳統文化外，也積極提倡「德先生」與「賽先生」等新思潮，不再獨尊儒家思想，使得民初的學術思想呈現百家爭鳴的局面。(改寫自翰林教師手冊)

- 14、根據上述短文判斷，民國初年，陳德秀與胡適等知識分子推動新文化運動的主要目的為下列哪一選項？  
(A)進行文化思想的改革以建現代化國家 (B)表達出熱愛新知的熱忱以創文學新局面  
(C)防堵西洋文明破壞中國人民的傳統價值觀 (D)希望融合中西文化思想以開創經濟的新風貌。
- 15、上述短文中的「德先生」和「賽先生」各是指以下何者？  
(A)民族、倫理 (B)民主、科學 (C)博愛、自由 (D)平等、生命。
- 16、民國 8 年的五四運動，廣布全國各大城市，其最主要訴求是什麼？  
(A)反清復明，還我主權 (B)實行三民主義，共享太平 (C)外爭主權，內除國賊 (D)從事國民革命，完成統一。

## 【地理科】第 17-33 題，每題 2 分

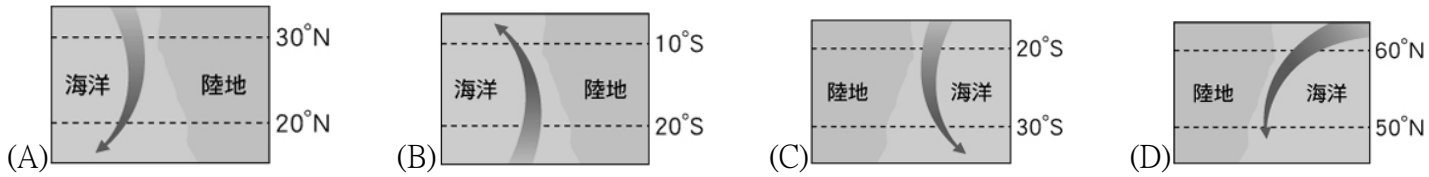
- 17、「這片位於長江和黃河源頭附近的土地，高達 4,000 公尺以上，一望無際，彷彿延伸到世界的盡頭。除了牧民會在夏季帶領牲口到此地外，人煙罕至。」下列何者是上述牧民日常生活的特色？  
(A)以犛牛糞塊作為燃料 (B)利用坎井取得飲用水 (C)每天面向聖地朝拜五次 (D)以馬匹為主要交通工具。

18、右圖是六大洲在不同年分的人口數統計圖，根據變化趨勢判斷，圖中甲應是代表下列何者？  
 (A)歐洲 (B)亞洲 (C)非洲 (D)大洋洲。



19、「這裡人煙稀少，其中一個原因是盧安瓦河一年一度的氾濫。每年 10 月之後的雨季期間，黑壓壓的雷雨雲開始聚積，滂沱大雨如急流般從天而降，洗去草與樹上的塵埃；暴漲的河水會重新改變土地的面貌，野生動物也隨著乾溼季節的更替而遷移。」上文所述的地區，最可能是位於下列何種氣候分區？  
 (A)北半球熱帶季風氣候 (B)北半球溫帶沙漠氣候  
 (C)南半球熱帶莽原氣候 (D)南半球地中海型氣候。

20、依據洋流水溫與流經海域水溫的差異，可區分為暖流和寒(涼)流二種性質不同的洋流。根據上述定義，下列四股洋流中，何者的性質和其他三者不同？



21、右圖為某漫畫的情節。請根據圖中內容判斷，其發生的地點最可能位於下列哪一個地區？  
 (A)黃土高原 (B)東北平原 (C)塔里木盆地 (D)藏南縱谷。



22、古代的駱駝商隊能夠較容易地穿越範圍廣大的河西走廊荒漠，是因河西走廊具有哪一優越的地理條件？  
 (A)盛產石油 (B)多種族雜處 (C)有連串的綠洲城市 (D)雨量較少而易通行。

23、新疆地區位於歐亞大陸的中心位置，請問這種地理位置對於該地區下列何者的影響最為明顯？  
 (A)面積廣大 (B)地形平坦 (C)降雨量少 (D)四季炎熱。

24、西藏地區的僧侶服飾，夏季午間常將外袍的袖子繫在腰間，袒出右臂或雙臂，如右圖所示。請問：從這種穿著方式，可以反映出當地夏季具有下列哪一種氣候特色？  
 (A)雨量稀少 (B)日溫差大 (C)風力強勁 (D)空氣稀薄。

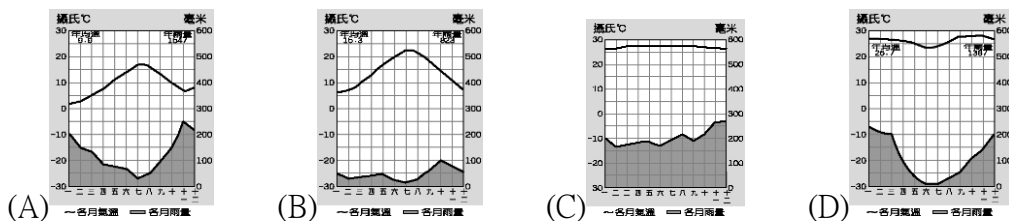


25、近年來，中國實施「退耕退牧，還林還草」政策的主要目的為何？  
 (A)避免黃河改道 (B)增加耕地面積 (C)減緩水資源汙染 (D)防止沙漠化蔓延。

26、小陳在水果日報上看到一則地理常識問答：「熱帶莽原氣候最有可能出現在右圖中的哪個地區？」請你幫他判斷圖中哪個代碼才是正確答案？  
 (A)甲 (B)乙 (C)丙 (D)丁。

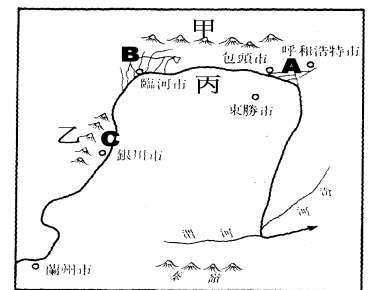


27、近赤道地區一年之中每天的天氣預報幾乎都一模一樣：「上午晴，下午雨，之後再晴。」請問：該地區的氣候圖應為下列何者？



※ 右圖為河套平原分布圖，請問：

28、「黃河百害，唯富一套」，顯示黃河對河套地區具有何種重要的意義？  
 (A)提供豐富的漁產 (B)蘊藏充沛的水力 (C)成為主要的交通路線 (D)供應農業的灌溉水源。

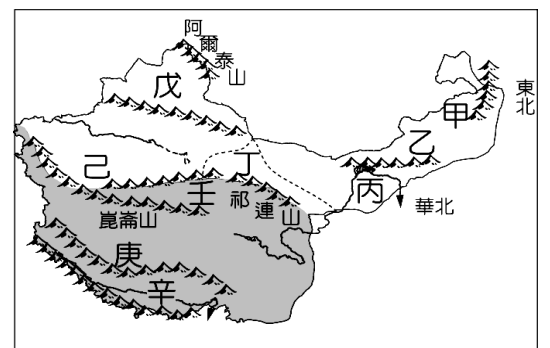


29、寧夏平原隨著漢人的移入，興修水利，發展灌溉，逐漸轉變為農業區，可用下列何者形容其農業盛況？  
 (A)瓜果之鄉 (B)塞上糧倉 (C)塞上江南 (D)魚米之鄉。

※ 右圖為西部地區的簡圖，請依圖回答下列問題：

30、中國面積最大的沙漠——塔克拉瑪干沙漠位在圖中何處  
 (A)丁 (B)戊 (C)己 (D)庚。

31、圖中哪一地區年雨量最多？ (A)丁 (B)戊 (C)己 (D)辛。



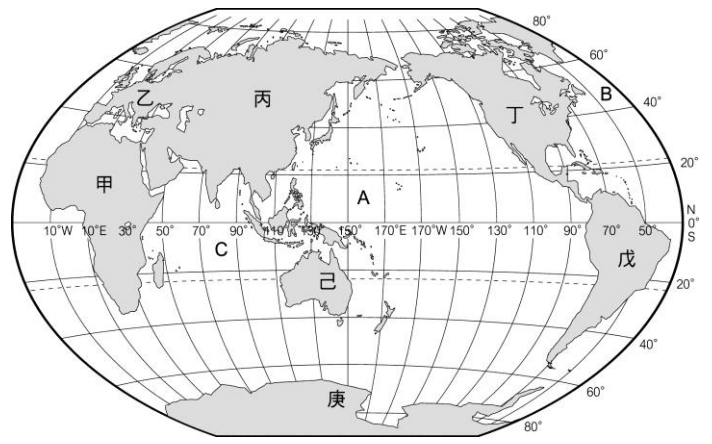
※右圖為世界全圖，回答下列問題：

32、圖中「C」的海域名稱是什麼？

- (A)大西洋 (B)太平洋 (C)印度洋 (D)北極海。

33、阿元駕著一架飛機，沿赤道飛行。若依據附圖的陸塊分布，他會經過下列哪些地區？

- (A)北美洲、南極洲 (B)非洲、澳洲、南美洲  
(C)非洲、亞洲、南美洲 (D)歐洲、亞洲、非洲。



**【公民科】第 34-50 題，每題 2 分**

34、民國 96 年民法修訂民法親屬編，有關結婚的要件，由原規定的儀式婚改為登記婚，依目前之規定，下列何種是屬於有效婚姻之法律行為？

- (A)男未滿 18 歲女未滿 15 歲經父母同意而結婚者 (B)未公開儀式結婚只向戶政機關登記者  
(C)經訂婚儀式後同居生子向戶政機關登記出生者 (D)法律修訂前未有公開儀式法律修訂後補公開儀式者。

35、公民老師於課堂上教導學生運用人民的請願權，爭取法律適用性，以保障人民權利，請問下列何者是屬於相關刑法維護社會及人民的範圍？

○○○您好：  
《勞動基準法》中的部分規定已不合時宜，希望您們能提案修改。  
陳情人阿妙

(A)

○○○您好：  
《社會秩序維護法》的部分條文引發爭議，請您們作出《憲法》解釋。  
陳情人小娟

(B)

○○○您好：  
《組織犯罪防治條例》的部分條文已過於嚴苛，請適時的加以修改。  
陳情人小美

(C)

○○○您好：  
人民對修改婚姻平權法律條文仍有疑異，請待社會討論再行修法。  
陳情人晨晨

(D)

36、十二歲的小亮前往通訊行購買手機，但是店員卻回答說：「這支手機價錢不便宜，你年紀還太小，所以我現在不能賣給你，要不要請你的爸媽帶你來買？」根據《民法》規定，下列何者最可能是店員這樣回答的原因？

- (A)小亮不具有責任能力 (B)契約違反誠實信用原則 (C)小亮僅具有限制行為能力 (D)受監護宣告之人無行為能力。

37、公民老師請同學以生活中的新聞為題材，利用課堂所學為新聞內容訂標題。根據附表的内容判斷，哪一位同學寫的標題有誤？ (A)小美 (B)小中 (C)小蓮 (D)小河。

姓名	新聞標題
小美	受輔助宣告者犯罪完全無刑責
小中	食品檢驗不合格，縣政府將處罰鍰
小蓮	行政機關浪費水，監察院提出糾正
小河	國中生欠債不還依法向家長催討

38、小韓無意間涉入一起珠寶竊案而遭檢察官約談，雖然案件仍在調查階段，但因媒體的報導，使小韓飽受朋友及路人的異樣眼光，他不平地認為社會上的法治素養實在有待加強。上述小韓指的法治素養最可能是下列何者？

- (A)非故意或過失行為不應負擔刑事責任 (B)人民不分貧富貴賤，犯罪就要依法處罰  
(C)法律未明定處罰的行為，不得任意處罰 (D)未經法官判決有罪確定前，應視為無罪。

39、民眾併排停車常會造成交通阻塞，影響行車安全，因此曾有立委提案修改《道路交通管理處罰條例》，調高違規併排停車的罰款，希望藉由這樣的方式遏止違規行為。根據上述內容判斷，下列敘述何者正確？

- (A)違反文中的法律規定將負起民事責任 (B)《道路交通管理處罰條例》是屬行政命令  
(C)罰款金額的提高有助於維持經濟秩序 (D)違反該法律時由行政單位做出行政處分。

40、18 歲的小蔡買了新房子，並完成相關手續，父母知情後雖不同意，但買賣契約仍然有效；19 歲的雯雯買了昂貴的名牌包，但因某些原因，此交易行為無效。根據上述內容判斷，文中二人的情形最不可能是下列何者？

- (A)雯雯遭受了監護宣告 (B)小蔡的婚姻狀況為已婚 (C)雯雯屬於限制行為能力人 (D)小蔡屬於限制行為能力人。

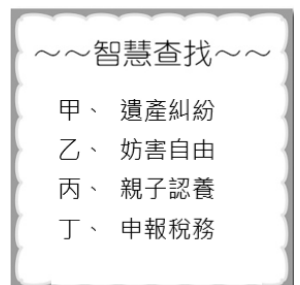
41、附圖是小智上課報告時所舉的例子，根據其內容判斷，下列何者最可能是該報告的主題？

- (A)政府可藉由行政處分處理外部效果 (B)政府可透過刑事處罰減少犯罪事件  
(C)政府可制定民事法規解決民事糾紛 (D)行為能力及責任能力與實際年齡相關。

- 未領有駕駛執照駕駛小型車或機車，處新臺幣 6,000 元以上 12,000 以下罰款。
- 不良場所業者應拒絕兒童及少年進入，違者將被主管機關處以罰款，並公告負責人姓名。

42、右圖為吳常在全國法規資料庫的網站上看到的資料。根據雅娟的歸類判斷，哪些屬於《民法》私人間身分關係的規範？

- (A)甲乙 (B)丙丁 (C)甲丙 (D)乙丁。



- 43、附表為法律研究社的四名社員對於我國《刑法》的敘述，其中何人的說法正確？  
(A)光明 (B)志雄 (C)木村 (D)友達。

光明	《刑法》是所有法律中，與生活最息息相關的法律。
志雄	《刑法》消極的目的，在於使人因害怕受罰而守法。
木村	《刑法》的妨害自由罪，是為保障個人權益不受侵害。
友達	《刑法》是所有法律中，罰錢最多、處罰最嚴苛的。

- 44、志明在網路上以特價購買知名品牌的零食，食品送達後才發現是保存期限僅剩一個月的「即期品」，但網路賣場並未提供保存期限的相關訊息。網路賣場的做法，違反《民法》的哪項基本規定？  
(A)契約自由原則 (B)誠實信用原則 (C)權利禁止濫用原則 (D)不違反公序良俗。
- 45、小民年輕時向表哥大華借 20 萬元出國留學，後來在美國定居，直到 20 年後回來參加大華女兒的婚禮時才又見面。席間大華向小民索討 20 萬元，小民卻認為表哥長期未要求償還債務，因此自己不需歸還。請問：小民是否應該償還債務？  
(A)應該，欠錢就應該要歸還 (B)不應該，表哥幫助表弟是應該的  
(C)應該，美國薪資高，應有能力償還 (D)因符合「消滅時效」規定，所以小民可以不用償債。
- 46、繼承是指在一定親屬之間，因一方的死亡，由繼承人承受被繼承人財產上的一切權利與義務。下列關於我國遺產繼承的規定，何者正確？  
(A)我國繼承方法以全部繼承為原則，不繼承債務需額外申請限定繼承  
(B)繼承人依規定無限期隨時可辦理拋棄繼承  
(C)辦理拋棄繼承需向戶政事務所提出書面申請才可  
(D)限定繼承是指繼承債務後，以被繼承人的遺產來償還為限。
- 47、某甲與朋友用餐完畢後欲返家休息，打開家門時發現有小偷正在家中翻箱倒櫃，某甲便與小偷扭打，並成功制伏小偷直到警方到來。請問：根據何種理由，某甲制伏小偷的行為並不構成犯罪？  
(A)依法令而從事之行為 (B)緊急避難行為 (C)正當防衛行為 (D)業務上的正當行為。

我國「刑罰」區分為單獨科處的主刑，以及附屬於主刑的從刑。而褫奪公權則屬於「刑罰」，是「從刑」的一種，無法獨立宣判，依刑法規定，至少要被判處一年以上的有期徒刑，法官才能再考慮要不要褫奪公權。

而據媒體報導，任臺灣雲林地方法院檢察署徐姓檢察官，因為在職的時候對經辦的案件上下其手，自 2004 年起，共有多件案子，涉貪瀆、濫權等罪行陸續遭起訴和彈劾，經最高法院從重判處主刑「甲」以及從刑「褫奪公權終身」、「乙」，是臺灣史上少數因貪瀆而被判重刑的司法官。

- 48、法院的判決只宣示「褫奪公權」並未指明何種權利不能行使，請問被褫奪公權者，不能行使下列何種權利？  
(A)投票選舉台北市長 (B)報考鐵路特考任職員工 (C)行使憲法修正案複決權 (D)開公司投資股票證券。
- 49、請問上述案例中法院宣判的主刑及從刑，是以刑罰分別剝奪人民的何種權利而為的處罰？  
(A)受益權、自由權 (B)自由權、參政權 (C)平等權、參政權 (D)自由權、平等權。
- 50、請問下列選項內容有關對「甲」「乙」的敘述，何者為正確敘述？  
(A)甲：無期徒刑 (B)乙：沒收已得贓款總計新臺幣 600 萬元 (C)甲：拘役二個月 (D)乙：撤離檢察官職務。

請注意完成試題後要記得再檢查一遍，並將劃在答案卡上的答案再寫在答案紙上，以利段考後檢討，並以免受罰。