

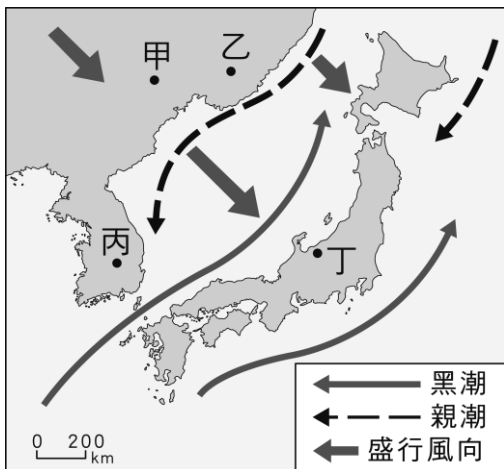
臺北市新民國中106學年度 第二學期 八年級社會領域 第三次段考試卷

八年 班 座號：_____ 姓名：_____

一、單選題(1-40題，每題2分。)

※【地理科】第1-13題

- 亞洲東部諸島國的河流常具有河短流急的現象。下列何者為造成這種現象的主要原因？
(A)面積狹小，地勢起伏大
(B)人口稠密，多建水壩蓄水
(C)位季風氣候區，乾溼季節分明
(D)引河水灌溉稻田，改變河川流量。
- 附圖是東北亞某季節的盛行風向示意圖。下列何地在這個季節的降雨量最多？
(A)甲 (B)乙 (C)丙 (D)丁。



- 「……西元1281年夏季，忽必烈派出一支載有15萬士兵的艦隊進攻日本，要求歸順，日本人奮力抗擊長達七周。正值此時，一場『神風』毀掉半數以上的蒙古軍，解救了日本的危機。」根據當地的氣候特性判斷，文中的「神風」最可能是下列何者？
(A)季風 (B)颱風 (C)沙塵暴 (D)盛行西風。
- 「這個地區早期被稱為Gangaridai，意謂『恆河位於土地的心臟地帶』。雖然現在當地居民的主要宗教信仰，已經由印度教轉變為伊斯蘭教，也不再視恆河為聖河，但是河水仍然影響著人們的衣食住行。」上述地區的範圍應約略等於現今哪一國家？
(A)印度 (B)孟加拉 (C)巴基斯坦 (D)斯里蘭卡。
- 「淡水資源常被視為國家重要的資產。若位於河流上游的國家在其境內興建攔水設施或排放汙水，就可能影響下游地區鄰國的供水，因此，河流的控制權常成為國際紛爭的原因之一。」下列哪二個國家之間的關係最適合用來舉例說明上述的紛爭？
(A)南韓、北韓 (B)印度、孟加拉
(C)中國、俄羅斯 (D)越南、馬來西亞。
- 報載：「南韓總統今天上午9點將徒步跨越軍事分界線前往平壤，與北韓最高領導人金正恩，舉行南北韓高峰會談，……」，文中的軍事分界線是指
(A)鴨綠江 (B)大白山脈
(C)北緯38度線 (D)北緯66.5度線。

- 如附圖，日本擬在克拉地峽開鑿運河，往來於印度洋與南海的船隻約可縮短一千多公里的航程。若此一計畫實現，哪一個城市將大幅降低其重要性？
(A)曼谷 (B)仰光
(C)新加坡 (D)胡志明市。

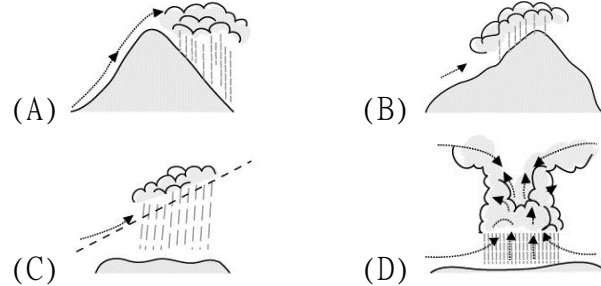


- 附圖為日本主要工業區分布圖。請問：由其分布的區位特徵可知，日本工業區形成的共同點是：



- (A)原料 (B)動力
(C)交通 (D)市場。

- 東南亞近赤道地區一年之中每天的天氣預報幾乎都一模一樣：「上午晴，下午雨，之後再晴。」請問：上述所稱的「雨」，其降雨類型應為下列何者？

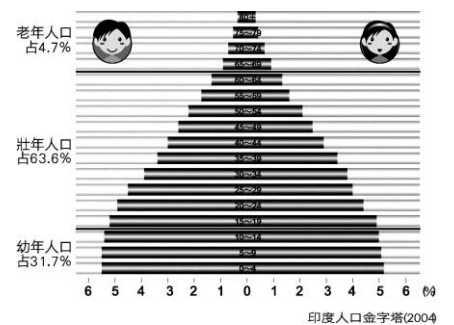


- 小麗一直很想到印度的泰姬瑪哈陵參觀，但他很怕熱又不喜歡下雨天，那麼他什麼時候出發前往印度觀光會最適合？

- (A)3月 (B)6月 (C)9月 (D)12月。

- 承上題，這段時間正好是印度的最佳季節，其原因是
(A)降雨多，氣候涼爽 (B)山脈阻擋冷氣團，較乾爽
(C)日照北移，氣溫上升 (D)多午後雷陣雨，可消暑氣。

- 附圖為印度人口金字塔圖(西元2004年)。從圖中可觀察出下列哪一項人口特徵？



- (A)出生率高
(B)死亡率低
(C)人力資源不足
(D)步入高齡化社會。

- 「該國家位於印度洋上，為珊瑚礁島所組成的島國，南亞大海嘯連首都都淹沒，觀光資源重創。海域乾淨清澈，成為全球知名的渡假勝地。」上文所述最可能是下列哪一個國家？

- (A)斯里蘭卡 (B)馬爾地夫 (C)菲律賓 (D)孟加拉。

※【公民科】第14-27題

- 下列何人的行為應依《少年事件處理法》處理？

- (A)10歲的明明偷喝家中的威士忌酒
(B)11歲的小日跟學長行竊失風被逮
(C)15歲的小芝不小心摔壞同學的智慧型手機
(D)19歲的阿光在街上搶奪老太太的錢包。

- 右列是冠軍上課報告時所舉的例子，根據其內容判斷，下列何者最可能是該報告的主題？

- 未滿18歲少女私會網友，發生性行為造成未婚懷孕，經主管機關安置中途學校。
- 不良場所業者應拒絕兒童及少年進入，違者將被主管機關處以罰款，並公告負責人姓名。

- (A)政府可修改相關法規增加國家稅收 (B)政府可制定民事法規解決民事糾紛
(C)政府利用行政法規保護少年權益 (D)政府可透過刑事處罰減少犯罪事件。

- 16、小志與翔翔為了追校花當女友而彼此爭風吃醋，某日小志因校花與翔翔外出遊玩而心有不甘，在網路留言版上寫校花及翔翔不堪入耳的壞話。請問小志的行為可能觸犯哪項刑責？
 (A)妨害電腦使用罪 (B)公然侮辱罪
 (C)妨害風化罪 (D)妨害自由罪。

- 17、右圖是每日報的新聞版面，以下對上下二則新聞內容中的敘述，何者正確？
 (A)上則新聞適用《少年事件處理法》
 (B)上則新聞可因身份獲判減刑
 (C)下則新聞由檢察官提起公訴
 (D)下則新聞應由被害人法定代理人提出告發。



- 18、依據我國最新的行政訴訟規範，下列哪項流程是正確的？
 (A)地方法院行政訴訟庭→最高行政法院
 (B)地方行政法院→高等行政法院
 (C)地方法院→高等法院
 (D)高等行政法院→最高行政法院。
- 19、十四歲就讀國中的小剛，因夥同朋友持刀械向同學勒索財物，被少年警察隊逮捕，而後移送少年法庭。若經少年法庭調查，認為小剛受刑罰處分較為適當時，下列何者可對小剛的行為提起公訴？
 (A)法官 (B)律師 (C)警察 (D)檢察官。

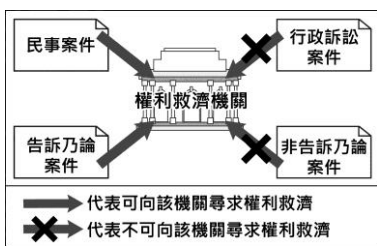
- 20、金洙蒐集了許多社會紛爭事件的資料，將其分類後，結果如右表所示。根據表中資訊判斷，下列說明何者正確？
 (A)檢察官應主動進行偵查的件數共 115 件
 (B)可經由和解方式直接解決的件數共 110 件
 (C)應由普通法院進行訴訟審理的件數共 150 件
 (D)當事人可聲請調解委員會調解的件數共 75 件。

事件類別	件數(件)
民事事件	75
告訴乃論 刑事案件	40
非告訴乃論 刑事案件	35

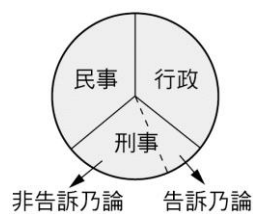
- 21、公民老師請同學以生活中的新聞為題材，利用課堂所學為新聞內容訂標題。根據下表的内容判斷，哪一位同學寫的標題正確？
 (A)阿非 (B)阿常 (C)小幸 (D)小福。

姓名	新聞標題
阿非	未經法官判決確定，嫌犯視為無罪
阿常	食品檢驗不合格，縣政府將處罰金
小幸	訴訟利益不滿 200 萬，無法上訴三審
小福	冷血殺人犯，檢察官作出死刑判決

- 22、右圖是上公民課時使用的教具，根據圖中的相對關係判斷，該「權利救濟的途徑」應為下列何者？
 (A)訴願 (B)調解
 (C)訴訟 (D)仲裁。

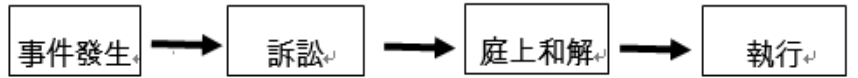


- 23、若將權利救濟的事件分為三類，並將其示意圖繪製成右圖，以消防單位對某民眾是亂打電話報案而開罰為案例，若這位民眾被開罰但不服時，以塗色標記權利救濟的方式在圖上，則此圖應呈現如下列何者？



- (A) (B) (C) (D)

- 24、15 歲的小安常在深夜在外遊蕩不歸，經警方發現交由少年法院審理。根據上述內容判斷，小安最可能會受到下列何種處分？
 (A)罰鍰一千元 (B)由少年保護官保護管束
 (C)交由少年矯正學校進行隔離教育 (D)拘役二十五日。
- 25、政府可藉由司法制度，以達成國家伸張正義的功能。下圖是某一種衝突處理的程序，下列何種事件最可能依圖中程序處理？
 (A)持械傷害他人的行為 (B)不滿停業處分的訴訟
 (C)拒絕償還債務的糾紛 (D)政黨違憲案件的審理。



- 26、刑法第 227 條第一項規定普通傷害罪須告訴乃論，第二項傷害致死則屬於非告訴乃論，請問以下有關告訴乃論及非告訴乃論的選項何者正確？(A)甲：法官 (B)乙：不起訴 (C)丙：犯罪者 (D)丁：刑事責任。

	告訴乃論之罪	非告訴乃論之罪
定義	被害人提起告訴，【甲】才可以追究的犯罪，通常是指較輕微或較無損公共利益的犯罪行為。	【丙】自行向司法警察機關申告，經由檢察官追究的犯罪，如殺人罪
救濟途徑	當事人達成民事賠償的和解或調解，可用【乙】來終止刑事訴訟	當事人達成調解，也無法免除【丁】，只能用訴訟方式尋求救濟

※【歷史科】第 28-40 題

- 27、民國 13 年，孫中山曾發文通告全體國民黨黨員，說明：「來者不拒，所以昭吾黨之量能容物。」「團體之內無新舊分子之別，在黨言黨，唯有視能否為本黨之主義負責、奮鬥而定其優劣。」以上文字是指孫中山對自己提出的下列哪一政策所發表的意見？
 (A)護法運動 (B)消滅軍閥 (C)聯俄容共 (D)推翻滿清。
- 28、民國 16 年，某人發表了一份公告：「經全體緊急會議議決：舉發共產黨謀叛證據，並知照以非常緊急處置，姑將首要諸人照附來名單，及經黨部舉發者，就近知照公安機關，暫時分別看管監視，免予活動，致釀成不及阻止之叛亂行為，……應即依案執行，以維治安而遏亂萌。」根據公告內容判斷，下列哪一人最有可能是此公告的發布者？
 (A)孫中山 (B)汪精衛 (C)張作霖 (D)蔣中正。
- 29、民國 15 年，國民革命軍在蔣中正的指揮下，從右圖哪一區出師北伐，初期過程進展順利？
 (A)甲 (B)乙 (C)丙 (D)丁。
- 30、承上題，北伐過程中控制戊區的軍閥派系首領是下列哪一人？
 (A)段祺瑞 (B)吳佩孚
 (C)張作霖 (D)孫傳芳。
- 31、在中國的現代史中曾出現「黃金十年」這個名詞，意旨當時國民政府積極進行許多國家現代化建設事業，而且成效卓著，請問歷史上這段「黃金十年」是位於下列哪兩件史事之間？
 (A)護法運動、五四運動 (B)北伐完成、八年抗戰
 (C)五三慘案、實施憲政 (D)九一八事變、西安事變。



- 32、在清朝末年因為鴉片戰爭的關係，清廷對外簽署了一連串的不平等條約；直到十年建設期間，國民政府最先收回下列哪一項的主權？
 (A)租界 (B)片面最惠國待遇
 (C)領事裁判權 (D)關稅自主。
- 33、十年建設期間，國民政府曾實施廢兩改元的貨幣政策，接著全面發行法幣，取代白銀，當時國民政府的目的是下列哪一選項？
 (A)增加國庫的收入 (B)抑制貨幣流通速度
 (C)解決幣制紊亂現象 (D)變更紙鈔的圖案。
- 34、老師在課堂上要同學以「八年抗戰」(1937~1945年)這段時期的歷史為背景，進行角色扮演。下列哪一位同學應是扮演當時國民政府官員的角色？
 (A)阿基：「為了結束戰爭，我們不得不在當地投下原子彈。」
 (B)大華：「我們利用對外戰爭壯大了勢力，最後終於取得中國的政權。」
 (C)小莉：「這次戰爭使我們控制東亞的梦想破滅，傷亡慘重，最後宣布投降。」
 (D)文文：「這戰爭使我們與各國另訂平等新約，解脫百年來不平等條約的束縛。」〔95基測〕。

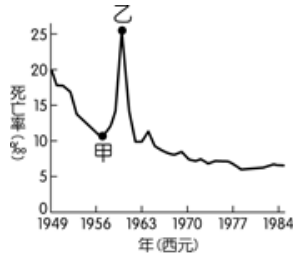
- 35、民國 25 年，一位學生對東北軍的指揮官張學良說：「現在東北已經淪陷五年，難道你還要內戰嗎？我們不怕死，我們願意以死來挽救我們的國家。」促使張學良發動西安事變，兵諫當時的國民政府主席蔣中正。請問：張學良發動西安事變後，帶來的影響為下列何者？
 (A)國共內鬥情形更加劇烈
 (B)東北軍的勢力逐漸坐大
 (C)國共重新展開合作共同抗日
 (D)中共展開兩萬五千里長征。

- 36、右圖是民國 32 年，第二次世界大戰同盟國領袖(由左到右為蔣中正、羅斯福及邱吉爾)在某一國際會議中商討戰後東亞國際情勢的照片。請問：這個有助於中國國際地位提升的會議於下列哪一個城市舉行？
 (A)開羅 (B)舊金山 (C)雅爾達 (D)東京。



- 37、抗戰結束後，國共數次和談均無具體結果，當時美國還曾派下列哪一位特使來華調處國共衝突？ (A)尼克森 (B)羅斯福 (C)麥克阿瑟 (D)馬歇爾。

- 38、右圖是參考某段期間中國人口死亡率估算值而繪製的曲線圖，圖中甲、乙二點之間死亡率的變化，最可能與下列何者有關？
 (A)人民響應抗美援朝，參與韓戰而造成傷亡慘重
 (B)大躍進運動期間，政策失當所導致的嚴重饑荒
 (C)文化大革命時，紅衛兵鬥爭造成眾多人口死亡
 (D)六四天安門事件爆發，政府鎮壓大量抗議群眾。



- 39、西元 1950 年，毛澤東號召「抗美援朝」，組織「志願軍」參加在右圖哪一區爆發的戰爭？
 (A)甲 (B)乙 (C)丙 (D)丁。

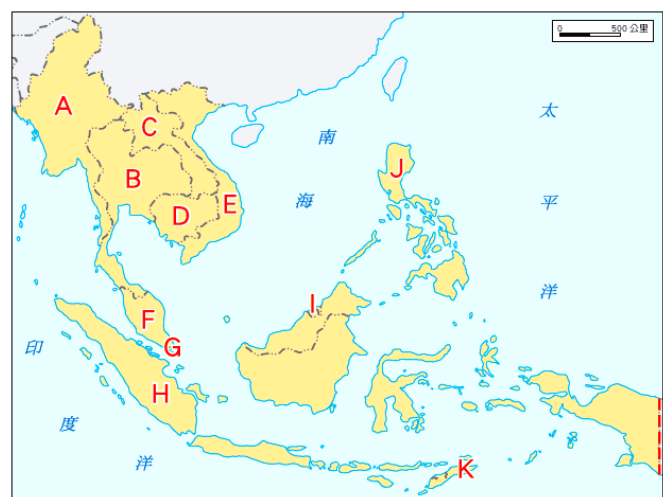
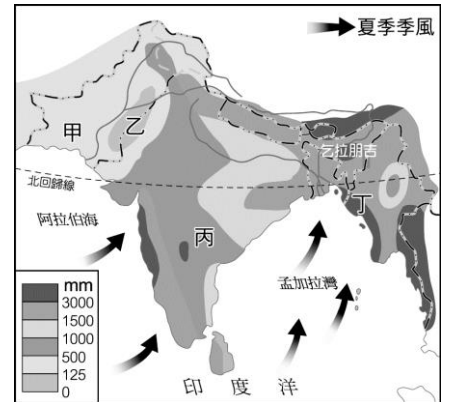


- 40、下列哪一位中國的領導者在西元 2013 年提出「一帶一路」的構想，目的在推動沿線各國實現經濟政策協調，期待打造開放、包容、均衡、普惠的區域經濟合作架構？
 (A)鄧小平 (B)江澤民 (C)胡錦濤 (D)習近平。

二、題組(41-60 題，每題 1 分。)

【地理科 第 41-47 題】


- 41.圖中的甲、乙、丙、丁四區，雨量最多的地區是下列何者？
 (A)甲 (B)乙 (C)丙 (D)丁。
- 42.承上題，該地區雨量較多的主要原因為何？
 (A)距海較近
 (B)副熱帶高氣壓籠罩
 (C)盛行風迎風坡
 (D)蒸發旺盛，氣流升騰致雨。



※ 下圖為東南亞地區簡圖，A~K 為各國代號，請問：

- 43.近年來臺灣引進許多外籍勞工，其中以來自東南亞居多，若就過去受中華文化影響程度來看，哪國勞工的文化及習俗與臺灣較接近？
 (A) A (B) B (C) E (D) J。

- 44.左下方照片中的大象是哪一個國家的象徵？
 (A) B (B) D (C) F (D) G。



- 45.在東南亞各國中，哪個國家經濟發展程度最高，且魚尾獅為該國的地標(如右上方圖片)？
 (A) C (B) F (C) G (D) H。
- 46.哪個國家島嶼最多，且分散於南、北半球之間，同時也是伊斯蘭教徒最多的國家？
 (A) F (B) H (C) I (D) J。

47. 吳哥窟是吳哥古蹟中，保存最完好的廟宇，以建築宏偉與浮雕細緻聞名於世，是世界上最大的廟宇。而吳哥窟的造型，已成為下列哪個國家的標誌，展現在國旗上（如附圖）？



- (A) A (B) B (C) C (D) D。

【公民科 第 48-54 題】

◎請閱讀短文，並回答下列問題：

政府制定許多法律以保護青少年成長，請同學依下列 48-51 題發生的情境，配合反應項目，選出適用哪一部法律的規定來處理？

※反應項目

(A)少年事件處理法	(B)兒童及少年福利與權益保障法	(C)刑法
(D)兒童及少年性剝削防制條例	(AB)勞動基準法	(CD)著作權法

- 48、16 歲的蝶兒為了買偶像演唱會的票，上臉書張貼援交的訊息。
 49、14 歲的小飛假冒父母簽名申請信用卡。
 50、17 歲的阿鳳上網下載未經同意的歌曲，燒錄光碟販賣給同學。
 51、15 歲的小伍至便利商店買煙，店員沒阻止就直接賣給他。

當民眾法律上的權利受到不法侵害時，可依法運用不同的方式進行權利救濟，請依照下列各題不同的情況，配合反應項目，填入適當的權利救濟途徑：

※

- (A)民事訴訟 (B)刑事訴訟
 (C)訴願及行政訴訟 (D)仲裁

- 52、合法申請建照，卻被主管機關拖延，無法獲准。
 53、警察取締酒醉駕車，將酒測值超過標準者以公共危險罪移送法辦。
 54、雇主積欠勞工工資、加班費，透過勞工局請專業人士處理。

【歷史科 第 55-60 題】

◎請閱讀短文，並回答問題：

有一本名叫「鴻」的小說，在描述三代中國女人的故事。書中提到：「在學校我母親接受的教育是：祖國是滿州國，鄰國中有兩個中華民國，一個是蔣中正領導的『敵國』；一個是汪兆銘領導的『友國』……在學校唱的第一首歌是這樣：『紅男綠女踏街頭，人人都說好滿州，你快活來我快活，吃穿無愁腸，來來來，好滿州。』然而我母親就是小小年紀也能察覺到，如果這是天堂的話，也是某外國人的天堂。」

- 55、根據上述短文的內容，小說作者的母親認為當時滿州國是某外國人的天堂，此處的「某外國」是指下列哪一個國家？
 (A)日本 (B)俄國 (C)越南 (D)德國。
 56、承上題，該國於下列哪一歷史事件發生後，將今天中國東北地區據為己有？
 (A)西安事變 (B)九一八事變
 (C)一二八事變 (D)盧溝橋事變。

◎請閱讀短文，並回答問題：

上海這座城市鄰近長江出海口，清末開港通商以來，逐漸形成二大區域：中國政府管轄的老城區與外國人主導治理的租界區，租界區的外國人享有行政與經濟等獨立自主權，可自組行政機構，並在租界區徵稅。八年抗戰爆發後，因為西方國家保持中立，日軍原則上不能進入西方國家租界區內，所以該地區仍享有特權和保障。但後來**某一事變**爆發，不但造成美、英等國對日宣戰，日本也進兵西方國家租界區，侵占外國企業，進一步控制上海。

- 57、根據上文中所提到的**某一事變**，應是指下列哪一歷史事件？
 (A)九一八事變 (B)珍珠港事變
 (C)一二八事變 (D)盧溝橋事變。

◎請閱讀短文，並回答問題：

西元 1989 年「六四天安門事件」導源於北京各大學生一方面悼念胡耀邦的過世，另一方面表達對國務總理李鵬的不滿。除學生外，新聞記者及各界人士亦有不少響應，當時主要的口號是「**打倒官僚、獨裁**」，他們向中共當局提出改革要求，但未被接受，於是學生們與中共當局呈現對立。6 月 4 日李鵬在鄧小平的支持下，對天安門廣場上的學生，採取驅離行動。6 月 5 日中共中央與國務院便宣布成功地平息了一場「駭人聽聞的反革命暴亂」。

- 58、根據上文內容，西元 1989 年的「六四天安門事件」的訴求為下列何者？
 (A)主權獨立 (B)恢復帝制
 (C)民主自由 (D)多元教育。

- 59、右圖是描繪西元 1966 年~1976 年中國歷史上出現的情景，根據內容判斷，此圖最可能呈現下列何者？
 (A)文化大革命
 (B)新文化運動
 (C)太平天國起事 (D)義和團事變。



- 60、承上題，會發生這情景的根本原因為下列何者？
 (A)標新立異 (B)奪權鬥爭
 (C)顛覆傳統 (D)思想解放。

試題完成，記得再檢查一遍答案卡與試卷。