

# 臺北市新民國中 107 學年度 第一學期 七年級社會領域 第一次段考試卷

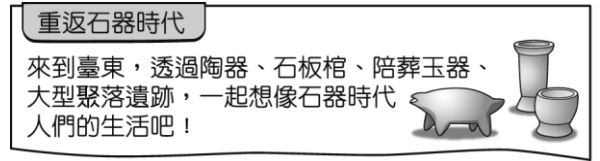
七年 班 座號： 姓名：

選擇題(1-50 題，每題 2 分。)

## ※【歷史科】第 1-17 題

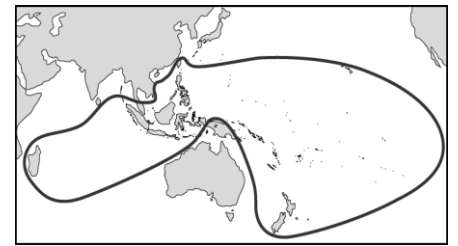
1、在人類漫長的演化過程中，用來區別「史前時代」和「歷史時代」的重要依據為下列何者？  
(A)建築技術的改變 (B)文字的發明 (C)陶器的使用 (D)石器的製造。

2、右圖是校外教學學習單的主題，依內容判斷，此學習單介紹的最可能是下列哪一史前文化遺址？ [102.基測]  
(A)長濱文化 (B)圓山文化 (C)卑南文化 (D)十三行文化。



3、臺灣大學考古團隊在臺灣東部發現了舊石器時代晚期的文化，該文化始於五萬年到三萬年前，是目前臺灣所發現的最古老文化，一直持續到五千年前才消失。該文化主要生產方式為採集、漁獵，尚無種植農作物與飼養牲畜的情形，其石器主要是打製的。根據內容所述，請判斷是下列哪一史前文化的特色？  
(A)長濱文化 (B)大坌坑文化 (C)圓山文化 (D)十三行文化。

4、臺灣考古學者們發現的新石器時代文化中，下列哪一文化的人類有食用貝類的現象，留下了豐富的貝塚的遺址？  
(A)大坌坑文化 (B)圓山文化 (C)卑南文化 (D)花岡山文化。



5、右圖是安達看到的一幅圖，若要給這幅圖一個圖名，下列何者最適合？ [99.基測]  
(A)南島語族分布圖 (B)全球雨林殘存區域圖 (C)臺灣農產品進口區域圖 (D)大坌坑文化分布圖。

6、臺灣原住民族的宗教概念，相信自然萬物都具有決定人類命運的特殊精神力量，因此日月星辰、木石、特殊獸類、器具及人類靈魂不滅為信仰對象，是種泛靈信仰。請問：原住民族認為下列何者最能影響人的吉凶禍福？ (A)山神 (B)天帝 (C)樹精 (D)祖靈。

7、下列哪一個臺灣的原住民族因分布的地區早期較與外界隔絕，而保留傳統文化較其他原住民族眾多。且因本身的生活方式，發展出分工合作的漁團組織？ (A)邵族 (B)排灣族 (C)達悟族 (D)鄒族。

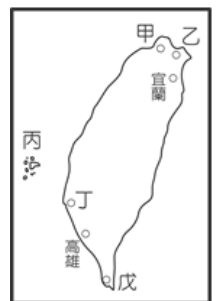
8、根據考古學家的發掘與研究，臺灣發現近兩千處的史前時代遺址，可分為舊石器時代、新石器時代、金屬器時代三個時期。每個時期所遺留下來的考古遺物，皆成為臺灣最珍貴的文化遺產。右圖中哪一文化遺址發現有鐵渣、煉鐵作坊，說明當時已開始使用鐵製的工具，是臺灣金屬器文化的代表？  
(A)甲 (B)乙 (C)丙 (D)丁。



9、中國政府在澎湖設置「巡檢司」，負責巡邏與查緝罪犯。請問：這是從哪一朝代開始設立的？  
(A)宋朝 (B)元朝 (C)明朝 (D)清朝。

10、明代所實施的海禁政策，使得東南沿海貿易幾乎停頓，進而迫使沿海居民成為海商，在臺灣海峽一帶從事走私貿易。在明末的海商中，下列何人曾大規模在福建招募漢人進入雲林、嘉義一帶開墾，奠定漢人在臺拓墾事業的基礎？  
(A)沈有容 (B)郭懷一 (C)韋麻郎 (D)鄭芝龍。

11、上歷史課時，林老師準備帶學生從事實地考察，如果林老師要帶學生參觀西班牙人遺留的史蹟，則右圖中哪些地區是最佳的考察地點？ (A)丁、戊 (B)乙、丁 (C)甲、乙 (D)丙、戊。



12、西元 17 世紀時，西班牙人欲與荷蘭競逐臺灣，但不久之後西班牙卻退出臺灣，主要因為下列何者？  
(A)鄭氏政權強力阻擾，所以退出臺灣避免衝突 (B)荷蘭增兵臺灣，西班牙無法與荷相抗衡 (C)原住民過於強悍，使得西班牙損失慘重 (D)日本實施鎖國政策，臺灣難以成為貿易與傳教的據點。

13、距今三百多年前，荷蘭人東來亞洲後，占據臺灣，其重要原因是臺灣的地理位置有利於轉口貿易。當時，荷蘭在亞洲的貿易對象除東南亞之外，主要還包括下列哪兩個國家？  
(A)朝鮮、中國 (B)中國、日本 (C)俄國、朝鮮 (D)日本、俄國。 [98.基測]

14、西元 17 世紀時，北臺灣與南臺灣的原住民都受到外來宗教的影響，此「外來宗教」應為下列何者？  
(A)北臺灣：佛教；南臺灣：道教 (B)北臺灣：回教；南臺灣：景教  
(C)北臺灣：拜火教；南臺灣：摩門教 (D)北臺灣：天主教；南臺灣：基督教。

### ◎請閱讀下列短文，並回答下列問題：

西元 1918 年，日本人類學者伊能嘉矩發表一篇文獻——臺灣的烏鬼番，指出臺灣本島各族間，雖然語言各不相同，但皆流傳著一種奇怪的傳說，說明有「矮黑人」的存在。他們力大如牛，動作相當敏捷，不但熟知巫術，法力高強，在狩獵與農耕技術上也十分擅長。傳說中矮黑人曾經教導賽夏族耕作，並一起慶豐收。但因矮黑人調戲該族婦女，導致賽夏族群起激憤，對矮黑人展開報復。結果該族遭到倖存的矮黑人詛咒，年年農作歉收，甚至全族差點滅亡。於是賽夏族為了平息矮黑人的憤怒，於是舉行矮靈祭，每兩年舉辦一次，每十年一次大祭，一直流傳至今。(改寫自翰林版教師手冊)

15、賽夏族舉辦的「矮靈祭」是屬於一種歲時祭儀，通常跟下列哪一方面的活動有關？  
(A)教育 (B)經濟 (C)戰爭 (D)通婚。


◎請閱讀下列短文，並回答下列問題：

荷蘭人統治臺灣原住民除了行政控制之外，還用傳教士來教化原住民。行政控制，主要透過各社長老來統治原住民，長老在轄區內享有司法權。另一方面，荷蘭人為傳播宗教信仰，建教堂、學校，用傳教士擔任教師，並利用某字母拼寫平埔族語言，這種文字被稱為「新港文」，以新港文書寫的契約書稱「新港文書」，是研究臺灣早期原住民歷史的重要資料。漢人方面，荷蘭人主要靠漢人來幫他們發展經濟，除了徵收重稅外，嚴禁漢人自由集會，強迫取原住民為妻的漢人改信仰，對漢人採取高壓統治方式，於是西元 1652 年，終於爆發大規模的漢人抗荷事件，漢人雖失敗，但是後來和鄭氏政權合作，合力驅逐荷蘭人。(改寫自翰林版教師手冊)

- 16、根據上文內容所述，荷蘭人利用某字母拼寫平埔族的語言，翻譯宗教書籍。請問：某字母是指下列哪一選項？  
(A)埃及文字 (B)希臘文字 (C)羅馬文字 (D)象形文字。
- 17、根據上文內容所述，西元 1652 年，終於爆發大規模的漢人抗荷事件，是指下列哪一歷史事件？  
(A)朱一貴事件 (B)郭懷一事件 (C)林爽文事件 (D)顏思齊事件。

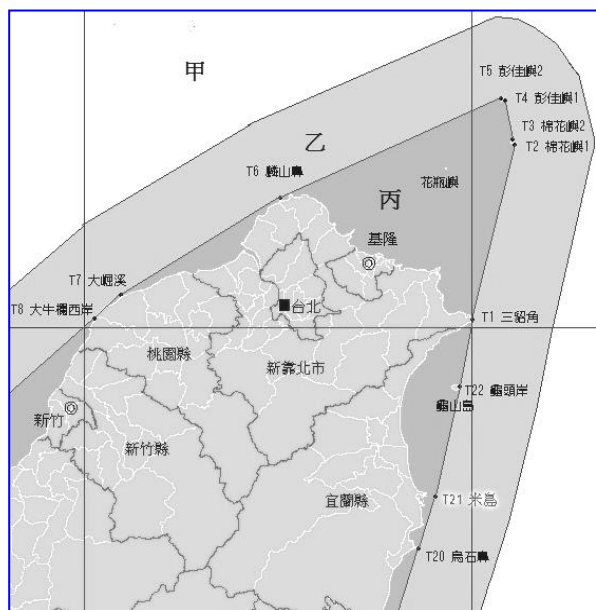
※【地理科】第 18-34 題

- 18、地球表面的經線中，有一條通過英國倫敦格林威治天文臺的經線可稱為本初子午線。請問：本初子午線的度數為何？  
(A)經度 0 度 (B)經度 60 度 (C)經度 90 度 (D)經度 180 度。
- 19、經緯線可用來劃分東、西半球以及南、北半球，請問其界線依序是哪兩條經緯線？  
(A)本初經線、赤道 (B)赤道、北回歸線 (C)南極圈、國際換日線 (D)南回歸線、國際換日線。
- 20、下列有關「經線」的敘述，何者正確？ (A)彼此不等長 (B)皆為東西向 (C)彼此間平行 (D)分東西半球。
- 21、臺北市約位於東經 120 度，與位在西經 74 度的紐約市大約差幾個鐘頭？  
(A)8 小時 (B)12 小時 (C)13 小時 (D)24 小時。

- 22、安保在某一張地圖上，看見「」的標示，測量其長度為一公分，這意味著該地圖上一座 5 公分長的橋實際長度為？ (A)50000 公分 (B)5000 公尺 (C)10000 公分 (D)5 公里。

- 23、右圖是以臺灣北部海岸基準點向外延伸的領海示意圖，範圍內各國可視為國內內陸領地，擁有絕對的主權，請問領海的代號與延伸距離之配對下列何者正確？  
(A)甲；200 海浬 (B)乙；12 海浬 (C)丙；12 海浬 (D)乙；200 海浬。

- 24、(圖一)為臺灣本島行政區圖，而圖中何者的行政區劃為直轄市，且為臺灣首善之區？  
(A)甲 (B)乙 (C)丙 (D)丁。



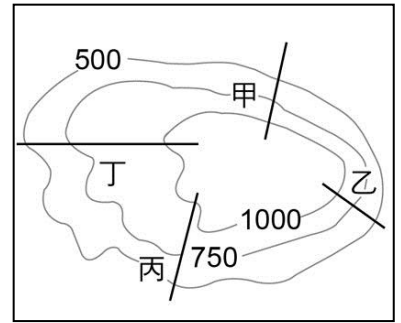
(圖一)

- 25、住在臺北市的余然打算利用暑假去日本觀光，他計畫在最近的機場坐飛機直航東京，他會從哪個縣市出發？  
(A)臺中 (B)桃園 (C)高雄 (D)臺北。
- 26、改變地表形貌的力量，可用其力量的來源來作畫分，下列何者即屬於發源於地球內部的力量所引發？  
(A)海水侵蝕 (B)風力堆積 (C)火山爆發 (D)河流搬運。
- 27、2018 年 9 月 6 日發生於日本北海道的地震，規模 6.7 級，造成建物受損以及人命的傷亡，而追根究柢，地震發生的原因為何？  
(A)板塊運動 (B)海水沖刷 (C)河流侵蝕 (D)颱風侵襲。

- 28、周瑜與霽軒在新民校園內躲貓貓，意外在某個地點發現照片中的景緻，本身樓高不高但視野寬闊而明亮。請問：兩人所在之處最有可能屬於何種地形的外圍？(A)高山 (B)臺地 (C)盆地 (D)平原。



29、正墉某假日到住家附近的步道登山，假如他要挑輕鬆的路線則選擇哪條步道路線最有可能？ (A)甲 (B)乙 (C)丙 (D)丁。

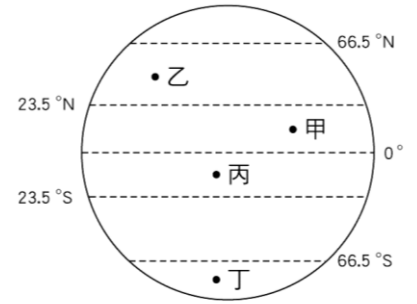


30、以分層設色圖來表現地形的起伏時，則下列哪個地區所使用的顏色會最接近深咖啡色？

- (A)臺北市 (B)宜蘭縣 (C)南投縣 (D)屏東縣。

31、右圖為全球氣溫帶的簡圖，下列符號與名稱何者配對正確？

- (A)甲：熱帶 (B)乙：寒帶 (C)丙：溫帶 (D)丁：溫帶。



32、電子地圖是近年來地圖使用的大宗，比起「傳統紙本地圖」具有下列何種差異性？

- (A)比例尺可任意切換 (B)保存較為占空間 (C)不需借助科技產品 (D)資訊更新較緩慢。

33、沖積扇與三角洲就像是地形學裡的孿生兄弟，其差異點在何處？ (A)所屬營力不同

- (B)生成位置不同 (C)大小規模不同 (D)單純名稱不同。

34、下列有關大與小比例尺在使用上的差異，何者正確？

- (A)小比例尺地圖的縮小程度較小 (B)大例尺地圖內容呈現較為模糊  
(C)大比例尺適合繪製小範圍區域地圖 (D)小例尺地圖適合繪製校園地圖。

※【公民科】第 35-50 題

35、公民課堂上，老師想確認同學是否知道何謂性騷擾，因此於課堂上分組玩一項「性騷擾○×大考驗」活動，請問：這五題的答案依序為何？

- (A)○、×、×、○、× (B)○、○、×、○、×  
(C)×、×、○、○、○ (D)○、○、○、×、×。

1. 男生也會成為性騷擾的受害者。
2. 性騷擾只會發生在陌生人之間。
3. 遭到性騷擾的人，是因為自己的言行舉止太過輕浮，穿著太暴露。
4. 即使是男女朋友，還是必須尊重對方，否則仍可能構成性騷擾。
5. 講黃色笑話是種幽默的展現，不是性騷擾。

36、台灣有許多學校的設置會依性別區分成不同顏色，比如本校的廁所，女生廁所的門板是粉紅色，男生則是藍色，這樣的顏色區別，是基於下列何種觀念的影響？

- (A)生理性別 (B)社會性別 (C)性別平等 (D)性別歧視。


37、下列四位同學正在討論「認識自我」的內涵，其中何者的說法最符合此精神？

認識自己的方法當然就是只有自己清楚！




(A)

別人對自己的看法，聽聽就好，做自己最好！




(B)

應該多方嘗試，探索自己的興趣及潛能



(C)

學校對於認識自己、探索潛能，沒有任何幫助



(D)

38、下列有關「性別角色」的敘述，請選出正確選項？(甲)我們天生下來就會形成性別角色 (乙)性別角色不會隨著社會文化而變動 (丙)時代的不同會影響性別角色的形成 (丁)性別角色可以用身體結構來區分 (A)甲 (B)乙 (C)丙 (D)丁。

39、(2018/09/18 上報)近日有關教科書上「居禮夫人」是否正名為瑪麗亞·斯克沃多夫斯卡—居禮(Maria Skłodowska-Curie)或不正名事件引起很多討論。其實依據我國《甲法》中，對於課程與教材的要求：「學校教材之編寫、審查及選用，應符合性別平等教育原則；教材內容應平衡反映不同性別之歷史貢獻及生活經驗，並呈現多元之性別觀點」。使用「居禮夫人」的全名，是國際上慣用的作法，也是一個反映不同性別之歷史貢獻及生活經驗的小小努力；她是已婚婦女，也是科學家，以此事實希望帶給學生啟發。請問：根據上文判斷《甲法》應為以下何項法律名稱？

- (A)《民法》 (B)《性別平等教育法》 (C)《性騷擾防治法》 (D)《性別工作平等法》。

40、承上題，有關居禮夫人正名事件，母國「波蘭駐台北辦事處」的臉書上發表這段文字：「在歐洲，大家都知道她叫瑪麗亞·斯克沃多夫斯卡—居禮，而不是『居禮夫人』，教科書裡也同樣是用她的全名來介紹她的事蹟…讓大家能更清楚認知到她是一個獨立的個體。」其實辦事處表達一種態度，就是不要只是以夫姓(居禮)和她的婚姻角色(夫人)來稱呼，以此顯現對女性主體的尊重。而事實上，我國有關冠夫姓的問題，隨著性別平等觀念建立，近年才修正為夫妻間保持各自姓氏不再用法律拘束。請問：該法規應為下列何者？

- (A)《民法》 (B)《性別平等教育法》  
(C)《性騷擾防治法》 (D)《性別工作平等法》。

41、右圖為台灣動物平權促進會網頁畫面，根據網頁內容，主要是宣導生命的何種態度？ (A)接納生命的無常 (B)欣賞生命的獨特性 (C)延續生命的價值 (D)尊重萬物生命。

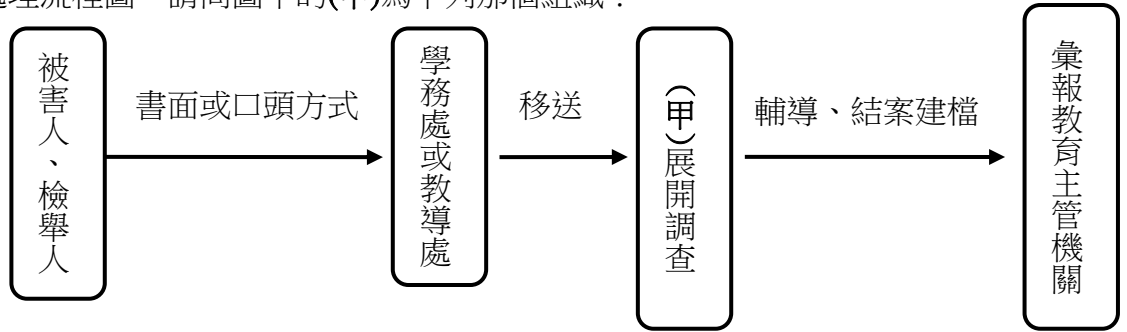


42、由下列的談話可知，哪一位同學已真正了解性別平等的真諦？

- (A) 苡恩：公司可以規定只有女性才能擔任主管的職務
- (B) 奕翔：男生應該選擇理工、醫學科系，才有出息
- (C) 適輅：政府規定公司僱用員工時，應以錄取男性為優先原則
- (D) 鈺臻：學校應鼓勵學生發揮潛能，不得因性別而有差別待遇。

43、右下表為校園性騷擾(或性侵害)的處理流程圖。請問圖中的(甲)為下列那個組織？

- (A) 輔導室—性騷擾防治委員會
- (B) 教務處—性騷擾防治委員會
- (C) 學務處—性別平等教育委員會
- (D) 總務處—性別平等教育委員會。



44、日本這個夏天接連好幾個天災發生。7月初西日本地區豪雨釀成水災，造成逾 170 人死亡。接著西日本又遭熱浪侵襲，有超過 100 人因高溫死亡。燕子颱風 9 月初重創關西地區，造成 11 人死亡。接著北海道又發生規模 6.7 的地震。對於突如其來的天災，導致生命的喪亡，顯示了生命的何種特性？ (A)無常性 (B)延續性 (C)獨特性 (D)不可回逆性。

45、有學者認為廣告若傳達不適當的訊息，可能產生強化性別刻板印象的效果。下列廣告臺詞中，何者最可能會產生上述效果？(A)男女需求大不同，營養補充各取所需 (B)健康活靈芝，孝順父母親的最佳選擇 (C)體貼老婆的第一選擇，清淨牌洗衣機 (D)安康保全，守護全家人的平安與幸福。 【106 會考】

※【2018/08/31 關鍵評論 改編】從 2002 年開始，台灣法律就有規定，勞工可以申請育嬰假。在孩子年滿 3 歲之前，最多可以請 2 年的育嬰假。然請育嬰假的人中，還是以女性為主。從右圖來看，女性人數逐年增加，2018 年 6 月時有 5756 人，佔總人數 7084 人的八成。而造成育嬰假男女差距的可能原因，有專家歸因為以下幾點：女性在傳統觀念中，是育兒和家務管理的對象、台灣平均工資，女性相對較低、女性從小被教育成找個好男人嫁了，對工作心態較沒有企圖心、社會對男性的經濟條件要求較高，在家育兒要面對更大的社會壓力等。依據內文回答 46-47 題：



46、依文章判斷，我國自 2002 年就有下列哪一項法律規範有關育嬰假事項？

- (A) 《民法》 (B) 《性別平等教育法》
- (C) 《性騷擾防治法》 (D) 《性別工作平等法》。

47、依據內文，請問造成這種育嬰假申請男女比例有差的原因是下列何者？

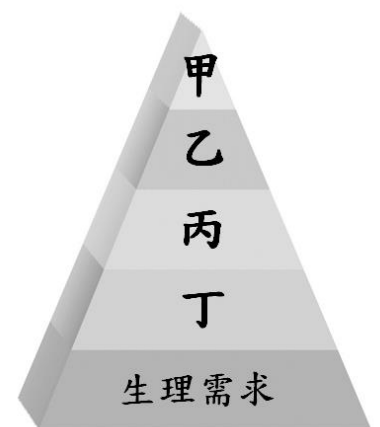
- (A) 基因遺傳造成 (B) 先天資賦有差 (C) 生理構造差異 (D) 性別角色期望。

※右圖為個人需求層次理論，請依右圖回答 48-50 題：

48、安傑撰寫有關「需求層次理論」的公民報告，下列哪項資料正確？ (A)由心理學家迦納提出 (B)需求從高往低順序，到達生理需求為最大滿足 (C)丙需求又稱為「社會需求」 (D)安全需求是人類最基本的需求。

49、「2018 印尼雅加達亞運」我國總共獲得 17 金、19 銀、31 銅並在參賽隊伍獎牌榜上排名第七，也是我國亞運史上第二好的成績。各項比賽的選手們，平時辛苦勤奮練習，挑戰身體極限，且在賽前承受許多壓力，最後得到最高榮譽。請問：選手們能忍受各種磨練，是追求何種層次的需求滿足？ (A)甲 (B)乙 (C)丙 (D)丁。

50、俊傑常透過通訊軟體 LINE 跟同學、朋友聊天，但他不喜歡家人想要翻查他手機上的聊天記錄，認為這樣缺乏隱私、不受尊重。請問：俊傑顧慮的是那一需求的滿足？ (A)甲 (B)乙 (C)丙 (D)丁。



試題完成，記得再檢查一遍答案卡與試卷。