

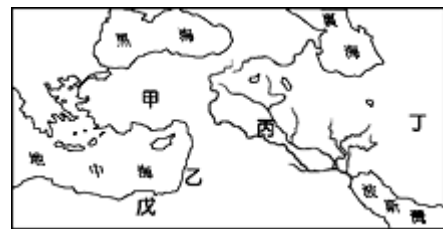
臺北市新民國中107學年度 第一學期 九年級社會領域 第一次段考試卷

九年 班 座號： 姓名：

一、單一選擇題(每題 2 分，總分 100 分)

【歷史科】第 1-17 題(範圍：單元 1~2)

- 1、古代西亞民族中，有一民族所信奉的宗教戒律中寫著：「除我之外不可信別的神」、「不可崇拜偶像」，這個民族應該是位在右圖的哪一地區？ (A)甲 (B)乙 (C)丁 (D)戊。
- 2、「法老權力集中，掌控政府，建立強大軍隊，採取馬拉戰車，使用鐵製武器，向外征戰，是古埃及版圖最遼闊的時代。」上述景象，出現於下列古埃及歷史的哪一個階段？
(A)古王國時期 (B)中古王國時期 (C)中王國時期 (D)新王國時期。
- 3、為了揭開建造金字塔之謎，1978 年 3 月，日本早稻田大學古埃及調查室的考古實驗隊，在古夫王金字塔前模擬古代方法建造金字塔。結果他們成功的用 5445 塊重約 2 噸的石塊，建造了一座 11 公尺高的小金字塔，也解答了部分技術問題。請問：埃及人建築金字塔的作用為下列何者？
(A)作為祭神的聖壇 (B)增加觀光景點 (C)為法老王的陵寢 (D)作為儲存寶藏的地方。
- 4、西亞與埃及文明起源比中國早，但此兩大古文明的歷史發展都曾一度中斷。請問：中斷西亞、埃及文明歷史發展的是下列哪一民族？ (A)蒙古 (B)波斯 (C)希臘 (D)亞述。
- 5、老師在地圖上標示出世界四大古文明的位置，如右圖，並要同學說出這些古文明的共同點，下列何人的說法正確？ (A)阿昆：「古文明都發源於河流附近。」 (B)艾兒：「這些地區都曾用楔形文字。」 (C)威威：「當時人們都具有一神的信仰。」 (D)玉琪：「古文明都屬於熱帶乾燥氣候。」。〔97 基測〕
- 6、阿姆是位武士，平日信奉婆羅門教，相信輪迴、聽從祭司的指示，他的身分從出生那一刻便被決定了，依此判斷，阿姆的社會實行一種階級制度。請問：此種階級制度被實施的主要原因為下列何者？
(A)遵守自古以來神明的指示 (B)維護傳統宗教的觀點 (C)維持阿利安人的統治地位 (D)保持基本生活品質的規定。
- 7、生活在西亞地區的西臺人相當擅於使用鐵器，是目前世界上最早使用鐵器的民族。在臺灣的遠古文化遺址中，下列哪一個文化遺址也曾發現煉鐵的鍋爐？ (A)長濱文化 (B)大坌坑文化 (C)卑南文化 (D)十三行文化。
- 8、亞歷山大大帝在世僅 33 年，但憑著其智慧與征戰功績，而被列入世界百大著名君王之一。他建立的帝國更是橫跨歐、亞、非三洲，其疆域如右圖。請問：亞歷山大最早發源於圖中何處？ (A)甲 (B)乙 (C)丙 (D)丁。
- 9、西洋學者歐幾里德寫了《幾何原本》一書，這是世界上使用最久的教科書，請問：此書在中國歷史上，最早於那一個朝代就有人將幾何原本翻譯成中文？ (A)漢代 (B)唐代 (C)宋代 (D)明代。
- 10、西方有句諺語說：「羅馬不是一天造成的。」羅馬人不僅發明了混凝土，並大量興建引水道、道路等公共設施，使當時羅馬成為一個結構宏偉而功能齊全的城市。這些建設成就最主要反映出羅馬文化具有下列哪一種特性？
(A)重視哲學思辯 (B)重視人神關係 (C)重視生態平衡 (D)重視實用技術。〔100.北北基〕
- 11、羅馬在西洋上古史曾是歐洲的權力中心，其統治者控制整個地中海周圍的區域。請問：古羅馬人曾說過：「地中海，我們的海。」這句話來自羅馬的哪一個時期？ (A)上古時期 (B)王政時期 (C)共和時期 (D)帝國時期。
- 12、在羅馬帝國極盛的「羅馬和平」時期，中國也出現一個帝國與其遙相輝映。請問：這應該是指中國的哪一個朝代？
(A)周朝 (B)漢朝 (C)唐朝 (D)清朝。
- 13、佛教與基督教都是當今流傳最廣、最久的重要宗教之一，其形成與發展，在歷史上具有重要的意義。請問：就發展的過程而言，上述宗教有什麼相同的際遇？ (A)都歷經宗教戰爭而後蓬勃發展 (B)在對外傳教時都曾遭受武力對抗 (C)都曾獲統治者的支持而興盛 (D)都以輪迴轉世的觀點深獲人心。



◎請閱讀短文，並回答下列問題：

美索不達米亞意為「兩河之間的土地」，這兩河分別是底格里斯河與幼發拉底河。兩河流域可以說是人類文化最早起源地之一，此地河流不定期氾濫，有時造成極大得災難，使得人們心裡較為悲觀；另外，此區地形開放，缺乏天然屏障，較易受到外來的侵略，因而在歷史發展上多由不同的獨立民族建立起自身的文化，政權更迭頻繁。蘇美人為兩河流域文明的奠基者，兩河流域的文字、宗教、法律與科學發明，皆與蘇美人有關。蘇美王朝滅亡後，繼之而起的是巴比倫人，實行中央極權政體，建立龐大的官僚體系，參考當地的風俗習慣，整理成有系統的法典。緊接在後的亞述人居住於底格里斯河中游地區，對內施行軍國主義，對征服地區進行殘忍的鎮壓行動，引發被統治者的不滿，群起反抗，後來被加爾底亞人及米提人組成的聯盟所消滅。加爾底亞人在文化方面最大成就是在天文學的領域，可惜的是他們建立的帝國為時短暫，於西元前 539 年，被波斯滅亡。(改寫自翰林教師手冊)

- 14、上述短文中提到巴比倫人根據當地的風俗習慣編纂了一部法典，內容充滿了「以牙還牙，以眼還眼」的報復精神，請問：巴比倫編纂的法典是下列哪一部？ (A)亞述法典 (B)加爾底亞法典 (C)漢摩拉比法典 (D)波斯法典。
- 15、安安在筆記本上寫到：「當時的學生用切斷的蘆葦桿，在柔軟的泥版上刻寫楔形文字，並用六十進位法進行計算，等泥版晒乾後，作業就完成了。」她應是描述兩河流域上古時代哪一民族的文化遺產？ (A)蘇美人 (B)巴比倫人 (C)亞述人 (D)加爾底亞人。

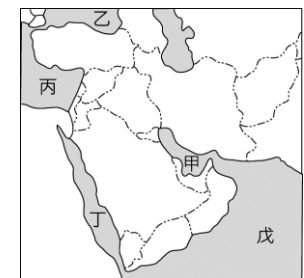
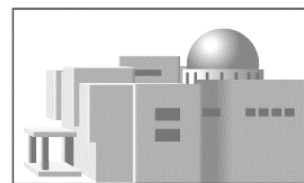
◎請閱讀短文，並回答下列問題：

古代的希臘男子赤身裸體參加比賽，是在正常不過的事。因為在希臘人心目中，行動敏捷、身材勻稱、擅長運動技能是男性的驕傲。當時戰爭的形式全憑肉搏戰，所以士兵必須將身體鍛鍊得十分強壯矯健，大部分的年輕人平時都在練習跳躍、拳擊、賽跑、擲鐵餅。而且每個城邦都建有體育場館與摔跤場。在希臘人眼中，理想的人物不僅擁有良好的頭腦或敏銳的心靈，而且還要血統好、發育好、比例勻稱、身手矯健，最好能擅長各項運動。(改寫自翰林出版社的「必識歷史知識」)

- 16、根據上述短文，希臘人不僅十分崇尚運動，甚至現代奧運的起源也是來自當地，請問：希臘人定期舉辦這些運動競賽的最初目的，主要是下列哪一選項？ (A)鍛鍊人民作戰的體力 (B)取悅奧林匹亞山上的眾神 (C)顯示希臘人全民熱愛運動 (D)展現男子力與美結合的機會。
- 17、承上題，西元 2020 年的奧運大會將在下列那一個城市舉行？ (A)雪梨 (B)曼谷 (C)雅典 (D)東京。

【地理科】第 18-33 題(範圍：西亞、中亞、歐洲概述)

- 18、西亞地區受副熱帶高壓及地形阻隔，多數地區形成何種氣候？ (A)地中海型氣候 (B)熱帶沙漠氣候 (C)熱帶雨林氣候 (D)溫帶大陸性氣候。
- 19、溫帶地中海型氣候區農業特別重視灌溉的主要原因為何？ (A)日照強烈，蒸發旺盛 (B)高溫期太短 (C)無霜期太短 (D)生長季缺水。
- 20、如附圖，西亞地區的建築，窗戶小、外牆厚實的原因有：(甲)防風沙 (乙)日間隔熱 (丙)平日防盜 (丁)戰時避難。以上正確的是 (A)甲、乙 (B)乙、丙 (C)丙、丁 (D)甲、丁。
- 21、西元 1990 年 8 月，伊拉克突然發動攻勢，侵占了科威特，導致聯合國部隊和伊拉克之間發生戰爭。請問：伊拉克入侵科威特的主要原因為何？ (A)民族不同 (B)宗教歧異 (C)搶奪石油礦產 (D)爭奪水資源主權。
- 22、西亞地區的石油主要分布在波斯灣沿岸，波斯灣成為世界航運十分繁忙的海域之一，一艘艘載運石油的貨輪駛向世界各地，為西亞帶來龐大的財富。請問：波斯灣位於右上附圖中何處？ (A)甲 (B)乙 (C)丙 (D)丁。
- 23、山脈通常是交通往來的障礙，但歐洲阿爾卑斯山多 U 型谷地，利於道路修築，成為內陸與地中海地區間的天然孔道。上述的「天然孔道」其地形成因為何？ (A)冰河作用 (B)斷層作用 (C)河蝕作用 (D)溶蝕作用。
- 24、附圖為南歐的大氣狀況示意圖，請由圖中資料判斷，當時應該為哪一個月份？ (A)1 月 (B)4 月 (C)7 月 (D)12 月。



- 25、下圖為歐洲地區四座主要的山脈。請問：哪座山脈是歐洲最高的山脈，素有「歐洲屋脊」之稱？ (A)甲 (B)乙 (C)丙 (D)丁。



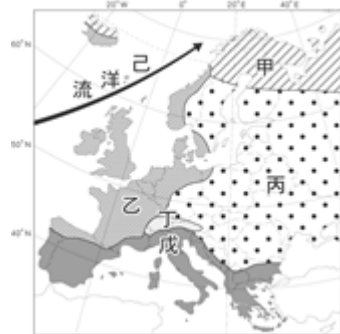
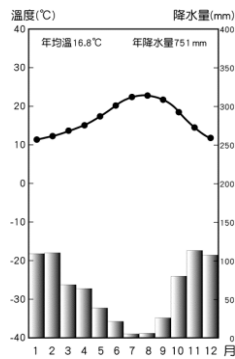
- 26、歐洲的國家中，以東歐各國在經濟上較為貧困落後，請問：這些國家經濟發展較差的因素，與下列哪項關係最密切？ (A)礦產資源缺乏 (B)共產制度影響 (C)氣候較為嚴寒 (D)土壤貧瘠，農業發展困難。
- 27、冰河侵蝕所造成的深邃峽灣景色壯麗，許多國際郵輪皆喜歡航行此區，以便遊客欣賞沿岸的風光。請問：歐洲的哪一個地區因為受到冰河作用侵蝕的影響，因此出現許多秀麗壯觀的峽灣地形？ (A)東歐 (B)西歐 (C)南歐 (D)北歐。

「整合題」

※ 附圖為歐洲氣候分區圖。請問：

28、哪種氣候類型受西風與暖流的影響，全年有雨，年溫差較小？
(A)甲 (B)乙 (C)丙 (D)戊。

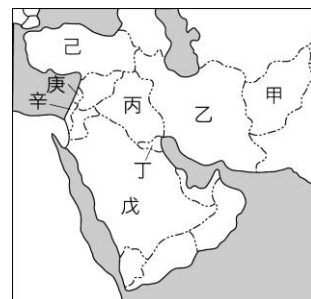
29、下附圖是歐洲某地的氣候圖，屬於哪種氣候類型？ (A)乙 (B)丙 (C)丁 (D)戊。



※ 附圖為西亞地區簡圖，請問：

30、伊斯蘭教徒每日須面向聖地麥加朝拜五次，而教徒一生中最大的願望，也是能親臨聖地朝拜。請問： 伊斯蘭教的聖地麥加位於附圖中的哪個國家內？(A)乙 (B)丙 (C)己 (D)戊 。

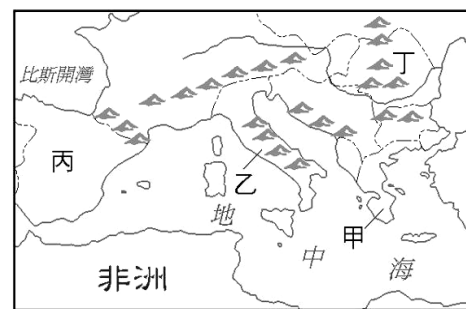
31、「它橫跨歐亞兩洲，一向以農牧產品著稱於世，此外，觀光業也相當發達，尤其在『特洛伊：木馬屠城』電影播出之後，為此地帶來更多的觀光人潮。」上述所指應是哪個國家？
(A)戊 (B)己 (C)庚 (D)辛。



※ 附圖為南歐簡圖。請問：

32、附圖為歐洲知名的觀光景點—龐貝城遺址，因受非洲板塊與歐亞大陸板塊作用影響，當地崎嶇不平，多火山地形分布。請問：該景點位於下列哪個地區？
(A)甲 (B)乙 (C)丙 (D)丁。

33、「距今約 6,500 萬至 250 萬年前，因為板塊碰撞擠壓，這裡隆起許多新摺曲山脈，部分沿海山地有厚層的石灰岩，受到溶蝕作用出現崎嶇的地形，嚴重影響當地的農業與交通發展。」上述自然景觀，最可能出現在圖中的甲、乙、丙、丁哪一地區？
(A)甲 (B)乙 (C)丙 (D)丁。



【公民科】第 34-50 題(範圍：單元 1~2)

34、下列以經濟學角度來看，有關資源的「稀少性」敘述，何者正確？ (A)資源稀少使用每樣東西都要付錢 (B)貧窮的人較富有者感到資源稀少 (C)經濟財的數量相對於人的欲望是不足的 (D)陽光是自由財可任意使用不必付費的。

35、在陽明山區的部分居民接管取用免費的山泉水，用來灌溉及日常用水。依上述內容判斷，對這些居民而言，山泉水的性質與下列何者最為接近？ (A)Costco 好市多讓人免費試吃的商品 (B)運用潮汐推動水磨坊碾碎穀物 (C)操場用天然紅土造成的跑道 (D)中低收入戶補助的助學金。

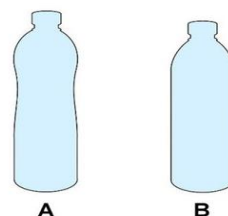
36、四端畢業新聞系後去找工作，右表是他可選擇的四個媒體工作機會。在其他條件都一樣的情況下，依機會成本的概念，四端應該選擇哪項工作？
(A)今新聞 (B)BCC (C)依周刊 (D)現世報。

今新聞	BCC	依周刊	現世報
23,000 元	26,000 元	29,000 元	33,000 元

37、俗話說：「羊毛出在羊身上，魚與熊掌不可兼得」，用在經濟學行為來看，指任何相關經濟選擇都必須支付代價。上述「代價」若以消費層面考量，是在討論下列何種成本？ (A)生產成本 (B)社會成本 (C)機會成本 (D)外部成本。

38、友宜開車經過加油站，看到廣告：「下周汽油將漲 4 角，還沒加滿油你就虧大了」，馬上決定加油，但發現受廣告影響，加油站已大排長龍，請問上述消費行為主要是受哪項因素的影響？
(A)所得高低 (B)商品價格 (C)預期心理 (D)個人偏好。

39、經市場調查參看右圖相同價格的兩瓶水，多數的消費者都會選擇 A 瓶，因為看起來比較高。實際上 A 的水是 550 ml，但 B 的水有 600 ml，但多數人認為 A 比較多而購買。上述顯示消費行為受到下列何種因素影響？ (A)商品價格 (B)所得增加 (C)偏好改變 (D)商品成本。



40、當人民平均所得水準下降時，統計一般民眾消費行為，下列敘述何者正確？ (A)增加非生活必需品的購買 (B)增加生活必需品的購買 (C)增加儲蓄或保險金額 (D)減少休閒觀光娛樂支出。

41、俗話說：「殺頭生意有人做，賠錢買賣沒人要。」這句話的意思是指就個人利益而言，生產者從事生產工作所追求的目標為何？ (A)總成本最大 (B)總產量最大 (C)總利潤最大 (D)總供給最大。

42、右表是大豐漁業公司上個月從事生產所付出的生產成本，其中「資本」所付出的部分是多少錢？

項目	船隻耗損	船員薪資	船長薪資	魚貨耗損	冷凍設備
金額	35 萬元	20 萬元	15 萬元	8 萬元	2 萬元

(A)8 萬元 (B)37 萬元 (C)45 萬 (D)80 萬元。

43、「供給法則」是指在其他條件不變的情形下，當某商品的價格上升時，生產者對該商品的供給量會增加；反之，當某商品的價格下跌時，生產者對該商品的供給量則會減少。這種關係可用下列哪張圖來表示？



44、今年文旦柚因風雨災害大量落果，使得中秋文旦柚供給量大量不足，但人們仍習慣過中秋吃柚子，這時柚農可採用何種方式最能增加銷貨收入？ (A)提高文旦柚售價 (B)降低文旦柚售價 (C)不計算自己採收勞力 (D)大量進口大陸柚子銷售。

45、新聞報導：「上海商業儲蓄銀行股份有限公司預計今年股票上市，發行新股公開申購，每股暫定 32.28 元」，請問前述類型企業具有下列何種優點？

(A)容易籌得資金與人才 (B)公司經營者利潤獨享 (C)較易提高銷貨收入 (D)由政府掌控平穩價格。

46、7-ELEVEN 國內開設 24 小時無人商店，為首家 24 小時營運的無人商店，民眾可以 icash 2.0 卡或聯名卡，登記註冊會員、登錄人臉，就能自由進出無人商店，自助結帳消費，請問這種商店可為廠商節省何種生產要素的成本？

(A)人力資源 (B)自然資源 (C)資本 (D)企業才能。

47、小文想在甲、乙、丙三景點中選擇一處販售冷飲，他的評估結果如右表所示。若小文僅考量總利潤，根據表中內容判斷，他選擇這三處景點的機會成本，其排序應為下列何者？

景點	一日販售數量(杯)	每杯售價(元)	營業日數(天)	一日營業成本(元)
甲	100	50	2	1000
乙	110	30	4	600
丙	120	40	3	800

(A)丙 > 甲 > 乙 (B)甲 = 丙 > 乙 (C)丙 > 甲 = 乙 (D)甲 = 乙 > 丙。

48、中國大陸在建政初期，為求達成「鋼鐵產量增加一倍」的目標，採取大躍進政策，動員了 9000 萬人，在各地建立 60 多萬座高爐，期望在短時間內完成超英趕美的方向。中國大陸為了達成此項目標，必須考量下列何項生產課題？ (A)生產什麼 (B)如何生產 (C)為誰生產 (D)何時生產。

◎請閱讀短文，並回答下列問題：

史丹佛大學認知心理學家 Knutson (2007) 發現消費者看到產品和品牌時，大腦裡的酬賞系統會活化，也就是看到喜歡的產品或品牌，就會讓個體產生很愉悅的感覺；但是當消費者接著看到價錢時，大腦會啟動感覺痛苦的腦區。這個結果告訴我們，消費者決定是否購買某一樣東西是依據「價值酬賞」以及「痛苦」兩個向度來決定是否購買。如果想要提升消費行為，我們可以增加消費者的購買意圖，消費者覺得這項產品物超所值，東西不但喜歡（價值高）又有能力購買（痛苦低），越有可能出現購滿行為。

49、以上述來看消費者對東西不但喜歡（價值高）又有能力購買（痛苦低），越有可能出現購買行為的現象，稱為下列何者？ (A)需求法則 (B)供給法則 (C)機會成本 (D)預期心理。

50、以上述看到喜歡的產品或品牌，可影響消費者購買行為來看，下列哪個生產者，即運用了此種手法影響消費者購買行為？ (A)老闆真的不想活了，跳樓大拍賣 (B)美女拿著咖啡說「在這城市探索這城事」 (C)點心兌換卷，結帳時出示本卷可得限量點心一份 (D)捷運輕軌年底通車，投資房市好時機買到賺到。