

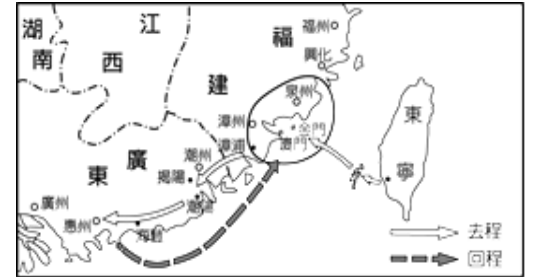
臺北市新民國中 107學年度 第一學期 七年級社會領域 第二次段考試卷

七年 _____ 班 座號：_____ 姓名：_____

一、單選題(1-50 題，每題 2 分。)

※【歷史科】第 1-17 題

- 1、相傳國姓爺鄭成功曾進攻噶瑪蘭一帶時，遇上一隻巨龜，威脅鄭家軍的安危，國姓爺連忙按槍瞄準，擊向巨龜，巨龜沉入海中，變成了一個島，即今日的龜山島。文中鄭成功被稱為國姓爺，與下列哪一位南明四王有關？
(A)福王 (B)魯王 (C)唐王 (D)桂王。
- 2、王美美在作歷史研究報告時，描繪了一張征戰路線圖，如右圖所示。請問：她應該是在研究哪一個歷史事件？ (A)鄭成功進攻臺灣 (B)鄭經出兵中國大陸 (C)對日八年抗戰 (D)荷蘭人登陸臺灣。[90 基測]



- 3、「某人為福建人，在永曆初年，投靠鄭成功麾下，因賢明能幹而獲重用，被鄭成功喻為『臥龍』(諸葛亮)，受參軍職，支持鄭成功北伐長江。後晉升諮議參軍職，協助鄭成功攻打臺灣。鄭成功逝世後，先後輔佐鄭經、鄭克臧。」請問：文中被鄭成功喻為「臥龍」，有「鄭氏諸葛」之稱的是下列哪一歷史人物？
(A)沈光文 (B)陳家洛 (C)沈有容 (D)陳永華。
- 4、新民是生活在今日高雄地區的農民，假設他坐著時光機回到鄭成功治臺時期，結果某日新民與人發生土地糾紛，應該找哪一個地區的長官處理？ (A)澎湖廳 (B)承天府 (C)天興縣 (D)萬年縣。
- 5、小凱利用假日與同學走訪臺南、高雄等沿海附近地區，發現有許多與「營」或「鎮」有關的地名，上學時他問歷史老師原因，歷史老師說這與鄭氏治臺時期的某項政策有關。請問：是下列哪一項政策？
(A)軍屯政策 (B)官墾政策 (C)民墾政策 (D)放牧政策。
- 6、承上題，這政策主要的用意為下列何者？ (A)欲增加軍人的配置，加強防務安全 (B)想招募共多的大陸漢人來臺拓墾 (C)要解決軍民糧食不足的問題 (D)為安置在金、廈地區的鄭氏家族成員。
- 7、清康熙皇帝時期，清廷內部曾經出現棄、留臺灣的爭議，最後主張保留臺灣的大臣們提出下列哪一個重要的論點，讓康熙皇帝決定將臺灣納入清朝版圖？
(A)土地經濟價值高 (B)臺灣戰略地位重要 (C)國家領土主權完整 (D)臺灣海外貿易興盛。
- 8、承上題，清廷決定保留臺灣後，開始在臺灣設立行政區劃。請問：當時臺灣是置於下列哪一行政區之下？
(A)福建省 (B)廣東省 (C)臺灣省 (D)江蘇省。
- 9、臺灣納入清朝版圖後，清廷治臺的措施都是種消極狀態，其主要原因為下列何者？ (A)兌現實施分區分治政策的承諾 (B)想讓臺灣成為地方自治的試辦區 (C)以防臺灣再度成為反清復明的基地 (D)因對臺灣的狀況不熟悉而採取的權宜之計。
- 10、民新的老家是位居彰化沿海平原的某聚落，當地居民主要是以務農維生，因此極度依賴灌溉系統。請問：當地居民最可能是使用下列哪一個清代遺留下來的灌溉系統？ (A)桃園大圳 (B)曹公圳 (C)嘉南大圳 (D)八堡圳。
- 11、清領臺灣後，對外貿易十分興盛，帶動經濟繁榮，於是流傳「一府、二鹿、三艋舺」的俗諺，可以反映臺灣早期發展的方向為下列何者？ (A)由東向西 (B)由北向南 (C)由南向北 (D)由西向東。
- 12、清領初期，中國商人只能透過下列哪一個通商口岸，來臺從事貿易活動？
(A)滬尾 (B)八里坌 (C)打狗 (D)鹿耳門。
- 13、清領前期，隨著移民不斷湧入臺灣，以及土地持續的開拓，當時的移民主要種植下列那些作物？
(A)稻米、甘蔗 (B)芋頭、番薯 (C)茶樹、蕃茄 (D)咖啡、玉米。

◎請閱讀下列短文，並回答下列問題：

鄭氏家族以海上起家，貿易為其專長。但清廷對鄭氏的海禁政策，使鄭氏在貿易的經營受到不小的打擊。臺灣是個海島，資源有限。鄭經主政期間，大臣曾建議可以用走私的方法，改善臺灣物資不足的情況，並重新活絡鄭氏的商業貿易，使臺灣可以取得更多的利益。鄭經聽從建議，派人在廈門設置走私貿易的據點，從事非法的商業行為，使臺灣物品短缺且價昂的情形逐漸改善。(改編自康軒版教師手冊)

- 14、從上文可得知，鄭氏家族「立足臺灣，對抗滿清」的重要財源來自下列哪一方面？
(A)國內貿易 (B)國際貿易 (C)山林資源 (D)農牧生產。
- 15、從上文可得知，鄭氏家族為了解決臺灣有限的資源問題，因此積極發展海外貿易。其中，以走私的方式與下列何地進行貿易？ (A)中國 (B)日本 (C)英國 (D)印尼。

◎請閱讀下列短文，並回答下列問題：

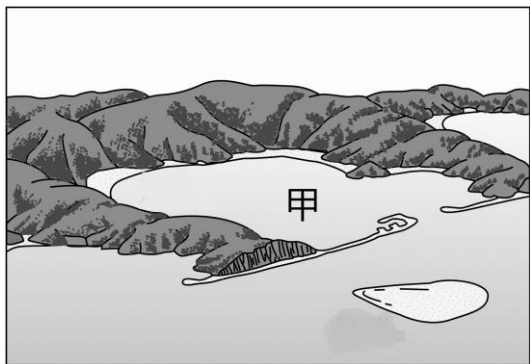
隨著臺灣貿易的逐漸興盛，開始出現兩岸之間船舶運輸與貿易的商人。商人為了控制貨品價格，避免惡性競爭，產生一種「郊」的組織，類似今日的同業公會。「郊」除了具有商業功能外，也積極投入地方建設、社會福利、賑災等公益事業。「郊」的組織大抵可用貿易地區及貿易商品來做區分；以貿易地區來做劃分的，例如：「廈郊」、「泉郊」等。以貿易商品來做區分的有「布郊」、「米郊」等。(改寫自翰林教師手冊)

- 16、清朝統治時期，臺灣出現這種「郊」的組織，依其性質推斷，這種組織主要分布在右圖中何處？
 (A)甲 (B)乙 (C)丙 (D)丁。〔97基測〕
- 17、臺灣資源有限，十分需要仰賴貿易的進行，在清領期間，出現的商業組織「郊」，可說明當時臺灣與下列哪一地區的貿易最為活躍？ (A)日本 (B)中國 (C)英國 (D)印度。



※【地理科】第 18-34 題

- 18、下圖為沙岸示意圖，請問臺灣高雄港即是利用附圖中「甲」的地形興建而成，請問「甲」的地形名稱是？ (A)瀉湖 (B)灣澳 (C)沙洲 (D)岬角。



- 19、臺灣四邊海岸線各有特色，請問：下列有關臺灣海岸的特色配對，何者正確？
 (A)東部谷灣式海岸 (B)西部斷層海岸 (C)南部珊瑚礁海岸 (D)北部堆積海岸。

- 20、因灣澳與岬角相間，成為全臺最曲折海岸線，在右圖中哪一段可見？
 (A)乙 (B)丁 (C)丙 (D)甲。

- 21、臺灣古地名中有種叫「內海仔」的地方，像是一種被陸地包圍的海域範圍，而就地名判斷，所在的地方曾經是何種地形？ (A)瀉湖 (B)沙洲 (C)岬角 (D)灣澳。

- 22、啟傑和凱祐上合歡山度假，兩人看著窗外的景致，從榕樹變成楓樹，再變成松柏等針葉樹，請問此種變化的主要影響因素為何？ (A)緯度 (B)距海遠近 (C)季風 (D)高度

- 23、所謂寒流，是指冷空氣來襲時，全臺氣溫急遽在 24 小時內驟降 10°C 以上，甚至有可能因此而停班停課。請問：使臺灣籠罩在低溫下的嚴寒冷空氣主要發源自何處？
 (A)蒙古 (B)越南 (C)菲律賓 (D)印尼



- 24、澎湖縣政府近年來在珊瑚礁復育工作深受漁業署肯定，所以委託水產種苗繁殖場在馬公烏坎栽培漁業區，辦理世界海洋日的海洋棲地復育活動，請問澎湖可能擁有怎樣的條件適合復育珊瑚蟲？
 (A)水溫多變 (B)海水較深 (C)海水乾淨 (D)日照較少。

- 25、臺灣總統於 2018 年 9 月時出席某島嶼舉辦的「世界最美麗海灣嘉年華」開幕晚會時致詞表示，該島群有 90 幾個島嶼，有豐富的地形特色，和人文風景，無論是壯麗的玄武岩，或是旅客最愛的七美「雙心石滬」、吉貝的沙嘴，都讓人印象深刻。請問總統出席的活動可能是右圖哪一代號的島嶼所舉辦？
 (A)甲 (B)乙 (C)丙 (D)丁。

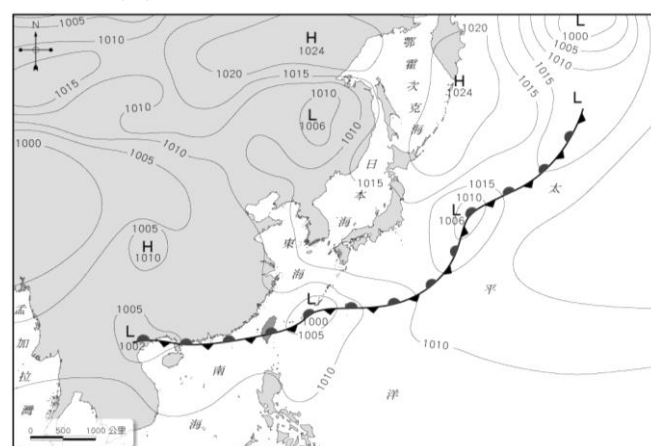


- 26、臺灣冬季時，住北部的宥萱換為冬衣，而住南部的佩怡可能還穿著短衣褲，這種差異的產生，與下列哪項因素關係最密切？
 (A)緯度 (B)洋流 (C)地形 (D)季風。

- 27、下列選項何者其中包含對「天氣」的敘述？(A)恆春四季如春故得此名 (B)新竹的九降風最出名 (C)臺灣南部地區降水集中夏季 (D)今天的天空艷陽高照。

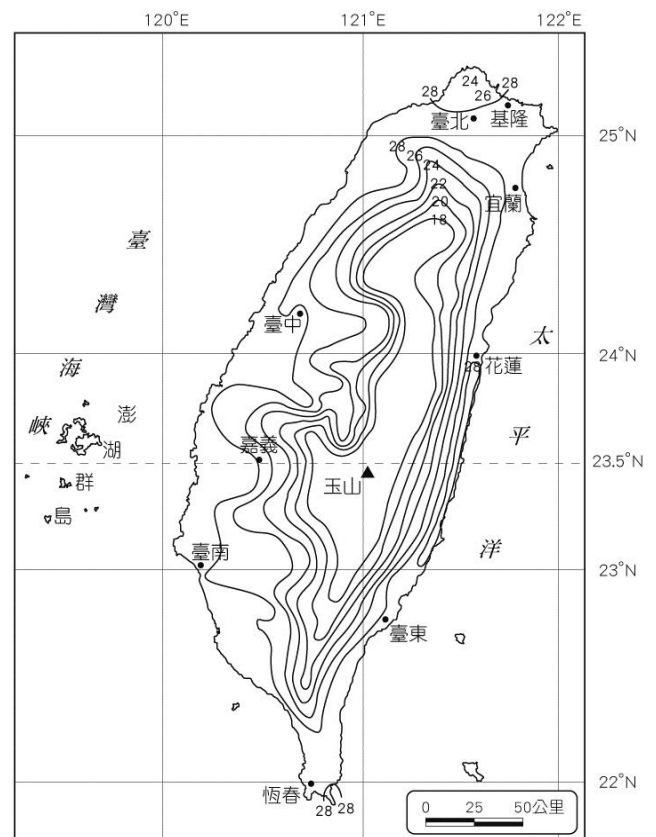
- 28、地面天氣圖中，若有「L」的符號，代表目前此處大氣狀況為何？
 (A)低氣壓，空氣上升 (B)高氣壓，天氣晴朗 (C)低氣壓，氣溫較四周低 (D)高氣壓，氣溫較四周高。

- 29、右圖為臺灣昨日的氣象報告中，主播怡晨用來進行說明的地面天氣圖，請問下列哪種天氣情況可能將會是怡晨所預測的今日天氣？



- (A)颱風侵襲 (B)陰雨綿綿 (C)寒風凜冽 (D)烈日高溫。

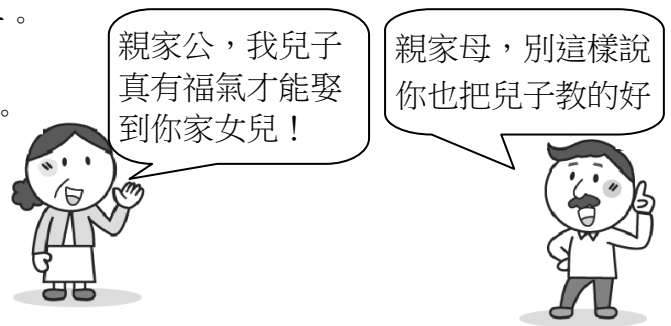
- 30、附圖是臺灣7月的等溫線圖，根據此圖，可以判斷出臺灣夏季氣溫變化的何種特性？
 (A)南部涼爽 (B)山區普遍高溫 (C)南北溫差小 (D)北部最熱。



- 31、"竹風蘭雨"這句台灣氣候諺語的由來，是因為長年的相關數據統計分析的結果，請問此一諺語出現與下列哪一項因素最有關係？ (A)夏季季風 (B)距海遠近 (C)緯度度數 (D)冬季季風
- 32、就臺灣降雨季節變化而言，下列四張降水量圖何者最可能是我們所身處的北部地區？
- (A) (B) (C) (D)
- 33、澎湖地區為了抵禦強烈的東北季風，早期會就地取材堆砌矮牆來保護農作，稱之為「菜宅」，甚至因此成國成立國家公園的考量之一。請問：他們最可能採用下列哪種建材？(A)竹子 (B)木材 (C)大理石 (D)珊瑚礁塊
- 34、大陸島通常原屬於陸地邊緣的丘陵，因發生陸地下沉或海水上升而成。請問台灣的離島中下列何者即為大陸島？
 (A)蘭嶼 (B)金門 (C)小琉球 (D)太平島

※【公民科】第 35-50 題

- 35、家庭是由具有婚姻、血緣和收養關係的人所組成的親屬團體，由此定義判斷，下列哪一組人 不具有親屬關係？
 (A)阿姨和姨丈 (B)乾媽和乾兒子 (C)岳母和女婿 (D)繼父和繼子。
- 36、承上題，我國詳述定義「親屬關係」是依據下列何項法規？
 (A)《家庭教育法》(B)《中華民國憲法》(C)《民法》(D)《刑法》。
- 37、依據上題法規的內容，從右圖對話框判斷，兩人是屬於何種親屬關係？ (A)配偶 (B)血親 (C)姻親 (D)沒有親屬關係。



- 38、宥萱與家人一起參加親戚的喜宴，親戚已安排好固定位置，宥萱坐的位置線索如下：跟一對配偶同桌，桌子的對面坐著宥萱的姻親，而隔壁則坐著她的旁系血親。依據上述線索，請問：宥萱應該坐在哪一桌才是正確的呢？
- (A)

姐姐	姐夫
桌子	
媽媽	宥萱

 (B)

舅媽	舅舅
桌子	
表妹	宥萱

 (C)

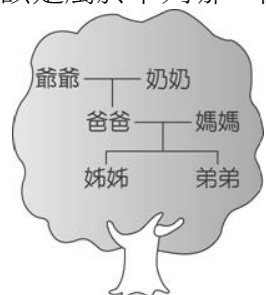
阿姨	伯母
桌子	
伯父	宥萱

 (D)

外公	姨丈
桌子	
外婆	宥萱

- 39、(2018/06/11 自由時報)雲林縣虎尾戶政事務所今年首度開辦「生活適應輔導班」日前舉辦成果展。此課程是針對適應台灣生活需要的一群人，為他們安排家庭教育、兩性平等、地方民俗、文化風情、技藝教學、居留與定居、人身安全、基本權益、語文教學、醫療保健等輔導課程，協助融入在地生活。根據內容判斷，這一群人應該是屬於下列哪一種家庭型態？ (A)單親家庭 (B)重組家庭 (C)隔代教養家庭 (D)新移民家庭。

- 40、右圖是瑀晨在公民課的學習單上所畫的家庭樹，由此圖可看出她的家庭屬於何種型態？
 (A)折衷家庭 (B)核心家庭 (C)血緣家庭 (D)繼親家庭。



- 41、右圖是我國 2012-2015 年的收養統計表，下列關於收養的敘述，何者正確？(A)養父母經內政部認可收養後，即成為擬制血親 (B)親生父母與養父母自行協調同意收養後，親屬關係即成立 (C)擬制血親在法律上的權利義務關係與自然血親相同 (D)一旦收養關係成立，就不可以終止親子關係。
- 42、為因應家庭內的平權關係發展，我國《民法》作了多次的修改。下列各項敘述中，何者符合我國現行《民法》之規定？(A)子女應奉養父母，即使曾被遺棄也不例外 (B)夫妻離婚後子女的親權歸屬，法院應以子女最佳利益來選定 (C)夫妻對家務分工仍應遵循男主外、女主內原則 (D)婚後，本由妻冠夫姓改為夫冠妻姓。
- 43、隨著社會變遷，家庭主要的功能也受到影響，關於現代家庭功能的轉變，下列敘述何者**錯誤**？(A)家庭主要的經濟功能，逐漸從消費轉變為生產 (B)隨著少子化的影響，家庭的生育功能逐漸減弱 (C)老人安養機構的興起，取代部分家庭保護與照顧的功能 (D)才藝班、網際網路的普及，取代部分的家庭教育功能。
- 44、(2018/05/15 聯合新聞網)立法院日前三讀通過《兒童及少年未來教育與發展帳戶條例》，針對經濟弱勢或長期被安置的兒少提出補助。未來家長或法定代理人每年對兒童存入的金額，政府也會等同存入該數目，助弱勢家庭兒少發展。請問：立法院的做法主要是協助加強家庭的何項功能？(A)保護與照顧功能 (B)經濟功能 (C)教育功能 (D)生育功能。

年份	國內收養	跨境收養	合計
2012	80	193	273
2013	100	166	266
2014	155	192	347
2015	143	158	301
總計	478	709	1187

資料來源：衛福部社家署

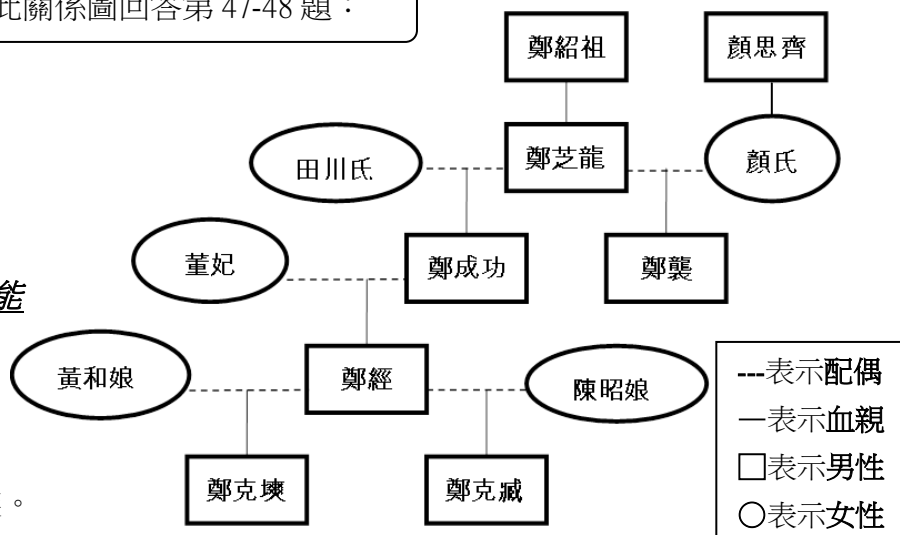
※公民閱讀題：第 45-50 題，每題 2 分

㊦台灣《家庭暴力防治法》在 1998 年 6 月 24 日公布施行，是全亞洲最早施行國家之一，據衛福部統計，台灣的家庭暴力案件通報每年超過 10 萬件，其中有 13% 是兒少保護、15% 是直系血親卑親屬虐待尊親屬、55% 是親密伴侶間的暴力、17% 則是其他四親等內親屬間暴力。由於家庭暴力成因複雜需要社區力量及政府資源介入及早辨識危機脆弱家庭，提供多重支援與服務介入來補足家庭功能，才能預防及解決暴力問題。 資料來源：2018/11/19 中時電子報

- 45、下列關於此法條的敘述，何者**錯誤**？(A)被施暴者可依法聲請保護令 (B)保護令可命令加害人不得靠近被害人 (C)此法是為了保護家庭暴力的受害者而制定 (D)保護令是由縣(市)政府社會局(處)所核發。
- 46、閱讀完上述資料後，請問：下列何者**不屬於**該法條保護的類型？
 (A)對同學施暴造成肉體的傷害 (B)配偶以言詞或肢體侮辱或傷害對方
 (C)父母對子女不當管教 (D)同居人對同居人施暴，造成對方的傷害。

右圖為台灣歷史有關鄭成功家族的親屬關係圖，請就此關係圖回答第 47-48 題：

- 47、從此圖中，下列敘述何者正確？
 (A)鄭芝龍與顏思齊為血親關係
 (B)鄭經與鄭成功為旁系血親
 (C)鄭克塽與田川氏為直系血親
 (D)鄭經與鄭襲沒有親屬關係。
- 48、請問：此種家庭成員龐大複雜的家庭型態中**最有可能**會看到那些現象？
 (A)可能會面臨幼兒和老人無人照顧的問題
 (B)家庭成員缺乏情感支持，使幼兒有孤單的感覺
 (C)家庭成員享有比較多的獨立與自主空間
 (D)很有可能因為意見和習慣上的差異產生家庭衝突。



長照十年計畫 2.0 —— 建立我國社區整體照顧模式，佈建綿密照顧網

資料來源：衛福部 長照政策專區網站

俗稱「長照 2.0」。是為了實現在地老化，提供從支持家庭、居家、社區到住宿式照顧之多元連續服務，普及照顧服務體系，建立以社區為基礎的照顧型社區，期能提升具長期照顧需求者與照顧者的生活品質。

長照服務專線 (前五分鐘免費)

1966

- 49、請問：上述計劃的實施，是為了解決現代家庭的哪一項挑戰？
 (A)少子化問題 (B)高齡化問題 (C)離婚問題 (D)家庭暴力問題。
- 50、承上題，針對此一問題，政府所推出的相關因應政策，下列哪些措施**無法解決**此問題？(甲)設立識字班 (乙)鼓勵三代同鄰 (丙)設置公立日間照顧中心 (丁)生育津貼加碼發放
 (A)甲乙 (B)丙丁 (C)甲丁 (D)乙丁。

試題完成，記得再檢查一遍答案卡與試卷，並務必將自己的答案抄寫於題目卷上，以利試後檢討。