

臺北市新民國中107學年度 第一學期 八年級社會領域 第二次段考試卷

八年 班 座號： 姓名：

一、單一選擇題(每題 2 分，總分 100 分)

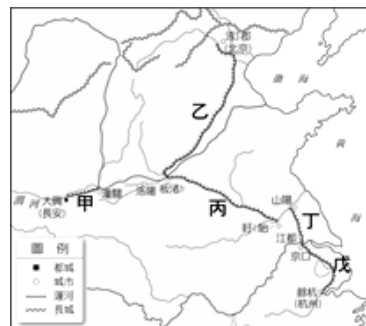
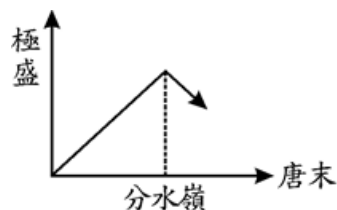
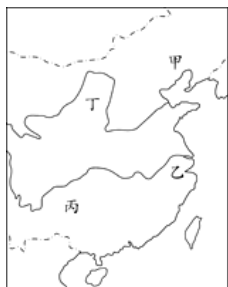
【歷史科】第 1-16 題

- 1、「諸葛亮是山東人，出生於東漢末年。當時建安皇帝處於曹操的控制中，劉備有拯救建安皇帝的心志，卻苦於實力不足，親自拜訪諸葛亮，亮受其誠意感動，遂為其軍師，先是幫助劉備聯合孫權，打敗曹操南侵的部隊，奠定三分天下的基礎，後輔佐劉備立國於成都，並接受宰相一職。」請問：上述文中所稱建安皇帝是指下列哪一位東漢帝王？
(A)漢明帝 (B)漢桓帝 (C)漢靈帝 (D)漢獻帝。
- 2、承上題，諸葛亮協助劉備聯合孫權，打敗曹操南侵的軍隊，奠定三分天下的基礎，是指發生在右圖哪一個地方的戰役？ (A)甲 (B)乙 (C)丙 (D)丁。
- 3、五胡十六國時期，胡漢接觸頻繁。北魏孝文帝時，將首都從平城遷到洛陽的主要目的為下列何者？
(A)取其交通之便利性 (B)有利漢化政策的推行 (C)紓解人口過剩的壓力 (D)該地物產豐饒。
- 4、林老師帶領學生前往中國長江流域進行歷史古蹟踏察，一群人到達一個素有「六朝古都」之稱的城市，還發現當時部分建築物仍然屹立於此。請問：這個城市應位於地右圖中的何處？
(A)甲 (B)乙 (C)丙 (D)丁。
- 5、中國歷代選用人才的方式各有不同，「九品官人法」在魏晉南北朝實施了三百多年，它對當時造成何種影響？ (A)出現布衣卿相，平民百姓獲得重用 (B)鞏固世族地位，社會階層缺乏流動 (C)建立書院制度，名儒講學蔚為風尚 (D)形成士紳階級，文人競相獵取功名。【97 基測】
- 6、承上題，「九品官人法」的創立，與當時何種背景有關？ (A)貴族沒落，平民崛起 (B)百家爭鳴，學風自由 (C)世族沒落，國家求才甚急 (D)社會動盪不安，察舉無法落實。
- 7、各種宗教中的佛教與道教在中國都有悠久的發展歷史，下列有關兩者的敘述，何者**正確**？ (A)佛教創立於印度，道教起源於中國 (B)道教發展的盛況始終超過佛教 (C)南朝梁曾把道教立為國教 (D)北魏時期百姓只能信奉佛教。
- 8、「竹林七賢」平時喜歡飲酒作樂、撫琴吟詩，於文學、音律上有過人成就，卻喜愛談論不著邊際、脫離現實之哲理，不願正視當時的政治情況。請問：下列哪一選項最適合用來形容「竹林七賢」的作為？
(A)循規蹈矩，盡忠職守 (B)汲汲功利，爭權奪位 (C)漠視禮法，自由放縱 (D)憂國憂民，志向遠大。
- 9、右圖是老師在講解「唐朝發展史」一文中所繪製的圖表，圖中的「分水嶺」若以帝王、歷史事件來區分各指為何？
(A)唐太宗、玄武門之變 (B)唐高宗、武后干政 (C)唐玄宗、安史之亂 (D)唐僖宗、黃巢之亂。
- 10、隋唐時代以來，因社會容納各種文化而呈現多元色彩。胡商來華貿易頻繁，使胡時、胡樂、胡服與胡舞，普遍為隋唐居民喜愛，各地充斥著胡人文化的色彩，因此，唐朝的時期社會文化的特色為下列何者？
(A)夷夏之分，鮮明區別 (B)胡漢融合，兼容並蓄 (C)崇洋媚外，捨棄傳統 (D)標新立異，喜好多元。
- 11、唐代因中外貿易頻繁，阿拉伯商人由海路來華貿易，於是唐政府設立哪一機構總管徵收來華船舶的關稅、管理海外各國朝貢事務，使中國海上貿易開始走向制度化的管理？ (A)總理衙門 (B)洋行 (C)市舶司 (D)郵局。
- 12、艾玲參加學校的日語社，老師說日文是模仿中國文字而製成。請問：日文的形成與下列哪一背景有關？
(A)大化革新 (B)幕府政治 (C)鎖國政策 (D)明治維新。【92 基測】
- 13、唐代佛教達於鼎盛，唐太宗時，玄奘不畏艱難，前往印度取經學佛。玄奘對佛教中國化的貢獻極大，最主要是因他有下列何種重要作為？ (A)新闢西行取經的捷徑 (B)廣建佛教寺院 (C)首創佛教禪宗派別 (D)有系統地翻譯佛經。

◎請閱讀短文，並回答下列問題：

隋代建都於大興城(後稱長安)；當時渭水泥沙淤積，不利漕運，隋文帝命大臣開鑿運河，引渭水注入渠中，使漕運直通黃河，即「廣通渠」。隋煬帝即位後，開始修「通濟渠」，這條運河將洛陽、黃河與淮河連接起來，有助於中國南北各地經濟貨物的流通。隨後，煬帝再派人修築「邗溝」，它的重要性是連絡淮河與長江水運。大業 4 年，為了討伐高麗，煬帝下令開鑿「永濟渠」，北達涿郡(今北京市)，這條運河就是今天北運河的前身。大業 6 年，再修「江南河」，連接長江和錢塘江水運。運河開鑿不但解決關中糧食不足的問題，同時也溝通了南北的經濟，使江南貨物可以源源不絕供應北方。(改寫自翰林歷史大哉問-中國篇)

- 14、隋煬帝為了遠征高麗而修築的運河是位於右圖中的哪一條？ (A)甲 (B)乙 (C)丙 (D)丁。
- 15、隋代時為了便利京師和物資的傳送與對外的聯繫，而開鑿運河，是右圖中的哪一條？
(A)甲 (B)乙 (C)丙 (D)丁。



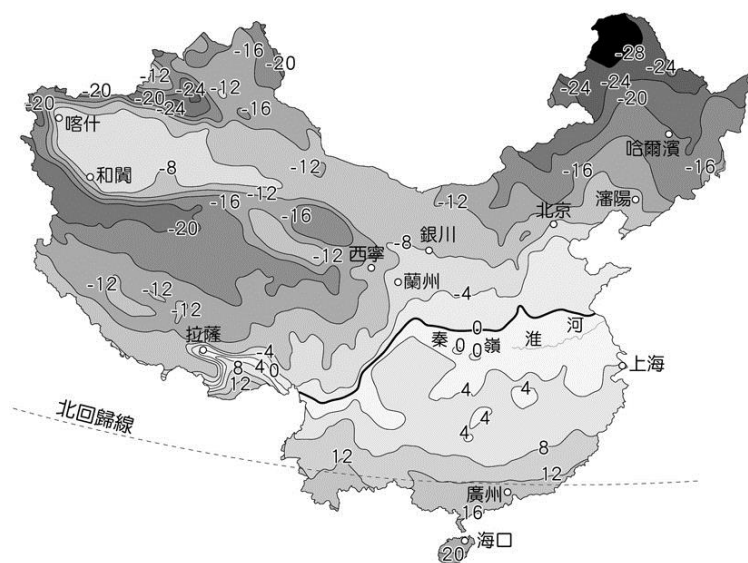
◎請閱讀短文，並回答下列問題：

唐太宗認為人才的選拔是國家興廢的關鍵；他訂立了才幹與德行兩個標準，選拔人才時，兩者缺一不可。他會根據大臣不同的才能，安置不同的職務，讓大臣發揮所長。由於唐太宗懂得適才任用，使唐初出現許多賢明有才幹的大臣們。唐太宗的知人善任，使隋末中國的亂象，一一被整頓，締造了唐代**第一個盛世**，奠定日後強盛的基業。(改寫自翰林歷史大哉問-中國篇)

16、上述文中提及的「第一個盛世」，應是指下列哪一個選項？ (A)文景之治 (B)開皇之治 (C)貞觀之治 (D)開元之治。

【地理科】第 17-33 題

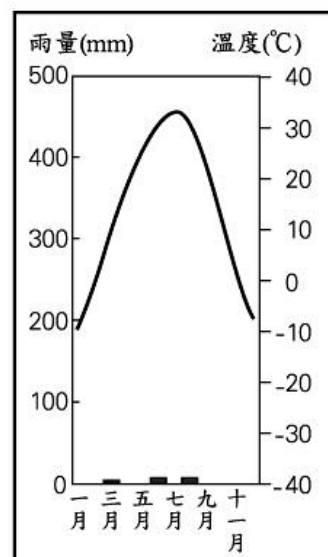
- 17、附圖為中國冬季等溫線分布圖，由圖中所提供的資訊，可以判斷出下列哪項事實？ (A)緯度的影響程度在此時相對薄弱 (B)年溫差呈現由南往北遞減的趨勢 (C)一月均溫 18°C 等溫線大致與秦嶺、淮河一線重疊 (D)拉薩很可能是因為高度的關係而低溫。
- 18、中國東半部氣候深受季風影響，但所謂季風是指隨著季節轉換風向的風，請問風向轉換的主因為何？ (A)太平洋內冷熱洋流流動導致 (B)冬夏高低氣壓中心位置改變 (C)地球自轉導致風向偏轉 (D)地球繞著太陽公轉造成。



- 19、秦嶺、淮河身兼數種中國地理重要的分界線。下列哪條地理界線與秦嶺、淮河一線相符？ (A)北緯 23.5 度線 (B)500 mm 等雨量線 (C)1 月 18°C 等溫線 (D)750mm 等雨量線。
- 20、由香港向新疆的方向前進，沿線上何項氣候資料數值會呈現增加的趨勢？ (A)年溫差 (B)七月均溫 (C)一月均溫 (D)年降水量。
- 21、高地氣候的特徵用下列哪句諺語說明最貼切？ (A)朝穿皮襖午穿紗，抱著火爐吃西瓜 (B)四時皆是夏，一雨便成秋 (C)一年無四季，一日見四季 (D)天無三日晴，地無三里平。
- 22、附表是某城市溫度與雨量的資料。從表中判斷此城市最有可能為以下何者？ (A)廣州 (B)烏魯木齊 (C)拉薩 (D)哈爾濱。

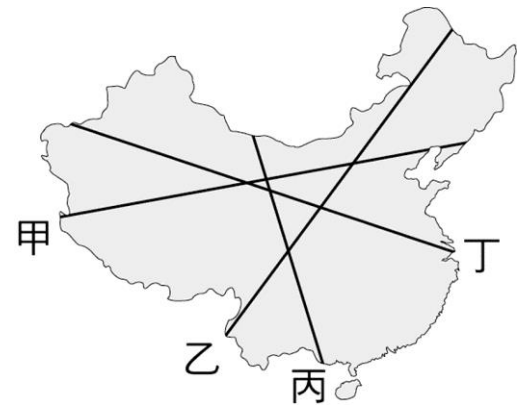
海拔高度	151M
一月均溫	-20°C
七月均溫	22°C
年降水量	600mm

- 23、根據河流的終點可以分中國的河流為內流河和外流河兩類，而關於中國河流的描述或比較何者正確？ (A)北極海外流區裡只有一條河 (B)印度洋外流區範圍最大 (C)內流河水源來自雨水為主 (D)內流河的長度一定較短。
- 24、不同的自然環境會衍生去不同的生活模式，右圖為所代表的氣候區中，最有可能見到當地人民的哪種的生活方式？ (A)以雞鴨為主要眷養對象 (B)以牲畜乳肉為主要食物來源衣物 (C)住所多為斜頂帶有煙囪的建築 (D)穿著透氣且輕便的麻質衣物。
- 25、新疆維吾爾自治區位處中國西北，境內當地族群分布相當多元，請問除了維吾爾族人外，最可能其境內遇見哪種少數民族(A)朝鮮族 (B)壯族 (C)哈薩克族 (D)壯族。



26、中國的人口分布因許多因素而極度不均勻，請問右圖中哪條線，最能成為劃分出中國人口分布密集與疏鬆的分界？

(A)甲 (B)乙 (C)丙 (D)丁



27、春運現象，是指中國大陸在農曆春節前後發生的一種大規模的高度交通運輸壓力及堵塞的現象，嚴重到有小販跑到高速公路販售飲食，請問此一現象是指中國哪一項的人口問題？(A)素質低落 (B)計畫生育 (C)城鄉移動 (D)高齡化。

28、1980 年代中國政府為控制人口成長與人口數量，曾實施「一胎化政策」，企圖利用人為的方式改變下列哪項人口現象進而減緩人口成長？ (A)移入率 (B)出生率 (C)死亡率 (D)移出率。

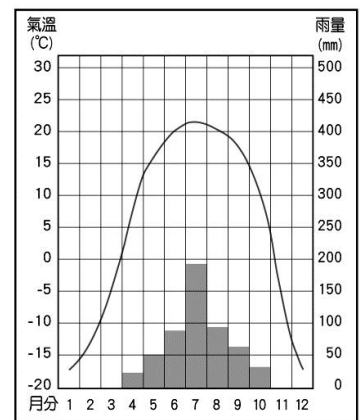
29、中國境內的文盲人數眾多，影響了國家的生產力，下表為 2008 年中國境內幾個行政單位的文盲比例在全國中的排名，而此一現象凸顯出下列哪個人口問題？ (A)人口眾多 (B)城鄉移動 (C)教育資源不均 (D)結構失衡。

排名 (2008 年)	單位名稱	文盲比例 (%)
1	北京	3.11%
4	上海	3.97%
19	內蒙古	8.14%
31	西藏	37.77%

30、近年來，台灣經常得承受來自中國的沙塵暴，其沙源來自於中國北方沙漠，而考慮到臺灣的位置，哪個方向的季風會是沙子的攜帶者？ (A)東南季風 (B)東北季風 (C)西北季風 (D)西南季風。

31、右圖為中國某地的氣候圖，請判斷此氣候類型該出現在中國的何處？

(A)北京 (B)上海 (C)香港 (D)烏魯木齊。



32、2017 年時一份調查報告指出，目前中國單身人口近兩億，其中，單身男子「一妻難求」的現象嚴重，此問題還在持續惡化，未來將引發一系列的社會問題，請問此報告的研究主題為何？(A)性別比失衡 (B)少子化 (C)高齡化 (D)城鄉移動。

33、生活環境所能供養生物數量的能力以及能分解穢物的能力各地不一，請問下列何處此種負載力應該最強？(A)青藏高原 (B)內蒙古高原 (C)長江三角洲 (D)東北平原。

【公民科】第 34-50 題

34、下列框框為本校的住址。依據我國地方自治的法規，校址所呈現的地方自治團體有幾個？

住址：112 台北市 北投區 林泉里 001 鄰 新民路 10 號
(甲) (乙) (丙) (丁)

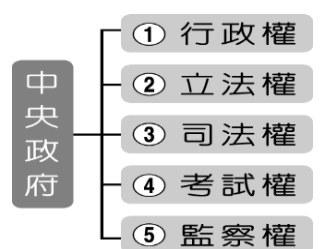
(A)甲乙丙丁 (B)甲乙丙 (C)甲丙 (D)甲。

35、承上題，學校位址所屬的地方行政機關與立法機關依序配對，下列何者正確？ (A)台北市議會—台北市政府 (B)台北市政府—台北市議會 (C)北投區公所—北投區民代表會 (D)林泉里辦公室—林泉里民代表大會。

36、(2018/10/21)上個月台鐵普悠瑪列車發生重大翻車傷亡事故，為了預防憾事再次發生，後續相關調查事宜以及補救，政府相關單位如火如荼持續提出改善措施方案。而事實上，台灣鐵路的收入屬於政府的何項收入來源之一？

(A)規費收入 (B)財產收入 (C)租稅收入 (D)公營事業收入。

37、我國中央政府的權力分立，如右圖；而地方政府只擁有部分權力，依據所學，請判斷出地方政府只擁有哪些權力？ (A)①② (B)④⑤ (C)②③ (D)①②③。



38、依據我國《憲法》對於中央政府與地方政府兩者的權限畫分採「均權制度」，請判斷出以下哪些項目是屬於「因地制宜」地方政府的職權？(甲)養護福爾摩沙高速公路 (乙)施打流行感冒疫苗 (丙)舉辦北投溫泉季 (丁)新南向政策開放東南亞國家旅客來台免簽利多 (戊)2018 新北市歡樂耶誕節 (A)甲乙丙 (B)乙丙丁 (C)乙丙戊 (D)丙丁戊。

39、右圖為政府機關的海報宣傳單，請問：此海報展現出政府哪一項經濟角色？

(A)保障私有財產 (B)維持經濟秩序 (C)提供公共財 (D)縮短貧富差距。



40、我國國道高速公路自民國 63 年 7 月開始收費，從以前的線柵欄式「計次收費」現在全面實施「計程電子收費」，最主要的原因之一是實現用路人期待之「走多少、付多少」公平付費制度。根據內容判斷，我國國道收費應是依據下列哪一項原則來執行？ (A)受益原則 (B)外部成本 (C)機會成本 (D)負擔能力原則。

41、下列是三位行政首長的發言內容：甲縣縣長：「感謝縣議會的支持，本縣領先全國引進熱氣球活動，創造商機。」乙市市長：「因應颱風來襲，為維護市民財產安全，本市今晚開放市區紅線停車。」丙縣縣長：「未來是否在本縣設置觀光賭場，我們將交由縣民以公投方式決定。」上述三位首長的發言內容，最足以彰顯下列何項概念？

【107 會考】

(A)中央集權 (B)責任政治 (C)三權分立 (D)地方自治。

42、宗榮在這次九合一地方選舉當選為市長後，他發現市政府的財源嚴重不足，影響他未來的市政工作推動，他與市府團隊想到的開源措施如右表，其中何者是藉由「公共造產」方式達成目的？

項目	開源措施
甲	推出城市形象廣告，吸引觀光客來
乙	向中央政府多爭取統籌分配款項
丙	增設公有運動中心，向使用者收費
丁	向議會提案立法開徵肥胖稅

(A)甲 (B)乙 (C)丙 (D)丁。

※新聞時事閱讀題：第 43-50 題，每題 2 分

①以攤位數來計，北投市場是全台北市最大公有傳統零售市場，有 600 個攤商，每天餵飽買菜的、加上賣菜的不知多少家庭多少張嘴。根據市場處的統計，公有市場裡的攤販有百分之九十都是在地人承租做生意的(甲)，可說真的是最有在地文化的地方。在這裡買東西的人大多也是同住在北投的鄰居，鄰居賣鄰居，當然是物美價廉，CP 值高的第一首選。市場內一樓主要販賣的是蔬果生鮮、飲料攤；二樓則以肉類、熟食便當小吃為主。 【資料來源：北投說書人、中央社】



43、文中(甲)的部分屬於政府的何項收入？(A)財產收入 (B)舉債收入 (C)罰款 (D)租稅。

44、台北市北投區公所就位於北投市場旁，請問：在此辦公的北投區長產生方式與下列何者相同？

(A)新北市烏來區 (B)桃園市復興區 (C)高雄市那瑪夏區 (D)新竹市香山區。

②2018 年 11 月 3 日至 2019 年 4 月 24 日臺中世界花卉博覽會，展區總共有三個：后里馬場森林園區、豐原葫蘆墩公園，以及外埔永豐園區。其實最初在規劃時，僅預計在后里設置單一個完整的展區，但因 2014 年時，此地出現珍貴保育動物石虎的蹤跡，為了不破壞石虎棲息地，決定縮減部分園區面積，另覓外埔及豐原 2 個園區來補足空間。



2018 臺中世界花卉博覽會
聆聽花開的聲音

自開幕以來，平均每天都有 5 萬多人入園參觀，帶來相當多的觀光人潮。事實上，國際花卉博覽會的存在，一開始是為了追求國際級的園藝生產利益，以及促進園藝技術的精進，而台中這次讓地於石虎、繞道予古木，還致力保存馬場園區歷史建物的作法，皆獲得 AIPH(國際園藝生產者協會)高度認同，不但把該作法收入正式官方文件，當成未來世界各大城市舉辦花博的參考典範，更主動將「台中國際花博」升等更名為「台中世界花博」。

資料來源：台中花博官方網站

45、從文中「_____」底線文字敘述得知，台中市政府舉辦此次博覽會，主要實現下列哪些地方自治工作項目？

(甲)安全衛生 (乙)教育文化(丙)經濟建設(丁)社會福利 (A)甲乙 (B)乙丙 (C)丙丁 (D)甲丁。

46、請問此次花博的門票收入，可增加台中市政府的哪一類財源？(A)地方稅收 (B)公益捐款 (C)自行籌措 (D)中央補助。

47、從文中得知，台中市政府為了不影響石虎的保育而讓地，保存古木而繞道，彰顯生態保育精神，請問：台中市政府的做法發揮政府何項功能？(A)維持經濟秩序 (B)改善所得分配 (C)提供公共財 (D)處理外部效果。

③11 月 24 日我國剛舉辦完「2018 九合一地方選舉」，此次選舉：(甲)直轄市長；(乙)直轄市議員；(丙)縣(市)長；(丁)縣(市)議員；(戊)鄉(鎮、市)長；(己)鄉(鎮、市)民代表；(庚)村(里)長；(辛)直轄市山地原住民區長；(壬)直轄市山地原住民區民代表。

48、從地圖中判斷出「和平區」的公民在選舉當天可以同時拿到哪些選舉票？(A)丙丁庚 (B)甲乙庚辛壬 (C)丙丁戊己庚 (D)戊己庚辛壬。

49、我國依據「均權制度」所分的中央與地方權限原則，此次九合一選舉中各行政首長候選人，不應該出現何項政見發表 (A)增購我國飛彈防禦系統 (B)一區一老人日間照護中心 (C)推動與國際城市交流活動 (D)加碼生育津貼。

50、見右圖，小君是該區域的公民，當天可以同時拿到哪些選舉票？

(A)甲乙庚 (B)甲乙丙丁庚 (C)甲乙庚辛壬 (D)丙丁戊己庚。



試題完成，記得再檢查一遍答案卡與試卷，並務必將自己的答案抄寫於題目卷上，以利試後檢討。