

臺北市新民國中107學年度 第一學期 九年級社會領域 第二次段考試卷

九年 _____ 班 座號： _____ 姓名： _____

一、單一選擇題(每題 2 分，總分 100 分)

【歷史科】第 1-17 題

- 1、「在混亂的時代中，他以今日法國地區為基礎，建立帝國，頒行制度，獎勵文教，為當時帶來一股新氣象。雖然他是日耳曼人，卻被教宗加冕為『羅馬人的皇帝』。」前述內容應是指下列哪一位統治者？
(A)屋大維 (B)查理曼 (C)君士坦丁 (D)查士丁尼。【97 基測】
- 2、承上題，此君主於八世紀末時建立龐大的帝國位於右圖何處？
(A)甲 (B)乙 (C)丁 (D)戊。
- 3、君士坦丁大帝為了保護帝國的東邊不受敵人的攻擊，他決定在博斯普魯斯海峽西岸建立一座新的首都，整個城市如同一座天造地設的要塞，易守難攻，且擁有優良的海港，又是通往亞洲水陸兩線的交匯處。請問：這個城市是位於今日哪一個國家境內？
(A)敘利亞 (B)西班牙 (C)土耳其 (D)黎巴嫩。
- 4、西元十一世紀時，基督教的分裂是當時歐洲的大事，下列何者**不是**當時基督教會決裂的主要原因？
(A)為了爭奪教會領導權 (B)對教義的解釋不同 (C)宗教儀式的看法不一 (D)不滿教宗加冕查里曼。
- 5、某公司經理為了拓展市場，搭機到泰國曼谷考察業務，然後利用假期到卡達杜哈(位於西亞)亞運會場為中華隊加油，最後前往德國法蘭克福拜訪客戶。在他所停留的三個都市中，**最不容易**看到下列哪一種宗教建築？
(A)佛教寺廟 (B)印度教寺廟 (C)基督教教堂 (D)伊斯蘭教清真寺。【97 基測】
- 6、右圖為十二世紀左右，某場軍事行動的進攻路線圖，圖中的「甲」則為進攻的目的地。從圖中的訊息判斷，這場軍事行動最可能是下列何者？
(A)蒙古西征 (B)日耳曼入侵 (C)十字軍東征 (D)亞歷山大東征。
- 7、小宏在研究中古歐洲在十五世紀時，人口突然大量的減少了很多的議題，他歸納出一些因素。請問：其中下列何者最有可能？ (A)霍亂 (B)瘧疾 (C)鼠疫 (D)天花。
- 8、西元十四至十六世紀世紀的文藝復興運動，源於義大利半島，是當時盛行歐洲各地的文化復古運動，不僅促進近代歐洲文化的形成，更開啟歐洲的新紀元。請問：歐洲的文藝復興運動的主要內涵為下列何者？
(A)闡明教義，重新體會基督教精神 (B)應用科學精神，解決社會問題
(C)提倡科學方法，建立科學宇宙觀 (D)以人為本，肯定人生現世的價值。
- 9、馬基維利是文藝復興時期的學者，他在其著作「君王論」中主張君王應擺脫不切實際的道德規範，為達目的，可以不擇手段。請問：馬基維利的政治學說與中國春秋戰國時期哪一派思想相近？ (A)法家 (B)墨家 (C)道家 (D)儒家。
- 10、西元十五世紀時，卡斯提爾公主伊莎貝拉與亞拉岡王子斐迪南聯姻後，將下列哪一教派殘餘勢力趕出國境，奠定王權國家的基礎。至西元十六世時，兩國合併，發展為西班牙王國？
(A)希臘正教 (B)伊斯蘭教 (C)羅馬公教 (D)婆羅門教。
- 11、西元十四世紀時，右圖中歐洲哪兩個王國，因為王位繼承問題，爆發百年戰爭。戰爭後，兩國逐漸發展成為王權國家？ (A)乙丙 (B)丙丁 (C)丁甲 (D)甲乙。
- 12、老師在課堂上講解大航海時代某個航海家的事蹟，並於黑板上畫了右圖的航海路線圖，說明在西元 1487 年時，某位航海家率領船隊發現圖中的「★」，寫下航海史的一頁。請問：老師講解的內容是下列哪一位航海家的事蹟？ (A)達伽馬 (B)麥哲倫 (C)哥倫布 (D)狄亞士。
- 13、地理大發現對於西方國家在海外的拓展帶來一定程度的影響，例如美洲農作物便是隨著地理大發現傳播到亞洲地區。玉米、馬鈴薯、番薯等農作物傳入中國，對當時糧食不足的問題，有緩解作用。請問：美洲的農作物傳入中國是正值下列哪一個朝代？ (A)漢朝 (B)唐朝 (C)明朝 (D)清朝。

◎請閱讀短文，並回答下列問題：

莊園是以城堡為中心，經濟上採自給自足的方式。城堡兼具防禦與軍事功能，在蠻族入侵西羅馬的時代，城堡確實維護了人民安全。城堡主人儼然成為莊園的領導者，再加上他身為貴族，很自然地便居「領主」地位，其他的人則是「附庸」。領主有徵稅及司法審判的權利；一般民眾則是在莊園內辛勤耕種的農民，他們信仰基督教，要為領主服勞役，修橋、鋪路、修繕城堡等等，甚至出征，簡直跟「農奴」一樣，終生附著在土地上，連遷徙的自由都被剝奪。

隨著社會秩序穩定，經濟復甦，帶動城市發展，民中生活改善，領主的權威地位逐漸失去光環。此外，遠從中國來的火藥，改變了傳統的作戰方式，原本固若金湯的城堡，變得不堪一擊，更加速領主統治地位的崩解。(節錄自翰林出版社的「必識歷史知識」)

14、由上述短文得知莊園內最主要的生產活動為下列那一選項？ (A)工業 (B)商業 (C)漁業 (D)農業。

15、「遠從中國來的火藥，改變了傳統的作戰方式，原本固若金湯的城堡，變得不堪一擊，更加速領主統治地位的崩解。」請問：中國火藥最早在何時西傳？ (A)十字軍東征 (B)蒙古人西征 (C)鄭和下西洋 (D)地理大發現。

◎請閱讀短文，並回答下列問題：

中世紀後期，因瘟疫盛行的關係，基督教徒變得十分虔誠及迷信。當時的宗教利用教徒對死亡與地獄的恐懼，開始販售贖罪券，將贖罪券說成是通往天堂的門票。西元 1517 年，馬丁路德公開反對羅馬教廷販售贖罪券。他深信要上天堂，只能靠上帝的恩典和自己的信心，不能靠教會或行善，更不能靠贖罪券。

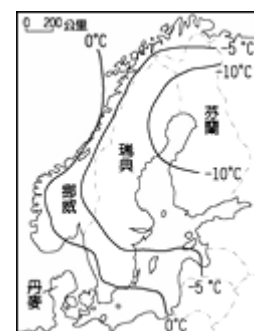
馬丁路德被判為異端分子和罪犯後，他的一些有權勢的朋友和支持者紛紛伸出援手，保護馬丁路德免於被抓。馬丁路德則繼續宗教改革運動，並把聖經翻譯成德文，讓更多的老百姓可以看得懂聖經的內容。之後，馬丁路德的聖經譯本不僅在德國廣泛流傳，更促成德國語言、文字的統一。(節錄自翰林出版社的「歷史大哉問—世界篇」)

16、由上述短文內容可得知，西元十六世紀初，馬丁路德為何會在威丁堡發表「九十五條論綱」，開啟了日後一連串的宗教改革運動？ (A)捍衛傳統基督教的勢力 (B)協助教宗改革教會的陋習 (C)對天主教教會的腐敗感到不滿 (D)聯合政治領袖藉機打擊教宗。

17、「明代後期，耶穌會傳教士來到中國，他們利用西方知識作為傳教手段，開拓了中國士人的視野。」當時這些傳教士自歐洲來華的主要背景為何？ (A)受啟蒙運動影響，主動傳播科技 (B)面對新教的挑戰，積極推廣舊教 (C)至聖地朝拜受阻，爭取盟國協助 (D)挾社會主義勢力，擴張傳教據點。【99 基測】

【地理科】第 18-33 題

18、北歐的緯度雖高，但其 1 月分月均溫分布如右圖所示，該地區氣溫分布的最主要的影響因素為下列何者？ (A)西風 (B)地形 (C)洋流 (D)緯度。



19、「歐洲地區的某個海域因其石油與天然氣的產量豐富，如同亞洲地區的南海，也因該海域內的石油豐富而遭受到各國覬覦」。文中所敘述的是下列哪個海域？ (A)北海 (B)北極海 (C)地中海 (D)波羅的海。

20、東歐哪一個國家位於德國與前蘇聯兩大強國之間，因此在第二次世界大戰時，飽受戰火摧殘？ (A)捷克 (B)波蘭 (C)匈牙利 (D)羅馬尼亞。

21、多瑙河的長度比萊茵河長，流經的國家數也比萊茵河多，但是多瑙河的航運價值卻遠低於萊茵河，主要原因是下列何者？ (A)多瑙河的汙染嚴重 (B)多瑙河的水位變化太大 (C)多瑙河注入黑海 (D)多瑙河泥沙容易淤積的。

22、電子大廠鴻海在 2000 年即前往捷克投資生產，更在 2002 年完成新廠房的擴建，成為歐洲市場的蘋果電腦生產基地。請問：鴻海公司前往捷克設廠的主要原因為何？ (A)勞資便宜、關稅優惠 (B)研發重鎮、技術進步 (C)氣候優良、位置適中 (D)技術進步、資金充足。

23、小傑收到阿奇到某國修煉的明信片(右圖)。請問：由圖中呈現的景觀特色，阿奇最有可能是到哪一個國家？ (A)俄羅斯 (B)英國 (C)德國 (D)法國。



24、「藍香蕉(Blue Banana)」的概念是 1989 年法國地理學家羅歇·布呂內(Roger Brunet)所提出，分布由英格蘭北部至義大利北部，夜晚時分從太空觀看歐洲時，會出現一道光弧，這道光弧猶如藍色 X 光射線，故稱之為『藍香蕉』，是歐洲經濟核心地帶。其分布與下列哪些因素有關？ (甲)便利的河流航運線 (乙)煤鐵豐 (丙)豐富的石油蘊藏量 (丁)地中海型農業發達。以上正確的是： (A)甲乙 (B)乙丙 (C)丙丁 (D)甲丁。

◎整合題：

※右圖為俄羅斯地形簡圖。請問：

25、俄羅斯哪一區因地勢平坦且氣候條件較佳，成為俄羅斯的精華區？ (A)甲 (B)乙 (C)丙 (D)丁。



26、右圖中丙、丁兩地區中間的山脈為？ (A)阿爾卑斯山 (B)烏拉山 (C)庇里牛斯山 (D)本寧山。

※右圖一是歐洲主要國家的區域圖，請問：

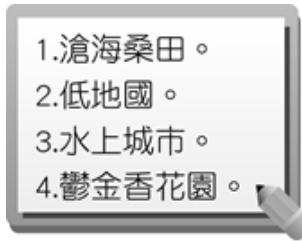
27、該國所生產的鐘錶產品體積小(如下方圖片)，可以節省原料進口與產品運輸的成本，該國家位於右邊地圖中何處？ (A)甲 (B)乙 (C)丙 (D)丁。



28、著名的汽車廠牌『BENZ』、『AUDI』、『BMW』(如右方圖片)還有通訊大廠『西門子』等都是國際的大品牌，這些品牌都有良好的口碑，精密耐用。請問：這些品牌都是出自右上圖中的哪一個國家？
(A)甲 (B)乙 (C)己 (D)庚。



29、曾恩參加地理猜謎遊戲，要依據地理特徵猜出國家名稱，他拿到的提示如右圖所示。請問：曾恩的正確答案應是右上圖中的哪個歐洲國家？
(A)甲 (B)戊 (C)庚 (D)辛。



30、右方圖案是某個歐元區國家發行的歐元硬幣，硬幣正面圖案上是著名音樂家阿馬迪厄斯·莫札特，象徵該國是一塊音樂的土地，音樂藝術氣息濃厚。試問此歐元發行的國家為右上圖中的哪一國？
(A)甲 (B)乙 (C)丙 (D)丁。



※右圖是北歐五國的區域圖，北歐五國的居民善於利用自然環境，生活最安定。請問：

31、北歐五國的自然環境優美且地形景觀豐富，每年夏季時都會有許多的郵輪前往該處，欣賞特殊的峽灣地形景觀。右圖中哪一個國家以深邃壯觀的峽灣海岸地形最為著名？
(A)甲 (B)乙 (C)丙 (D)丁。



32、「該國火山活動頻繁，冰河地形發達，漁產為其最大宗的出口貨品；除了海洋漁業外，居民也充分利用地熱和溫泉等資源，從事養殖漁業。」上文所指的國家最可能是下列何者？
(A)甲 (B)乙 (C)丙 (D)戊。

33、有關聖誕老人的故鄉——芬蘭，下列敘述何者正確？

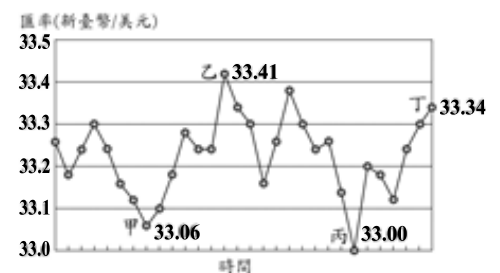
- (A)「峽灣王國」、維京人故鄉 (B)「千湖國」、通信產業聞名 (C)IKEA 家具、紙漿出口國 (D)「歐洲牧場」、畜牧業發達。

【公民科】第 34-50 題

34、WTO（世界貿易組織）致力於開放市場及自由貿易，我國入會後，對國內的經濟可能有什麼影響？

- (A)消費者選擇商品種類減少 (B)國內蔬果價格將上升 (C)政府提高關稅，保護國內產業 (D)缺乏特色的產業需要轉型。

35、悅悅因商務用途，定期定額以新臺幣兌換美元，右圖是悅悅的兌換紀錄，圖中顯示在不同的時間點以 1 美元兌換新臺幣的比率。僅根據圖中內容判斷，若以新臺幣為衡量單位，甲、乙、丙、丁四個時間點，何者兌換點最為划算？



- (A)甲(B)乙 (C)丙 (D)丁。

36、「屏東黑珍珠蓮霧全省知名，但一台斤也不超過百元，現在嘉義縣 梅山鄉推出特有種黑霸王蓮霧，種於海拔 200 公尺左右的山坡地，空氣好，水質佳，產量有限，最大重達一台斤，一顆三百元，在一般菜市場買不到，目前想購買的民眾，已需提前幾個月預訂才行。」根據上述，黑霸王蓮霧的價格如此昂貴，主要原因為下列何者？

- (A)銷貨收入不足 (B)有形的手哄抬 (C)品種產量稀少 (D)消費人數增加。

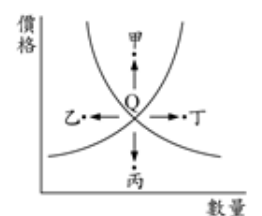
37、轟影娘與精兒想打造門派的獨門暗器，右表為他們所能做出的數量，若轟影娘在製作飛刀上具有絕對利益，但依比較利益法則，他卻負責製做吹箭。根據上述內容判斷，右表中的甲、乙最可能為下列何者？

	飛刀	吹箭
轟影娘	10	乙
精兒	甲	4

單位：個/小時

- (A)甲：4，乙：2 (B)甲：8，乙：15 (C)甲：2，乙：8 (D)甲：8，乙：6。

38、美中貿易戰也影響到中國廢紙進口，中國的廢紙供應源從美國轉為日本，造成日本供應吃緊，若以右圖形來看，日本廢出口廢紙製品瓦楞紙的價格應會朝何點方向變動？



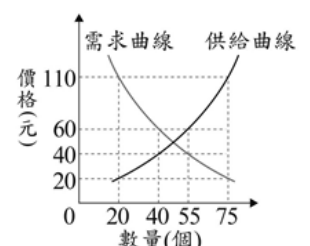
- (A)甲 (B)乙 (C)丙 (D)丁。

39、孫權在咖啡店買了一杯 35 元的咖啡。前述 35 元屬於經濟活動循環簡圖中的何者？

- (A)咖啡店的銷貨收入 (B)咖啡店的生產成本 (C)消費者的所得收入 (D)咖啡店的整體利潤。

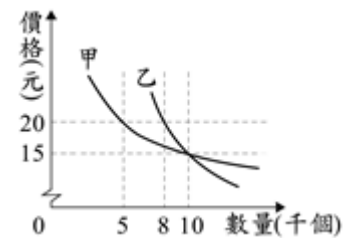
40、中國大陸開放油品加工市場，國際大型石油公司大舉進軍設置加油站，臺塑企業主管則指出：「臺灣成品油內銷市場占有率，至今尚未與中油有效的拉近，一般成品油廠商經營成本相對較高，未來進入大陸市場若達不到一定的市場占有率，則經營更加困難，故不宜貿然前往大陸投資。」請問：臺塑石油主要是考量下列哪一項因素？

- (A)生產者人數 (B)成本的回收 (C)產品的價格 (D)政府的政策。



41、右圖是依某店家招牌商品的市場供需狀況所繪製的圖形，根據圖中訊息判斷，此項招牌商品在下列四種定價時，何者為店家帶來的銷貨收入最高？ (A) 20 (B) 40 (C) 60 (D) 110。

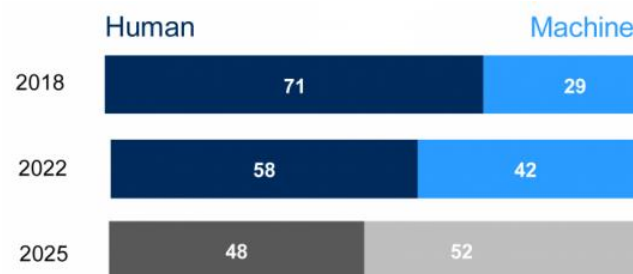
- 42、如花趁著雙 11 光棍節特價活動時，大筆網購某品牌化妝品，希望能修飾自己的容貌，但使用後才知道被誇大不實的廣告騙了。請問：如花購買化妝品的交易行為是在哪些市場中完成？ (甲)生產要素市場；(乙)有形市場；(丙)無形市場；(丁)商品市場。 (A)甲乙 (B)丙丁 (C)乙丁 (D)甲丁。
- 43、無花國中央銀行宣布 10 月國際貿易活絡，順差達 114 億美元，為歷來最高紀錄。由上述新聞報導來看，下列何者說法正確？ (A)10 月貿易總額進口 > 出口 (B)容易造成國家通貨緊縮 (C)順差可能是因生產技術大幅提升 (D)該月無花國國內市場供給 > 需求。
- 44、2013 年，巴西幣貶值，幣值創四年來低點，連帶影響該國的進出口貿易。若其他條件不變的情況下，此幣值波動對巴西咖啡產業造成的影響，下列何者正確？ (A)巴西為出口國，此種波動不利咖啡出口 (B)巴西為出口國，此種波動有利咖啡出口 (C)巴西為進口國，此種波動有利咖啡進口 (D)巴西為進口國，此種波動不利咖啡進口。
- 45、右圖是根據市場調查結果所繪製出的需求曲線圖，某公司打算藉此結果為甲、乙二種不同產品訂價。若此公司隨時備有足夠產品可供應市場所需，則依圖中內容判斷，該公司採用下列何種價格組合的銷貨收入最高？ (A)甲、乙產品皆為 15 元 (B)甲、乙產品皆為 20 元 (C)甲產品 15 元，乙產品 20 元 (D)甲產品 20 元，乙產品 15 元。



※閱讀題：

世界經濟論壇 (WEF) 在 2018 年《未來就業報告》(The Future of Jobs Report) 指出，世界正在經歷一波「職場革命」，如下圖未來職場工作量，顯示未來將徹底改寫人類和機器的協作方式。

技術的革新也為就業結構帶來天翻地覆的轉變，企業實施自動化作業將大幅增高，預估在 2022 年前，可能有 7500 萬名勞工會因此失去工作。然而，新科技的發展也同時將刺激 1 億 3300 萬個新職缺出現，因此未來 5 年間的工作機會總數，其實不減反增。



- 46、由上述，未來的工作機會總數，其實不減反增。以此來看，在社會變遷之時，下列何者是企業經營時最需重視之處？ (A)減少資本投資 (B)自然資源的保育 (C)重視勞動資源素質 (D)產品的行銷包裝。
- 47、由上述，企業以機器取代人力以提高獲利。請問這是指用下列何種方式來增加效益？ (A)降低產品生產成本 (B)刺激商品的研究開發 (C)增加生產資源需求量 (D)增加消費者購買力。

自美國啟動對中國貿易戰後，人民幣兌美元匯率就持續快速貶值，市場預期人民幣「破 7」(7 兌 1 美元) 是遲早之事。而人民幣貶值，在相當程度上抵消美國加徵關稅效果，加上人民幣貶幅大幅超過同期間其他國家貨幣對美元貶幅，反而有助大陸出口。根據大陸海關最新統計，和去年比較，今年 10 月大陸總出口增長 15.6%，累計前十個月總出口增長 12.6%；10 月對美國出口增長 13%，若從 4 月關稅戰爆發起算，已連續七個月顯著增長，但大陸自美國進口則呈減少趨勢，美中貿易問題反更形擴大。

- 48、由上述市場預期匯市走勢來看，人民幣兌美元匯率持續快速貶值，下述何者正確？ (A)美國進口大陸財貨更顯便宜 (B)大陸人至美國旅遊較以往划算 (C)中國對美貿易逆差情形持續擴大 (D)美元與人民幣兌改由有形的手掌控。
- 49、大陸人至美國旅行需兌換美金，以便在當地花費。請問：貨幣在上述行為中發揮了哪一項功能？ (A)交易媒介 (B)價值衡量 (C)儲存價值 (D)延遲支付。
- 50、由上述內容來看，美國加徵關稅最主要的目的為何？ (甲)減少與大陸貿易的赤字 (乙)增加與大陸的國際貿易 (丙)促進雙方貿易活絡 (丁)保護美國國內產業。 (A)甲乙 (B)乙丙 (C)丙丁 (D)甲丁。

試題完成，記得再檢查一遍答案卡與試卷，並務必將自己的答案抄寫於題目卷上，以利試後檢討。