

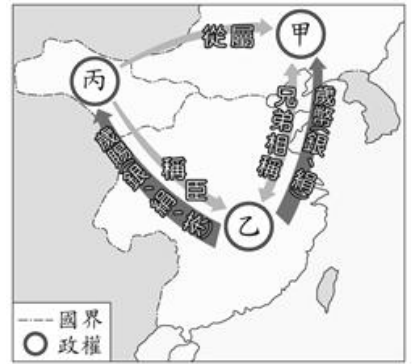
# 臺北市立新民國中107學年度 第一學期 八年級社會領域 第三次段考試卷

八年 \_\_\_\_\_ 班 座號：\_\_\_\_\_ 姓名：\_\_\_\_\_

## 一、單選題(1-50題，每題2分。)

### 【歷史科】第1-16題

- 1、從唐朝中期以來，地方藩鎮擁兵自重，中央無力加以干涉。宋太祖鑒於這種弊病，進一步推行「強幹弱枝」的基本國策，以削弱地方權力，加強中央集權。宋太祖雖解決藩鎮割據的問題，但北宋的兵額卻有增無減的現象，主要原因為下列何者？ (A)國君統治無能 (B)諸侯擴張地盤 (C)外患日益增多 (D)地方治安敗壞。
- 2、宋神宗時，任用王安石推行變法改革，結果變法失敗，對當時政局產生何種不利的影響？ (A)朝臣紛爭加劇，政治紊亂 (B)帝位爭奪激烈，政局不穩 (C)造成外戚專權，朝政敗壞 (D)導致外族入侵，國勢衰微。【95基測】
- 3、北宋滅亡後，宋高宗南遷偏安，面對金人的威脅，朝臣意見又相左，宋高宗最後採行下列哪一項政策，處理金人入侵的問題？ (A)聯合西夏，夾攻金人 (B)重用武將，打擊金兵 (C)鼓勵通婚，民族融合 (D)停止作戰，宋金議和。
- 4、右圖是北宋時期與外族間的情勢圖，由圖中的資訊判斷，「丙」應為下列哪一國？ (A)金國 (B)西夏 (C)蒙古 (D)遼國。
- 5、「此一朝代版圖遼闊，境內民族複雜，蒙古、女真、契丹、高麗、漢族等族雜居；加上先前的軍事行動，曾經遠達西亞、歐洲，帶回突厥、波斯、幹羅思(俄羅斯)及東歐各族人士。上述情況使得此朝代族群繁多，遠遠超過其他時期，在中國史上可謂獨一無二。」此一朝代最可能是下列何者？ (A)漢朝 (B)唐朝 (C)元朝 (D)清朝。【105會考】。
- 6、下列宋代哪一項發明，使航海技術大為進步，經由阿拉伯人傳往西方，成為後來西方地理大發現的重要配備？ (A)指南針 (B)印刷術 (C)火藥 (D)造紙術。
- 7、中國某時期的政府推出新的賦稅措施：「把田賦、力役和其他雜稅合編為一條，統一按田畝核算徵收，原來按丁戶徵役的辦法也一併攤入田畝」，這樣的方式果然使得政府財政略有起色，但是在改革者死後政策無以為繼，並且加上黨爭不斷，使得政局更加敗壞。請問：上述內容中所指的改革者應是下列何人？ (A)王安石 (B)司馬光 (C)張居正 (D)李自成。
- 8、明初貨幣原以紙幣為主，後來因為下列哪一項因素，使得白銀逐漸取代紙幣？ (A)政府大量製作白銀 (B)紙幣製作過程複雜，成本過高 (C)政府禁用紙幣 (D)對外貿易出超，白銀大量輸入。
- 9、下列清朝哪一位皇帝在位中期以後，因揮霍無度，財政日漸困難，加上官員貪污腐敗，人民生活困苦，清朝逐漸走向中衰？ (A)清太宗 (B)清聖祖 (C)清世宗 (D)清高宗。
- 10、中國歷史上有一段時期，讀書人考試的文章格式與內容被嚴格規定，有些人一旦會「兩句破題，三句承題」就洋洋得意，宣稱自己必能步入仕途。上述情形反映出哪一種選才任官制度的弊病？ (A)官學取士 (B)九品官人 (C)八股取士 (D)孝廉薦舉。【92基測】
- 11、某一本章回小說寫到：「政治的黑暗、官場的腐敗、世風的輕薄以及父子、兄弟、妻妾、主僕之間錯綜複雜的人事糾葛和矛盾衝突，交織於此書之中。……聰明靈秀的賈寶玉和心思細膩的林黛玉，展開了一段淒美的愛情故事。」請問：根據上文內容判斷，這是下列哪一本章回小說的劇情？ (A)水滸傳 (B)三國演義 (C)紅樓夢 (D)聊齋誌異。
- 12、清雍正皇帝即位後，因為下列哪一項因素，下令全面禁教，導致中國對外交流中斷？ (A)傳教士密謀反清復明 (B)傳教士涉及宮廷政爭 (C)傳教士抗議受到不平等對待 (D)傳教士拒絕行跪拜禮。
- 13、在中國歷代帝王中，若以「北魏孝文帝」、「元世祖忽必烈」、「清聖祖康熙」三人為對象進行比較，下列哪一段比較結果是正確的？ (A)他們都因為尊崇中國文化而全面徹底漢化 (B)他們都是外族在中國所建之政權的統治者 (C)他們都實施種族隔離政策以確保統治地位 (D)他們都曾遷移首都，以利掌控擴大的疆域。【100基測】



### ◎請閱讀短文，並回答下列問題：

「清明上河圖」是北宋徽宗時張擇端的畫作，歷時十年完成，宋徽宗非常喜愛，親自在這幅畫上題上「清明上河圖」五個字。中國城是在唐以前，實行「坊市制度」將住宅區(坊)和商業區(市)分離，兩者間築有牆垣，不易交流發展，而且方式出入與營業時間，政府都有嚴格規定。到了宋代開始有了轉變，廢除了「坊市制度」，商業活動不再受限制，民眾可以自由活動營業，出現了「夜市」，一時間商業興盛，熱鬧非凡。

「清明上河圖」描繪的熱鬧景象，正是北宋廢除「坊市制度」後商業、貿易發達的首都，各種景象栩栩如生，畫面多元自然。首都憑藉漕運之力，各地貨物往來方便，商品雜貨會集，好不興盛。可惜，北宋末年的「靖康之禍」後，女真人大肆破壞，城內已難恢復往日的熱鬧景象。



「清明上河圖」提供我們了解北宋時百姓生活的原貌，也讓我們見識到中國宋元時期高度的繪畫水準。(資料來源：翰林歷史大哉問-中國篇)

- 14、根據上述短文的内容，「清明上河圖」是描繪北宋首都的熱鬧景象；請問：北宋首都位於右圖何地？(A)甲 (B)乙 (C)丙 (D)丁。
- 15、根據上述短文内容的判斷，由下列哪一選項項可得知「比起唐朝的城市生活，宋朝時顯得活潑有生氣多了」的說法？(A)坊市分離，生活有秩序 (B)寶鈔的使用，加速了經濟的發展 (C)瓦子裡的歌舞表演，生動活潑 (D)營業時間不受限，夜市熱鬧非凡。

◎請閱讀短文，並回答下列問題：

明初中國的航海事業相當發達，明成祖永樂3年，指派鄭和為使者，帶領一支船隊出使西洋，從蘇州劉家港出發，經福建沿海揚帆而下。鄭和下西洋總計7次，歷時28年，足跡遍及西洋30多個國家，最遠曾抵達非洲的木骨都束國(今非洲索馬利亞一帶)。

鄭和下西洋，最初的動機是為了尋找惠帝，沒想到一趟政治之旅，卻促成中國與南洋各國商業貿易的交流，不僅為明朝的航海事業開啟了序幕，同時也奠定華人移民南洋的基礎。在此之前，明朝的國威還沒能傳揚南洋，但在鄭和之後，已成為南洋各地人口中的泱泱大國與貿易交流的對象。(資料來源：翰林歷史大哉問-中國篇)

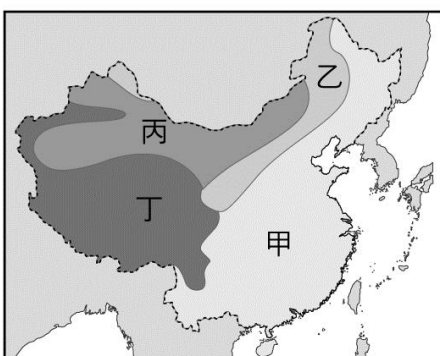
- 16、根據上述內容判斷，鄭和下西洋所造成的影響不包括下列哪一項？(A)發展與南洋各國的文化交流 (B)促成國家的聲威遠播 (C)成就明清長期的海上霸業 (D)奠定華僑在東南亞的基礎。

※【地理科】第17-33題

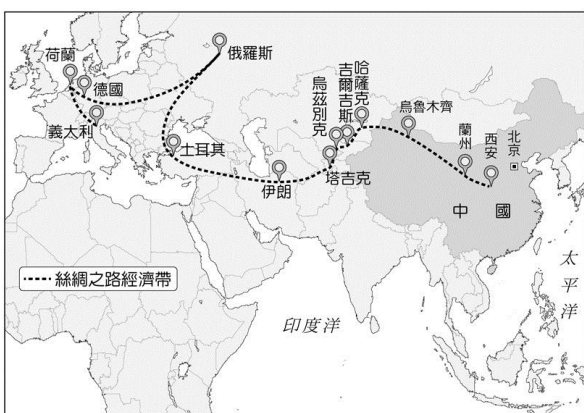
- 17、在新疆山區及青藏地區盛行的季節性垂直移動畜牧方式中，通常在什麼時候必須驅趕牛羊上下山？(A)春上秋下 (B)夏上春下 (C)秋上春下 (D)冬上夏下。
- 18、中國農作物收穫次數各地不同，主要受哪一項因素影響？(A)風向 (B)溫度 (C)雨量 (D)土壤。
- 19、附圖為中國農牧業的分布圖，由圖可判斷施行農業的地區和哪種氣候類型分布最吻合？(A)高地氣候 (B)草原氣候 (C)沙漠氣候 (D)季風氣候。



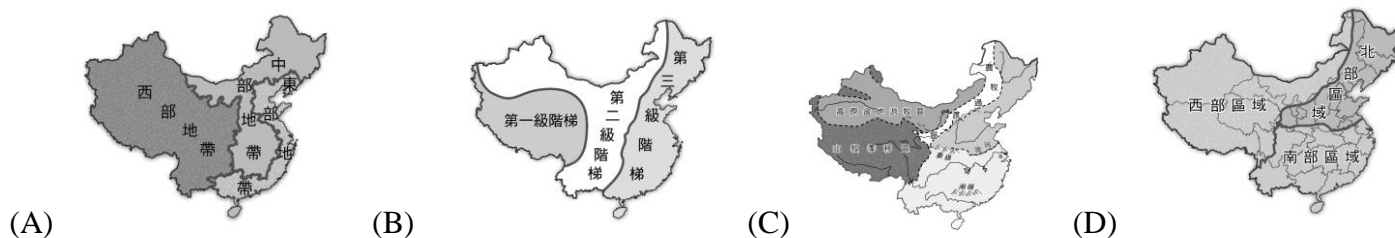
- 20、在氣候類型的分布圖裡，哪種類型最可能出現居民利用高山融化的雪水灌溉，耕種土地以生產糧食、棉花、水果等作物？(A)甲 (B)乙 (C)丙 (D)丁。



- 21、附圖為中國「絲綢之路經濟帶」示意圖，根據附圖判斷，下列區塊何者不在中國「絲綢之路經濟帶」的經濟發展版圖內？(A)中亞 (B)東南亞 (C)歐洲 (D)西亞。



- 22、現今中國東部經濟帶的產值能夠最高，主要和 (甲)勞工數量 (乙)能源充沛 (丙)交通便利 (丁)土地面積 中的哪些優勢條件有關？ (A)甲乙 (B)乙丙 (C)甲丙 (D)丙丁。
- 23、中國面對資源不足問題時經常使出區域互補的政策，而京杭大運河在中國際出的哪一項政策中扮演重要角色？ (A)西氣東輸 (B)西電東送 (C)北油南運 (D)南水北調。
- 24、不同的依據可以劃分出不同的中國地圖，若以經濟發展程度高低為基礎可能畫出下列哪張地圖？



- 25、青藏鐵路的建設為中國重大的世紀工程之一，在青藏鐵路的建設過程中，當地某種環境特性最易造成建築下陷問題而讓學者專家擔心。該地區所謂的環境特性指的是？ (A)土質鬆動 (B)凍土問題 (C)黃土遍布 (D)土壤液化
- 26、奕辰是居住在中國南部的農民，單純考量氣候條件，他最可能選擇種植下列哪組作物？ (A)棉花、高粱 (B)青稞、棉花 (C)甘蔗、茶葉 (D)甜菜、玉米
- 27、中國因應沙塵暴問題所採取的對策中，下列何者正確？ (A)三北防護林 (B)退牧還耕 (C)退林還耕 (D)退田還湖
- 28、建峰腳上穿著某運動品牌的 ultra boost 系列潮鞋，意外發現上面寫著 made in China，請問這正好符合中國過往有哪種稱號的形象？ (A)世界市場 (B)時尚中心 (C)名牌源地 (D)世界工廠
- 29、中國擁有的總資源經常在全世界名列前茅，但是換算成人均平均值時總是顯得匱乏，其根本原因是？ (A)地形複雜 (B)人口眾多 (C)氣候惡劣 (D)開發度低
- 30、2016年中國社會消費品零售總額 33 萬 2316 億元人民幣，比上年增長 10.4%，與此同時網路消費 2016 年時中國網路零售額 5.16 萬億元人民幣，較去年更增長了 26.2%。請問上述事實都證明了中國已經具備哪一項吸引投資的誘因？ (A)市場 (B)資金 (C)交通 (D)技術

◎請閱讀短文，並回答下列問題：

據了解，2016 年全國棉花種植面積 4385.1 萬畝，其中黃河流域棉區植棉面積為 832.8 萬畝、長江流域棉區植棉面積為 574.7 萬畝、西北內陸各棉區總植棉面積為 2928.1 萬畝。其中某棉區估計總產 369.5 萬噸，占全國總產量 77.28%，該區的種植地位為全國第一，雖然價格浮動，但成交平均價格可以在 14000~16000 元/噸上下，替該區帶來頗為豐厚的收益，而豐收的農作背後卻隱藏著在沙漠氣候施行農作可能帶來的土地問題

改寫自中國棉花網

- 31、請問文中所指的全國第一產區最可能指的是？ (A)長江三角洲 (B)華北平原 (C)新疆 (D)珠江三角洲
- 32、請問文中所指該產區的最大的土地問題可能是？ (A)地層下陷 (B)鹽鹼化 (C)土壤汙染 (D)沙塵暴
- 33、承接上題，為何此種土地問題容易在該地生成？ (A)過度抽取地下水 (B)氣候導致土壤無植物保護 (C)農耕大量施肥與噴灑農藥 (D)過度灌溉加上強烈蒸發

※【公民科】第 34-50 題

- 34、根據右圖對話，請判斷該國的黨制屬於何種型態？ (A)一黨專政 (B)一黨獨大 (C)兩黨制 (D)多黨制。
- 35、承上題，下列哪一項是此種政黨類制的缺點？ (A)執政效率高但容易忽視少數民意 (B)政策不易取得共識，容易效率低 (C)沒有監督力量 (D)民眾的政策選擇性少。
- 36、下表是四個前往投開票所的民眾及他們身上攜帶的物品，請問：根據我國相關法規，哪一個人可以順利進場投票？

(A)丞凱	(B)暉稜	(C)淳樺	(D)謙慧
身分證、印章、照相機	健保卡、投票通知單	身分證、健保卡	印章、自然人憑證



- 37、右圖是中央選舉委員會的宣導海報，這是加強宣導何項原則？ (A)普通 (B)平等 (C)直接 (D)無記名。
- 38、下列為四位有參政權利的公民，請依他們的敘述來判斷其年齡，並由小至大排出正確的順序？ (甲)重浩：我今年剛好可以選立委 (乙)逸凡：我今年剛滿縣(市)長的年齡 (丙)宏緯：我是史上最年輕的總統候選人 (丁)柏慈：再過一年，我就可以參選鎮長了！ (A)甲乙丙丁 (B)甲乙丁丙 (C)甲丁乙丙 (D)乙丙丁甲。
- 39、下列哪些活動屬於「政治參與」？(甲)參加英語歌曲比賽 (乙)參加反空污遊行 (丙)出席候選人造勢場合 (丁)參加北投區里民公聽會 (A)甲乙丙 (B)乙丙丁 (C)甲丙丁 (D)甲乙丁。



40、右圖是我國某選舉選票樣式。請問：由選票內容判斷，這是我國所舉辦的何項選舉？

(A)總統副總統 (B)立法委員 (C)縣議員 (D)鎮民代表。



41、承上題，有關此種選舉制度的敘述何者**錯誤**？

(A)將選出 113 席次 (B)採單一選區兩票制的選舉制度  
(C)政黨票得票比例超過 5% 的政黨，可照比例分配全國不分區席次 (D)選舉制度和總統相同。

42、國內目前於內政部登記政黨的數目多達 341 個，但多數為「一人政黨」或「殭屍政黨」並未正常運作，未來依《政黨法》規定政黨如果連續四年未依法推薦候選人參加選舉或未召開黨員大會，將廢止備案。請問：此規定在強調政黨哪一個功能？(A)培育與甄選政治人才 (B)組織政府與監督政府 (C)匯集民意與服務選民 (D)教育民眾增進民主知能。

43、(2018/11)『20 多個環團，如：健康空氣行動聯盟、綠色公民行動聯盟、南部空污大聯盟、荒野保護協會、主婦聯盟等，首度北中南接力，分別於台北、高雄、台中三地輪番舉辦「2018 反空污大遊行」。要求政府急速減碳、減煤，拯救中南部空污災民，終結一個天空、兩個台灣。』下列敘述何者正確？(A)上述的聯盟成立目的是執政 (B)除了遊行外，環團也可用關說來達成他們的訴求 (C)利益團體藉各種方式向政府施壓，以影響公共政策的制定，又被稱為壓力團體 (D)可判斷上述聯盟、協會都是爭取自身利益的利益團體。

44、甲、乙、丙三人的居住地資料如右表，近日三人分別向當地選出的民意代表陳情，希望他們能反映民情。根據表中資料判斷，此三人所陳情的對象，最可能分別為下列何者？(A)甲：市民代表，乙：市議員，丙：立法委員 (B)甲：市議員，乙：市民代表，丙：立法委員 (C)甲：立法委員，乙：市民代表，丙：市議員 (D)甲：市議員，乙：立法委員，丙：市民代表。

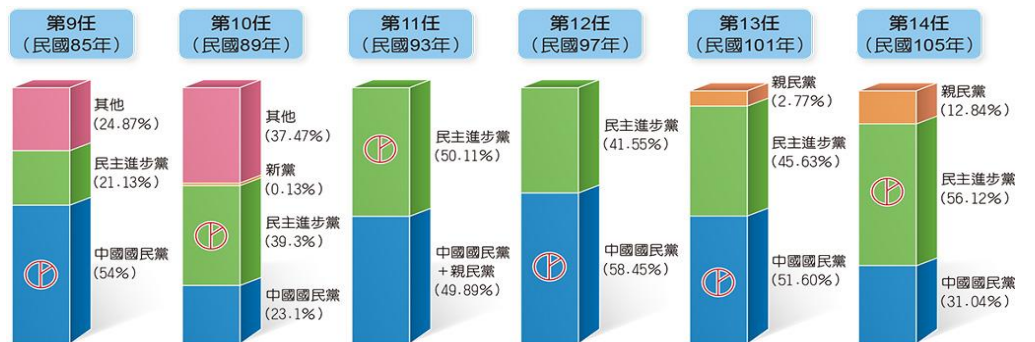
居民	居住地
甲	高雄市
乙	新竹市
丙	花蓮縣花蓮市

【106 會考】

45、右表 5 人當中，有資格成為此次九合一地方選舉候選人的有幾位？(A)1 人 (B)2 人 (C)3 人 (D)4 人。

甲	辦理歸化，領取身分證滿半年的 40 歲新住民
乙	被褫奪公權的 30 歲
丙	監護宣告中的 65 歲退休企業董事長
丁	來台灣工作已 10 年的 38 歲新加坡籍歌手
戊	22 歲大學畢業生

46、右圖為我國自開始民選總統以來，「歷任總統大選各政黨之得票率」直條圖，根據圖中訊息判斷，下列何者選項之敘述，最能說明我國民主政治的演進歷程？(A)第一次「政黨輪替」是發生在第 10 任總統大選 (B)逐漸由「兩黨制」走向「多黨制」(C)目前是第四次政黨輪替 (D)我國只有兩個政黨存在，勢均力敵、交替執政。



右表為 2018 全國性十公投的投票結果，請回答以下題目：

47、下列有關公民投票的敘述，何者**錯誤**？(A)公民投票是對事情的投票 (B)公民投票是公民選舉權與罷免權的展現 (C)公民投票可分全國性的公投和地方性公投 (D)《公民投票法》是公民投票的法源依據。

48、年滿 18 歲、具有中華民國國籍的聖傑，其居住所在地即將舉行公民投票，但他卻沒有收到投票通知單，無法參與這次的選舉，請問：最有可能的原因是下列何者？(A)未滿 20 歲 (B)被褫奪公權 (C)未設籍所在地 6 個月以上 (D)未設籍所在地 4 個月以上。



2018年美國期中選舉

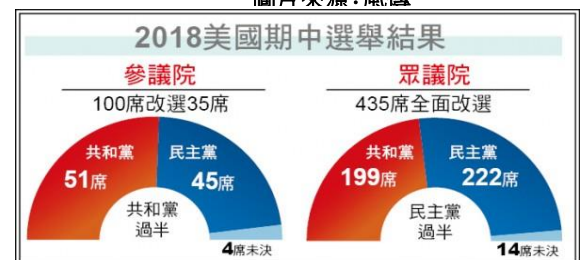


國會

眾議院435席全數改選  
拿下218席才能掌控國會

參議院共100席  
35席改選

圖片來源：風傳



圖片來源：新聞自選輯

2018 年美國中期選舉(2018/11/6)日前舉辦完成，本次選舉被視為 2020 年美國總統選舉的風向指標。美國兩大國會：眾議院所有 435 個席位和參議院 100 個席位中的 35 個席位都在這次選舉中改選。另四十個地方首長也於此日選舉出來，此次期中選舉的結果如右圖：

49、從圖表中得知，此次參眾兩院期中選後結果仍呈現出屬於下列哪一種政黨類型？(A)一黨獨大制 (B)一黨專政制 (C)兩黨制 (D)多黨制。

50、承上題，請問此種政黨類型的特色為何？

(甲)政策易落實效率高 (乙)反映多元意見 (丙)兩黨互相制衡  
(丁)無法反映各階層民意 (戊)行政效率不彰  
(A)甲乙 (B)丙丁 (C)乙戊 (D)甲戊。

試題完成，記得再檢查一遍答案卡與試卷，並務必將自己的答案抄寫於題目卷上，以利試後檢討。

