

臺北市立新民國中107學年度 第一學期 九年級社會領域 第三次段考試卷

九年 _____ 班 座號： _____ 姓名： _____

一、單一選擇題(每題 2 分，總分 100 分)

【歷史科】第 1-17 題

- 1、「但是當我把所有的思想都視為虛假的時候，我又立刻發覺，這個產生這種思想的『我』也是絕對重要的，因此才注意到『我思故我在』的真理是如此的穩固，如此的確定。因此，我決定毫不猶豫地接受它，作為我所尋求哲學的第一原理。」其講述這段話的人最有可能是下列何者？ (A)培根 (B)笛卡兒 (C)牛頓 (D)哥白尼。
- 2、科學革命出現在 16、17 世紀，不只促成科學的成長，並改變了人們的思考方式。科學家們在摸索出新的宇宙觀後，進而塑造了新的知識概念和新的人生觀。從科學革命的發展可知，這最早是源於科學家們突破哪一方面的傳統權威？ (A)政治概念 (B)教育制度 (C)天文觀念 (D)文學主張。
- 3、啟蒙運動思想家盧梭所著民約論的內容，有何重要且具原創性的主張？ (A)政府的權力是來自政府與人民簽訂的契約 (B)政府可隨意干涉人民的基本權利 (C)主張政府機構應分為行政、立法、司法三個互相獨立又互相牽制的部分 (D)建立一個絕對權威的政府來控制人民。
- 4、小彼得在西元 19 世紀的歐洲某國礦場擔任童工，每天工作十幾個小時，穿梭在狹窄汗穢的環境中，只能領微薄的薪水，如同小彼得這樣的童工還很多。當時的社會有些學者，站出來為這些弱勢的貧童發聲，要求發動階級鬥爭，打倒有產階級，平分有產階級的財產，給予弱勢群體活下去的權利。請問：這些學者提出的主張是屬於下列哪種思想範疇？ (A)民生主義 (B)自由主義 (C)理性主義 (D)社會主義。
- 5、西元十八世紀末以來，歐洲除了思想上有了改變，生產技術上也發生重大變革，史稱「工業革命」，影響遍及全世界。當時最早是以右圖何處為中心向外傳播？ (A)甲 (B)乙 (C)丙 (D)丁。
- 6、承上題，在工業革命後，上述工業革命發源地為了找尋產品在亞洲的銷售市場，占領下列哪一地方，做為他們的貿易據點？ (A)印尼 (B)新加坡 (C)印度 (D)菲律賓。
- 7、西元 17 世紀，英國曾發生過兩次革命，使得英國政治制度邁向新的里程碑。請問：當時革命的發生背景為下列何者？ (A)國王與國會意見衝突，引發革命 (B)國王過於專制，人民起而反抗專制政體 (C)連連對外征戰，人心思變 (D)為結束政權的紛爭，尋求統一。
- 8、在中國歷史上也曾在下列何時推動國體改革運動，想建立和英國光榮革命後一樣的政體？ (A)唐朝末年 (B)宋朝末年 (C)明朝末年 (D)清朝末年。
- 9、「西元 1860 年代是近代世界重大的變革時期，在這期間，北美洲的美國因區域產業發展型態的差異，國內在國家發展方針上出現歧見，引發嚴重的軍事對抗」依上文所述，美國當時正面臨下列何種局勢？ (A)處理黑奴問題，導致南北戰爭 (B)實施保護關稅，引發經濟大恐慌 (C)反省參戰後果，拒絕加入國際聯盟 (D)起草《獨立宣言》，準備向英國宣戰。〔99 基測〕
- 10、法國大革命爆發後，為何得不到國際支持，反遭到許多歐洲君主抵制，甚至組成聯軍進攻法國？ (A)要趁機消滅法國 (B)要防止法國國勢變強 (C)唯恐受到法國革命的波及 (D)要證明歐洲列強的軍事力量超越法國。
- 11、拿破崙向外擴張的軍事行動，最終雖然失敗，卻將下列何種精神，散播到歐洲各地？ (A)君權神授的主張 (B)開明專制的政體 (C)天賦人權的思想 (D)自由、平等、博愛的精神。
- 12、恩格斯曾說：「帝王們立刻在維也納開了一次大會，以便分配贓物和獎金，並商討能把革命前的形勢恢復到什麼程度。民族被買進和賣出，被分割和合併，只要完全符合統治者的利益和願望就行。」請問：根據恩格斯的話，維也納會議想依據下列哪項原則，重新恢復歐洲秩序？ (A)剝削原則 (B)正統原則 (C)和平原則 (D)均衡原則。
- 13、維也納會議後，法國又發生西元 1830 年的「七月革命」及西元 1848 年的「二月革命」，這兩次革命所帶來的影響為下列何者？ (A)專制政體成為其他國家施政主流 (B)增加歐洲各國在海外殖民地面積 (C)促使各國政府實施憲政體制 (D)恢復各國王室統治權力。



◎請閱讀短文，並回答下列問題：

凱薩琳二世在位 34 年，成就可與彼得大帝相提並論。她不是俄國人，而是日耳曼人，17 歲時嫁給彼得三世，但兩人性格差異太大，彼得三世知識貧乏又懦弱無能，凱薩琳則是聰明博學又熱情。西元 1762 年凱薩琳發動政變，推翻彼得三世，成為俄國的統治者。

18 世紀下半期，歐洲進入了「啟蒙運動時代」，理性主義受到重視。各國君主紛紛以「開明專制」相互標榜，凱薩琳二世也不例外，她與法國某啟蒙思想家曾書信往來。不過，她雖名為開明，但仍施行專制體制。

凱薩琳二世為了鞏固俄國在波羅的海的地位，採取循序漸進的策略，首先操作波蘭選王會議，接著與普魯士、奧國三次瓜

分波蘭，俄國取得大片土地。為了打開黑海進入地中海的通道，先後與土耳其發生兩次大規模的戰爭，最後奪得黑海出海口。

晚年凱薩琳二世念念不忘要成為世界霸主，甚至構想建立一個包含聖彼得堡、柏林、維也納、君士坦丁堡及亞斯特拉罕等城市的「俄羅斯大帝國」，也曾想要入侵波斯、中國和印度；她曾自負的留下名言：「假如我能活到兩百歲，整個歐洲將在我的腳下！」（資料來源：翰林出版社的「歷史大哉問」）

14、根據上文所述，西元 18 世紀時，俄國凱薩琳二世受到啟蒙運動的影響，雖然仍採取專制統治，但也同時施行了一些開明的措施，一切以富國強兵為目標。請問下列各項措施中何者**不是**凱薩琳二世的做法？

- (A)標榜宗教寬容 (B)發展文教活動 (C)絕對服膺教宗 (D)鼓勵言論自由。

15、文中提及與凱薩琳二世書信往來的法國啟蒙運動思想家是下列哪一人？ (A)洛克 (B)伏爾泰 (C)孟德斯鳩 (D)盧梭。

◎請閱讀短文，並回答下列問題：

根據湯瑪斯·傑佛遜等人起草的獨立宣言中提到，在人類發展過程之中，當一個民族必須解除和另一個民族之間的政治系帶，並卓然立於世界各國之間，尋求自然法與上帝的意旨所附於的獨力平等地位時，基於對人類全體的適切尊重，他們有必要將促使他們獨力的緣由予以揭示。

我們以為這些真理是不證自明的。所有的人生而平等，這是造物者賦予人們的不可讓渡權利，包括生命、自由，以及追求幸福。正是為了護衛這些天賦權利，人們才建造了政府。政府的正當權利，係來自被統治者同意，任何形式的政府，一旦傷害這些目的本身，人們便有權予以改造或斷然廢除，並重新建立一個新政府。其所依據的原則和組織其權力的方式，必須使人民最可能獲致他們的安全和幸福。（資料來源：臉譜出版社的「人類偉大的聲音---獨立宣言」）

16、根據上述短文提到：「所有的人生而平等，這是造物者賦予人們的不可讓渡權利，包括生命、自由，以及追求幸福。」這是引用了下列哪一位啟蒙思想家的學說主張？ (A)伏爾泰 (B)洛克 (C)孟德斯鳩 (D)盧梭。

17、北美十三州殖民地人民在爭取獨立戰爭期間，曾獲得下列那些歐洲國家的協助，轉敗為勝，獲得英國承認其獨立地位？

- (A)義、丹、比 (B)葡、奧、匈 (C)法、西、荷 (D)俄、土、德。

※【地理科】第 18-33 題

18、右圖是 1914 年為了慶祝通航，美國所發行的郵票，報紙的標題寫著：「大陸分割了，世界聯通了」從此，美國東西側距離大幅拉近，兩岸航程縮短一萬多公里。請問：此郵票發行是慶祝哪一項設施完工？

- (A)英法海底隧道 (B)蘇伊士運河 (C)中央大運河 (D)巴拿馬運河。



19、美國農業人口僅占總人口的 2.5%，但生產量卻十分龐大，小麥、大豆及棉花產量都占世界第一位，被稱為「工業化的農業」，其產品在國際市場上具有雄厚的競爭力，最主要得力於下列哪項因素？

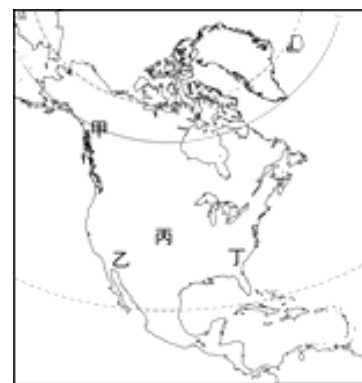
- (A)行銷成功 (B)政府補貼 (C)集約耕作 (D)大規模機械耕作。

20、北美自由貿易區成立後，墨西哥憑藉何種優勢吸引外資投資設廠、帶動該國的經濟成長？

- (A)高素質的勞動力 (B)農礦原料豐富 (C)充足的資金與技術 (D)工資低廉、關稅減免。

21、右圖為北美洲位置圖，哪個地區是歐洲人在北美洲最早殖民的地區，也是最早發展的工業帶？



- (A)甲 (B)乙 (C)丙 (D)丁。



22、黃石公園因從黃色巨石中湧出大溫泉而得名，是美國第一座國家公園，以溫泉、間歇噴泉聞名於世。這個現象與下列哪個事實關係密切？

- (A)位環太平洋地震帶 (B)四周山地高聳 (C)緯度過高 (D)西風終年吹拂。

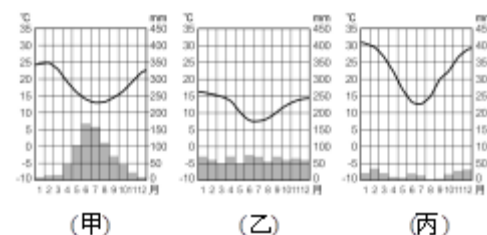
23、書豪今年在美國旅遊，將所到之處的城市特色及著名地標用鉛筆素描留念。下列他所畫的特色地標與城市名稱標記，何者有誤？ (A)NASA 總部-休士頓 (B)波音公司-西雅圖 (C)美國白宮-紐約 (D)好萊塢-洛杉磯。



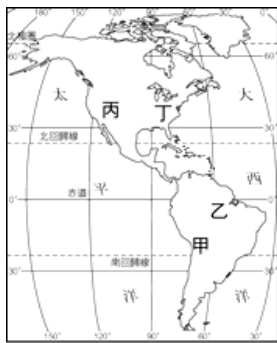
24、智利國土形狀十分狹長，氣候從北到南具有如左下附圖的三種類型，智利的氣候類型從北至南排序應為下列何者？

- (A)甲→乙→丙 (B)乙→丙→甲 (C)甲→丙→乙 (D)丙→甲→乙。

25、巴西的里約熱內盧、聖保羅與阿根廷的布宜諾斯艾利斯皆為人口超過 1,000 萬人的大都會。請問：這些都市的地理位置皆為下列何者？ (A)熱帶高地 (B)內陸盆地 (C)東南沿海 (D)赤道兩側。



- 26、安地斯山脈縱貫七國，為世界上最長的山脈，氣候隨地勢上升而呈垂直變化，為高地氣候。安地斯山脈位於下圖中何處？
(A)甲 (B)乙 (C)丙 (D)丁。

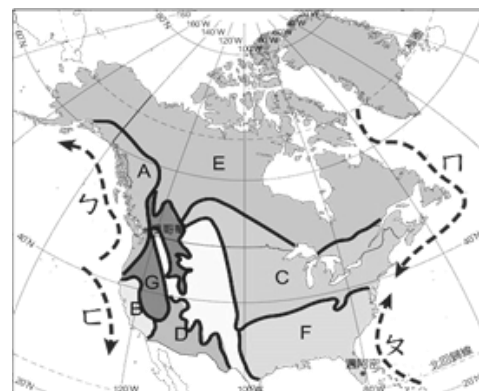


- 27、中南美洲的都市化程度相當高，顯示人口高度集中在大都市。造成此種現象的主要原因為何？
(A)鄉村推力強大 (B)政府政策鼓勵 (C)都市生活較舒適 (D)氣候影響。
- 28、拉丁美洲各國，經濟型態多是以農礦業為生，甚至有的國家僅以一種或兩種出口物產來支持半數以上的貿易收入。請問這些國家的經濟結構最大的隱憂為下列何者？ (A)礦產出口，工業屬勞力型密集型 (B)勞力外流，國內勞動力不足 (C)農產出口，國內糧需無法滿足 (D)經濟收入極易受國際市場價格之影響而起伏。

※整合題

- 北美洲氣候受緯度、地形、洋流及氣團的影響，呈現多樣化特性。請配合右圖北美洲氣候分區圖，回答下列問題：

- 29、圖中，C區為何種氣候類型？
(A)高地氣候 (B)溫帶大陸性氣候 (C)溫帶地中海型氣候 (D)夏雨型暖溫帶氣候。
- 30、風靡全球電影「暮光之城」，背景是美國西北部華盛頓州的福克斯鎮，位於圖中A區，那裡終年陰雨缺少陽光，正是故事中吸血鬼的最佳居住地點。請問故事背景屬於何種氣候類型？
(A)寒帶氣候 (B)溫帶草原氣候 (C)溫帶海洋性氣候 (D)溫帶地中海型氣候。



- 31、美國亞利桑那州的鳳凰城位於圖中D區，其NBA球隊名稱以太陽（Suns）為隊名，代表該地終年陽光強烈乾燥的溫帶沙漠氣候，請問：該地氣候的成因為何？
(A)位於西風帶背風側 (B)副熱帶高壓帶籠罩 (C)位於山脈的迎風面 (D)深居內陸距海遙遠。

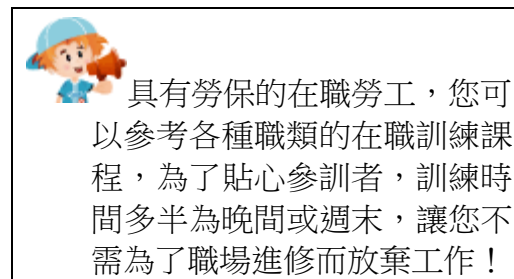
- 右圖為中南美洲簡圖。依據圖中資料研判，請問：

- 32、有「地球之肺」之稱，是世界上最大的動植物寶庫，但因人類為了解決人口增加所帶來的糧食短缺問題，大肆開發該地區，因而導致生態嚴重破壞，甚至影響全球氣候。請問：文中所指地區位於右圖中何處？ (A)甲 (B)乙 (C)丙 (D)丁。
- 33、承上題，請問：上述所指地區，最可能位於哪個國家境內？
(A)巴西 (B)加拿大 (C)阿根廷 (D)墨西哥。



※【公民科】第34-50題

- 34、右圖為某縣市的職訓宣導，請問此類職業訓練課程的最主要作用為何？
(A)提升勞工的就業意願 (B)靠關係幫勞工轉換職位
(C)減少縣市失業率 (D)協助勞工提升專業技能。
- 35、在我們的社會中，個人必須就業以獲得收入，才能滿足個人的消費欲望，並維持生計，下列哪位的情況是屬於經濟學上的失業狀態？
(A)今年考上研究所的華仔 (B)因為不景氣被迫裁員的學友
(C)農地休耕期間領政府補助的歐爸 (D)經營網拍的網紅豬排妹。
- 36、老師在教學中根據不同學生的認知水準、學習能力以及自身素質，選擇適合每個學生特點的學習方法來教學，激發學生學習的興趣，樹立學生學習的信心。這種作法與工作倫理中的哪種內涵最為相符？
(A)面對工作挑戰 (B)從事社會公益 (C)遵守專業倫理 (D)重視環境保護。
- 37、為保障勞工在職業訓練及失業一定期間有其基本的生活照顧，我國勞工可依據何種法律向政府申請津貼與補助？
(A)就業保險法 (B)全民健康保險法 (C)勞動基準法 (D)勞工退休金條例。
- 38、在下列各種理財工具中，請問何者較具有穩定、安全可靠，風險又低的性質？
(A)股票 (B)政府公債 (C)房地產 (D)外幣。
- 39、巴菲特在美元、歐元等貨幣貶值時，大量買進，待日後升值再賣出，賺取價差。巴菲特最有可能使用哪種投資工具進行理財？ (A)股票型基金 (B)債券 (C)房地產 (D)外幣。



40、范爺原本從事保險經紀人的工作，今年開始兼職美容產品的顧問，並擔任補習班企管行銷的講師，使得他年所得大幅增加，以上述范爺故事來看，請問以下敘述何者正確？ (A)所得大幅增加是因投資的成效 (B)兼職多項工作是理財中開源的方式 (C)兼職工作收入不納入所得稅計算 (D)在經濟循環中他擔任生產者的角色。

41、寶春打算進行定期小額投資，他希望理財工具有避險及抗通貨膨脹的功能。附表是他針對日前投資環境所作的評估，根據內容判斷，下列哪一種工具最符合他的理財需求？

理財工具	安全性	獲利性	說明
黃金存摺	★★★	☆☆☆	根據國際金價之變動而變動
股票期貨	★	☆☆☆☆	短期致富，風險高
共同基金	★★	☆☆	大小金額皆可
定期存款	★★★★	☆	可選擇長短期合約

(A)定期存款 (B)共同基金 (C)股票期貨 (D)黃金存摺。

42、企業經營目標來自於幫助他人達成他們自己的目標，也就是說，企業經營目標要建立倫理規範，並且在做每一件事情時都遵循並實踐這些規範，所謂的倫理規範，就是根據這句金科玉律：「己所不欲勿施於人」。上文所指的意涵應是指出下列何者的重要？ (A)工作倫理 (B)企業倫理 (C)環境倫理 (D)經濟倫理。

43、理財專家建議職場新鮮人：「確實紀錄自己生活中每一項收支，有助於家庭理財」。從這句話我們可以學到的意義為下列何者？ (A)基本理財工作要先瞭解自己的財務狀況 (B)消費＝收入，是最好的理財方式 (C)零用錢少的人就不需要記帳 (D)支出算得如此精細沒有任何意義。

44、老陳是一家化學公司的老闆，最近投資了龐大的費用改善廢水處理系統，他的作法表現了何種企業倫理？ (A)重視環境保護 (B)從事社會公益 (C)重視消費者權益 (D)保障員工權益。

45、企業家發揮企業才能所獲得的報酬稱為利潤。下列有關利潤的敘述，何者正確？(甲)利潤是勞動所得；(乙)利潤可以刺激生產活動；(丙)利潤是企業家承擔風險的報酬；(丁)利潤一定是正值 (A)甲乙 (B)丙丁 (C)乙丙 (D)甲丁。

46、下列關於理財的概念：(甲)善於理財的人，雖然收入不多，日子仍可能過得很好；(乙)理財不需要運用專業知識；(丙)善用理財工具可使財富增加；(丁)要先賺錢再學理財。上述正確的有幾項？ (A)四項 (B)三項 (C)二項 (D)一項。

47、「天有不測風雲，人有旦夕禍福。」日常生活中充滿了各種風險，即便是將預留的儲蓄存放在銀行，日後也可能產生形同財富縮水的情形。上述是在說明下列哪項情形？ (A)所賺到的利息收入比物價上漲程度多 (B)投資報酬率低的理財工具，其風險愈高 (C)窮人用勞力賺錢比不上富人善於理財 (D)所賺到的利息收入可能還不及物價上漲的幅度。

48、個人所得 — 儲蓄 = 支出。以上公式和下列哪項概念比較接近？

(A)雞蛋不要放在同一個籃子裡 (B)羊毛出在羊身上 (C)人生苦短即時行樂 (D)錢要花在刀口上。

※閱讀理解題：

附表是馬芸運用四種投資理財工具、投資資金與投資三年後獲利情形的比較表。

49、由表內數據可以得知，馬芸使用的投資理財工具中，何者的投資報酬率最高？ (A)甲 (B)乙 (C)丙 (D)丁。

50、若馬芸希望短期半年內有將收益擴至最大，將所有的薪水加入投資，並希望在此時間手頭上有現金運用，此時，可採用的理財工具為何？ (A)甲 (B)乙 (C)丙 (D)丁。

項目	工具	投資金額	收回金額
甲	股票	20,000	18,000
乙	存款	60,000	65,000
丙	保險	120,000	135,000
丁	房地產	1,800,000	2,000,000
單位：元			