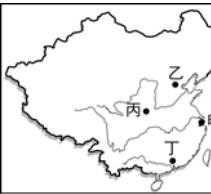




臺北市新民國中107學年度 第二學期 八年級社會領域 第一次段考試卷

八年 班 座號： 姓名：

一、單選題(1-50題，每題2分。)

※【歷史科】第1-17題

- 1、約翰是清末來中國的英國商人，某日他因故和中國老百姓起了衝突，且出手打傷圍毆他的中國人，受傷的中國百姓一狀告到官府，但官員卻表示無能為力。以上這種情況是由於英國人在華享有下列哪一項特權？ (A)片面最惠國待遇 (B)領事裁判 (C)行政自主 (D)協定關稅。
- 2、清道光年間，中國因鴉片戰爭失敗與英國簽訂南京條約，被迫開放通商口岸。請問：當時開放的通商口岸分布於下列哪個區域？ (A)黃河口以北沿海地區 (B)淮河沿岸內陸地區 (C)長江口以南沿海地區 (D)珠江沿岸內陸地區。
- 3、英法聯軍之役後，清廷同意各國公使可以入駐首都。此處的首都是位於附圖中哪個地區？ (A)甲 (B)乙 (C)丙 (D)丁。
- 4、承上題，英法聯軍之役後，臺灣也被迫開港通商，下列哪一位加拿大的傳教士抵臺傳播福音，將畢生的精力都奉獻給臺灣，除了引進新式的西醫制度，也建立學校教育臺灣的學子？ (A)利瑪竇 (B)湯若望 (C)馬雅各 (D)馬偕。
- 5、右圖中的甲、乙兩地為晚清時所喪失的廣大領地，這兩塊領地，是被下列哪一個國家趁英法聯軍之役時併吞的？ (A)俄國 (B)法國 (C)美國 (D)英國。
- 6、清朝的太平天國之亂是場牽動最廣、時間最長的民變；太平天國在為亂的過程中，如何吸引許多貧農的支持？ (A)主張男女平等的觀念 (B)反對傳統的儒家思想 (C)土地公有，計口授田 (D)宣揚天主教的教義理念。
- 7、洪秀全主導的太平天國起事後，開始在各地建立統治勢力，一路上勢如破竹，清軍毫無招架抵擋之力，清廷於是授命督撫在地方上組織地方鄉勇軍隊加以抵抗，最後由湘軍與淮軍共同平定亂事。請問：湘、淮二軍平定太平天國之亂後，出現了下列哪一種政治概況？ (A)使漢人的勢力大大提升 (B)滿人更加防範漢人地位的抬頭 (C)清朝重振八旗軍的實力 (D)外國勢力介入中國內政加深。
- 8、甲午戰爭後，國際社會見識到清廷的衰敗，西方列強對於中國的掠奪更加白熱化，紛紛劃分勢力範圍與強租港灣。請問：右圖中的丁區是下列哪一列強的勢力範圍？ (A)日本 (B)德國 (C)俄國 (D)荷蘭。
- 9、清光緒年間，美國提出「門戶開放政策」，其最主要用意為下列何者？ (A)維護中國領土主權完整 (B)保持中美間友好的關係 (C)顧及美國在華的經濟利益 (D)表達國際社會的公平正義。
- 10、甲午戰爭後，中國允許外國人在中國設廠製造，此一特權，除了日本外，各國亦可「援例享有」。此項「援例」的權利，是源於不平等條約的哪一項規定？ (A)片面最惠國待遇 (B)租界 (C)協定關稅 (D)領事裁判權。
- 11、康有為曾說：「能變則全，不變則亡；全變則強，小變仍亡。」康有為所謂的「變」，是指在下列哪一方面的變革？ (A)船堅炮利 (B)政治制度 (C)民生經濟 (D)思想文化。
- 12、承上題，「西元 1898 年，皇帝於是召見康有為，授六品卿銜，並令辦理京師大學堂、譯書局事務。但同年 9 月，改革失敗，康有為等在外國人的協助下逃亡日本。」文中的「皇帝」，應是下列哪一位清帝？ (A)雍正皇帝 (B)嘉慶皇帝 (C)咸豐皇帝 (D)光緒皇帝。

◎請閱讀短文，並回答下列問題：

英國迫切希望能打破清朝的閉關鎖國政策，消除英國對華貿易受到的限制，爭取能在北京派駐常任使節，但他們深知，直接提出這樣要求的使臣是不可能進入北京的，所以找了一個非常堂皇的理由：英國國王的賀禮「體積過大，機器精細，怕路上招致損傷」，因此清廷讓特使馬加爾尼的船隻改從離北京最近的天津上岸。馬加爾尼一行被清朝方面視為專長來向皇帝祝壽的「貢使」，所帶來的物品則是「貢物」。清廷皇帝為了顯示泱泱大國的風範，並深信英國人來中國無非是為了獲得賞賜，所以皇帝一再指示供應和賞賜從優。

馬加爾尼雖然勉強同意在載運使節團的船和車上插上「英國特使進貢」字樣的旗幟，但始終拒絕接受向中國皇帝跪拜叩頭的禮節。最後雙方因禮儀問題，不歡而散。中英兩國這場世紀的接觸，使英國了解到清朝的無知和自我封閉。馬加爾尼的訪華也成為西方對中國認識轉變的關鍵，英國使團回國後陸續出版了多種遊記，使中國從「馬可波羅遊記」以來建立的中國形象，開始產生了逆轉。(資料來源：翰林、康軒、南一教師手冊、時報出版的歷史課本沒寫出的隱情：那些帝王將相才子的苦痛)

- 13、文中描述英國為了改善雙方貿易，派遣了馬加爾尼使節團到中國來，最後因為禮節問題，未達成目標。請問：馬加

爾尼來中國時的是下列哪一位皇帝主政期間？ (A)雍正 (B)乾隆 (C)嘉慶 (D)道光。

14、從上述短文中得知當時中國對外皆抱持著下列何種態度？ (A)平等貿易 (B)崇洋媚外 (C)天朝上國 (D)以客為尊。

◎請閱讀短文，並回答下列問題：

自強運動是清廷最早的現代化嘗試，其範圍侷限於火器、船艦、機器、通訊、開礦和輕工業，缺乏仿效西方的制度、思想、和文化的面向。自強運動的努力僅僅觸及了現代化的表面，沒有獲得工業化的突破，這一根本缺陷在中法戰爭中已暴露出來，當時中國經過 20 年的改革努力，卻無法保護自己的藩屬國。西元 1894 年爆發的甲午戰爭，清朝戰敗，更證明了自強運動的失敗。(資料來源：翰林、康軒教師手冊)

15、根據上述短文：「這一根本缺陷在中法戰爭中已暴露出來，當時中國經過 20 年的改革努力，卻無法保護自己的藩屬國。」此處的「藩屬國」是指今天下列何地？ (A)印度 (B)泰國 (C)沖繩 (D)越南。

16、自強運動是清末中國第一個改革運動，改革過程中設立了許多新式機構，但是最後還是宣告失敗，探究其失敗的原因為下列何者？ (A)改革內容過於著重民生經濟，忽略軍事國防 (B)購買的西式武器不夠先進，數量不足 (C)外國勢力介入，阻擾改革活動的進行 (D)未有全盤的規劃，再加上守舊派人士的阻擾。

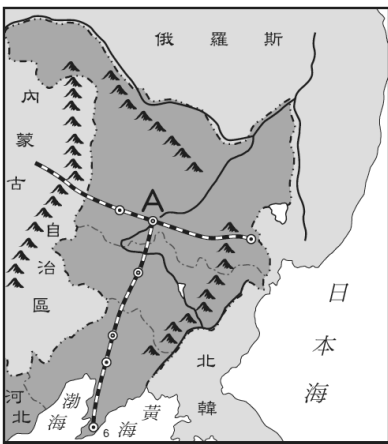
※【地理科】第 17-34 題

17、曾是中國歷史上三朝首都，並且近年已憑藉鄰近學術重鎮，而成為中國高科技中心，請問上述的城市應為何者？ (A)西安 (B)南京 (C)開封 (D)北京。

18、中國農作物收穫次數多可達三次，少則僅一次，下列哪個中國地理區的作物收穫次數可能最多？ (A)四川盆地 (B)三江平原 (C)珠江三角洲 (D)兩湖盆地。

19、觀光產業為目前世界各國競爭激烈的經濟活動，倘若臺北想要成為國際知名的免稅購物商城，最可能向中國哪個城市學習經驗？ (A)香港 (B)上海 (C)哈爾濱 (D)北京。

20、交通是現今都市發展最重要的關鍵因素，而東北亦有如附圖所示的「T」字形的鐵路網，請問下圖鐵路網中的交會點 A 地，應是下列哪個都市？ (A)大連 (B)哈爾濱 (C)長春 (D)青島。



21、「春城」昆明因其夏無酷暑、冬無嚴寒、氣候宜人，具有典型的溫帶氣候特點而出名，下列哪項為昆明有此美譽的原因？ (A)地勢高、緯度低 (B)居內陸、處背風 (C)緯度高、地勢低 (D)位沿海、迎季風。

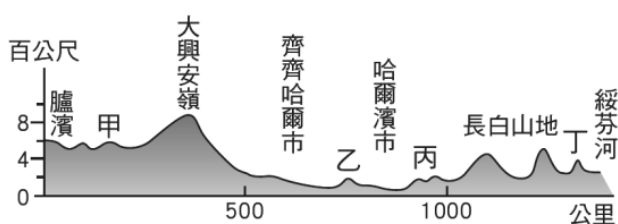
22、黃土高原是世界上最大的黃土堆積區，也是世界上黃土覆蓋面積最大的高原，其表面大量縱橫交錯的溝壑，使得黃土高原表面十分破碎，這樣的現象究竟與下列何者關係密切？ (A)風化作用 (B)季風強勁 (C)地殼變動 (D)黃河侵蝕。

23、洋山港位於杭州灣口的島上，目前不但已經進行第四期擴建，還成為全球最大的集裝箱自動化碼頭，但追溯其建設的原因竟是為了解決哪個港口泥沙淤積的問題？ (A)上海 (B)南京 (C)武漢 (D)重慶。

24、中國東部海岸與長江流域的交通大城就是像一副弓箭，而下列哪個都市剛好位於箭矢上，象徵其領導地位？ (A)天津 (B)上海 (C)重慶 (D)北京。

25、1980 年代中國推動經濟改革政策，設立「經濟特區」，成功帶動東部沿海的經濟發展，如今政策更延伸到整個沿海與沿江城市。請問最早的經濟特區的分布特色何處？ (A)渤海灣周圍 (B)長江三角洲內 (C)分散邊疆國界 (D)東南沿海。

26、下圖是東北的地形剖面圖，圖中哪個代號的附近降水量是東北地區少數可以破千的地點？ (A)甲 (B)乙 (C)丙 (D)丁。



- 27、中國東南為著名之僑鄉，起因於山多田少、人口眾多造成糧食不足，同時沿海多島嶼灣澳利於出海謀生，這些島嶼灣澳的成因最可能為何？
 (A)板塊擠壓 (B)海浪侵蝕 (C)海面上升 (D)河流堆積。
- 28、下面哪一項作用力是導致雲貴高原地面殘留許多峰林、地底產生許多特殊洞穴等的地形？
 (A)河水侵蝕 (B)溶蝕作用 (C)火山作用 (D)地殼變動。
- 29、中國歷代黃河下游的水患嚴重，明清時期曾有一個河道總督是專門管理黃河的，足見其嚴重性，但自 1970 年代斷流天數便開始逐漸增加，甚至曾高達一年兩百多天，追究其原因最可能是？ (A)降雨減少 (B)擷取過度 (C)河流改道 (D)氣溫驟降。
- 30、黃河素有中國的「能源流域」之稱，根據 1990 年統計，在全國已探明的 145 種礦產中，黃河流域有 114 種，其中更有一種能源礦的儲量占全國七成，請問這種含量冠居全國的礦物是？
 (A)石油 (B)天然氣 (C)鈾礦 (D)煤礦。

◎請閱讀短文，並回答下列問題：

〔即時新聞／綜合報導〕中國長江流域在 2016 上半年來已經歷 27 次強降雨，導致該國內部 10 個省共 625 個縣、市、區內超過 4900 萬名民眾成為受災戶，222 人因水災死亡，衍生的經濟損失更是高達人民幣 1030 億元（折合台幣約 4944 億元）。根據國外媒體報導，中國長江目前面臨嚴重程度與 1996 年相當的水患，中國 10 個省內共 625 個縣、市、區，大約 4919 萬名民眾淪為受災戶，並有 289 萬被緊急撤離，水災導致 11 萬幢房屋倒塌，毀壞的農作物面積達到 416 萬 7000 公頃，總損失大約為台幣 4944 億元。同時《美國之音》報導指出，此這次水災又一次引發了對於三峽大壩工程的質疑，比如上百萬移民的安置問題與破壞沿岸文物等等；如今，三峽工程本身的功能都遭到了質疑。北大法學教授賀衛方表示，當年論證三峽大壩的好處就是可以有效地控制水量；現在的情況正好反過來：乾旱時，大壩需要蓄水；開水災時，三峽卻需要泄洪。

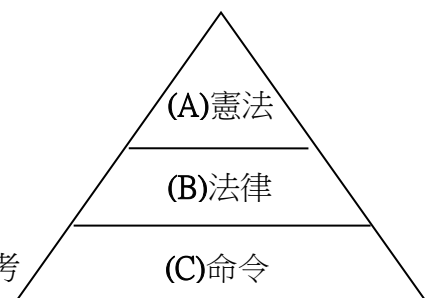
改編自 2016-07-13 自由時報與 2016-07-07 新唐人亞太電視

- 31、目前中國對於長江的治理方式，下列何者正確？(A)上游汙染控管 (B)中游築堤防 (C)下游建水庫 (D)上游水土保持。
- 32、請問三峽大壩當初的規劃應該具備哪些正面的功效？(甲)防洪 (乙)發電 (丙)生態保育 (丁)運輸 (戊)灌溉
 (A)甲乙丁戊 (B)甲丙丁戊 (C)乙丙丁戊 (D)甲乙丙戊。
- 33、請問長江水患的根本原因可能與下列哪些因素有關？(甲)上游濫墾 (乙)夏雨集中 (丙)圍湖造田 (丁)水壩設計不良
 (A)甲乙丁 (B)乙丙丁 (C)甲乙丙 (D)甲丙丁。

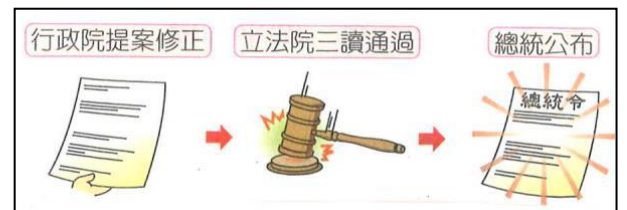
※【公民科】第 34-50 題

◎依所學，配合「法律三位階圖」回答以下 34、35 題：

- 34、《中華民國憲法增修條文》屬於何位階？
- 35、哪一層的法規需由立法院三讀通過，再由總統公布？
- 36、立法院於 2018 年修改我國的《公民投票法》，放寬 18 歲即有公民投票權，請問上述法律所保障的權利與何者 不同？(A)假日參加政黨遊行活動 (B)參加國家考試，報考司法官特考 (C)於「公共政策網路參與平台」提議酒駕致死可處死刑修法案 (D)登記參選台北市議員。



- 37、下列哪項法律的制定符合右圖的法規修正程序？
 (A)中華民國憲法 (B)少年矯正學校設置及教育實施通則
 (C)大學法施行細則 (D)國民中學成績考查辦法。



- 38、權力(power)與權利(right)是法治國家的兩大軸心，請問：下列用法何者 有誤？
 (A)警察有取締流動攤販的權力 (B)檢察官有權賦與提出公訴的權力
 (C)人民有受教育的權利 (D)立法院應有監督好行政院的權利。

- 39、右圖為勞動部修正《勞動基準法施行細則》部分條文，若由法律位階關係而言，此法規具有下列哪些特徵？(甲)其規範內容不可牴觸憲法及法律；(乙)為立法院通過，總統公布的法律；(丙)規定內容較為簡潔明確；(丁)性質上屬於法規命令；(戊)依行政程序法規定，內容應明確列出其法律授權依據。
 (A)甲丙丁 (B)乙丙丁 (C)甲丁戊 (D)丙丁戊。

中華民國 108 年 2 月 14 日
 勞動部令 勞動條 2 字第 1080130123 號
 修正「勞動基準法施行細則」第三十四條之一。
 附修正「勞動基準法施行細則」第三十四條之一
 部長 許銘春
 勞動基準法施行細則第三十四條之一修正條文
 第三十四條之一 勞工因遭遇職業災害而死亡或失能時，雇主已依勞工保險條例規定為其投保，並經保險人核定為職業災害保險事故者，雇主依本法第五十九條規定給予之補償，以勞工之平均工資與平均投保薪資之差額，依本法第五十九條第三款及第四款規定標準計算之。

- 40、崇育：「五月我要記得申報所得稅」，葦綾：「我準備要參選下屆里長」，宏緯：「八月時我需要接受常備兵役軍事訓練」，虹廷：「我準備參加今年的大學學測」，聖傑：「我收到了小學的入學通知」。根據上述內容判斷，請問有幾人正在履行中華民國國民應盡的基本 義務？
 (A)2 人 (B)3 人 (C)4 人 (D)5 人。

- 41、(2019/03/08 蘋果)「非洲豬瘟疫情燒，為防堵非洲豬瘟疫情傳入國內，中國大陸、香港、澳門直飛台灣班機旅客手提行李最早進行全面檢疫，另東南亞國家包含越南、柬埔寨、寮國及緬甸航班旅客的手提行李也列入全面檢疫之列，

日前新增來自泰國班機旅客手提行李，也得全面檢查，若有違規攜帶豬肉品，就會挨罰 20 萬元罰鍰。」請問：政府有此權力是因為《憲法》規定在何種目的下，政府得以依法限制人民的權利？

(A)防止妨害他人自由 (B)避免緊急危難 (C)維持社會秩序 (D)增進公共利益。

42、右圖是關於我國《憲法》中人民基本權利的分類，下列何者最適合作為「乙」注解的內容？

(A)回戶籍地投票區域立委補選 (B)增加中低收入戶津貼
(C)透過直播平台表達政策看法 (D)禁止因性別差異而同工不同酬。 【會考改編題】



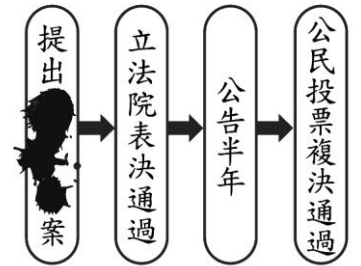
43、下表是訴願和請願的比較，何項有誤？

	(A)提起原因	(B)對象	(C)目的	(D)舉例
請願權	人民對國家政策、公共利益或自身權益的維護	行政機關或民意機關	要求撤銷或變更原處分	請求政府重視機車停車位太少問題
訴願權	行政機關違法或不當的行政處分	行政機關	僅為願望的陳述	公立學生不服學校發給畢業證書而向主管機關提起權利救濟

44、政府為因應失業問題，除了提供失業給付外，更積極協助失業者參與職業訓練，並提供就業資訊，以增加他們就業的機會。上述政府作為所要保障的人民基本權利類型，與下列何者最類似？ (A)接受國民教育提升國民素質 (B)組織政治團體表達民意訴求 (C)投票罷免失職民選公職人員 (D)遷移居住地至新工作地點旁。 【107 會考】

45、(2019/02/18 新頭殼)「包括地球公民基金會等環保團體不滿興達電廠要將濕地興建 3 座新燃氣組機，到高市府抗議，訴求救空氣護濕地及老舊機組提前除役，興達電廠說明是「鹽灘地」並非濕地。…環團認為 pm2.5 主要來自於燃煤電廠，訴求停止燃煤發電，原址改建燃氣機組，而不是將燃氣電廠建在濕地上。」上述中可以看出這些團體的訴求是為了爭取哪一權利的保障？ (A)人格權 (B)文化權 (C)隱私權 (D)環境權。

46、家家在書上看到某個程序的流程圖，但其中的部分內容卻遭到汙漬遮蔽，如右圖所示。根據圖中內容判斷，此圖應是下列何者的法定程序？ (A)《民法》修正案 (B)《憲法》修正案 (C)《會計法》覆議案 (D)總統、副總統彈劾案。 【106 會考】



(106/5/24)釋字第 748 號釋憲案：「民法第 4 編親屬第 2 章婚姻規定，未使相同性別二人，得為經營共同生活之目的，成立具有親密性及排他性之永久結合關係，於此範圍內，與憲法第 22 條保障人民婚姻自由及第 7 條保障人民平等權之意旨有違。有關機關應於本解釋公布之日起 2 年內(即 108/5/24)，依本解釋意旨完成相關法律之修正或制定。至於以何種形式達成婚姻自由之平等保護，屬立法形成之範圍。逾期未完成相關法律之修正或制定者，相同性別二人為成立上開永久結合關係，得依上開婚姻章規定，持二人以上證人簽名之書面，向戶政機關辦理結婚登記。」

47、依我國規定，此解釋內文為下列哪一個機關負責？ (A)立法院 (B)行政院法務院 (C)行政院大法官 (D)司法院大法官。

48、上述釋字中有關底線內容，強調得是憲法的何種特性？ (A)最高性 (B)固定性 (C)穩定性 (D)原則性。

【2018/11/9 中時電子報】立法院會今三讀通過《就業服務法》部分條文修正案，未來在雇主招募時，若職缺月薪未達 4 萬元，必須公開薪資範圍，禁止寫「薪資面議」，違者可處 6 萬到 30 萬元罰鍰。雇主也不能因為求職者的星座、血型等條件，歧視勞工，違者可處 30 萬到 150 萬罰鍰。

49、此次三讀修正通過的《就業服務法》，不僅讓求職者在薪資條件獲得更多保障外，也期望可帶動台灣社會整體勞工薪資提昇的作用。根據上述，該法實現法律哪幾項功能？ (甲)保障個人權利 (乙)維持社會秩序 (丙)促進社會進步 (丁)提升政府效能 (A)甲乙 (B)甲丙 (C)乙丙丁 (D)甲乙丙。

50、上述新聞中，有關底線部分內文強調的是，法治社會的何項特徵？ (A)法律無法規範人民的內在真實想法 (B)法律明確規定人民應該遵守的事項 (C)國家可以強制力來處罰違反法律者 (D)國家須依照一定的程序來制定法律。

試題完成，記得再檢查一遍答案卡與試卷，並務必自己的答案抄寫於題目卷以利於檢討。