


# 臺北市立新民國中107學年度 第二學期 九年級社會領域 第一次段考試卷

九年 \_\_\_\_\_ 班 座號：\_\_\_\_\_ 姓名：\_\_\_\_\_

## 一、單選題(1-50題，每題2分。)

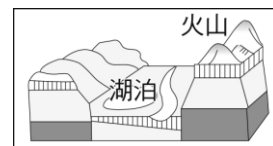
### ※【歷史科】第1-17題

- 小琪到巴爾幹半島旅行，準備要進入東正教教堂時，被導遊提醒要穿長褲或長裙，才能進教堂內參觀。請問：巴爾幹半島上會有東正教教堂是因該地曾被下列哪一個帝國統治過？  
(A)羅馬帝國 (B)俄羅斯帝國 (C)拜占庭帝國 (D)鄂圖曼土耳其帝國。
- 19世紀拉丁美洲各國紛紛獨立，當時推動玻利維亞、委內瑞拉等國獨立的玻利瓦曾說：「只有團結才能驅逐敵人，建立一個自由的政府。」玻利瓦所指的「敵人」應是下列哪一國家？ (A)美國 (B)英國 (C)義大利 (D)西班牙。〔93基測〕
- 西元1820年代的「門羅宣言」，與十九世紀末與二十世紀初的「門戶開放政策」，是美國史上著名的兩項外交政策；兩者有何相似之處？  
(A)都是一種睦鄰外交的具體表現 (B)都與美國為了自身利益有關  
(C)都透露出美國展現國際正義的企圖 (D)都是針對拉丁美洲提出的保護政策。
- 早期義大利一直無法建立中央集權的政府，長期受到強權國家的支配，直到19世紀終於建國。義大利統一運動中有一位人物早年參加過「燒炭黨」，後成立「青年義大利黨」，鼓吹義大利的統一。請問：上文所述是指下列何人？  
(A)加富爾 (B)俾斯麥 (C)加里波底 (D)馬志尼。
- 普魯士為完成國家的統一，不斷的透過軍事行動，一步一步的完成目標，最後在打敗位於右圖何處的國家後，成立了德意志帝國，完成統一？ (A)甲 (B)乙 (C)丙 (D)丁。  

- 西元1860年代以後，日本有識之士大力呼籲改革救國，以突破國家面臨的困境，下列哪一項最可能是當時改革派人士所提出的主張？  
(A)效忠幕府將軍，抵抗外來勢力的入侵 (B)實施君主專制政體，消除國內外反對勢力  
(C)提倡文明開化，學習西方制度 (D)振興傳統精神，挽救衰敗的封建社會。
- 西元十七世紀，日本實施「鎖國政策」時期，僅有兩個國家允許至日本貿易，除了中國外，還有下列哪一國？  
(A)荷蘭 (B)英國 (C)法國 (D)丹麥。
- 西元十九世紀中，「黑船來襲」將德川幕府的政權暴露在船堅炮利的威脅下，並簽訂日本近代第一個不平等條約—神奈川條約。請問：上述的「黑船來襲」是指下列哪一個國家首先以武力打開日本門戶，強迫開港通商？  
(A)英國 (B)法國 (C)德國 (D)美國。
- 章老師上音樂課時，向同學講解音樂所傳達的精神，如「英雄交響曲」表現出對英雄的崇拜感情、「田園交響曲」描述大自然的和諧與美麗、「命運交響曲」展現出與命運搏鬥的精神等。請問：這些作品最能代表歐洲哪一種文藝風格？  
(A)人文主義 (B)理性主義 (C)浪漫主義 (D)現實主義。〔91基測〕。
- 西方新帝國主義國家以鯨吞的方式瓜分了非洲國家的領土，到了十九世紀末僅剩兩個國家維持獨立。獨立的兩個國家中，哪一國位於東非？ (A)奈及利亞 (B)衣索比亞 (C)阿爾及利亞 (D)賴比瑞亞。
- 二十世紀時，奧匈帝國向塞爾維亞宣戰後，隔天，甲、乙兩國領袖互通電報，其部分內容如右圖所示，甲、乙兩國最可能是下列何者？  
(A)甲：俄國、乙：德國  
(B)甲：俄國、乙：法國  
(C)甲：法國、乙：德國  
(D)甲：法國、乙：俄國。〔103特招〕。  

甲國發出的電報	對塞爾維亞而言，這是一場卑鄙的戰爭。基於同為斯拉夫民族的立場，我國人民極為憤怒，而這種巨大壓力，將迫使我不惜走上戰爭之路。為了避免歐洲陷入戰火，我想求你，想辦法阻止你盟國奧地利的戰爭行為。	乙國發出的電報	我不認為奧地利對塞爾維亞的宣戰，是卑鄙的行動。因為奧地利根據過去經驗判斷，塞爾維亞所作的承諾完全不可靠。因此，在奧、塞的衝突中，我建議貴國不要支持塞爾維亞，保持旁觀，避免捲入歐洲這場最可怕的戰爭。
---------	--	---------	--
- 西元1914~1918年間爆發了一場大規模的戰爭，戰場遍及歐洲、非洲、中東地區等地，造成無以估計的人員物資的損失。戰爭初期美國對歐洲爆發的戰爭一直保持中立，直到西元1917年因下列哪一因素，使美國一反常態加入了這場戰事？  
(A)日本偷襲美國珍珠港，美國展開反擊 (B)法國向美國求助，美國才對德宣戰  
(C)美國為取得中國東北的權利，才同意參戰 (D)德國煽動墨西哥反美，並擊沉美國船隻。
- 老師請同學用精簡的話語介紹佛洛伊德的學術貢獻，下列哪一句話最適切？  
(A)發現萬有引力定律，奠定近代科學的基礎 (B)探索人的意識狀態，建構系統的心理學說  
(C)研究人類群體行為，提出重要的社會理論 (D)重新解釋物質運動，改變傳統的時空觀念。〔97基測〕。
- 第一次世界大戰期間，大批的婦女投入戰備工作與職場，維持社會的運作。戰後部分國家的婦女地位因而提升。請問：主要是指婦女獲得下列哪一項權利？ (A)繼承權 (B)教育權 (C)工作權 (D)選舉權。
- 第一次世界大戰主要戰場雖在歐洲，但衝突也延伸到海外殖民地，下列那一個國家因出兵中國的山東地區，而引發中國的抗議事件？ (A)英國 (B)丹麥 (C)日本 (D)法國。
- 承上題，該項抗議事件為下列何者？ (A)立憲運動 (B)新文化運動 (C)新生活運動 (D)五四運動。
- 水準藝術中心計畫展覽西元二十世紀注重抽象表現的超現實藝術，想以某位藝術家的作品作為本次展覽的代表，下列何人是最適當的選擇？ (A)喬托 (B)達芬奇 (C)畢卡索 (D)米開朗基羅。【91基測】。

※【地理科】第 18-33 題 範圍：非洲、大洋洲

18、附圖是史密斯在非洲旅遊時所繪製的地形景觀示意圖。請問：史密斯前往旅遊的地點最有可能位在下列哪個地區？ (A)北部非洲 (B)西部非洲 (C)南部非洲 (D)東部非洲。



19、「當地的居民在耕作前會先砍伐高大的樹木，再放火焚燒，形成空地，在該地上播種耕作，但耕作過程中既不施肥也不灌溉，待三、五年後即另尋新耕地……」這是阿丁在一本書上看到非洲某處居民的生活方式，請問：該地區最有可能是何處？ (A)喀拉哈里盆地 (B)北非西北部 (C)東非高原 (D)剛果盆地。

20、過去尼羅河每年夏季定期氾濫，與流經哪個氣候區最為相關？ (A)熱帶雨林氣候 (B)熱帶莽原氣候 (C)熱帶沙漠氣候 (D)溫帶地中海型氣候。

21、澳洲除了有無尾熊外，還有著許多野生動物，如袋鼠。請問：澳洲動物多特有種的現象，和何種特色關係最大？ (A)位置孤立 (B)氣候乾燥 (C)日照強烈 (D)面積廣大。

22、受到全球化的影響，澳洲農牧業由於長期乾旱而大受影響，這將對國際市場造成何種衝擊？ (A)乳品原料價格上漲 (B)市售咖啡價格變貴 (C)橡膠價格波動 (D)棉紡織工業缺乏原料。

23、東非高原上的人口較沿海平原稠密，此一特點與中美洲地區相似，其主要的原因為何？ (A)熱帶栽培業發達 (B)礦產資源豐富 (C)湖光山色風景美 (D)氣候涼爽宜人。

24、現今許多國際班機的飛行路線皆經過北極的上空，其主要的考量因素為何？ (A)飛機航班少，降低飛安相撞威脅 (B)沿途旅客可以欣賞極區風景 (C)縮短航空哩程，節省時間與費用 (D)北極地區較少國家，沒有領空問題。

25、南緯 40 度的緯線經過紐西蘭，紐西蘭的哪一個地理現象與其最相關？ (A)山脈南北走向，多火山地震 (B)南島河流多往東流 (C)有「活的地形教室」之稱 (D)盛行西風吹拂，終年溫和溼潤。

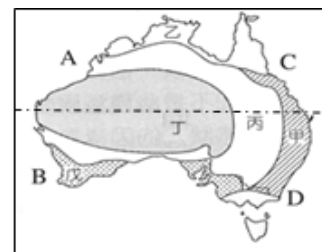
26、位於大洋洲的吐瓦魯為第一個地球環境難民國，現已經將居民陸續遷移到紐澳等國，請問：該國是受到何種自然威脅而被迫遷移？ (A)海水上升淹沒陸地 (B)地震頻繁引發海嘯 (C)火山噴發有毒物質 (D)雨量稀少缺乏淡水。

27、紐西蘭地形景觀豐富，同時擁有冰河和火山地形。請問：下列哪個國家也同時擁有這兩種地形？ (A)印尼 (B)南非 (C)西班牙 (D)冰島。

※右圖為澳大利亞的氣候分布圖，請問：

28、圖中何處為澳洲人口聚集的精華區？ (A)甲 (B)乙 (C)丁 (D)戊。

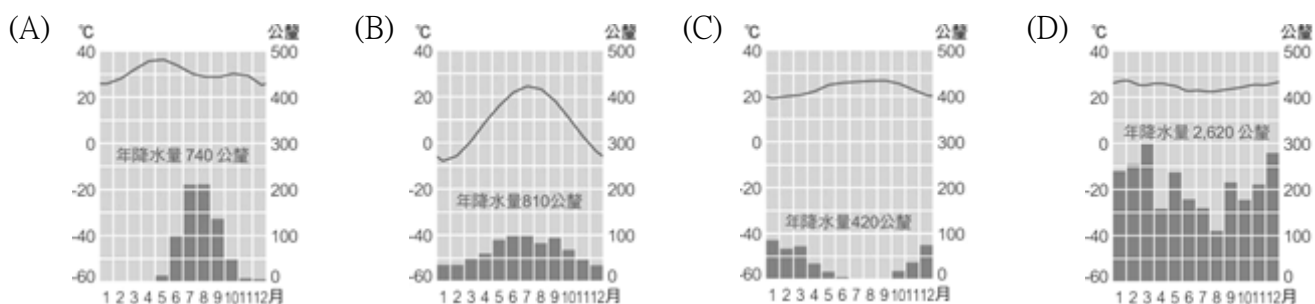
29、如欲到聞名世界的大堡礁潛水，觀賞海底美景，應到圖中哪一地區？ (A)A (B)B (C)C (D)D。



※右圖為非洲氣候分區示意圖。請問：

30、甲為沙漠地帶，造成此地乾燥少雨的原因為何？ (A)距海遙遠 (B)位於西風背風坡 (C)位於副熱帶高氣壓下方 (D)有暖流經過。

31、圖中乙地之氣候，可用下列哪一氣候圖來表示？



※右圖為非洲國家分布簡圖。請問：

32、某國是非洲經濟發展最穩定的國家，早期曾實施「種族隔離政策」而受到相當大的國際輿論壓力。請問某國應為右圖中何者？ (A)甲 (B)乙 (C)丙 (D)丁。

33、承上題，在右圖中哪一國家可以看到如下面照片中的景觀？ (A)甲 (B)乙 (C)丙 (D)丁。



※【公民科】第 34-50 題

- 34、網路發展可說是數位時代重要的指標發明，下列關於它的敘述，何者正確？  
(A)警察無法搜查網路的犯罪事件 (B)網路駭客的行為不屬刑事犯罪  
(C)隱私權在網路世界中不容忽視 (D)網路中的虛擬角色任意發言不構成犯法。
- 35、臺灣每年進口 245.5 萬公噸的黃豆，其中近 99% 都是基改黃豆，引發各界關注。民眾基於哪一理由要求政府為此項食品安全把關？  
(A)破壞生態環境與生物多樣性 (B)基改食物的研究具有高度爭議性  
(C)挑戰人類生命價值 (D)可能引發潛在的未知疾病。
- 36、下列哪一主題最能描述右圖的現象？  
(A)媒體競爭激烈導致媒體亂象 (B)強勢文化導致本土文化式微  
(C)科技發展加速傳播媒體全球化 (D)網路發展衍生新興社會問題。
- 37、器官移植是醫療技術中的重要議題，然而在分秒必爭的生存時機，執行手術的醫生往往會面臨到「是否將器官捐贈者，視為待拯救者的醫療工具」等問題。上述隱含了哪種意義？  
(A)高額的手術費用 (B)生命倫理的價值判斷 (C)醫療技術的水準 (D)醫師醫術的專業進修。
- 38、右圖是阿芳期中報告的部分內容，根據內容可知，其所要表達的概念為何？  
(A)立法速度遠不及資訊科技發展的速度  
(B)網路無遠弗屆，增添生活的便利性  
(C)使用者需有自律、自重及守法的倫理 (D)網路的匿名性易造成犯罪問題。
- 39、科技帶來工具、能力方面的進步和延伸，但人工智慧、基因編輯等技術也引發人們的擔心，人們提出質疑包括：生物識別對你的聲音、對你的臉都看得清清楚楚，若不法者將個資做非法使用，人們屆時將深感恐懼。上述內容，最可能在敘述哪項議題？  
(A)科技發展與隱私的難題 (B)全球化資訊傳播的好處 (C)科技發展促進經濟成長 (D)資訊時代裡的國際合作。
- 40、某名人演講的內容：「各族群間不要有強勢弱勢之分，應先由相互了解、欣賞，進而達到彼此尊重與學習的境地。當前應以文化分享代替族群分類，以文化交流取代族群融合，並以豐富多元觀點來確保少數族群文化的地位。」根據內容判斷，下列哪種說法最符合講者的觀點？  
(A)降低各族群文化的差異有利於文化的分類 (B)族群地位應以其所擁有的社會資源來衡量  
(C)提倡多元文化有助於強化弱勢族群的地位 (D)族群融合易造成強勢族群文化的沒落消失。
- 41、美國知名服飾廠商花了大筆經費在東南亞地區設立分公司與工廠，將服飾銷售到世界各地，賺取利潤後再投資購買各國股票與基金。上述內容主要反映了下列何種全球化現象？  
(A)尊重多元文化 (B)文化衝突頻繁 (C)資金跨國流通 (D)淘汰弱勢文化。
- 42、右圖為某篇文章的部分內容。文中的「它」是指下列何者？  
(A)資訊化 (B)國際化 (C)工業化 (D)全球化。
- 43、新聞報導：「美元走強已傷害到大舉拓展美國以外市場的企業，經營團購網站的酷朋公司將在全球裁員上千人，並正著手結束在摩洛哥、巴拿馬、菲律賓、波多黎各、泰國和烏拉圭等國家的營運。」上述內容主要凸顯出下列何種全球化現象？  
(A)強勢文化傳播各地衝擊弱勢文化 (B)國際事務的影響範圍往往超越國界  
(C)商品的跨國銷售使消費者選擇更多元 (D)跨國企業為生產地帶來環境汙染問題。
- 44、均一教育平台透過雲端平台提供免費的數學自然資源，讓教師和學生可依據自身的興趣，挑選課程學習。上述網路平台的設置，可發揮傳播媒體的哪項功能？  
(A)提供訊息 (B)教育文化 (C)休閒娛樂 (D)監督政府。
- 45、政論性節目邀請來賓談論各項議題，並接受民眾 call in，發表自己對該議題的看法。上述媒體的做法，有助於維護人民的哪項權利？  
(A)選舉權 (B)監察權 (C)秘密通訊自由 (D)媒體接近使用權。
- 46、右圖是一則新聞報導的內容：根據上述內容判斷，下列何者最能說明此一現象？  
(A)強勢文化主導其他地區文化的發展  
(B)移民的母文化對移入地區造成不利影響  
(C)文化交流有助於了解各國文化的內涵與優點 (D)外來文化進行調整以融合當地民情。
- 47、傳統《刑法》認為「竊盜罪」中被竊之物，僅限於現實的物品或金錢，但網路日漸蓬勃發展之後，線上遊戲消費者的使用者帳號被他人盜用、虛擬「裝備」或「寶物」也被侵入者竊走的案件層出不窮。因此，我國於民國 92 年增訂《刑法》「妨害電腦使用罪」一章，對於相關的犯罪行為就可以依法處罰。根據上述內容判斷，政府是以下列何種方式，來解決資訊科技所衍生的問題？  
(A)改變民眾的價值觀念 (B)更新法律規範與制度 (C)改善大眾物質生活 (D)提高人民科技水準。

在人擠人的韓國首爾街頭，今年首次迎接不尋常的跨年夜。三大電信商之一 SK Telecom 讓手機族下載 5 G 的 Live Caster 軟體，用視訊直播互相拜年，成千上萬的畫面不到一秒同時傳出，成為全球第一個以 5 G 網絡做跨年直播的國家

- 色情網站違法傳送訊息，警方難以查緝
- 國中女生網路交友，不幸遭到騙財騙色
- 詐團網賣門票，受害者匯款後才知上當

「它」是世界觀、產品、概念及其他文化元素的交換，所帶來的國際性整合的過程，「它」的到來推倒各國疆界，使全球市場一體化，我們有如生在「地球村」中。

亞太傳統藝術節曾以中南半島上的重要跨國水系「湄公河」為題，帶給臺灣觀眾一場由傳統藝術文化所建構而成的「湄公河傳奇」，呈現中南半島上獨特且難能可貴的表演藝術。

48、右圖是欣怡閱讀某雜誌的部分內容，根據內容判斷，作者最可能在討論下列哪種觀念？

- (A)永續地球—再生資源的運用 (B)科技社會—虛擬社區的建構  
(C)綠色生活—網際網路的使用 (D)數位落差—經濟因素的影響。

線上商業交易大量採用直接下載商品方式，減少過度包裝和運送成本。資訊科技的普及也鼓勵人們在家上班，減少因通勤而製造的汙染。

※閱讀理解題：第 49-50 題，每題 2 分

台灣知名漫畫家蕭言中發現自身畫作遭賈姓男子抄襲，還上傳張貼在公開的臉書網頁，作為行銷自己的咖啡館的招牌，並製作成收藏卡販售。

在提出訴訟經定讞後，蕭言中認為司法在「六月以上，五年以下有期徒刑的意圖銷售重製罪」上，最終判決六個月，可易科罰金，是判「最輕」的狀況，代表法官輕判侵權人的行為。

對此台北市漫畫工會偕同蕭言中召開記者會，透過傳播媒體以表達對司法漠視創作權的不滿。

《節錄：鏡週刊 2019 年 2 月 20 日》



49、請問有關上述文章中的官司，其相關的法律最主要為何？

- (A)《商標法》 (B)《專利法》 (C)《著作權法》 (D)《公平交易法》。

50、請問上述新聞報導，主要發揮大眾傳播媒體的哪些功能？

- (A)教育文化、監督政府 (B)提供訊息、監督政府 (C)休閒娛樂、提供訊息 (D)提供訊息、教育文化。

試題完成，記得再檢查一遍答案卡與試卷，並務必將自己的答案抄寫於題目卷上，以利試後檢討。